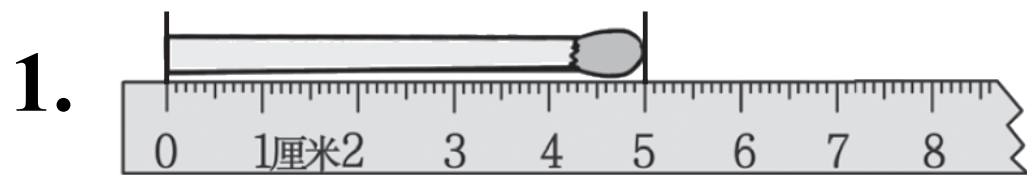


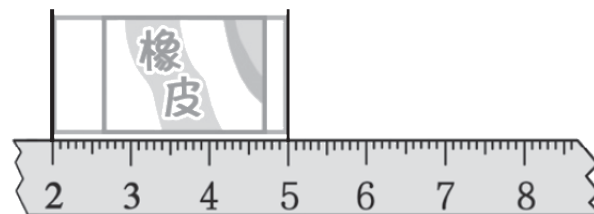
期中综合素质达标



一、我聪明，我会填。(每空1分，共20分)



火柴棒长 (5) 厘米



橡皮长 (3) 厘米

2. 一个正方形有(4)个角，都是(直)角。

3. 比37多26的数是(63)，比70少9的数是(61)。


4. 用三六十八这句口诀计算的乘法算式是($3 \times 6 = 18$)和($6 \times 3 = 18$)

5. 宣纸有“纸中之王，千年寿纸”的美誉。1 张宣纸能写6 个大字，4张宣纸能写(24)个大字，6 张宣纸能写(36)个大字。

6. 在括号里填上“厘米”或“米”。




树高约15 (米)



轿车长约4 (米)



叶子长约10 (厘米)

7.  根据左图填一填。加法算式：($3+3+3=9$)，
 $3\times 3=9$ 三三得九

8.  乘法算式图中，有()，~~4~~ 条线段，有(1)个锐角，
有(2)个直角，有(1)个钝角。

二、我自信，我会选。(把正确答案的序号填在括号里)

(每题2分，共10分)


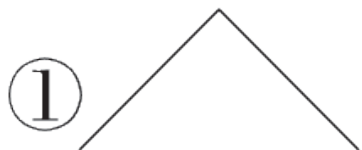
1. 下面算式中，结果小于50的是(②)。

① $43+8$

② 6×6

③ $89-23$

2. 下列图形中不是直角的是(②)。



3. $64 - 2\square$, 要使差的十位上的数字是3, \square 里可以填()。 ②

① 0~4

② 5~9

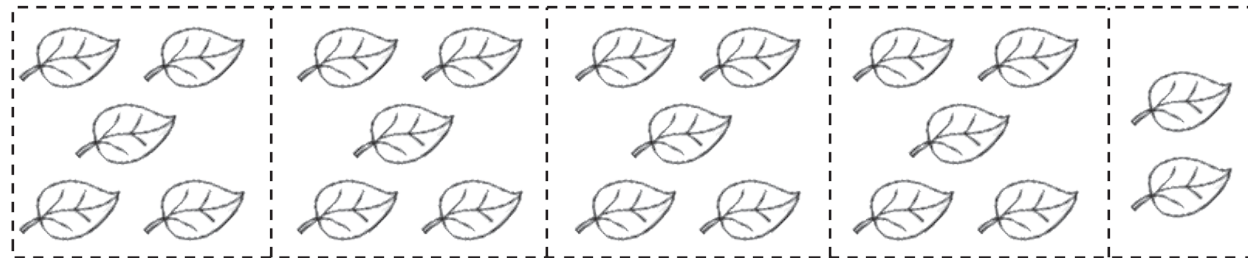
③ 0~9

4. 不能表示下图意思的算式是(①)。


① $5 \times 4 - 2$

② $5 \times 4 + 2$

③ $5 \times 5 - 3$



5. 右边竖式中的小1 可以用图(③)表示。



$$\begin{array}{r} 25 \\ + 47 \\ \hline 72 \end{array}$$

三、我细心，我会算。(共27分)

1. 看谁算得又对又快。(9分)

$$72 - 20 = 52$$

$$57 + 9 = 66$$

$$3 \times 5 - 8 = 7$$

$$4 \times 3 = 12$$

$$4 \times 5 = 20$$

$$70 + 10 - 4 = 76$$

$$62 - 9 = 53$$

$$84 - 14 = 70$$

$$8 + 18 - 15 = 11$$

2. 列竖式计算。(18分)

$$25 + 38 = 63$$

$$\begin{array}{r} 25 \\ +38 \\ \hline 63 \end{array}$$

$$80 - 69 = 11$$

$$\begin{array}{r} \overset{\cdot}{8}0 \\ -69 \\ \hline 11 \end{array}$$

$$58 - (17 + 25) = 16$$

$$\begin{array}{r} 17 \\ +25 \\ \hline 42 \end{array} \quad \begin{array}{r} 58 \\ -42 \\ \hline 16 \end{array}$$

以上内容仅为本文档的试下载部分，为可阅读页数的一半内容。如要下载或阅读全文，请访问：
<https://d.book118.com/328115135116006110>