

2022 年 8 月 27 日贵州事业单位笔试《公共基础知识》

一、单项选择题。每题所设选项中只有一个正确答案，多选、错选或不选均不得分。

1、习近平总书记指出，前进道路上，全党要坚持全心全意为人民服务的根本宗旨，树牢群众观点，贯彻群众路线，尊重人民首创精神，坚持一切为了人民、一切依靠人民，从群众中来、到群众中去，始终保持同人民群众的血肉联系，始终接受人民批评和监督，始终同人民同呼吸、共命运、心连心。

以上论述所依据的历史唯物主义原理是（ ）。

- A、尊重人民群众的主体地位和首创精神
- B、依靠人民群众创造物质财富和精神财富
- C、人民群众是顺应历史前进方向的变革力量
- D、人民群众是社会历史的主体，是历史的创造者

2、《国务院关于支持贵州在新时代西部大开发上闯新路的意见》中对贵州的发展做出了明确的战略定位，概括为“四区一高地”，其中“一高地”所指的是（ ）。

- A、数字经济发展的新高地
- B、生态文明建设新高地
- C、内陆开放型经济新高地
- D、绿色经济发展新高地

3、下列有关我国航母表述错误的是（ ）。

- A、我国是第二个能够完全独立自主建造电磁弹射航母的国家
- B、“福建舰”是我国完全独立自主设计建造的首艘电磁弹射航母
- C、我国第一艘航母是“辽宁舰”，由购自乌克兰的一艘未完工航母改建而成

D、我国第二艘航母是“山东舰”，是一艘完全独立自主设计的核动力航母

4、2022年8月4日，我国成功发射首颗陆地生态系统碳监测卫星“句芒号”，标志着我国碳汇监测进入天基遥感时代。“句芒”源自中国古代神话，是传说中的（ ）。

A、金神，掌管秋天收割储藏

B、木神，掌管树木发芽生长

C、水神，掌管江河湖海水情

D、火神，掌管天地人间光明

5、近年来，新能源汽车受到人们的普遍关注。以北上广为代表的城市相继出台了相关支持政策，新能源及相关配套设施的产业发展也随之进入了新一轮的高潮。现在加油站不仅可以为燃油汽车加油，还可以为电动汽车提供充电服务。加油站业务的变化表明（ ）。

A、“节能减排”是经济发展的必然要求

B、企业经营应根据市场需求加以调整

C、市场需求量的变化决定了产品供给量

D、新技术和新能源可以改变人类的生活方式

6、“新疆是个好地方”，不仅因为天山南北的美景，还因为新疆具有得天独厚的地理优势，盛产甜美的瓜果。水果甜度是由葡萄糖、果糖等糖类物质的积累量决定的，而糖类在植物体内的积累量由光合作用生产和呼吸作用消耗共同决定。

下列有关新疆瓜果甜度高解释错误的是（ ）。

A、新疆日照充足，光合作用强，有利于植物体内糖类的产生

B、新疆昼夜温差大，夜晚气温低，植物呼吸消耗较少，有利于糖类的积累

C、新疆气候干燥，瓜果为了保持足够水分，会主动积累大量可溶性糖

D、新疆昼夜温差大，白天气温特别高，高温有利于植物体内产生糖类

7、南宋爱国诗人陆游在七言律诗《临安春雨初霁》中写道：“世味年来薄似纱，谁令骑马客京华？小楼一夜听春雨，深巷明朝卖杏花。矮纸斜行闲作草，晴窗细乳戏分茶。素衣莫起风尘叹，犹及清明可到家。”下列传统文化在诗中没有涉及的是（ ）。

A、点茶

B、书法

C、下棋

D、插花

8、下列生活现象及物理解释对应错误的是（ ）。

A、红灯作为警示灯——红光的波长最长

B、筷子放在水里就像折断了——光的折射

C、在结冰的公路上撒盐——提高冰的熔点

D、人摔倒在地时感觉疼痛——作用力与反作用力

9、“三药三方”在新型冠状病毒肺炎治疗中发挥了重要作用，其中“三药”是指（ ）。

A、银翘解毒丸、小柴胡颗粒、牛黄解毒丸

B、小柴胡颗粒、双黄连口服液、金花清感颗粒

C、金花清感颗粒、连花清瘟颗粒和胶囊、血必净注射液

D、双黄连口服液、金花清感颗粒、连花清瘟颗粒和胶囊

10、小马今年 8 岁，在回家路上捡到一只猫，带回家饲养三天后，小马在电视

上看到失主发布的悬赏寻猫启示：本人丢失一只英国短毛猫，有知情者或者将其送回者将给予 1500 元。小马随即将猫送回，失主见小马是个孩子，就不打算给小马 1500 元。下列说法正确的是（ ）。

- A、失主有权不兑现承诺
- B、失主可将悬赏金额减少
- C、小马有权要求失主兑现承诺
- D、小马是未成年，无权让失主兑现承诺

11、一切有追求、有本领的文艺工作者要提高_____的能力，不断发掘更多代表时代精神的新现象新人物。要想创作出深入人心的英雄形象，通过人物_____出振奋人心、凝聚人心的英雄精神，创作者必须走出自己的小天地，来到一线，深入生活、深入人民群众。

依次填入画横线部分最恰当的一项是（ ）。

- A、阅读生活 传递
- B、感悟社会 塑造
- C、精神创造 激荡
- D、展示时代 映衬

12、记叙技巧中，过渡是指上下文之间的衔接和转换。是连接段落层次的纽带。恰如其分的自然过渡，起着_____、穿针引线的作用，有利于文意的连贯和结构的缜密。而照应是指文章前后内容的关照和呼应，是谋篇布局的重要手段。巧妙的照应有利于思路的_____和结构的完整。

填入画横线部分最恰当的一项是（ ）。

- A、首尾呼应 清晰

B、起承转合 创新

C、承上启下 严密

D、相互影响 缜密

13、不同文化背景的人，由于观念和生活经验的_____，在交往过程中常常存在信任和理解的问题，因此跨文化传播是非常复杂且动态多变的活动，它要求人们在积极的活动中，通过象征性的行为，互通内心的境况，以达到彼此在行为和观念上的_____。

填入画横线部分最恰当的一项是（ ）。

A、差别 隔阂 共情

B、差异 障碍 理解

C、区别 阻隔 同化

D、不同 制约 认同

14、科学和艺术是人类进步的组成部分，是人类攀登文明高峰的_____。它们总是竭力帮助自己的人民，使他们的生活日臻_____，更有_____，这是科学和艺术的社会使命。

填入画横线部分最恰当的一项是（ ）。

A、印记 完美 意义

B、证明 美满 追求

C、见证 完善 价值

D、象征 美好 期待

15、世界各地区的文明发展，常常是不平衡地_____进行，这往往引发激烈的冲突。这种现象在第二次世界大战之后逐渐发生变化。由于交通运输手段、信息

传递工具的飞速发展，世界各地彼此_____的状态被迅速打破，世界朝着互
相_____的方向发展。

填入画横线部分最恰当的一项是（ ）。

- A、交替 孤立 融合
- B、交错 孤单 融汇
- C、接连 隔绝 依存
- D、反复 分散 交融

16、大数据就像颠覆性、渗透性、传染性极强的基因一样，一经提出便席卷全
球，迅速从概念转化为_____，给各个行业领域带来颠覆式的改造和_____，成
为任何人都无法忽视的一股革命性力量。

填入画横线部分最恰当的一项是（ ）。

- A、产品 升级
- B、产业 提升
- C、实践
- D、现实 发展

17、超现实主义产生于 20 世纪 20 年代的法国，是西方文学艺术发展史上的重
要流派之一，它不仅表现在诗歌、戏剧、电影、绘画等艺术领域，而且还渗透到
了当今许多西方人的思想和行为之中。然而，由于种种原因，这一流派在我国没
有得到全面、_____的介绍和研究，许多人把它当作是一种脱离现实的文学创作
面加以_____。

填入画横线部分最恰当的一项是（ ）。

- A、系统 否定

B、深入 否认

C、深刻 挂斥

D、细致 贬斥

18、大众社会是一个……（疑似缺失，全力搜索中）大众会首先体现出一种极强的“ ”特点……人情关系），被极大地 ，代之而起的是契约关系。

依次填入画横线部分最恰当的一项是（ ）。

A、缺失

19、人类学家大都文化旅……（疑似缺失，全力搜索中）持续观察那里人们的日常生活及……比较和参照的材料与资格。

这段文字的主旨概括最准确的是（ ）。

A、缺失

20、到 2025 年，西部大开发综合改革取得明显进展，开放型经济水平显著提升；脱贫攻坚成果巩固拓展，乡村振兴全面推进；现代产业体系加快形成，数字经济增速保持领先；生态文明建设成果丰富，绿色转型成效明显；公共服务水平持续提高，城乡居民收入稳步增长；防范化解债务风险取得实质性进展。

这段文字主要阐述的是（ ）。

A、西部大开发的战略定位

B、西部大开发的发展目标

C、西部大开发的指导思想

D、西部大开发的总体要求

21、所有科学研究都必须提出清……（疑似缺失，全力搜索中）研究问题的选择常常成为研究生和缺少经验的研究者遇到的第一道难关。……（疑似缺失，全力

搜索中)特别是要选择一个合适的研究问题,往往是一项研究获得成功的重要因素。这段文字的主旨概括最准确的是()。

A、缺失

22、一般文物建筑修缮的前期测绘都有一定难度,隐蔽部位都需要在工程开始后补测以确保记录的完整性。……(疑似缺失,全力搜索中),包括实物立面图、平面图和剖面图。

这段文字意在强调()。

A、缺失

23、相比过去,如今的汽车智能驾驶取得了很大进步,在有远程或车内安全监控的条件下,能够适应大部分交通场景。但从技术角度来看,目前还没有任何上市销售车辆、道路测试车辆能够全面实现智能驾驶。衡量智能驾驶的关键技术,主要看三个指标。第一是环境感知能力、第二是决策与规划能力、第三是控制与执行能力。要达到完全智能驾驶,三项指标缺一不可。

接下来最有可能讲的是()。

A、智能驾驶取得了长足进步

B、完全实现智能驾驶指日可待

C、全面实现智能驾驶尚存在技术短板

D、三大能力指标是主导智能驾驶的关键技术

24、对人们日常生活以及我们生活于其中……(疑似缺失,全力搜索中)和需求的东西,从根本上说……(疑似缺失,全力搜索中)它实际上也是向人类的欲望让步。探讨市场与国家之间的关系的变化不仅涉及经济学,而且也与政治哲学密切相关。

这段文字的主旨概括最准确的是（ ）。

A、缺失

25、客观世界的任何事物都不是孤立存在的，总在和周边的其他事物发生这样那样的联系，曾几何时……（疑似缺失，全力搜索中）打破数据的行业壁垒、引入外部数据源……（疑似缺失，全力搜索中）聚融合，可以突破目前由于视野的局限性而硬性割裂事物间联系的僵局。

这段文字意在说明（ ）。

A、缺失

26、①英国人不久便获得了这一贸易的最大部分，这一方面是因为他们日渐增长的商业和工业优势，一方面是因为他们设在印度的无可比拟的活动根据地

②1514 年，葡萄牙商人与广州通商，1557 年他们又在澳门设立了永久的商业根据地，这时，中国开始直接感受到生气勃勃的新兴欧洲的影响

③到 18 世纪中叶，中国人向所有国家开放贸易，不过贸易地点仅限于广州和澳门

④中国与西方之间的关系，直到欧洲继哥伦布和葡萄牙航海者远航探险之后、进行海上扩张时，才持续不断交往起来

将以上 4 个句子重新排列，语序正确的是（ ）。

A、②③①④

B、④③①②

C、③④①②

D、④②③①

27、2020 年，老王和小李的年龄之和为 78 岁，2021 年老张的年龄是小李的 4

倍，且老张比老王大 5 岁。问：在 2022 年，老王、老张和小李三人的年龄之和为（ ）岁。

A、148

B、150

C、151

D、153

28、某工厂的甲班组由 15 名工人构成，现要选出 2 人参加培训，且选出的 2 人中至少有 1 名女性的概率为 $\frac{4}{7}$ ，问该班组中女工有（ ）人。

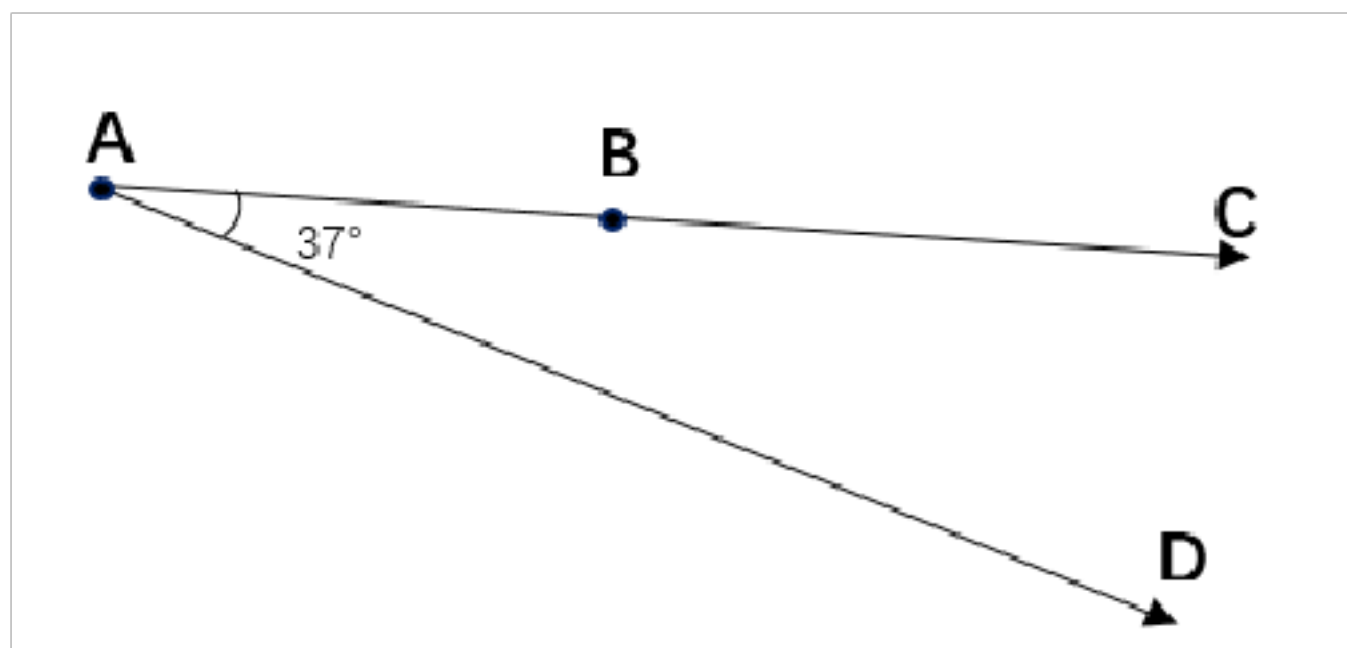
A、5

B、6

C、8

D、10

29、如图所示，A，B 两点相距 10m，甲从 A 点沿 AD 方向以 2m/s 的速度快走，乙从 B 点沿 BC 方向以 1m/s 的速度慢走，问多少秒后甲乙两人的直线距离最短（ ）。 ($\cos 37^\circ = 0.8$)。



A、 $\frac{8}{3}$

B、 $\frac{10}{3}$

C、 $\frac{12}{5}$

D、 $\frac{16}{5}$

30、某国货币在与邻国战争中一度比战争前最高贬值达到50%，战争结束后，该国货币反而比战争前最高升值了50%。若某人战争期间在货币贬值最低点处一次性大量买入该国货币，然后在战争结束后在最高点获利抛售，则他最高可获利（ ）。

A、100%

B、200%

C、250%

D、300%

31、将一个长、宽、高分别为5cm、4cm和3cm的大长方体切割3刀，使它成为8个小长方体，则得到的所有小长方体的表面积之和为（ ） cm^2 。

A、141

B、178

C、188

D、231

32、某农场招聘了一些村民作为零工在农余时间为农场照料牲畜家禽，负责人可安排一位零工负责照料2头牛、6头猪、10只羊和50只跑山鸡中的任何两样工作，现在农场有100头牛、420头猪、1000只羊和6000只跑山鸡，请问至少需要聘用村民（ ）位。

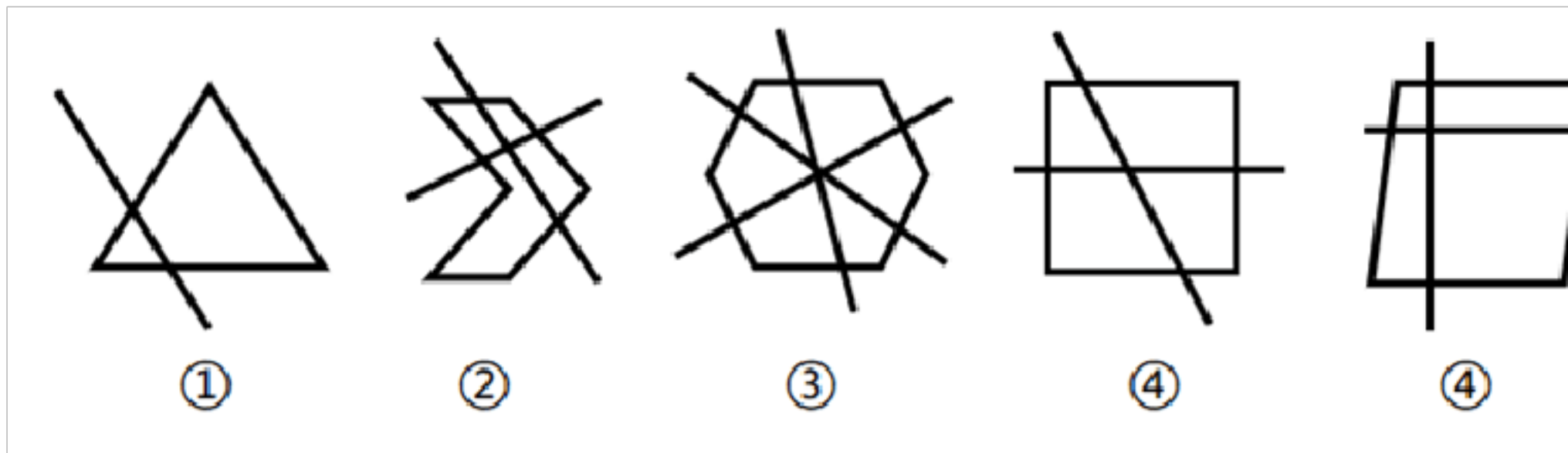
A、150

B、130

C、170

D、180

33、把下面的六个图形分为两类，使得每一类图形都有各自的共同特征或规律，分类正确的一项是（ ）。



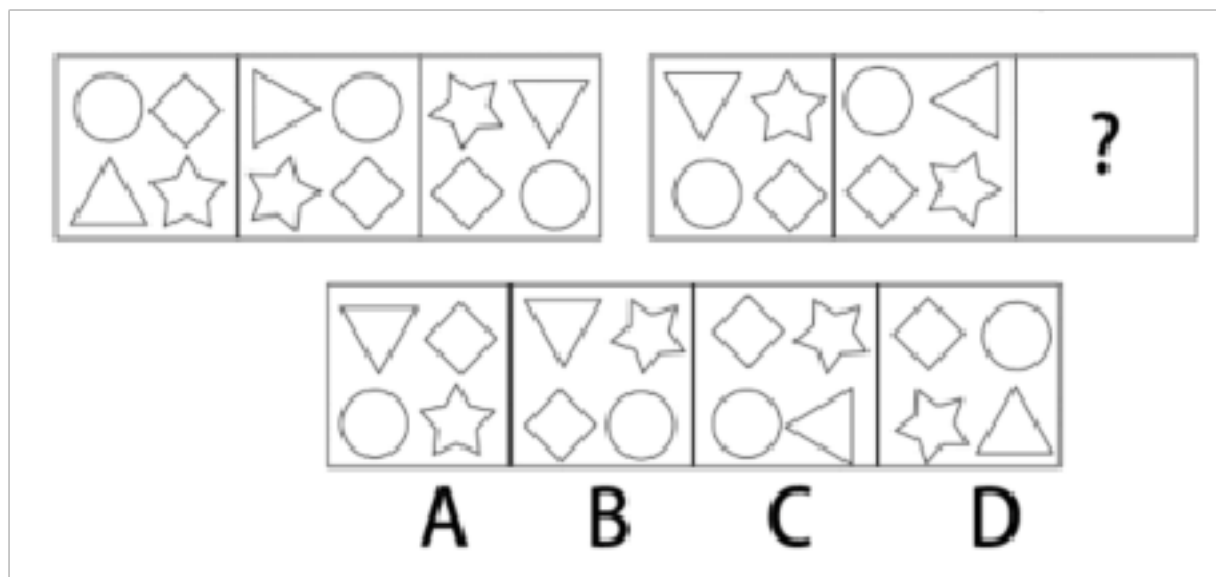
A、①②③，④⑤⑥

B、①③⑥，②④⑤

C、①②⑥，③④⑤

D、①④⑥，②③⑤

34、从所给的四个选项中，选择最合适的一个填入问号处，使之呈现一定的规律性（ ）。



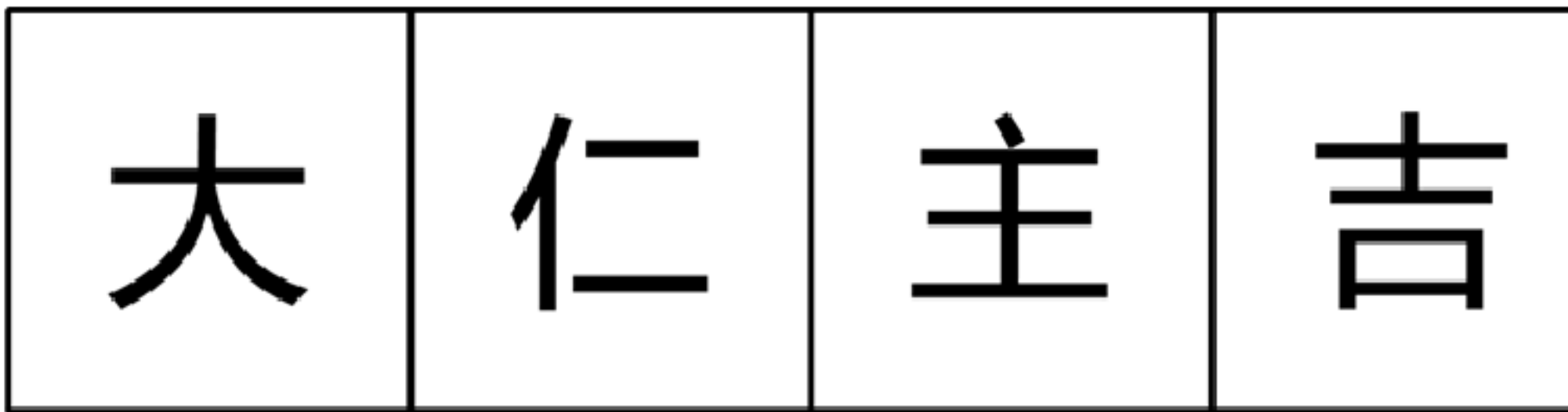
A、A

B、B

C、C

D、D

35、从所给的四个选项中，选择最合适的一个填入问号处，使之呈现一定的规律性（ ）。



A

B

C

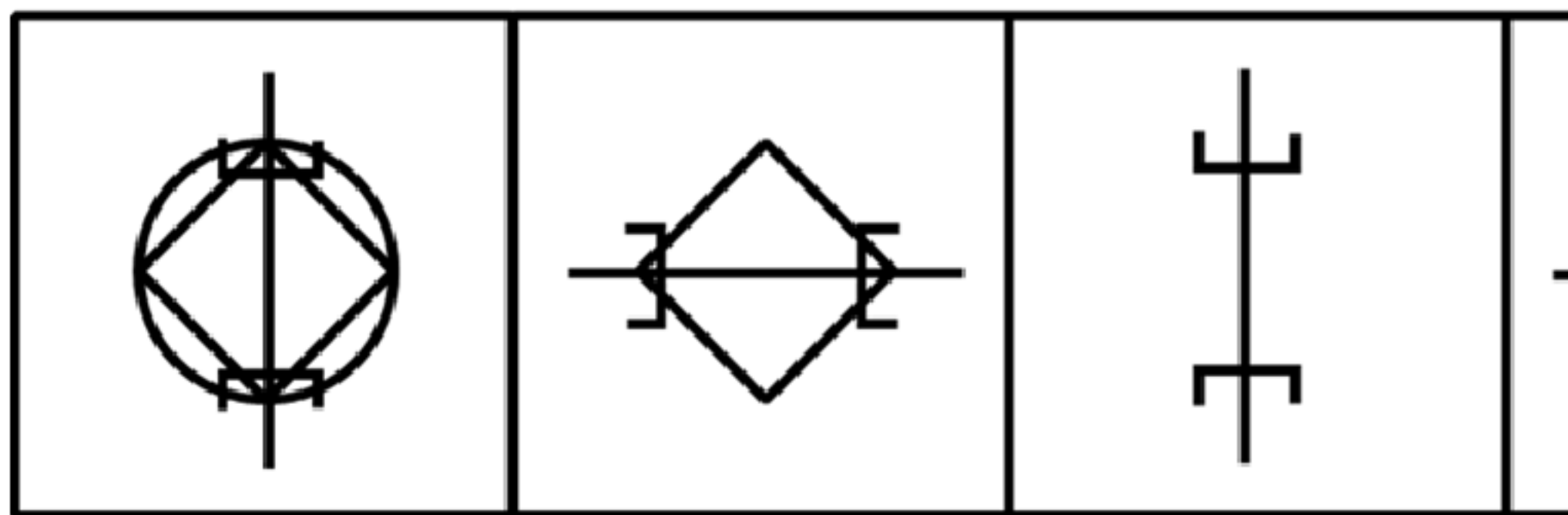
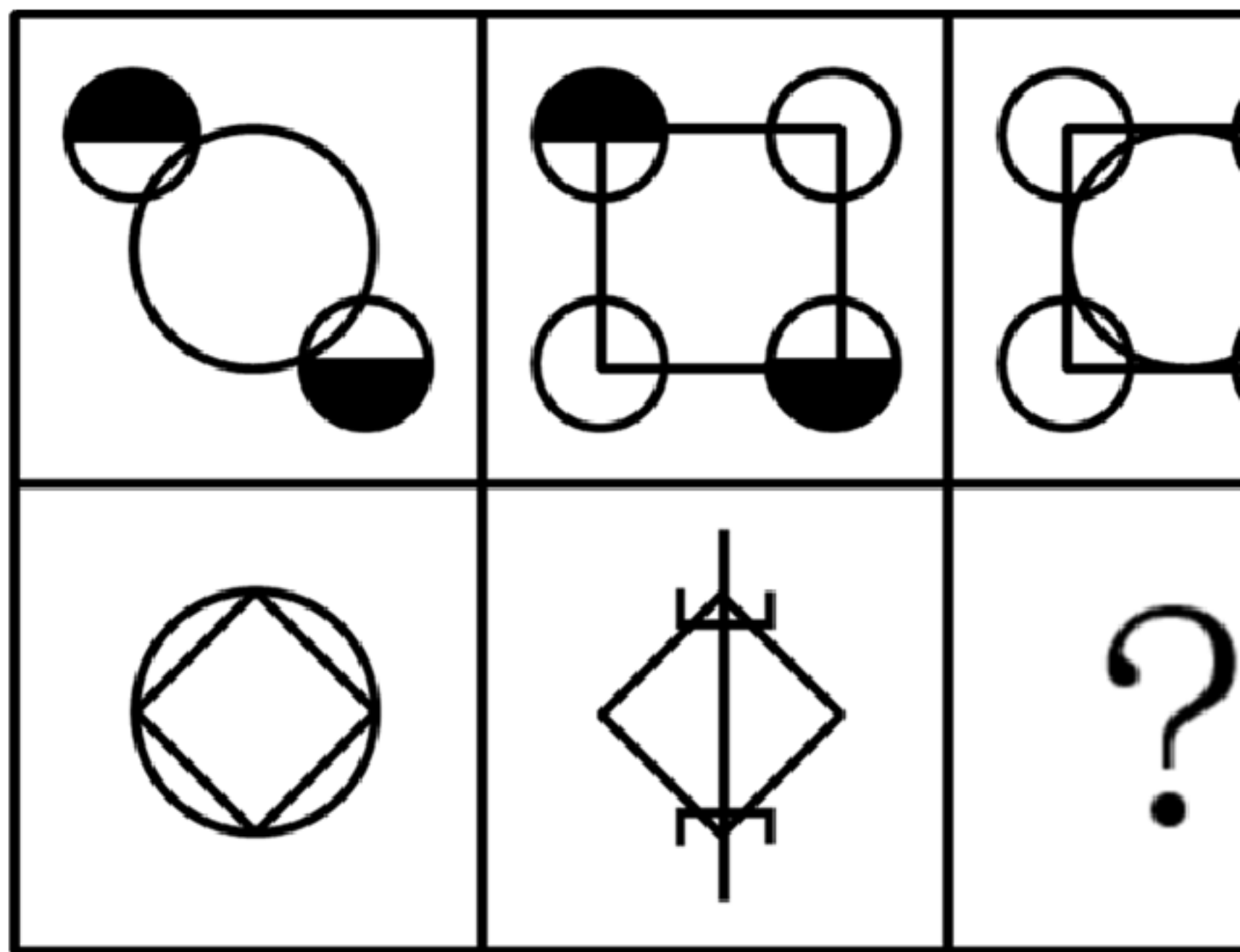
A、A

B、B

C、C

D、D

36、从所给的四个选项中，选择最合适的一个填入问号处，使之呈现一定的规律性（ ）。



A

B

C

A、A

B、B

C、C

以上内容仅为本文档的试下载部分，为可阅读页数的一半内容。如要下载或阅读全文，请访问：<https://d.book118.com/337163166065010005>