

2024年

高考真题完全解读

（上海卷·历史）

一、试卷总体特色

2024年上海高考历史试卷落实品德为上教育为主的根本任务，以历史学科专业知识素养为导向，严格贯彻课程标准和命题要求，拓展学习分析的路径、涵养多种历史研史方法、提升学习理念认知、内聚价值理念。

试卷结构合理、难度适中。

二、命题特点：古今中外为考点

学生在高中三年的学习中，逐步树立了历史认知，由点而线，由线而面，由表及里、逐渐深化。

历史学科的考试以综合题为主，古今中外的考点都有涉及，在题目中设问逻辑，融汇中外、贯通古今，从而全面提升历史认知能力和知识框架。

“瓷器的全球流动”：中国与世界、古代与近代，中外文化在瓷器这一古代商品下链接起来，既考查了文化的传播和融合，也考察了中华文化对世界的影响。

“商业贸易与西欧社会转型”：以西欧商业贸易的复兴为切入点，从历史长河中考察商业贸易的推动作用，将西欧社会转型与从分散到整体的世界历史进程联系起来。

二、命题特点：在历史细节中培养逻辑思维

试卷以学科核心素养为导向，在历史题型中培养逻辑细微能力，能够建立全球史官，现代史官。

“瓷器的全球流动”：集合多种题型，既有地图分析题，也有文献和图像史料分析题。既可以考察贸易历史，也可以考察中外交往的历史，多种知识点在一道提醒综合考察，从而建立起全球史官，综合分析能力。

“商业贸易与西欧社会转型”：立足现代史官和唯物史观，从经济基础决定上层建筑、生产力决定生产关系的角度，分析商业贸易与社会结构、价值观念、制度变化，历史知识与逻辑思维都在此种得到培养。

“历史认识的时间尺度”：以晚清教育改革切入，提供了标志性时间节点和不同时代的学者评价等文献史料，从定位史事、解释历史和评价历史等角度，引导考生理解时间尺度在历史认识中的功能和意义。

二、命题特点：培养国家情怀

在中国特色社会主义文化发展的当代社会，试卷从家国情怀出发，培养学生的文化情怀和文化自信。

“瓷器的全球流动”：瓷器作为中国的代表和象征，一直在掐全球交流中起这重要的作用。在现代社会中，国人的文化自信不断增加，瓷器作为中国文化符号，在全球流动中与不同文明相遇，在交流、交融中影响了世界。

“传统中国的国家治理”：选修课本与必修课本中的中国史是考察的重点，题型综合必修和选修的知识，多角度考察，从官僚制度与监察制度、法律与教化等不同视角，对传统中国的国家治理进入深层次思考，引导学生对中国特色和现代化国家治理提供新的方案。

三、真题剖析

题号	情景设置	考查知识点	考查核心素养
一	瓷器的全球流动(24分)	经济史、图片分析能力	时空观念 史料实证
二	商业贸易与西欧社会转型(26分)	商品贸易、社会转型、全球史观	全球史观意义 评价 材料分析
三	历史认识的时间尺度(21分)	时空观念、意义评价，古今对比	时空观念 历史解释
四	传统中国的国家治理(29分)	政治制度、社会转型	时空观念 逻辑评价

四、真题剖析

一、瓷器的全球流动(24分)

中国瓷器在中西方文明交流过程中，扮演着载体和象征的角色。自新航路开辟以来，中国与欧洲的距离被极大地拉近，从前需要在东南亚、南亚、阿拉伯诸国进行转运的中国瓷器，如今与欧洲有了更直接的联系通道。

(一)瓷器行销世界

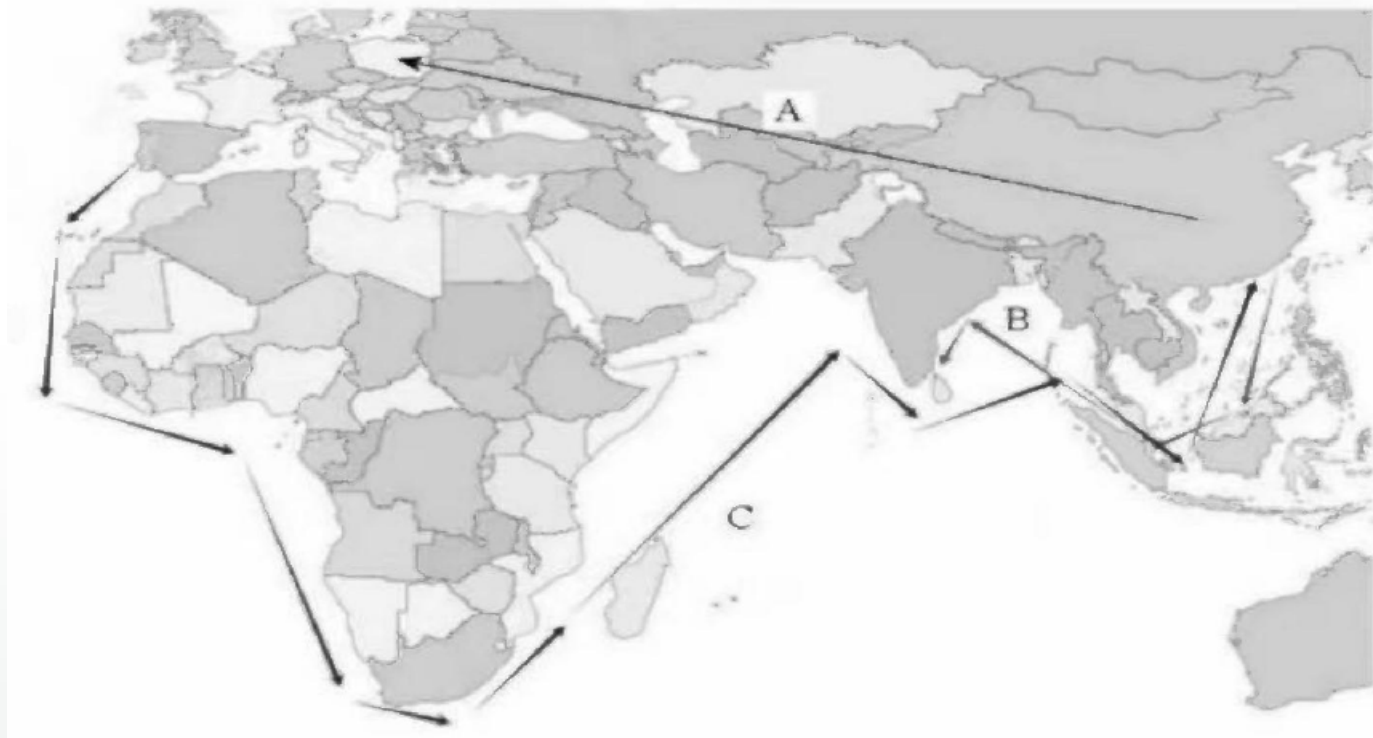
1. 随着制瓷技术的重大改进，瓷器远销海外，成为继丝绸之后中华文明新的文化符号，这发生于_____。(单选，2分)

- A. 秦汉时期 B. 魏晋时期 C. 隋唐时期 D. 宋元时期

【参考答案】D

据本题时间信息可知准确时空是：宋元时期（中国）。根据所学知识可知，宋朝制瓷技术有重要改进，出现五大名窑，宋元时期，瓷器大量出口海外，成为继丝绸之路后中华文明新的物质象征，D项正确；其余选项时间均不符合，排除ABC项。故选D项。

2. 不同时代、不同类型的中外交交通路线为瓷器行销世界提供了便利，将下列示意图中的交通路线填入空格中(6分)(填涂字母，6分)

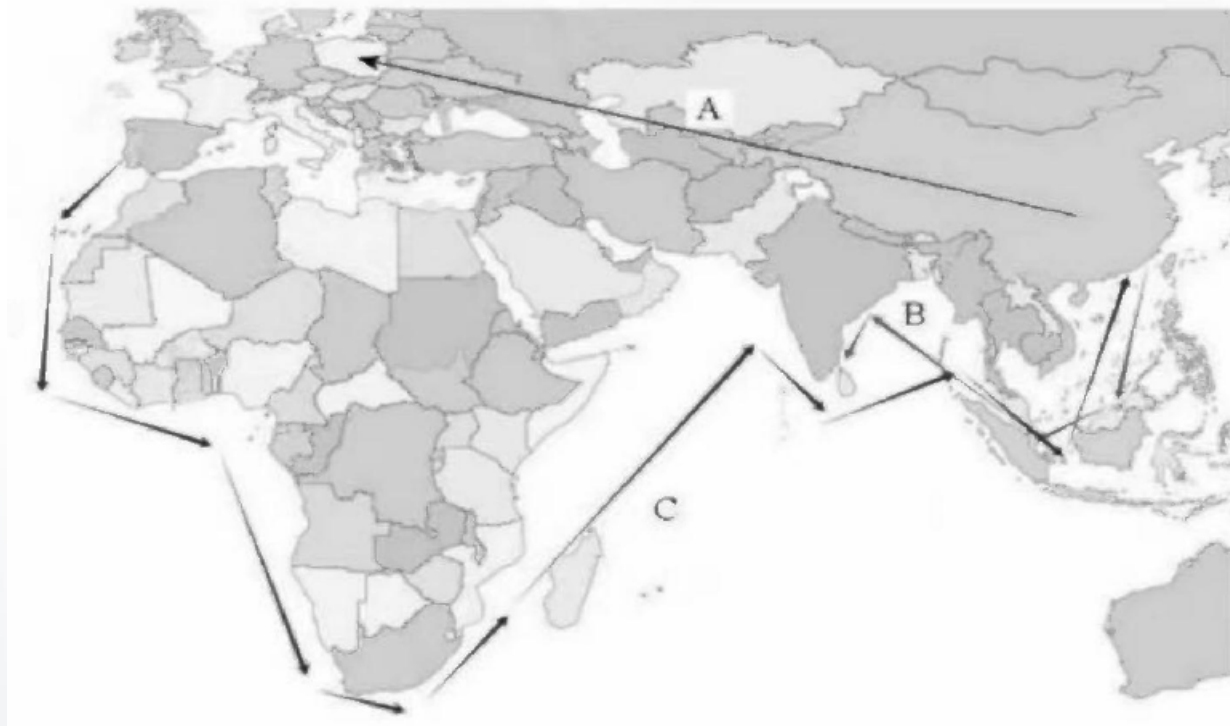


(1) 有研究表明，8-10世纪中国瓷器已经由中亚的撒马尔罕传入大食国境内，该路线是_____。

【参考答案】 A

8-10世纪，中国瓷器已经由中亚撒马尔罕传入大食国境内，图中A路线符合经由中亚传入大食国。

2. 不同时代、不同类型的中外交通路线为瓷器行销世界提供了便利，将下列示意图中的交通路线填入空格中(6分)(填涂字母，6分)

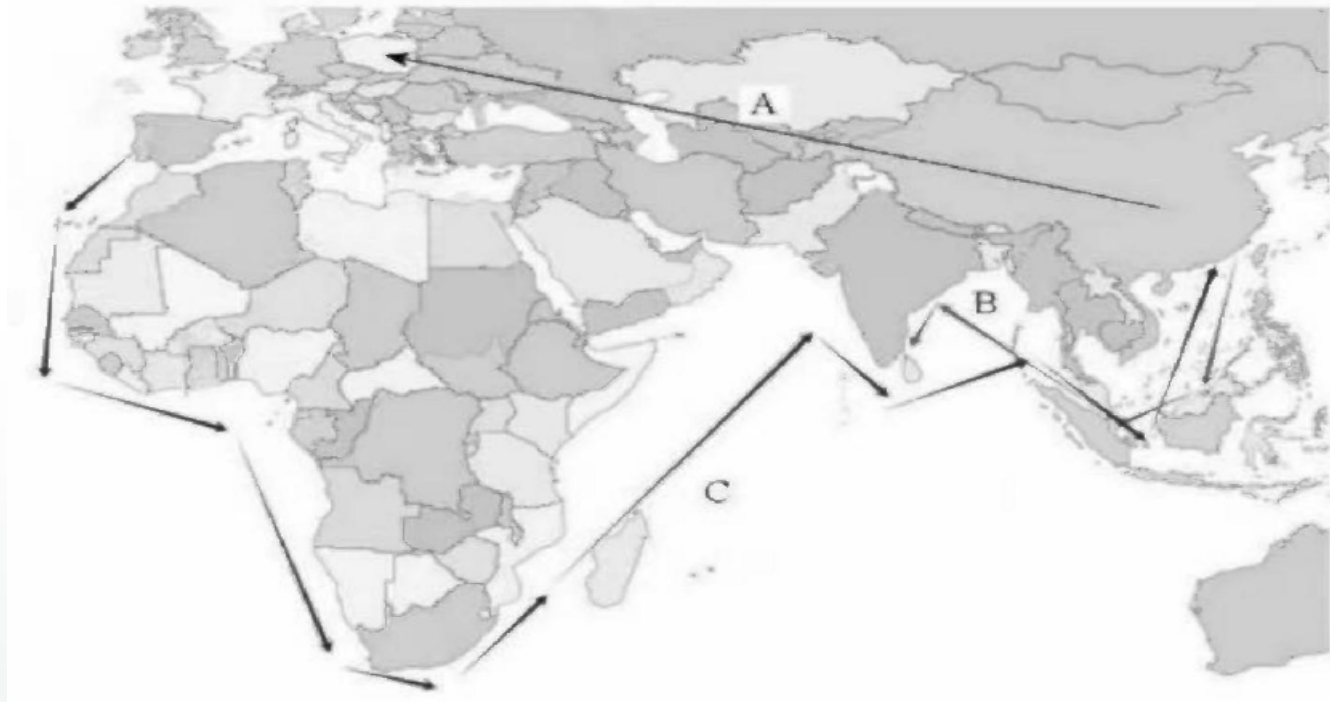


(2) 郑和出使西洋， 曾将一批景德镇官窑的瓷器作为外交礼物赠与外邦。他出使的路线是_____。

【参考答案】 B

郑和出使西洋， 经由海路到达亚非30多个国家， 他出使的路线是B路线。

2. 不同时代、不同类型的中外交交通路线为瓷器行销世界提供了便利，将下列示意图中的交通路线填入空格中(6分)(填涂字母，6分)



(3) 16 世纪上半叶，葡萄牙向中区订购了一批带有工室徽章的瓷器，其葡萄牙的运输路线是_____。

【参考答案】C

16世纪上半期新航路开辟，葡萄牙人经过新航路运输该批瓷器，路线应是C路线。

3. 1784年，美国商船“中国皇后号”抵达中国港口，其与中国的瓷器贸易由官方指定机构代理，该机构是_____。（单选，2分）

- A. 宣政院 B. 市舶司 C. 中书省 D. 广州十三行

【参考答案】D

据本题时间信息可知准确时空是：

1784年（中国）。根据所学可知，1784年，清朝当时已经设立广州十三行管理对外贸易，因此美国商船“中国皇后号”其与中国的瓷器贸易由官方指定机构代理是广州十三行，D项正确；宣政院是元朝时期管理西藏地方事务及全国宗教事务的机构，排除A项；市舶司是宋朝时期管理对外贸易的机构，排除B项；中书省是中央行政机关，不负责管理对外贸易，排除C项。故选D项。

4. 结合地图及所学，分析中国的瓷器不断外传的原因有_____。（双选，4分）

- A. 外部需求 B. 军事扩张 C. 技术传播 D. 工艺精湛

【参考答案】A、D

根据地图及所学知识可知，中国瓷器外传的主要是因为中国瓷器技术精湛，领先世界，西方国家由于社会需求较大，因此中国瓷器远销海外，AD项正确；中国古代没有通过军事扩张来销售瓷器，中国对外交往以和平交往为主，排除B项；瓷器在传播过程中也把技术传播到海外，C项因果颠倒，排除C项。故选AD项。

(二) 瓷器影响世界

5. 欧洲瓷器大量订货，直接促使欧洲众多城市成为专门的手工业市镇，开始进行了“流水线式生产”，生产效率不断增加，这得益于_____。（单选，2分）

- A. 工厂制度的确定
- B. 资本主义的垄断
- C. 手工工坊的发展
- D. 殖民活动的兴起

【参考答案】A

据本题时间信息可知准确时空是：近代欧洲。

根据材料“流水线式生产”，“生产效率不断增加”可知，这主要是由于工业革命后，采用机器生产，流水作业，提高了生产效率，A项正确；资本主义垄断产生之前，已经出现流水作业，排除B项；手工工坊生产效率相对较低，排除C项；殖民活动兴起不会提高生产效率，排除D项。故选A项。

6. 瓷器的流动推动了文化的交流



材料一：

(1) 材料一是德意志制作的“中国风”瓷塑，其中的人物形象与中国当时的实际形象不甚相符，表现出欧洲人自多的趣味和风尚，这一现象折射出_____。(双选，4分)

- A. 西方对中国文化的想象
- B. 西方对中国文化的传承
- C. 西方对中国文化的重构
- D. 中西方文化之间的冲突

【参考答案】C、D

时空是古代、近代中国与西方。根据材料“其中的人物形象与中国当时的实际形象不甚相符，表现出欧洲人自己的趣味和风尚”，可知，这是在西方不了解的中国情况下，结合自己的认知和对中国的想象，对中国文化的重构，AC正确；从材料一可知，这是对中国瓷器文化的重构，不是传承，排除B项；材料反映中西文化相互借鉴，没有体现冲突，排除D项。故选AC项。

6. 瓷器的流动推动了文化的交流

材料一：



材料二：清康熙年间开始出现珐琅彩瓷，以中国传统白瓷胎为底，融入西方珐琅彩描绘制作而成。珠琅彩瓷装饰题材与风格亦受西方影响。

(2) 根据材料一和材料二，如何理解瓷器全球流动中的文化交流。(4分)

【参考答案】

中国的瓷器大量出口到欧洲各国，这不仅促进了中外贸易的繁荣，也推动了中外文化的交流与融合。不同的审美观念在交流中相互碰撞、融合，推动了世界文化的进步和发展，丰富了人类的精神世界。

二、商业贸易与西欧社会转型(26分)

11世纪以后，商业贸易复兴驱动一系列历史事件发生，推动了西欧社会向近代转型。

(一)商业贸易复兴是西欧社会转型的动力，催生了一系列重大历史事件。

1. 将下列“史事”与“结果”相匹配。(填涂字母，6分)

史事 ↔ 结果

(1) 城市自治	A. 创立符合新兴资产阶级需要的新文化
(2) 文艺复兴	B. 确立资本主义经济制度和政治制度
(3) 宗教改革	C. 推动城市经济发展和王权强化
(4) 商业革命	D. 奠定资本主义制度的理论基础
(5) 启蒙运动	E. 出现独立民族教会并助力资本主义成长
(6) 资产阶级革命	F. 引发欧洲商业格局的重大变化

【参考答案】

(1) ——C (2) ——A (3) ——E

(1) 结合所学可知，从中世纪中期西欧城市自治运动推动城市经济的发展、王权的加强。因此，(1)与C匹配。结合所学可知，14世纪以来文艺复兴运动是一场资产阶级借宣扬古希腊罗马文化为名的思想解放运动，核心思想是人文主义。因此(2)与A匹配。结合所学可知，16世纪宗教改革倡导创立民族教会和因信称义的思想，推动了民族教会的出现和资本主义的发展，因此(3)与E匹配。

二、商业贸易与西欧社会转型(26分)

11世纪以后，商业贸易复兴驱动一系列历史事件发生，推动了西欧社会向近代转型。

(一)商业贸易复兴是西欧社会转型的动力，催生了一系列重大历史事件。

1. 将下列“史事”与“结果”相匹配。(填涂字母，6分)

史事	结果
(1) 城市自治	A. 创立符合新兴资产阶级需要的新文化
(2) 文艺复兴	B. 确立资本主义经济制度和政治制度
(3) 宗教改革	C. 推动城市经济发展和王权强化
(4) 商业革命	D. 奠定资本主义制度的理论基础
(5) 启蒙运动	E. 出现独立民族教会并助力资本主义成长
(6) 资产阶级革命	F. 引发欧洲商业格局的重大变化

【参考答案】

(4) ——F (5) ——D (6) ——B

结合所学可知，新航路开辟推动了欧洲出现商业革命，欧洲商业格局从地中海转移到大西洋沿岸，因此(4)与F匹配。结合所学可知，18世纪启蒙思想家主张天赋人权、三权分立、君主立宪制、主权在民等政治理论，为建立资本主义制度奠定了理论基础，因此(5)与D匹配。结合所学可知，近代资产阶级革命沉重打击了封建制度，确立了资本主义经济制度和政治制度。因此(6)与B匹配。

以上内容仅为本文档的试下载部分，为可阅读页数的一半内容。如要下载或阅读全文，请访问：<https://d.book118.com/338106005101006101>