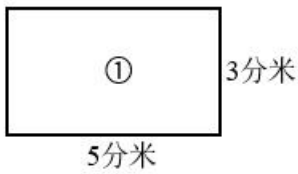


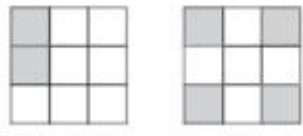
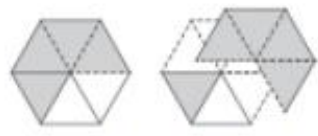
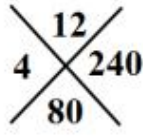
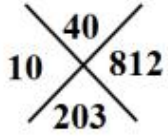
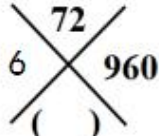
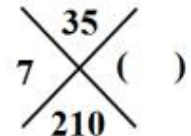


(苏教版) 数学三年级上册寒假作业计算题“天天练”习题卡

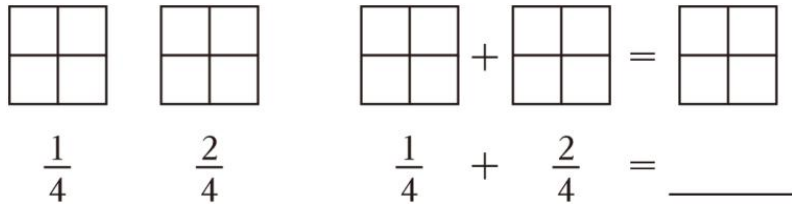
年 级	三 年 ___ 班	姓 名	内 容	训 练 1	评 价
1. 直接写出得数					
$18 \times 4 =$	$5 \times 16 =$	$65 \div 5 =$	$84 \div 4 =$	$\frac{1}{5} + \frac{3}{5} =$	
$400 \times 2 =$	$70 \times 6 =$	$91 \div 7 =$	$360 \div 6 =$	$\frac{2}{7} - \frac{2}{7} =$	
$34 + 29 =$	$73 - 18 =$	$900 \div 3 =$	$21 \times 3 =$	$\frac{3}{10} + \frac{7}{10} =$	
2. 用竖式计算下面各题。					
$256 \times 3 =$	$405 \times 7 =$	$950 \times 7 =$	$900 \div 5 =$	$449 \div 6 =$	
3. 脱式计算。					
$500 - 468 \div 9$	$(375 - 180) \times 3$	$528 + 23 \times 5$			
4. 分别算出下面三个图形的周长。					
					
5. 看图计算。					
					
$\frac{2}{9} + \frac{(\quad)}{(\quad)} = \frac{(\quad)}{(\quad)}$	$\frac{5}{6} - \frac{(\quad)}{(\quad)} = \frac{(\quad)}{(\quad)}$				
6. 找规律填数。					
					

年级	三年__班	姓名	内容	训练 2	评价
----	-------	----	----	------	----

1. 在 () 里填上合适的单位名称。

- (1) 一头大象重 4 () (2) 人每小时大约可以走 4 ()
 (3) 一台冰箱高 7 () (4) 我们吃早餐大约要用 15 ()

2. 分别画图表示 $\frac{1}{4}$ 和 $\frac{2}{4}$ ，并画一画如何计算 $\frac{1}{4} + \frac{2}{4}$ 。




3. 用竖式计算下面各题。

$324 \times 2 =$ $760 \times 9 =$ $304 \times 7 =$ $78 \div 6 =$ $721 \div 7 =$ $432 \div 5 =$

4. 脱式计算。

$200 - 64 + 522$ $(310 - 190) \times 4$ $600 - 450 \div 3$

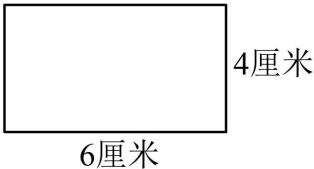

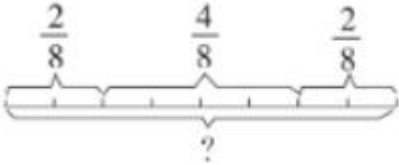
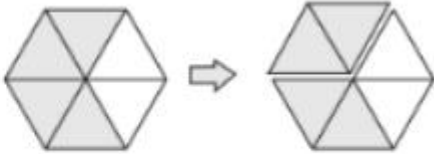
5. 下图是由 3 个边长 1 厘米的小正方形拼成的，它的周长是多少厘米？



6. 填一填。

$$\begin{array}{r}
 \square \ 5 \ \square \\
 + \ 1 \ \square \ 0 \\
 \hline
 4 \ 9 \ 5
 \end{array}$$

$$\begin{array}{r}
 4 \ 1 \ \square \\
 - \ \square \ 5 \\
 \hline
 \square \ 9 \ 2
 \end{array}$$

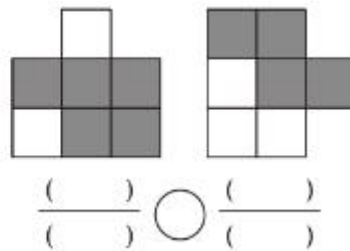
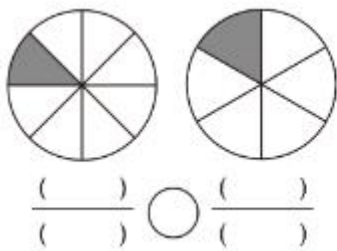
年级	三年__班	姓名	内容	训练 3	评价
1. 直接写出得数。					
$70+300=$	$18\times 5=$	$56\div 4=$	$36\div 3=$	$0\div 18=$	$50\times 6=$
$408\div 4=$	$3\times 23=$	$640\div 8=$	$25\times 4=$	$\frac{6}{7}-\frac{4}{7}=$	$\frac{2}{5}+\frac{3}{5}=$
2. 在 () 里填上合适的数。					
50 厘米 = () 分米 3 分 = () 秒 2000 千克 = () 吨 1 时 30 分 = () 分					
3. 用竖式计算下面各题。					
$234\times 6=$	$750\times 5=$	$309\times 5=$	$624\div 3=$	$683\div 4=$	
4. 脱式计算。					
$630-45\times 6$	$350\times (3\times 2)$	$125+175\div 5$			
5. 计算下面图形的周长。					
					
6. 看图计算。					
					
$\frac{(\quad)}{(\quad)} \bigcirc \frac{(\quad)}{(\quad)} \bigcirc \frac{(\quad)}{(\quad)} = \frac{(\quad)}{(\quad)}$			$\frac{(\quad)}{(\quad)} \bigcirc \frac{(\quad)}{(\quad)} = \frac{(\quad)}{(\quad)}$		

年级	三年__班	姓名		内容	训练 4	评价	
----	-------	----	--	----	------	----	--

1. 在 () 里填上合适的单位名称。

- (1) 做一遍眼保健操的时间约 5 () (2) 数学课本的宽约 184 ()
 (3) 某型货车载重量约为 76 () (4) 飞机每小时飞行约 15 ()

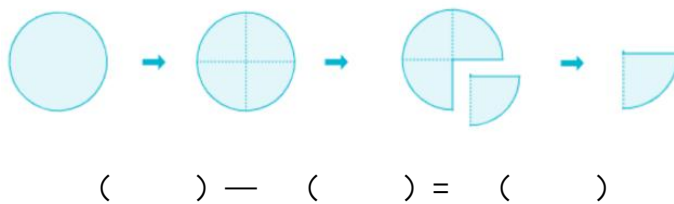
2. 先写出涂色部分所表示的分数，再比较每组分数的大小。



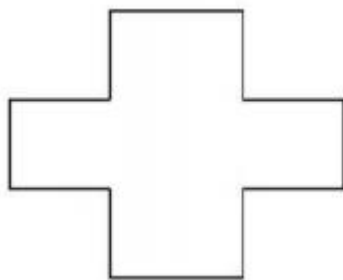
3. 用竖式计算下面各题。

$308 \times 6 =$ $520 \times 5 =$ $624 \times 7 =$ $612 \div 3 =$ $752 \div 4 =$

4. 根据图意列式计算。



5. 先测量，再计算周长。



6. 脱式计算。

$642 + 178 \times 3$

$8 \times (309 - 175)$

$420 - 175 \div 7$

年级	三年__班	姓名	内容	训练5	评价
----	-------	----	----	-----	----

1. 在 () 里填上合适的数。

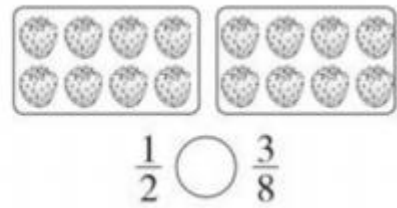
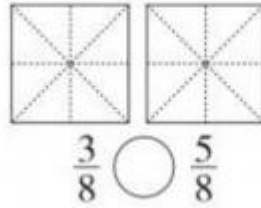
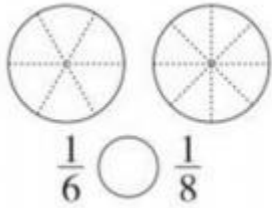
$4700 \text{ 千克} - 700 \text{ 千克} = (\quad) \text{ 吨}$

$1 \text{ 厘米} - 7 \text{ 毫米} = (\quad) \text{ 毫米}$

$1 \text{ 吨} - 200 \text{ 千克} = (\quad) \text{ 千克}$

$950 \text{ 米} + 1050 \text{ 米} = (\quad) \text{ 千米}$

2. 涂一涂，比一比。



3. 用竖式计算下面各题。(带※的要验算)

$245 \times 7 =$

$9 \times 108 =$

$320 \times 9 =$

$807 \div 4 =$

$468 \div 6 =$

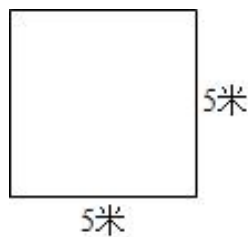
4. 脱式计算。

$275 + 354 \div 3$

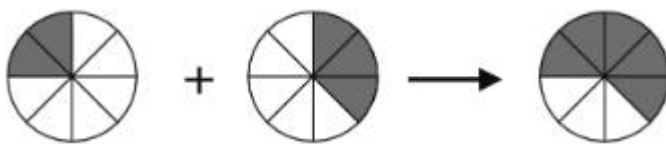
$475 + 125 \times 4$

$(951 - 347) \times 6$

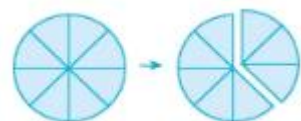
5. 计算每个图形的周长。



6. 看图计算。



$(\quad) \bigcirc (\quad) = (\quad)$



$(\quad) \bigcirc (\quad) = (\quad)$

年级	三年__班	姓名	内容	训练6	评价
----	-------	----	----	-----	----

1. 在 () 里填上合适的数。

$1 \text{ 分} = (\quad) \text{ 秒}$

$7 \text{ 吨} = (\quad) \text{ 千克}$

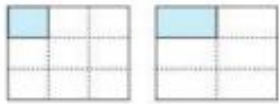
$3 \text{ 分米} = (\quad) \text{ 厘米}$

$100 \text{ 分} = (\quad) \text{ 时 } (\quad) \text{ 分}$

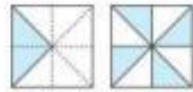
$2 \text{ 厘米 } 3 \text{ 毫米} = (\quad) \text{ 毫米}$

$2 \text{ 千米} = (\quad) \text{ 米}$

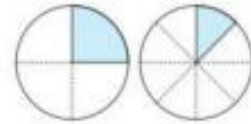
2. 先看图写分数，再比大小。



$(\quad) / (\quad) \bigcirc (\quad) / (\quad)$



$(\quad) / (\quad) \bigcirc (\quad) / (\quad)$



$(\quad) / (\quad) \bigcirc (\quad) / (\quad)$

3. 用竖式计算下面各题。

$375 \times 5 =$

$407 \times 8 =$

$380 \times 7 =$

$618 \div 6 =$

$785 \div 6 =$

$809 \div 5 =$

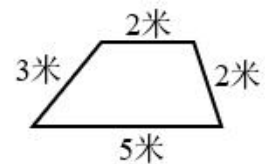
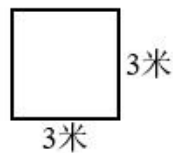
4. 脱式计算。

$720 \div (493 - 484)$


$(256 + 142) \times 4$

$473 \times 2 - 762$

5. 计算下面图形的周长。



6. 看图先涂一涂，再计算。



$(\quad) \bigcirc (\quad) = (\quad)$



$(\quad) \bigcirc (\quad) = (\quad)$

年级	三年__班	姓名	内容	训练 7	评价
----	-------	----	----	------	----

1. 在○里填入>、<或=。

$$\frac{1}{8} \bigcirc \frac{1}{9}$$

$$\frac{3}{7} \bigcirc \frac{6}{7}$$


$$7 \text{ 千克} \bigcirc 700 \text{ 克}$$

$$4999 \text{ 克} \bigcirc 5 \text{ 千克}$$


$$328 \div 2 \div 4 \bigcirc 328 \div 8$$

$$216 \times 6 \bigcirc 6 \times 226$$


2. 涂色表示下面的分数。



$$\frac{3}{4}$$



$$\frac{2}{5}$$



$$\frac{1}{3}$$

3. 用竖式计算下面各题。

$$608 \times 5 =$$

$$218 \times 7 =$$

$$450 \times 9 =$$

$$525 \div 5 =$$

$$447 \div 3 =$$

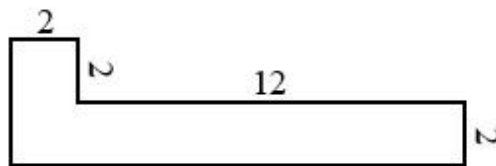
4. 脱式计算。

$$702 - 459 + 275$$

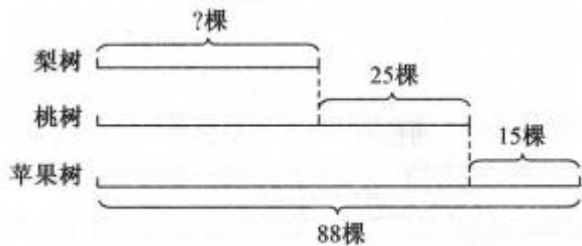
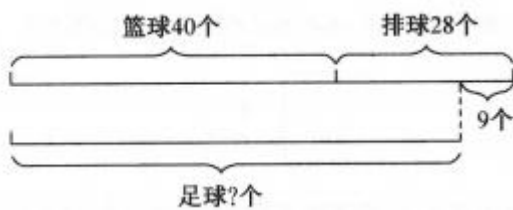
$$156 - 183 \div 3$$

$$(593 - 455) \times 8$$

5. 计算下面图形的周长。(单位：分米)



6. 看图列式计算。



年级	三年__班	姓名	内容	训练 8	评价
----	-------	----	----	------	----

1. 在 () 里填上合适的单位。

一只铅笔长 16 ()

一枚硬币约厚 2 ()

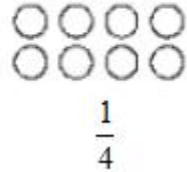

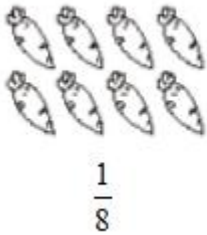
一头牛重 500 ()

乐乐跑 50 米大约用 8 ()

爸爸每天工作 8 ()

一场足球赛要 90 ()

2. 在图中涂色表示对应的分数。



3. 用竖式计算下面各题。

$608 \times 5 =$

$397 \times 4 =$

$480 \times 7 =$

$272 \div 6 =$

$480 \div 4 =$

$525 \div 5 =$

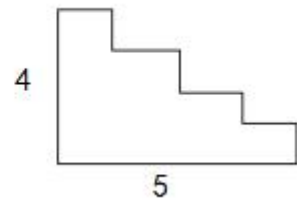
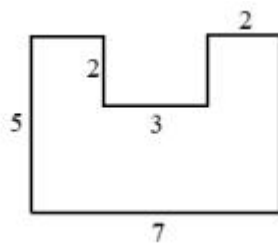
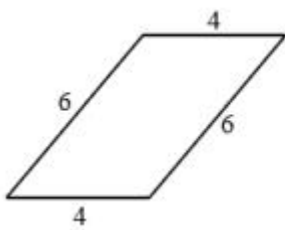
4. 脱式计算。

$400 - 340 \div 2$

$378 + 68 \times 4$

$(508 - 266) \times 5$

5. 计算下面图形的周长。(单位: 厘米)



6. 算一算, 这些商品比原来便宜多少钱?



原价: 128 元

现价: 69 元



原价: 980 元

现价: 788 元

年级	三年__班	姓名	内容	训练 9	评价
----	-------	----	----	------	----

1. 在○里填入>、<或=。

$150 \text{ 分} \bigcirc 3 \text{ 时}$

$50 \text{ 厘米} \bigcirc 45 \text{ 分米}$

$19 \times 6 \bigcirc 9 \times 16$

$0 \times 78 \bigcirc 0 + 78$

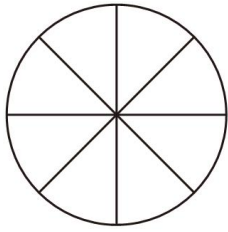
$\frac{9}{14} \bigcirc \frac{10}{14}$

$1 \bigcirc \frac{8}{8}$

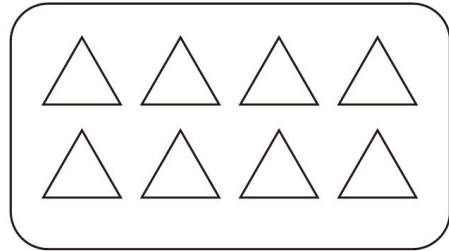
$540 \div 2 \bigcirc 810 \div 3$

$72 \div 2 \div 3 \bigcirc 72 \div 6$

2. 看分数涂色。



$\frac{3}{8}$



$\frac{3}{4}$

3. 用竖式计算下面各题。

$324 \times 6 =$

$806 \times 4 =$

$390 \times 9 =$

$564 \div 6 =$

$876 \div 3 =$

4. 脱式计算。

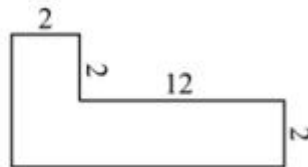

$468 + 450 \div 9$

$104 \times 3 - 283$

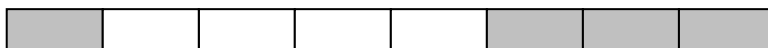
$935 - 109 \times 8$

$(122 + 26) \times 5$

5. 计算下面各图形的周长。(单位：分米)

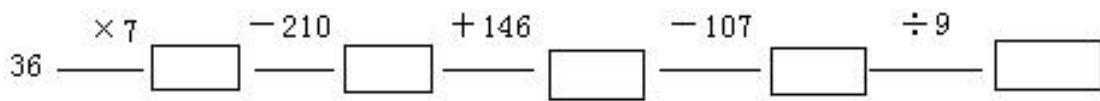


6. 还剩下几分之几没涂色?



年级	三年__班	姓名	内容	训练 10	评价
----	-------	----	----	-------	----

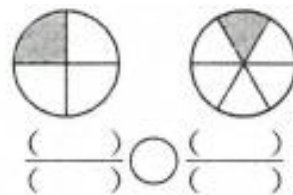
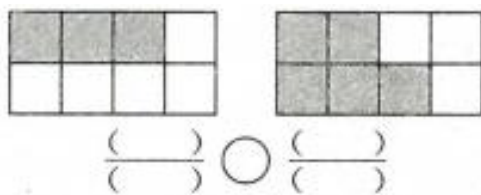
1. 开火车。



2. 在下图中分一分，用阴影表示出所有☆的 $\frac{3}{4}$ 。



3. 先用分数表示涂色部分，再比较分数的大小。



4. 用竖式计算下面各题。

$$207 \times 5 = \quad 376 \times 8 = \quad 320 \times 8 = \quad 162 \div 3 = \quad 845 \div 8 = \quad 540 \div 5 =$$

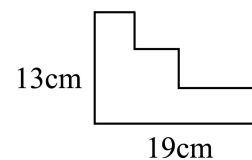
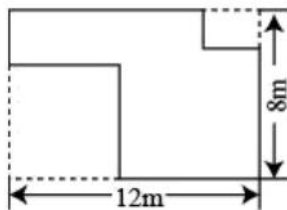
5. 脱式计算。

$$475 + 125 \times 4$$

$$(951 - 870) \div 9$$

$$(240 - 15) \times 7$$

6. 求下图的周长。(单位：米)



年级	三年__班	姓名	内容	训练 11	评价
----	-------	----	----	-------	----

1. 在○里填入>、<或=。

$5800 \text{ 克} \bigcirc 58 \text{ 千克}$

$720 \div 8 \bigcirc 720 \div 4 \div 4$

$600 \times 2 \times 4 \bigcirc 600 \times 8$

$\frac{1}{2} \bigcirc \frac{1}{4}$

$6 \times 78 \bigcirc 67 \times 8$

$192 \div 4 \div 2 \bigcirc 192 \div 8$


$705 \div 5 \bigcirc 750 \div 5$

$\frac{2}{5} \bigcirc \frac{3}{5}$

2. 涂色表示下面的分数。



$\frac{2}{3}$



$\frac{1}{6}$



$\frac{3}{4}$

3. 用竖式计算下面各题。(带※的要验算)

$370 \times 8 =$

$509 \times 4 =$

$347 \times 8 =$

$936 \div 3 =$

$785 \div 3 =$

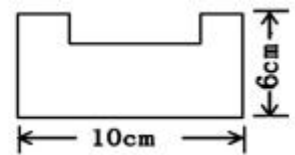
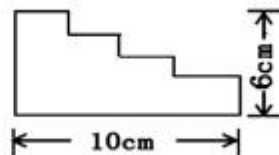
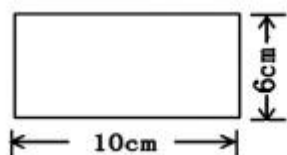
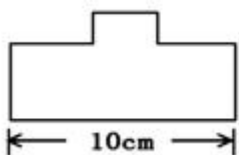
4. 脱式计算。

$506 - 376 \div 8$

$1000 - 125 \times 8$

$(352 - 289) \div 7$

5. 算出下面图形的周长，并比一比：哪个图形的周长最长？



6. 乐乐计算了下面三题：

$22 \times 9 = 198$

$33 \times 9 = 297$

$44 \times 9 = 396$

(1) 仔细观察这三道算式，你有什么发现？把你的发现写下来。

(2) 根据你的发现，在下面算式的()里填上合适的数。

$55 \times 9 = ()$

$() \times 9 = 693$

年级	三年__班	姓名	内容	训练 12	评价
----	-------	----	----	-------	----

1. 在 () 里填上合适的单位。

一枚 2 分硬币约重 1 ()

一辆卡车载重约 5000 ()

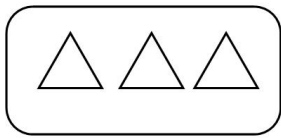
一头牛约重 200 ()

一箱苹果约重 15 ()

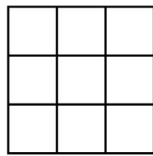
一盒饼干约重 500 ()

一本数学书约重 250 ()

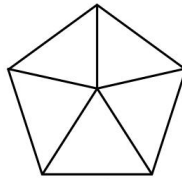
2. 涂一涂，表示出每个图形所对应的分数。



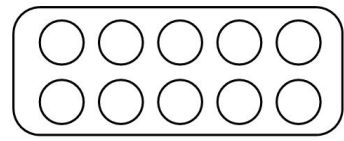
$$\frac{2}{3}$$



$$\frac{2}{3}$$



$$\frac{3}{5}$$



$$\frac{3}{5}$$

3. 用竖式计算下面各题。(带※的要验算)

$360 \times 8 =$

$406 \times 2 =$

$739 \times 4 =$

$780 \div 6 =$

$721 \div 7 =$

$432 \div 5 =$

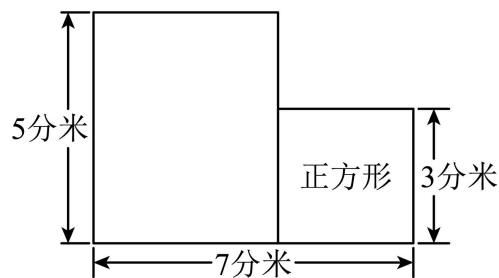
4. 脱式计算。

$258 + 387 \div 3$

$940 - 109 \times 6$


$(526 - 257) \times 5$

5. 计算下面图形的周长。



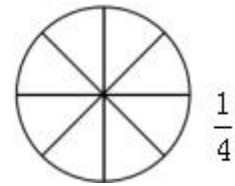
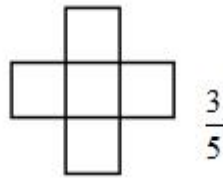
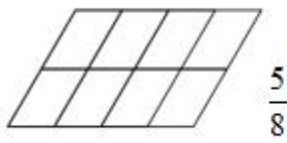
年级	三年__班	姓名		内容	训练 13	评价	
----	-------	----	--	----	-------	----	--

1. 算一算，填一填。



- (1) 8 袋糖共重 () 千克。
 (2) 4 袋糖和 3 袋盐比较, () 更重一些。
 (3) 3 袋盐和 1 袋糖合起来, 比 1 千克多 () 克。

2. 涂色表示各图下面的分数。



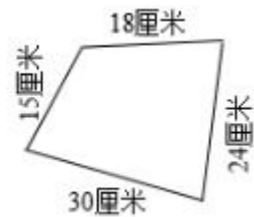
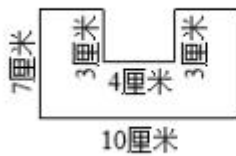
3. 用竖式计算下面各题。

$638 \times 5 =$ $290 \times 5 =$ $608 \times 9 =$ $456 \div 3 =$ $738 \div 6 =$ $578 \div 8 =$

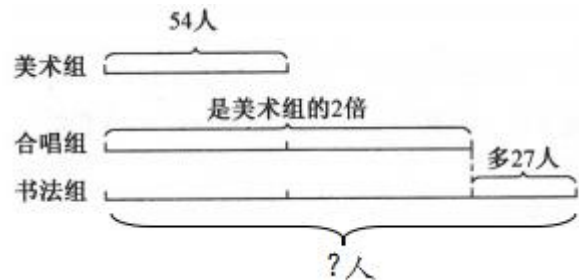
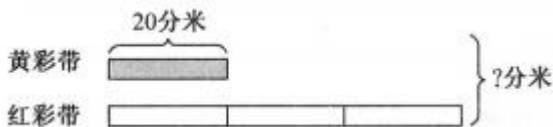
4. 脱式计算。

$327 + 105 \times 4$ $500 - (127 + 235)$ $(405 - 356) \div 7$

5. 计算下面图形的周长。



6. 看图列式计算。



年级	三年__班	姓名		内容	训练 14	评价	
----	-------	----	--	----	-------	----	--

1. 在○里填入>、<或=。

$2 \text{ 千克} \bigcirc 200 \text{ 克}$

$678 \times 9 \times 0 \bigcirc 678 \div 9$

$\frac{1}{6} \bigcirc \frac{1}{3}$

$4500 \text{ 克} \bigcirc 45 \text{ 千克}$

$96 \div 2 \div 4 \bigcirc 96 \div 8$

$\frac{1}{5} + \frac{3}{5} \bigcirc \frac{4}{5} - \frac{1}{5}$

2. 在每幅图里涂上颜色，分别表示出它的 $\frac{3}{4}$ 。



3. 用竖式计算下面各题。

$469 \times 4 =$

$360 \times 6 =$

$602 \times 5 =$

$367 \div 5 =$

$980 \div 7 =$

$475 \div 9 =$

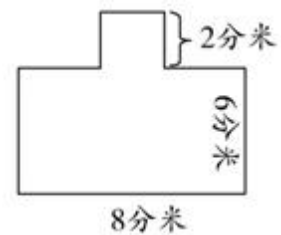
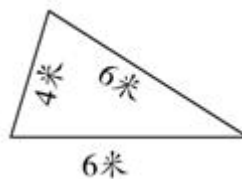
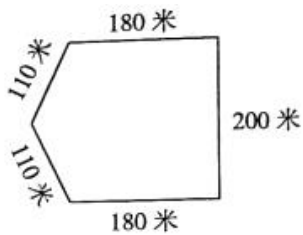
4. 脱式计算。

$349 + 720 \div 8$

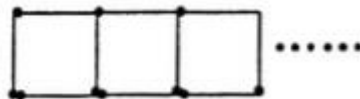
$6 \times (725 - 587)$

$700 - 685 \div 5$

5. 计算下面图形的周长。



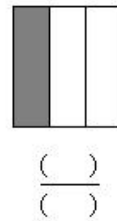
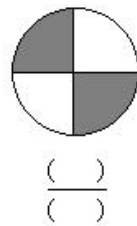
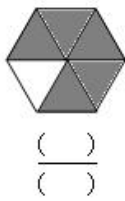
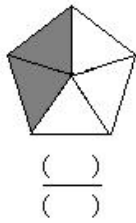
6. 小红像下面这样摆正方形，摆1个用4根小棒，摆2个用7根小棒……



摆 1 个	摆 2 个	摆 3 个	……	摆 8 个	摆 18 个
4 根	7 根	() 根	……	() 根	() 根

年级	三年__班	姓名		内容	训练 15	评价	
----	-------	----	--	----	-------	----	--

1. 用分数表示每个图的涂色部分。



2. 在○里填入>、<或=。

$24 \times 3 \bigcirc 42 \times 3$

$520 \times 8 \bigcirc 8 \times 502$

$145 \times 2 \times 3 \bigcirc 145 \times 6$

$\frac{4}{8} \bigcirc \frac{1}{2}$

$5900 \text{ 克} \bigcirc 59 \text{ 千克}$

$96 \div 2 \div 4 \bigcirc 96 \div 8$

$\frac{3}{5} \bigcirc \frac{2}{5}$

$\frac{1}{6} \bigcirc \frac{1}{5}$

3. 用竖式计算下面各题。(带※的要验算)

$253 \times 3 =$

$670 \times 2 =$

$6 \times 705 =$

$770 \div 7 =$

$639 \div 3 =$

$889 \div 4 =$

4. 脱式计算。

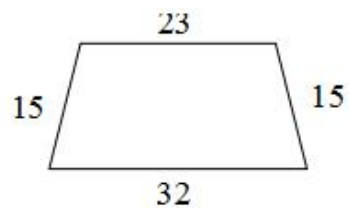
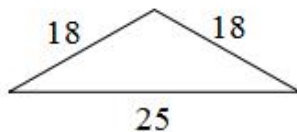

$267 - 245 \div 5$

$635 - 35 \times 9$

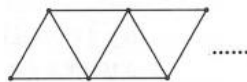
$6 \times (175 + 195)$

$(244 + 24) \div 4$

5. 计算下面各图形的周长。(单位：厘米)



6. 乐乐用小棒像下图这样摆三角形，摆1个用3根小棒，摆2个用5根小棒……根据这样的摆法把下表填写完整。



摆1个	摆2个	摆3个	……	摆7个	摆()个
3根	5根	()根	……	()根	()根

年级	三年__班	姓名	内容	训练 16	评价
----	-------	----	----	-------	----

1. 在○里填入>、<或=。

$150 \times 3 \times 0 \bigcirc 3 \times 1$

$5999 \text{ 克} \bigcirc 6 \text{ 千克}$

$\frac{1}{4} \bigcirc \frac{1}{5}$

$\frac{3}{5} \bigcirc \frac{3}{7}$

$120 \times 5 \bigcirc 5 \times 102$

$54 + 18 \bigcirc 45 + 18$


$500 \times 2 \times 4 \bigcirc 500 \times 8$

$2 \text{ 分} \bigcirc 100 \text{ 秒}$

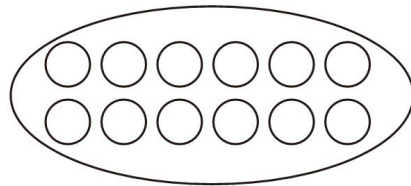
2. 涂色表示各图下面的分数。



$\frac{5}{6}$



$\frac{5}{6}$



$\frac{1}{3}$

3. 用竖式计算下面各题。(带※的要验算)

$302 \times 4 =$

$260 \times 2 =$

$423 \times 6 =$

$807 \div 4 =$

$457 \div 6 =$

$642 \div 8 =$

4. 脱式计算。

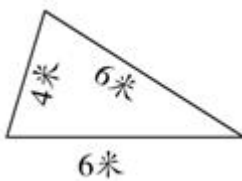
$42 \div 6 \times 350$

$(407 - 386) \times 3$

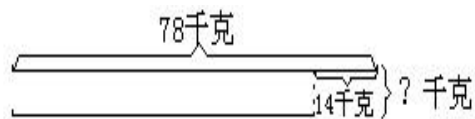
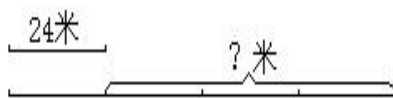
$440 + 102 \times 5$

$(917 - 467) \div 5$

5. 计算下面图形的周长。



6. 看图列式计算。



年级	三年__班	姓名	内容	训练 18	评价
----	-------	----	----	-------	----

1. 在○里填入>、<或=。

$398 \times 5 \bigcirc 2000$

$\frac{1}{7} \bigcirc \frac{1}{3}$

$4500 \text{ 克} \bigcirc 4 \text{ 千克}$

$240 \times 6 \bigcirc 240 \times 2 \times 3$

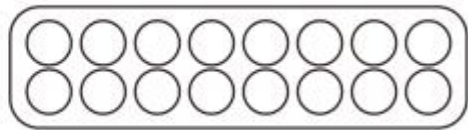
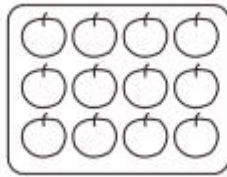
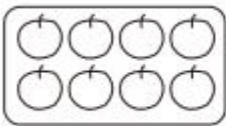
$45 \times 2 \times 3 \bigcirc 45 \times 5$

$569 \div 7 \bigcirc 569 \div 9$

$2 \text{ 时} \bigcirc 200 \text{ 秒}$

$0 \times 300 \bigcirc 0 + 300$

2. 在下面各图中涂色，表示出 $\frac{3}{4}$ 。



3. 用竖式计算下面各题。(带※的要验算)

$5 \times 453 =$

$707 \times 9 =$

$550 \times 8 =$

$843 \div 2$

$665 \div 3 =$

$285 \div 2 =$

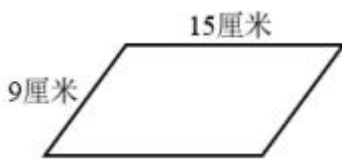
4. 脱式计算。

$693 - 376 \div 4$


$(315 + 136) \times 4$

$572 - 132 \times 3$

5. 计算下面个图形的周长。



6. 看图列式计算。



以上内容仅为本文档的试下载部分，为可阅读页数的一半内容。如要下载或阅读全文，请访问：<https://d.book118.com/347031101044006032>