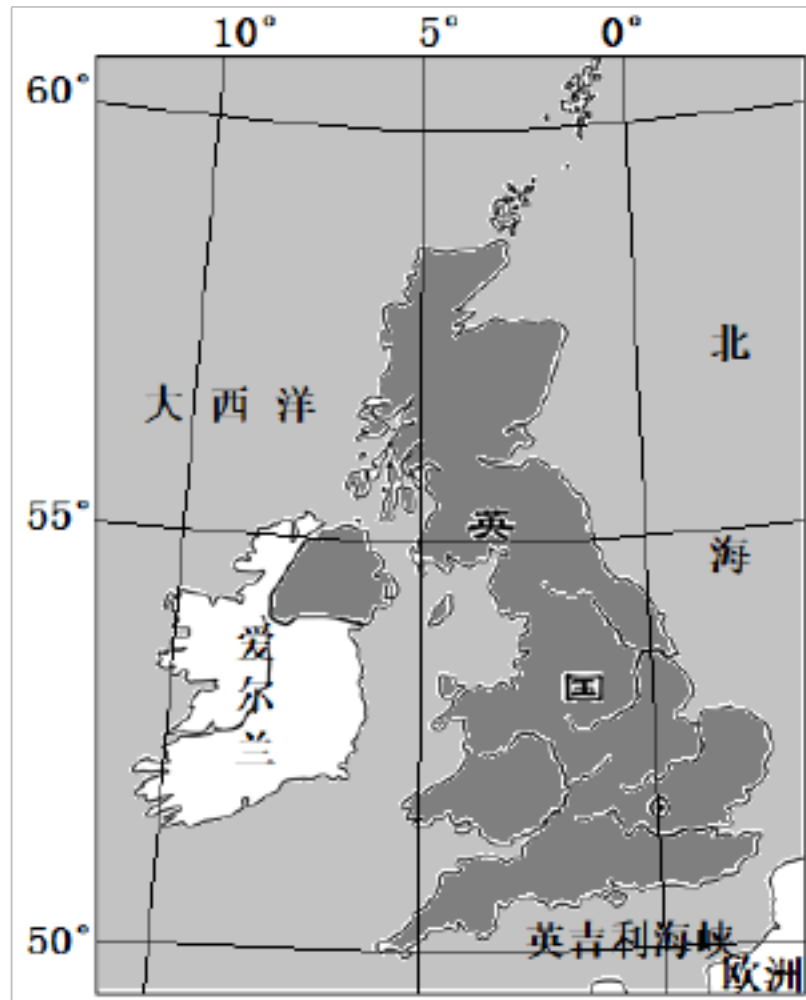


专题 13 欧洲西部

一、选择题

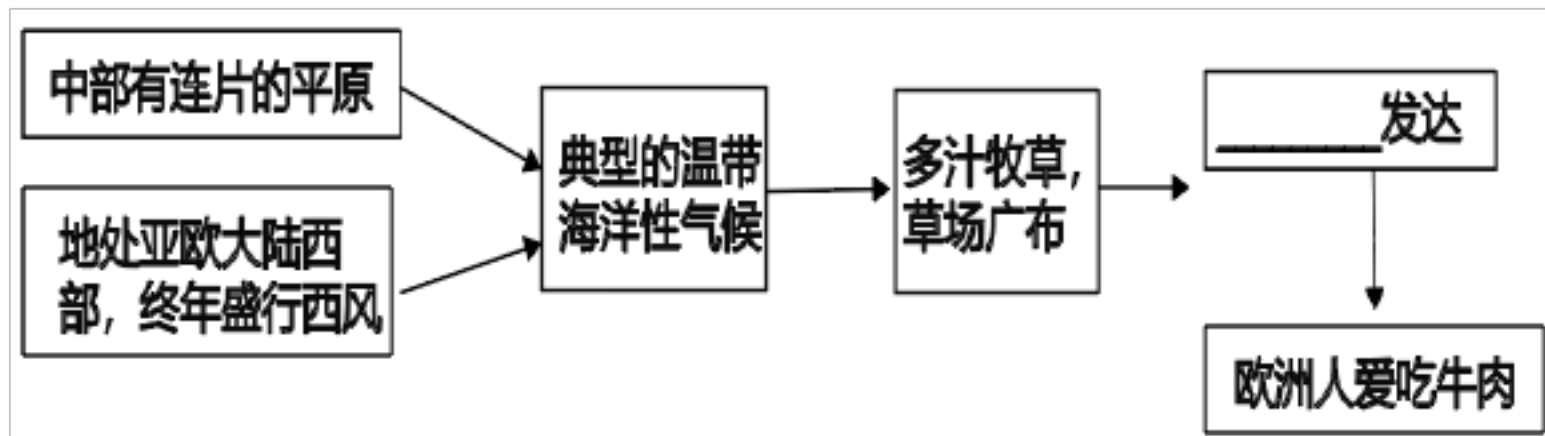
(2024 辽宁盘锦·中考真题) 英国是欧洲西部的岛国，地处大西洋中，大西洋对英国人民的生产生活影响很大读图，完成下面小题。



1. 图中风向是英国常年盛行的风向，对英国影响最大的产业是（ ）
A. 农业 B. 工业 C. 服务业 D. 旅游业
2. 英国人的生活习惯多是（ ）
A. 穿防晒服，戴遮阳帽 B. 吃牛排、羊腿，喝牛奶
C. 夜晚常把床铺安放在星顶上 D. 小船是日常出行的交通工具

(2024 江苏宿迁·中考真题) 中学生小雨暑假跟随母到达欧洲西部，开启了愉悦的旅程，完成了自己的旅游心愿单。结合所学知识完成下面小题。

3. 下列小雨的“旅游心愿单”设计正确的是（ ）
A. 英国—阿尔卑斯山 B. 西班牙—午夜的阳光
C. 法国—埃菲尔铁塔 D. 挪威—0°经线
4. 小雨在旅途中发现欧洲人餐桌上常见牛奶、肉食、奶酪等食品，这种饮食结构与当地的地理环境密切相关。下面能够完善思维导图的选项是（ ）



- A. 种植业 B. 渔业 C. 林业 D. 畜牧业

5. 小雨发现欧洲西部许多大城市沿河流分布, 原因是 ()

- ①水能丰富 ②水运便利 ③地形平坦 ④靠近水源

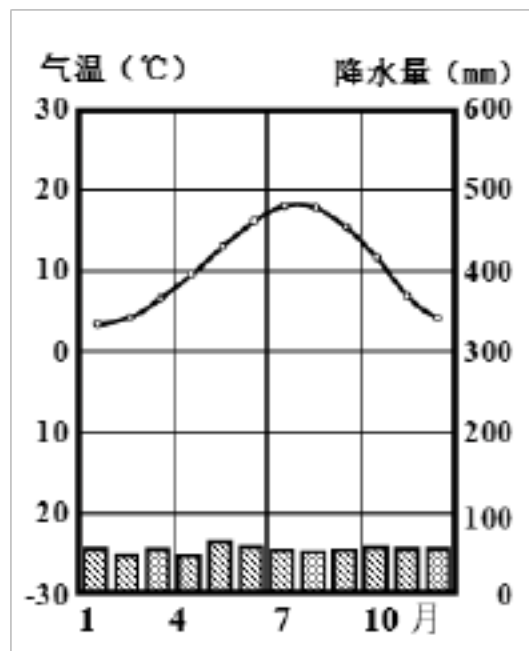
- A. ①②③ B. ②③④ C. ①②④ D. ①③④

(2024 四川 眉山市教育科学研究所中考真题) 欧洲西部是发达国家最集中的地区。读下列材料完成下面小题。

面小题。

材料一: “汉堡气候资料”及“欧洲西部地形”。

材料二: 油橄榄树是强阳性树种, 它的产地纬度在 40 度左右, 喜炎热干燥的生态环境。



6. 下列关于欧洲西部位置叙述, 正确的是 ()

- A. 北临地中海 B. 南临北冰洋 C. 东临太平洋 D. 西临大西洋

7. 波罗的海沿岸主要的地形类型是 ()

- A. 丘陵 B. 平原 C. 高原 D. 山地

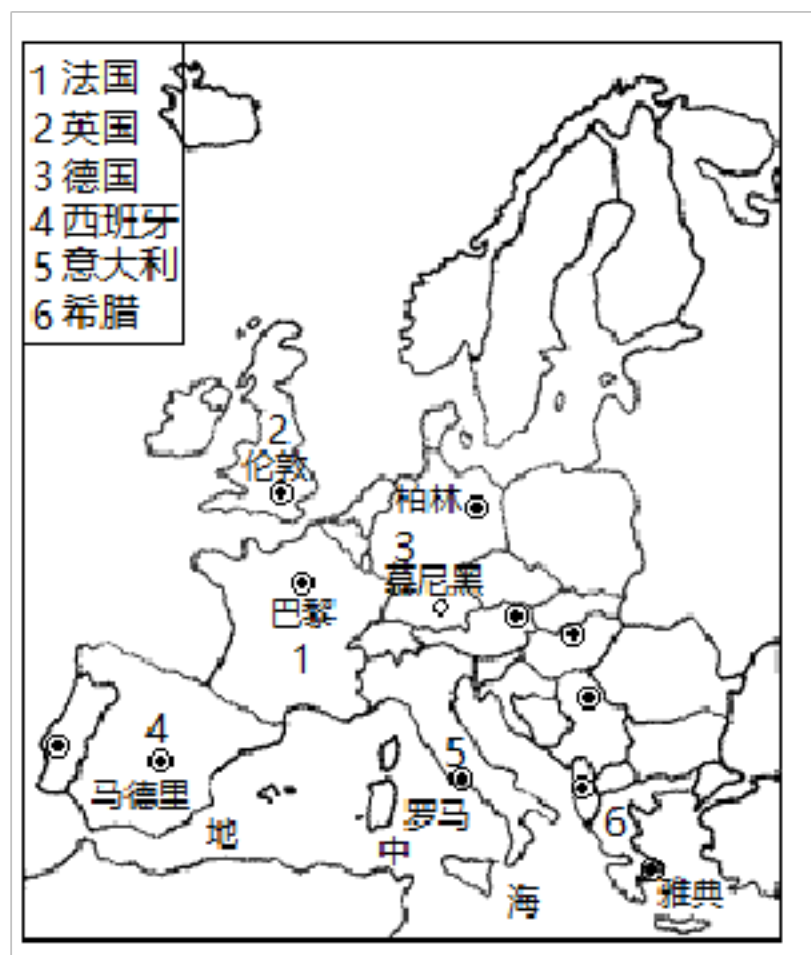
8. 根据汉堡的气候资料, 判断其所在地区的气候类型是 ()

- A. 地中海气候 B. 温带大陆性气候 C. 温带海洋性气候 D. 温带季风气候

9. 根据题中信息判断, 油橄榄树最适宜的生长地区是 ()

- A. 地中海沿岸 B. 北海沿岸 C. 波罗的海沿岸 D. 北冰洋沿岸

(2024 湖南株洲 中考真题) 欧洲西部经济发达，旅游业是其支柱产业之一。下图为欧洲部分国家及城市分布图，完成下面小题。



10. 下列活动能在德国体验到的是 ()

- A. 欢度慕尼黑啤酒节 B. 游览莫斯科红场
C. 观赏黄石国家公园的瀑布 D. 欣赏富士山的樱花

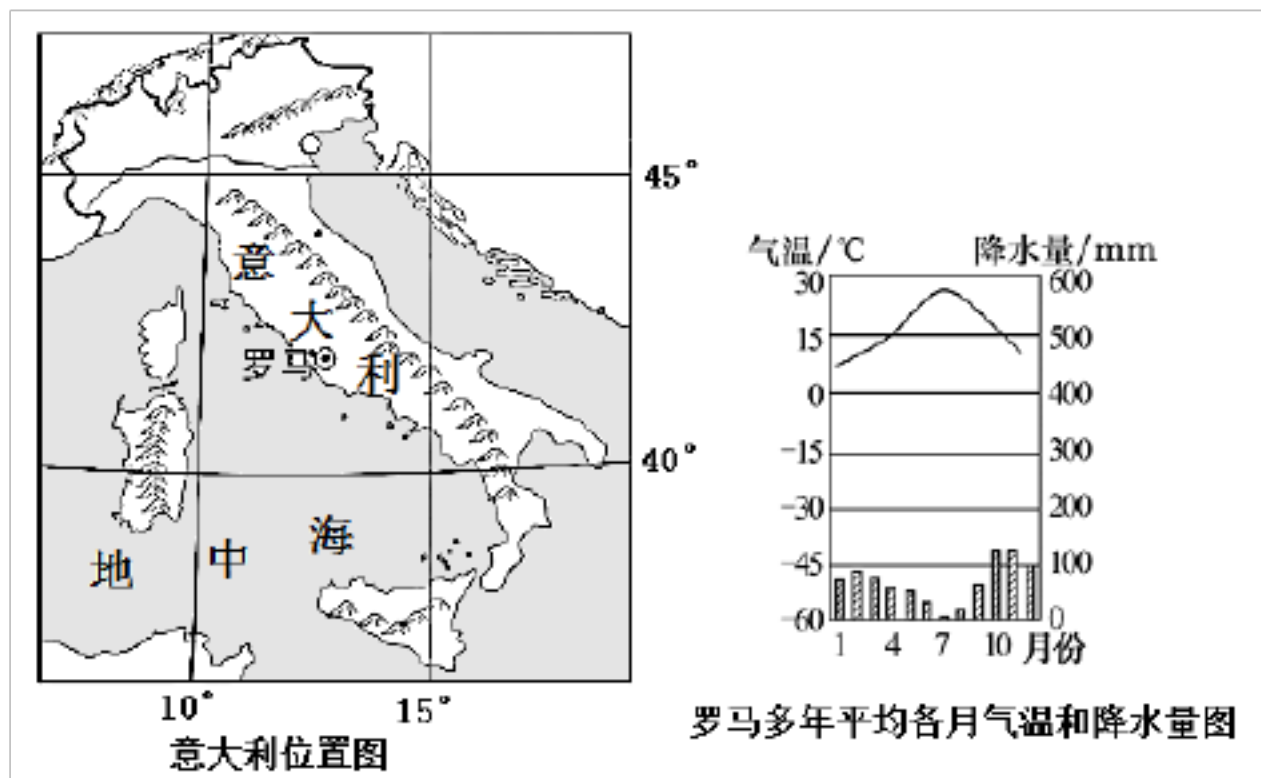
11. 吸引人们去欧洲旅游的主要原因是 ()

- A. 地形平坦 B. 旅游资源多样 C. 消费超前 D. 教育发达

12. (2024 湖南衡阳 中考真题) 欧洲西部旅游资源丰富。下列旅游活动的安排，正确的是 ()

- A. 乘船游览峡湾，观看午夜的太阳——意大利
B. 游水城威尼斯，参观白金汉宫——西班牙
C. 去阿尔卑斯山滑雪，参观世界表都伯尔尼——德国
D. 登埃菲尔铁塔，在卢浮宫欣赏名画《蒙娜丽莎》——法国

(2024 辽宁沈阳 中考真题) 意大利首都罗马是世界历史文化名城。读意大利位置图及罗马多年平均各月气温和降水量图，完成下面小题。



13. 罗马的经纬度接近 ()

- A. (42°N, 12°W) B. (42°S, 12°E) C. (42°S, 12°W) D. (42°N, 12°E)

14. 根据罗马多年平均各月气温和降水量图, 判断流经该气候区的河流水位最低的季节是 ()

- A. 春季 B. 夏季 C. 秋季 D. 冬季

【答案】13. D 14. B

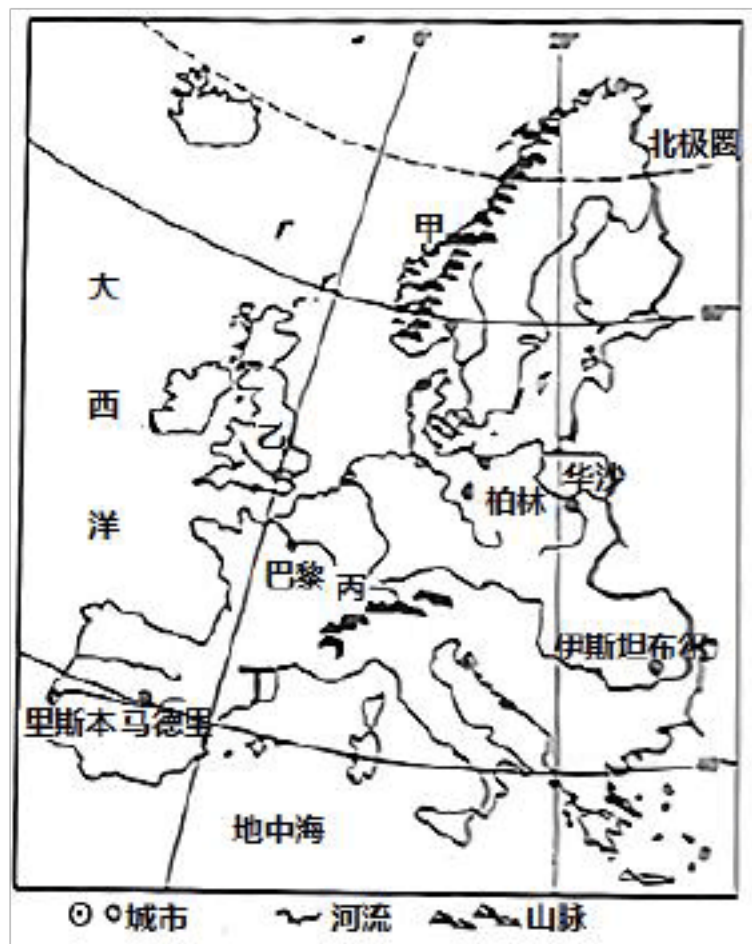
15. (2024 黑龙江大庆 中考真题) 关于欧洲西部的叙述, 正确的是 ()

①工业布局稀疏 ②北临北冰洋, 西临太平洋, 南临地中海

③卢浮宫博物馆位于法国巴黎 ④发达国家集中

- A. ①② B. ②③ C. ③④ D. ①④

(2024 宁夏 中考真题) 暑假, 某同学随父母开启了欧洲之旅。下图为“欧洲西部示意图”。据此完成下面小题。



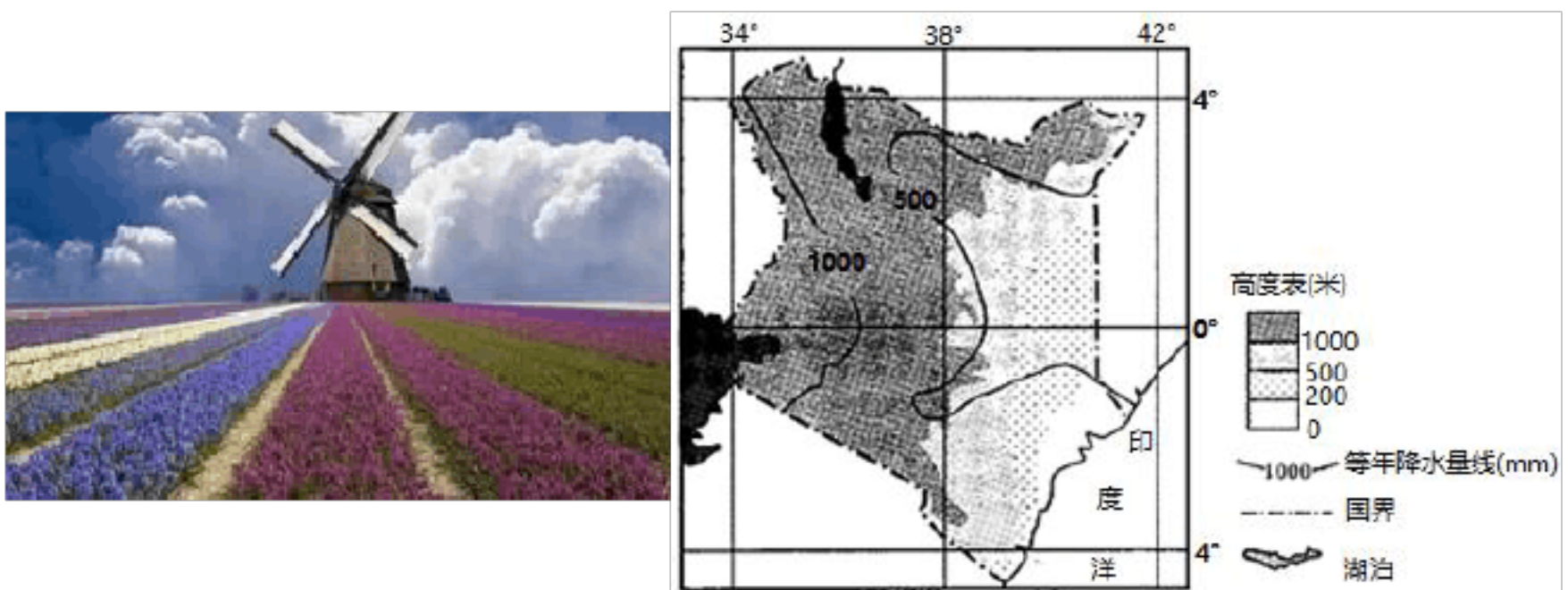
16. 欧洲西部旅游资源丰富，下列旅行计划正确的是（ ）

- A. 去甲处的海滩享受日光浴
- B. 去乙处参观卢浮宫博物馆
- C. 去丙处攀登冰雪皑皑的山峰
- D. 去丁处欣赏幽深曲折的峡湾

17. 该同学在旅行中的见闻，可信的是（ ）

- A. 人种以黄种人为主
- B. 米饭是餐桌上的主食
- C. 国家众多，人口稀少
- D. 许多城市沿河流分布

(2024 广东深圳 中考真题) 荷兰地势比较扁平，四分之一土地被海水淹没，所以发明了风车，也被称为花卉之国。发展中国家肯尼亚是世界第二大鲜花出口国，主要出口欧洲。据此完成下面小题。



18. 荷兰与海争地用风车（ ）

- A. 发电
- B. 抽水
- C. 排水
- D. 碾稻谷

19. 与荷兰相比，发展中国家的花卉种植业存在（ ）的优势。

- A. 科技水平高
- B. 生产历史悠久
- C. 离欧洲市场较近
- D. 劳动成本较低

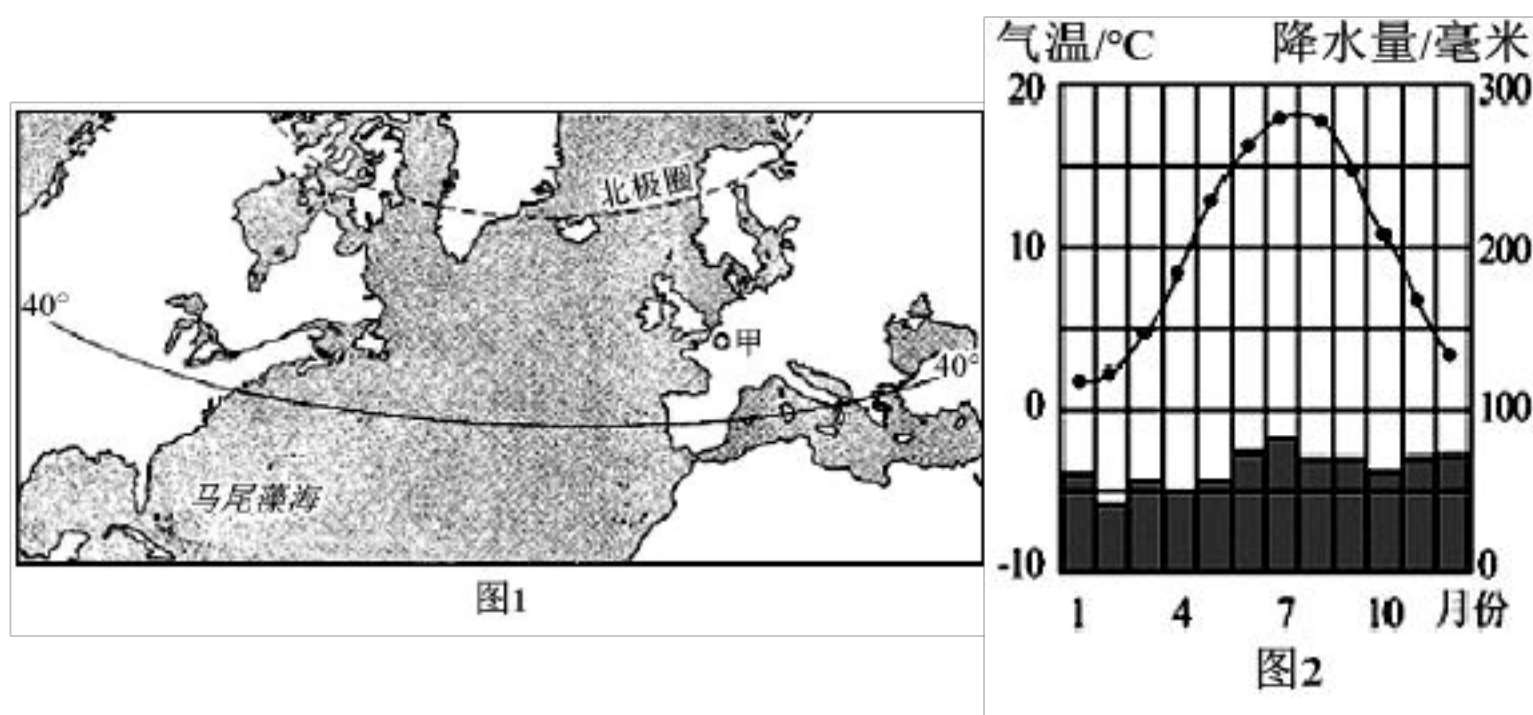
20. 为了保证鲜花在国际市场中的新鲜程度，图中发展中国家出口鲜花应采用（ ）

- A. 海洋运输
- B. 铁路运输
- C. 公路运输
- D. 航空运输

21. (2024 黑龙江绥化 中考真题) 在欧洲西部，被称为“绿色金子”的是（ ）

- A. 油菜
- B. 牧草
- C. 小麦
- D. 玉米

(2024 湖北随州 中考真题) 孵化于马尾藻海的鳗鱼，漂洋过海到达图1中甲地西部海域，然后进入甲地河流生活，成年后回到马尾藻海，产卵后死亡。近年来，天然鳗鱼数量大幅减少，被列为极度濒危物种。下图1为鳗鱼活动范围示意图，图2为甲地气温曲线与降水量柱状图，读图完成下面小题。



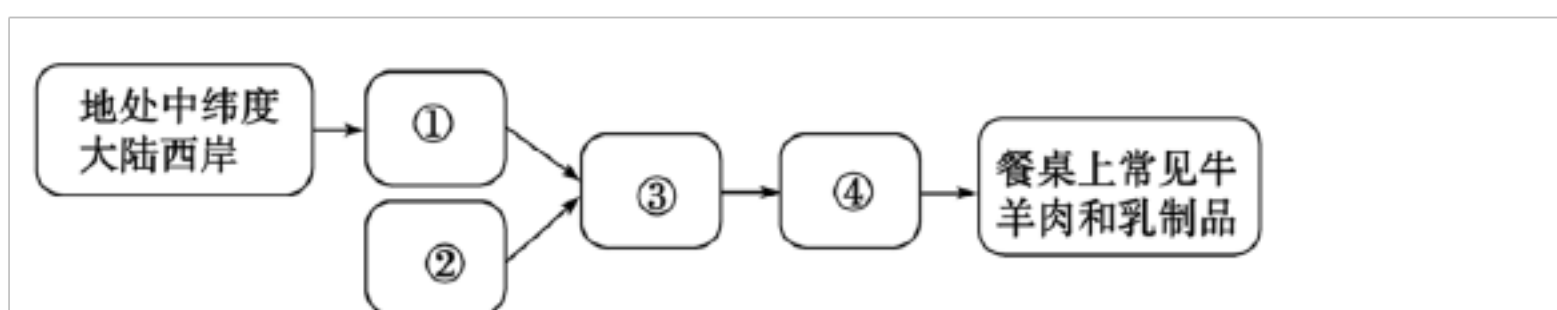
22. 鳗鱼从马尾藻海西南部迁往甲地河流的过程中，必须经过的大洋是（ ）


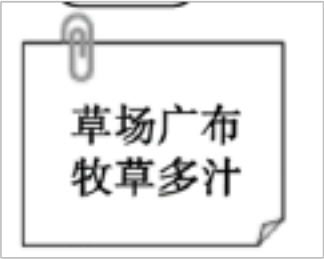

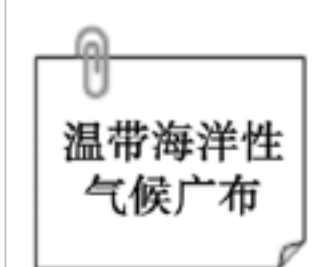
- A. 北冰洋
- B. 大西洋
- C. 印度洋
- D. 太平洋

23. 结合图1和图2，下列关于甲地河流的水文特征说法错误的是（ ）

- A. 无结冰期
- B. 水流平稳
- C. 夏汛冬枯
- D. 水量丰富

24. (2024 山东泰安 中考真题) 欧洲人以牛羊肉和乳产品为主要食物，餐桌上常见牛排、羊腿、奶油、奶酪等食品。读欧洲西部居民饮食结构与自然环境因果关系图，据图判断放在③处最合适的卡片是（ ）




- A.  B.  C.  D. 

25. (2024 山东泰安 中考真题) 冬季奥林匹克运动会简称为“冬奥会”，是世界规模最大的冬季综合性运动会，每四年举办一届，欧洲西部地区是世界上举办“冬奥会”最多的地区（如图）。欧洲西部地区举办冬奥会利于开展雪上运动项目的自然条件是（ ）



- ①高纬度地区，气候严寒 ②北部、南部山地地形，坡度适宜
 ③冬季降雪多，积雪量大 ④开展冰雪运动的历史悠久
- A. ①② B. ③④ C. ②③ D. ①④

26. (2024 黑龙江牡丹江 中考真题) 下列景观位于欧洲西部的是（ ）



C.



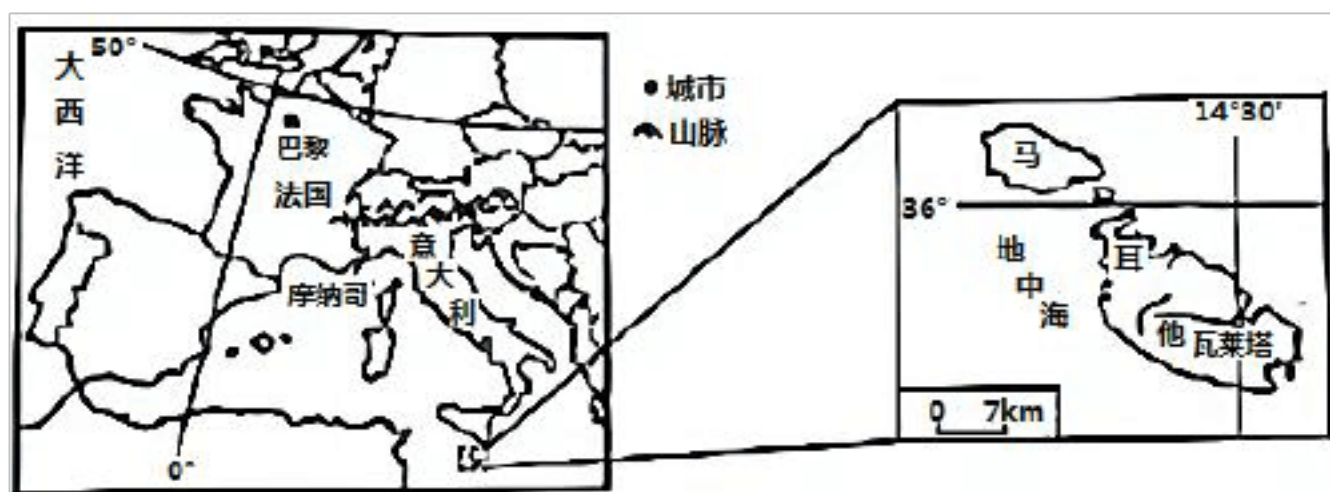
尼罗河风光图

D.



下龙湾图

(2024·山东潍坊·中考真题) 马耳他是位于地中海中部的岛国，有“地中海心脏”之称，同 100 多个国家和地区有贸易关系，是闻名世界的旅游胜地。下图为欧洲西部部分地区及马耳他示意图。读下图，完成下面小题。



27. 马耳他国际客运的主要交通运输方式是 ()

- A. 航空运输 B. 铁路运输 C. 公路运输 D. 内河航运

28. 由瓦莱塔港驶往英国的远洋货轮最近航线经过 ()

- A. 马六甲海峡 B. 苏伊士运河 C. 直布罗陀海峡 D. 巴拿马运河

29. 关于马耳他的气候特征叙述正确的是 ()

- A. 全年高温多雨 B. 雨热同期 C. 冬季温和多雨 D. 夏季高温多雨

(2024·湖南益阳·中考真题) 为了防止新冠肺炎疫情蔓延扩散，欧洲西部某些国家采取了“让民众保持社交距离”、“关闭边境”等措施。据此完成下面小题。

30. 欧洲西部受此影响最大的产业是 ()

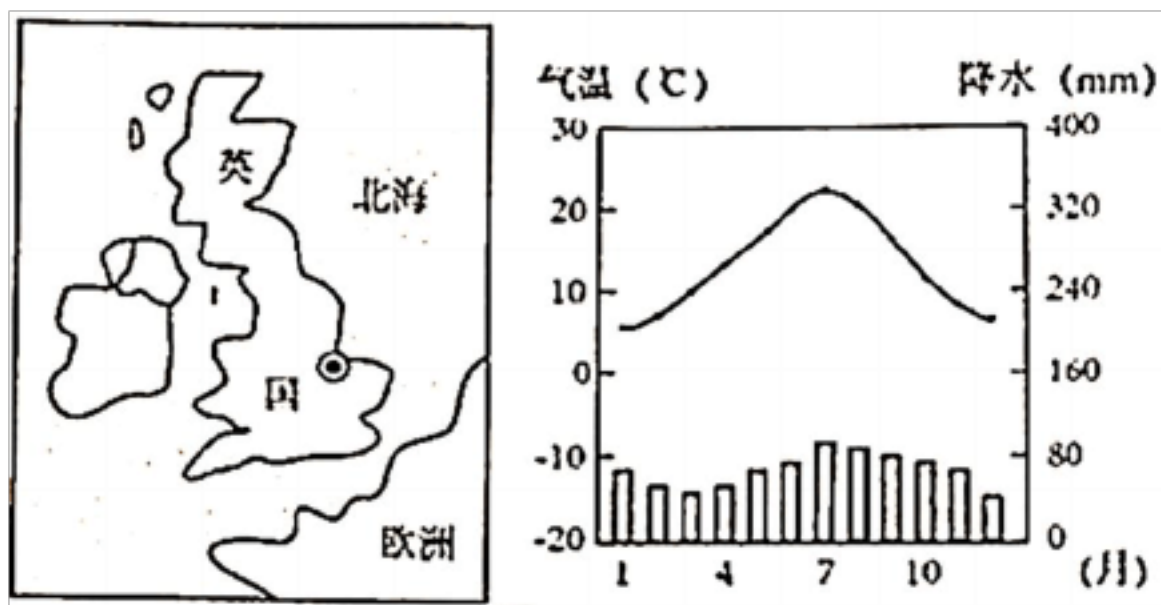
- A. 机械制造业 B. 畜牧业 C. 旅游业 D. 海洋捕捞业

31. 欧洲西部的居民餐桌上常见牛排、羊腿、奶油、奶酪等食品，这是因为 ()

- A. 工业发达，人们的收入高，可以用钱大量购买乳畜产品

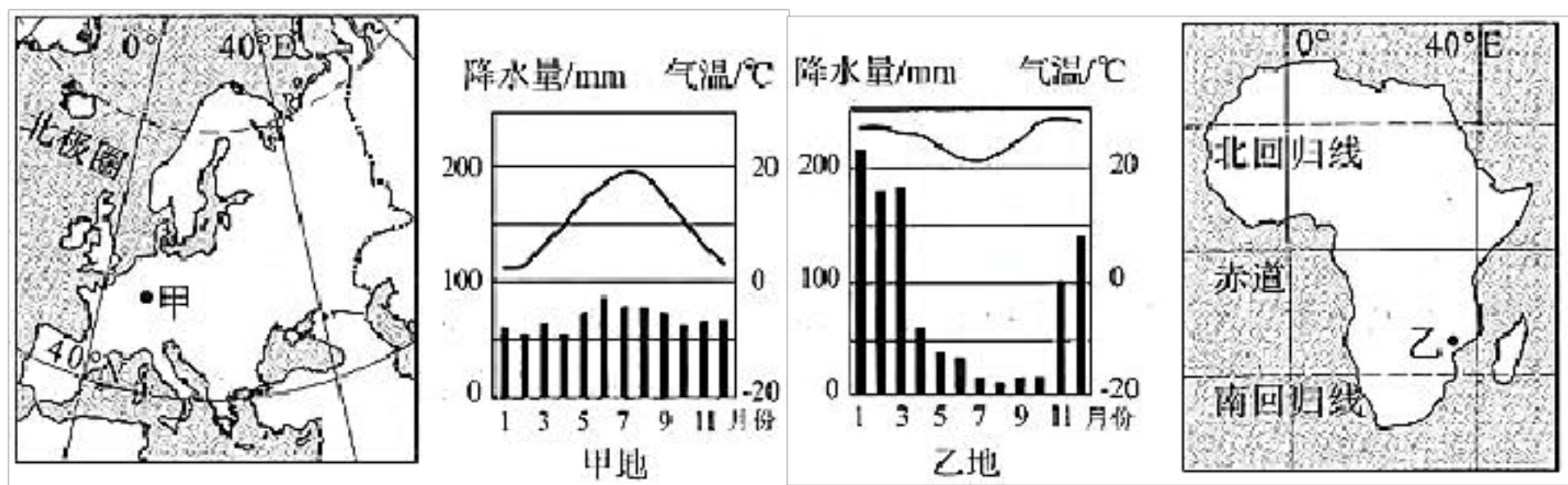
- B. 气候寒冷，乳畜产品脂肪含量高，可以增加热量来御寒
- C. 种植业不发达，粮食产量低，用畜产品来补充食物的不足
- D. 地理位置和气候适宜，地形以平原为主，草场广布，畜牧业发达

(2024·湖南邵阳·中考真题) 2024年1月31日23时，英国正式脱离欧盟。下图为英国位置图和伦敦气候资料图。读图，完成下面小题。



32. 下列有关英国伦敦气候的叙述，正确的是 ()
- A. 夏季高温多雨，冬季温和湿润
 - B. 夏季炎热干燥，冬季温和多雨
 - C. 终年温和湿润，适合畜牧业发展
 - D. 终年高温多雨，适合种植业发展
33. 下列有关英国的叙述，正确的是 ()
- A. 脱欧后，不再是欧洲国家
 - B. 太平洋中的岛国
 - C. 脱欧后，断绝了与欧盟的联系
 - D. 发达国家

(2024·河南·中考真题) 下图为欧洲和非洲简图及甲、乙两地气温曲线和降水量柱状图。读下图,完成下面小题。



34. 与欧洲相比,非洲 ()
- A. 寒带范围广
 - B. 温带范围广
 - C. 热带范围广
 - D. 海岸线曲折

35. ,甲地 ()

- A. 1月气温高 B. 1月降水量大 C. 降水季节变化大 D. 降水季节变化小

(2024·山东德州·中考真题)



36. 多数欧洲人爱吃牛肉、喝牛奶，餐桌上常见牛排、奶油、奶酪，这与当地发达的畜牧业有着密切的关系。以下因果关系排列正确的是 ()

- ①多汁牧草生长旺盛、草场广布
- ②地处中纬度大陆西岸
- ③畜牧业发达
- ④气候温凉、潮湿、多雨多雾、日照少

- A. ②①③④ B. ②④①③ C. ④①②③ D. ③②④①

37. 关于该地区的叙述正确的是 ()

- A. ①地是温带海洋性气候，适宜葡萄种植
- B. 地形以平原、山地为主，②是阿尔卑斯山脉
- C. 夏季可以到③意大利享受日光浴
- D. 在④法国可以去比萨看斜塔，参观凯旋门

(2024·四川南充·中考真题) 下图为欧洲西部地形图和部分城市气候类型图，读图完成下面小题。

以上内容仅为本文档的试下载部分，为可阅读页数的一半内容。如要下载或阅读全文，请访问：<https://d.book118.com/365232332043012010>