

小学三年级数学应用题 50 道

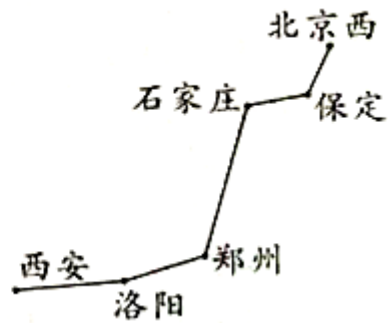
一. 解答题(共 50 题, 共 324 分)

1. 你知道强强家明天什么时候吃午饭吗?



2. 下面是北京西站至各大火车站的里程表。

	里程(千米)
北京西—保定	146
北京西—石家庄	281
北京西—郑州	689
北京西—洛阳	813
北京西—西安	1200



(1) 石家庄到郑州有多少千米?

(2) 郑州到洛阳比洛阳到西安近多少千米?






估一估: 我有 650 元钱, 够买这两样玩具吗?

4. 三年级各班向希望工程捐款情况如表所示。

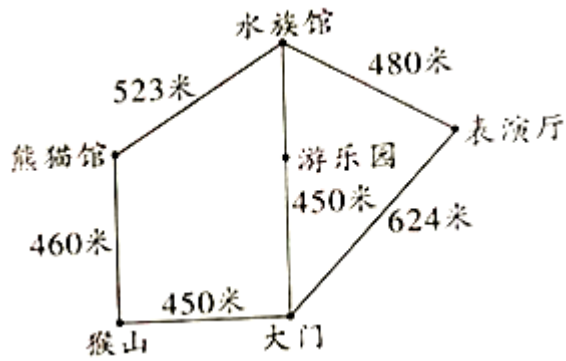
班级	金额/元
一班	203
二班	195
三班	238

- (1) 一班和二班一共捐款多少元？
- (2) 二班再捐多少元就和三班捐的同样多？
- (3) 三个班捐款的总数大约是多少元？

5.  风扇 388 元  空调 960 元  收音机 198 元

- (1) 买一台收音机和一台风扇一共用去多少元？
- (2) 买一台风扇比一台空调便宜多少元？

6. 看图回答问题。



- (1) 小明从大门出发到熊猫馆要走多少米？
- (2) 从大门出发，经过表演厅到水族馆要走多少米？
- (3) 你能提出其他数学问题并解答吗？

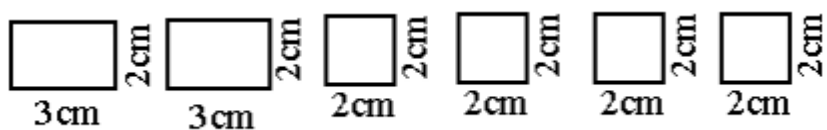
7. 下面是大家超市的一张记录单。请帮超市阿姨算一算。5月4日晚上盘点时还有多少千克苹果？

	5月3日	5月4日
运进苹果	360 千克	400 千克
卖出苹果	290 千克	350 千克

8. 妈妈计划在商场给自己买一条裙子，给儿子买一件上衣。500 元够买下面哪两件？大约能找回多少元？（写出一种情况）




9. 下面 6 张纸片能组成一个长方体吗？



(1) 先想一想，再剪出相同大小的纸片试一试。

(2) 能将这个长方体的草图画在下面吗？



10. 比高矮。



衣柜



书桌高为 85 厘米



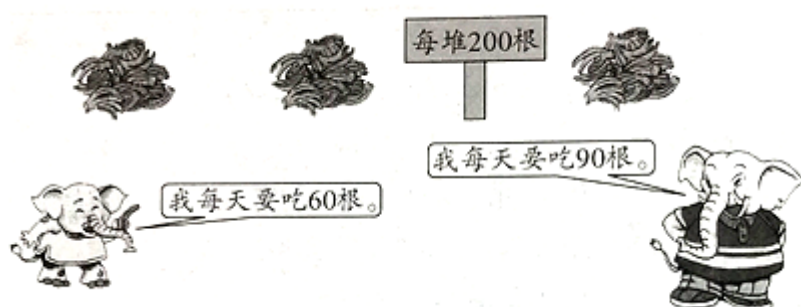
小红

我的身高比书桌高 58 厘米，比衣柜矮 95 厘米。

(1) 小红的身高是多少厘米？

(2) 你还能自己提出问题并解决吗？

11. 吃香蕉。



(1) 3头小象吃一堆香蕉，够一天吃吗？

(2) 1头大象一个星期要吃多少根香蕉？

12. 下面是实验小学去年物品的使用情况。

	扫帚	粉笔
上半年	364 把	483 盒
下半年	326 把	406 盒

(1) 去年用了多少盒粉笔？

(2) 去年上半年比下半年多用了多少把扫帚？

13. 用两辆载质量 2 吨的货车运走下面这些水果。怎样装车能一次运走？

梨：500 千克

菠萝：700 千克

葡萄：800 千克

苹果：1000 千克

桃：700 千克

14. 阿瓦山寨餐厅买这些芹菜一共花了多少元钱？

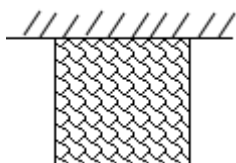


80 千克



4 元/千克

15. 如图所示，李大伯有一块正方形菜地，菜地有一面靠墙，用 24 米长的篱笆正好将菜地围起来，菜地的边长是多少？



16. 看图回答。



9元



6元



15元



7元



5元



?元

(1) 买 1 副手套和 1 双袜子，一共需要多少元？

(2) 1 副手套的价钱是 1 根跳绳的几倍？

(3) 1 个篮球的价钱是 1 双袜子的 5 倍，买 1 个篮球和 1 顶帽子一共花多少元？

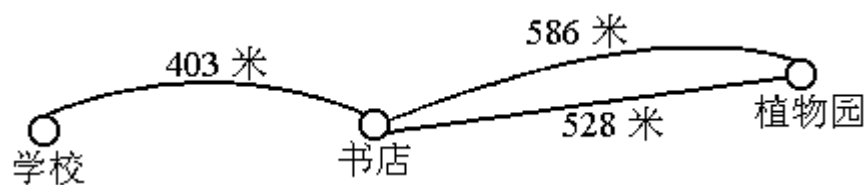
(4) 用 20 元买 3 个网球拍，够吗？



(1) 买这些东西准备 900 元钱够吗？

(2) 买这些东西应付给售货员多少钱？

18. 从学校到植物园有几条路可走？每条路大约走多少米？



19. 下午来参观的学生有多少人？一天来参观的学生有多少人？



20. 看图回答



(1) 一辆自行车多少元?

(2) 一辆摩托车和一辆自行车一共要多少元?

21. 下面是文化小学冬游时间安排表。

时间	活动项目
8: 30	全体同学到校集合
8: 30-9: 00	乘车到郊野公园
9: 00-10: 10	登山比赛
10: 10-10: 40	休息
10: 40-11: 50	小队游戏
11: 50-12: 30	午饭时间
12: 30-下午1: 40	各小队自由活动
下午1: 40-下午2: 00	各班总结冬游活动
下午2: 00-下午2: 30	乘车返回学校

(1) 从学校乘车到郊野公园用了多长时间?

(2) 登山比赛用了多长时间?

(3) 同学们在郊野公园待了多长时间?

22. 买车。

三轮童车



128元

两轮童车



377元

自行车



等于前两车的总价

(1) 一辆自行车要多少元?

(2) 两轮童车比三轮童车贵多少元?

23. 列火车从青岛开往北京, 平均每小时行 105 千米。

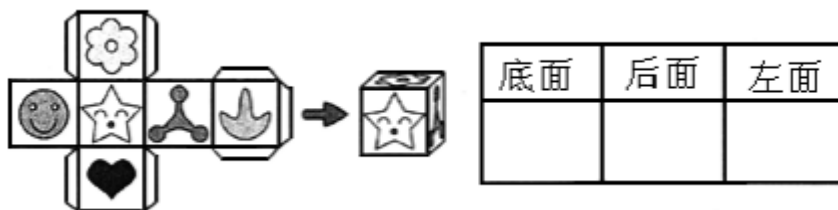
站名	青岛——济南	济南——天津	天津——北京
路程	393 千米	360 千米	137 千米

(1) 火车行驶 7 小时能到达天津吗?

(2) 火车行驶 9 小时能到达北京吗?

24. 根据要求画图.

小巧把左边的图剪下来, 折成右边的盒子, 请你根据右边的盒子, 画出表格中的图.



25. 某小学准备组织四年级师生去北京天文馆天象厅观看影片, 各班师生人数如表:

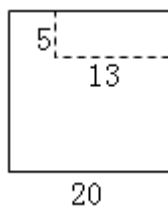
班级	四 (1)	四 (2)	四 (3)	四 (4)	四 (5)	四 (6)	四 (7)	四 (8)	四 (9)
师生 / 人	42	43	44	42	40	41	44	42	41

天象厅能容纳 400 名观众同时观看影片，请你估一估：这九个班的师生能同时观看吗？

26. 30 头牛一天吃草 420 千克，照这样计算，一星期吃草多少千克？



27. 在一张边长为 20 厘米的正方形纸的一角剪去一个长为 13 厘米，宽为 5 厘米的长方形，剩下纸的周长是多少厘米？



28. 解答题。

以上内容仅为本文档的试下载部分，为可阅读页数的一半内容。如要下载或阅读全文，请访问：

<https://d.book118.com/366231010203010144>