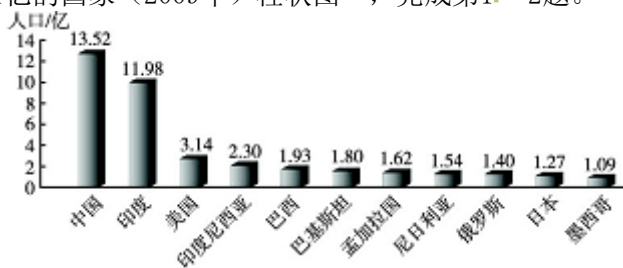


七年级上册地理第五章试卷及答案人教版

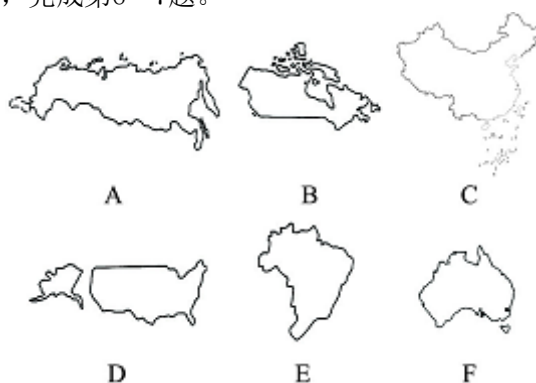
一、选择题（每题3分，共45分）

读“人口超过1亿的国家（2009年）柱状图”，完成第1~2题。



- 图中国家属于欧洲国家和南美洲国家的分别是（ ）。
 - 俄罗斯、巴西
 - 俄罗斯、美国
 - 印度、美国
 - 中国、巴西
- 图中国家属于世界最大的发达国家和发展中国家的是（ ）。
 - 俄罗斯、巴西
 - 俄罗斯、美国
 - 美国、中国
 - 中国、巴西
- 国际之间因国界或领土问题发生纠纷时，你认为应采取的解决办法是（ ）。
 - 战争武力
 - 恐怖活动
 - 强权政策
 - 和平协商
- 下列有关发达国家和发展中国家经济状况的叙述，不可信的是（ ）。
 - 发达国家经济发达，市场繁荣，生活条件比较好
 - 低收入的发展中国家生产落后，生活条件比较差
 - 发达国家利用所掌握的高新技术，买进廉价原材料，出口高科技产品，获取高额利润
 - 发展中国家经济相对落后的最重要原因是资源短缺
- 下列哪种看法更有利于国家发展？（ ）
 - 应该只与发达国家合作，与发展中国家合作不利于本国发展
 - 我国地大物博，人口众多，不必参与国际合作
 - 积极参与国际合作不利于本国发展，甚至会减慢我国发展速度
 - 通过国际合作，既可以促进本国发展，又能为世界发展作出贡献

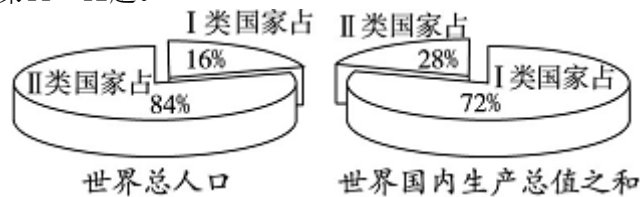
读“国家轮廓图”，完成第6~7题。



- 以上国家中，地跨两洲的是（ ）。
 - B、C两国
 - A、D两国
 - D、E、F三国
 - A、B、E三国
- 对上述国家表述正确的是（ ）。
 - A、B、F三国语言都是英语，人口都过一亿，都是以信仰基督教为主
 - A、B两国分布在西半球，其他国家分布在东半球
 - C、E两国近些年虽然发展很快，但仍属于发展中国家
 - A、B、E三国地处热带，气候湿热，森林覆盖率高

8. 下列国家中, 均是发达国家的是 ()。
- A. 中国 韩国 新加坡 B. 美国 日本
C. 美国 印度 泰国 D. 印度 日本 巴西
9. 发展中国家之间的相互合作称为 ()。
- A. “南南合作” B. “南北对话”
C. “南北差距” D. “南北合作”
10. 关于中国和美国经济的说法, 错误的是 ()。
- A. 美国是世界上最大的发达国家
B. 中国是世界上最大的发展中国家
C. 美国经济发展和世界其他国家无关
D. 中国几年来经济发展很快

读下图, 完成第11~12题。

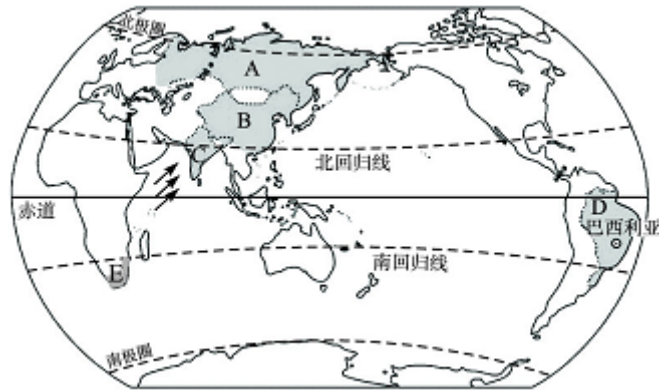


11. 读两类国家人口与国内生产总值比较图, 下列四个国家中属于 I 类国家的是 ()。
- A. 中国 B. 澳大利亚
C. 印度 D. 尼日利亚
12. 国际上把 I 类国家与 II 类国家之间的经济差别称之为 ()。
- A. “南北之差” B. “南北对话”
C. “南南合作” D. “南北合作”
13. 在我国与欧美等发达国家的经济合作中, 我国不需要引进的是 ()。
- A. 资金 B. 先进技术
C. 管理经验 D. 劳动力
14. 当今世界, 从根本上影响国际社会安定和人民和平生活的因素是 ()。
- A. 各国不同的社会制度
B. 发展中国家与发达国家日益扩大的贫富差距
C. 日益紧缺的资源
D. 不断恶化的自然环境和社会环境
15. 波音飞机的零部件分别在70多个国家生产, 全世界天空上的飞机, 其中3000多架波音飞机的机尾是中国工人生产的, 这说明 ()。
- A. 世界经济走向全球化
B. 中国工厂沦为跨国公司的附庸
C. 中国生产精密仪器的水平已居世界领先水平
D. 中国的工业发展还很落后

二、综合题 (共55分)

16. (22分) 读相关材料和地图, 完成下列问题。

材料: 近年来, 中国、印度、俄罗斯、巴西、南非五国经济发展迅速, 被称为“金砖国家”(图中字母所示)。2013年3月27日“金砖国家”领导人第五次会晤在南非德班举行。

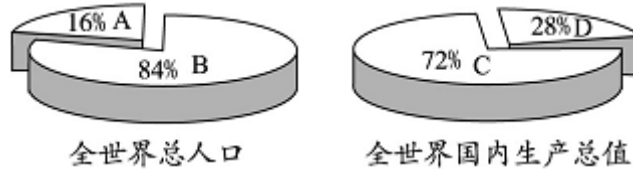


- (1) “金砖国家”之间的互助合作被称为“_____”（南北对话或南南合作）。
- (2) A国是_____，该国的首都是_____；C国位于_____半岛，该国形成典型的气候。
- (3) “金砖国家”中领土全部位于南半球的是_____；有极昼极夜现象的是_____；既跨两大洲，又跨东西两半球的国家是_____。（均填字母代号）
- (4) D国境内分布着世界最大的_____平原。
17. (13分) 读下图，完成下列问题。

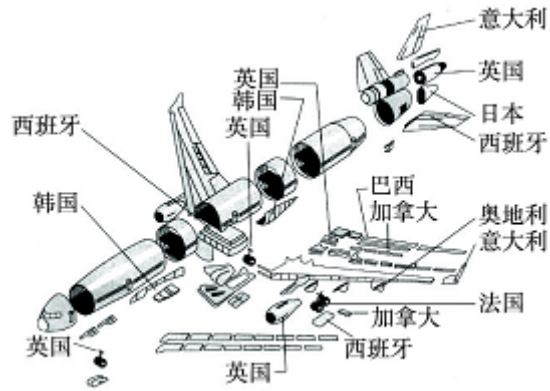


- (1) 图中领土面积、人口总数都居世界前三位的国家是_____。（填序号）
- (2) 图中属于发达国家，又位于南半球的是_____，它与中国有关政治、经济等方面的商谈叫“_____”。
- (3) 图中六个国家中，人口超过1亿的有_____，属于西半球发达国家的是_____。
- (4) 下列哪组国家之间的互助合作，称为“南南合作”？（ ）
- A. ①⑥ B. ①⑤ C. ⑤⑥ D. ③④

18. (12分) 读图，完成下列问题。



- (1) 图中代表发达国家人口总数的是_____（填字母）。
- (2) 图中代表发达国家国内生产总值的是_____（填字母），发达国家的国内生产总值约占全球的_____%左右。
- (3) 发达国家主要分布在_____洲、_____洲和大洋洲。
- (4) “南北对话”指_____和_____间关于政治、经济方面的商谈。
19. (8分) 读下图，完成下列问题。



(1) 这种飞机的生产与哪些国家有密切的生产关系? _____

—° (2) 这种生产方式的好处是什么? _____

° (3) 图中所表达信息对我国有什么借鉴意义? _____

—° _____

参考答案

1. A 2. C

解析：第1题，在人口超过1亿的国家中，俄罗斯属于欧洲国家，巴西属于南美洲的国家。第2题，最大的发达国家是美国，最大的发展中国家是中国。

3. D

解析：和平与发展是当今世界的主题，任何反对和平的言论和行为都是不可取的。

4. D

解析：发展中国家经济落后的原因很多，其中最重要的是长期遭受帝国主义的殖民侵略和剥削。

5. D 解析：国际合作是现在国家发展的必经之路。

6. B 7. C

解析：第6题，图中A俄罗斯地跨亚、欧两洲；D美国地跨亚洲和大洋洲。第7题，A国俄罗斯使用俄语，位于东半球，处于寒带和亚寒带地区。

8. B

9. A

10. C 解析：任何国家都不可能独立存在于世界上，都与其他国家发生联系。

11. B 12. A

解析：第11题，从图中的 I 类国家的生产总值能够看出，它属于发达国家。第12题，I 类国家属于发达国家，II 类国家属于发展中国家，它们之间的差距为南北之差。

13. D

解析：我国人口众多，劳动力资源十分丰富，不需要从国外引进。我国是一个发展中国家，发展中国家一般缺少发展经济的资金、先进的技术和管理经验，我国同样也面临这样的问题。

14. B

解析：发达国家与发展中国家在国际竞争中所处的地位不同，经济发展差距大，从根本上影响着国际社会的安定和人民的和平生活。

15. A

解析：本题以经济全球化过程中跨国公司进行经济合作的典型例证，说明了21世纪的世界，是经济走向全球化的世界。所以A项正确。改革开放以来，我国经济建设取得了巨大成就，但是我国人口众多，人均国民生产总值较低，工业和科学技术与发达国家相比，还有较大的差距，目前我国仍然是一个发展中国家，发展仍然是我国第一位的。因此我国要积极融入经济全球化的过程当中，加强与世界各国各地区的联系，在世界中求得更好的发展。所以B、C、D三个选项都不符合题意。

16. 答案：（1）南南合作

（2）俄罗斯 莫斯科 印度 热带季风

（3）E A A

（4）亚马孙

解析：发展中国家主要分布在南半球和北半球的南部，所以发展中国家之间的合作，我们称为“南南合作”。图中A、B、C、D分别代表俄罗斯、中国、印度、巴西，俄罗斯的首都是莫斯科，印度位于印度半岛，为热带季风气候；五国中，巴西大部分位于南半球，南非全部位于南半球，北极圈穿过俄罗斯，所以俄罗斯有极昼极夜现象，俄罗斯既跨两大洲，又跨东西两半球。巴西境内分布着世界上面积最大的平原——亚马孙平原。

17. 答案：（1）①

（2）⑥ 南北对话

（3）①②④⑤ ③④

（4）B

解析：图中①是中国，②是俄罗斯，③是加拿大，④是美国，⑤是巴西，⑥是澳大利亚。中国面积居世界第三位，人口居世界第一位。澳大利亚属于发达国家，又位于南半球；中国属于发展中国家，所以中国与澳大利亚之间有关政治、经济等方面的商谈叫“

南北对话”。六国中人口超过1亿的有俄罗斯、中国、美国、巴西，美国和加拿大位于西半球又属于发达国家。中国与巴西都属于发展中国家，它们之间的合作，称为“南南合作”。

18. 答案：（1）A
（2）C 72
（3）欧 北美
（4）发展中国家 发达国家

解析：世界各国的经济发展状况存在着明显差异。第（1）题，图中代表发达国家人口总数的是A，即占全世界人口总数的16%左右。第（2）题，图中代表发达国家国内生产总值的是C，发达国家的国内生产总值约占全世界的72%左右。第（3）题，发达国家主要分布在欧洲、北美洲和大洋洲。第（4）题，根据发展中国家与发达国家的半球位置，其关于政治、经济方面的商谈称为“南北对话”。

19. 答案：（1）与英国、意大利、日本、韩国、加拿大等国家有密切的生产关系
（2）分工协作，提高生产效率

（3）我国要积极融入经济全球化的过程中，加强与世界各国、各地区的经济合作，引进资金和先进的技术、管理经验，努力开拓国际市场，坚持对外开放，重视技术创新。

解析：第（1）题，从图中可以看出，这种飞机的生产与英国、意大利、日本、韩国、加拿大等国家有密切的生产关系。第（2）题，这种生产方式的好处是能够分工协作、提高生产效率、降低成本、提高产品的利润。第（3）题，当前国际经济发展的新形势是国家之间各成体系、相对封闭的经济格局日益被打破，资源、技术、人才、信息等逐渐成为全球共同财富，各国、各地区的经济联系越来越密切。产品生产的分工协作越来越显著，在此基础上产生了大量的跨国公司和地区性、全球性的经济贸易组织，使各国的经济相互依赖，相互融合，朝着经济全球化的方向发展。因此我国要积极融入经济全球化的过程中，加强与世界各国、各地区的经济合作，引进资金和先进的技术、管理经验，努力开拓国际市场，坚持对外开放，重视技术创新。

一. 选择题（40分）

1. 世界上国土面积最大的国家是（ ）
A. 中国 B. 美国 C. 加拿大 D. 俄罗斯
2. 世界上发达国家有20多个，主要分布在（ ）
A. 欧洲、南美洲、北美洲 B. 欧洲、北美洲、大洋洲
C. 欧洲、大洋洲、亚洲 D. 欧洲、亚洲、拉丁美洲
3. 下列说法正确的是（ ）
A. 国界是地图上两国与另一国或公海之间的分界线
B. 领土是国界范围内的领陆、领水和领空
C. 一些目前还没有政府的殖民地和属地，叫做“地区”
D. 人均国内生产总值在10 000美元以上的国家，被称为发达国家
4. 世界上到目前为止还没有国家的大洲是（ ）
A. 亚洲 B. 大洋洲 C. 南极洲 D. 北美洲
5. 在国际上，习惯把发展中国家之间的合作称为（ ）
A. 第一世界与第三世界的合作 B. “南北合作”
C. “南北对话” D. “南南合作”
6. 下列属于南半球陆地面积最大的国家是（ ）
A. 澳大利亚 B. 阿根廷 C. 巴西 D. 南非
7. 下列地跨欧亚两洲的国家是（ ）
①埃及 ②俄罗斯 ③加拿大 ④土耳其
A. ①③ B. ②③ C. ①④ D. ②④

读图5-1“不同的国界图”，完成6—7题。

国家	所跨的大洲	首都
埃及		
土耳其		
俄罗斯		

22、将下列世界重要的国际组织与其总部所在地用线连接起来：

- | | |
|----------|---------|
| A、世界贸易组织 | ①日内瓦 |
| B、东盟 | ②亚的斯亚贝巴 |
| C、非盟 | ③开罗 |
| D、欧盟 | ④维也纳 |
| E、东盟 | ⑤洛桑 |
| F、欧佩克 | ⑥布鲁塞尔 |
| G、国际奥委会 | ⑦雅加达 |

23. 读“福特汽车生产网络图”和两则新闻，分析完成下列问题。

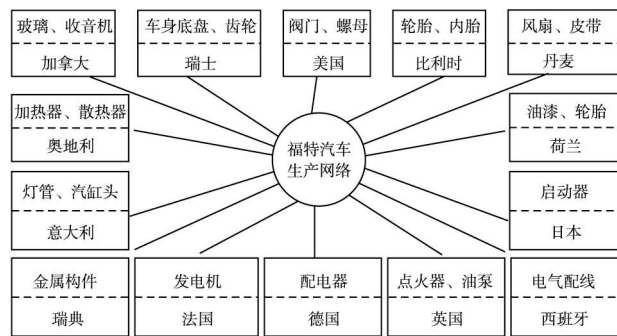


图5-4

新闻一：福特公司加强在华采购——

为降低成本，福特准备在2003年从中国采购总额约10亿美元的汽车零部件。

新闻二：英国将成为福特发动机转产地——

福特（欧洲）柴油发动机业务负责人表示，到2004年，福特全球销量中约1/4的车将安装英国生产的发动机。

- (1) 美国福特汽车公司在全球选择合作伙伴，这说明了什么？
- (2) 美国福特汽车公司的这种生产方式的好处是什么？

答案：

1. D 2. B 3. B 4. c 5. D 6. C 7. D 8. B 9. D 10. D 11. D 12. A 13. A 14. D 15. C 16. C

17. B 18. D 19. D 20. C

二. 综合题60分

21.

国家	所跨的大洲	首都
埃及	亚洲和非洲	开罗
土耳其	亚洲和欧洲	安卡拉
俄罗斯	亚洲和欧洲	莫斯科

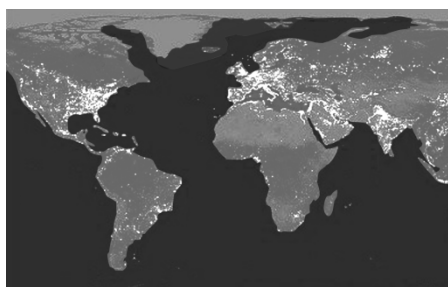
22 略

23. (1) 当今经济的全球化趋势。大公司为了降低生产成本，在全球采购生产资料。

(2) 能够最大限度地降低生产成本，提高企业的竞争力。

一、选择题

1. 读以大西洋为中心的世界部分地区灯光夜景图，图中灯光的亮暗差异，可以直观反映出 ()



- A. 国家大小的差异 B. 人种类型的差异
C. 社会制度的差异 D. 发展水平的差异
2. 下列大洲中经济发展水平最高和最低的一组是 () .
- A. 亚洲 欧洲 B. 非洲 北美洲
C. 南美洲 欧洲 D. 欧洲 非洲
3. 比较下面两幅图，反映了这两个国家在哪个方面的差异？ ()



- A. 生活水平 B. 医疗水平
C. 教育水平 D. 经济发展水平
4. 读东、西半球海陆分布示意图，发达国家数目最多的大洲的代号是 ()
- A. a B. e
C. f D. g
5. 发达国家与发展中国家的划分依据是 ()
- ①领土面积的大小 ②人口的多少 ③政治体制的不同 ④发展水平的高低
- A. ① B. ②
C. ③ D. ④

2014年，美国的人均国民生产总值是53101美元，而中国仅为6747美元。发达国家主要生产计算机、高级轿车等科技含量高的产品，据此回答6~7题。

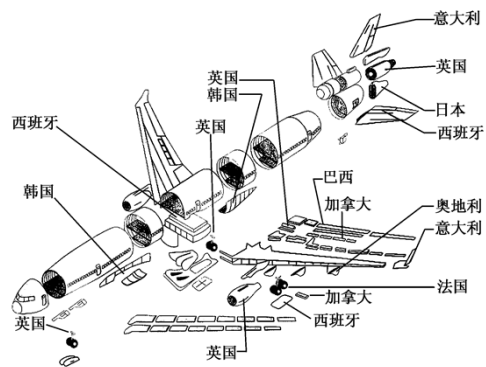
6. 从以上材料可以看出，发达国家和发展中国家最大的差异在于 ()

- C. 发达国家依赖发展中国家的技术
- D. 不同发展水平的国家都需要国际合作

读图，回答14~15题。

14. 图示飞机的生产过程所表示的基本含义是（ ）

- A. 国际合作和经济全球化
- B. 国际商业竞争越来越激烈
- C. 国家间的和平共处
- D. 国家间的经济发展独成一体



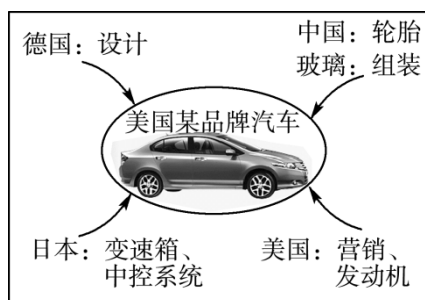
15. 从图中可以看出，飞机零部件的生产国（ ）

- A. 绝大多数是发达国家
- B. 绝大多数是发展中国家
- C. 都是发达国家
- D. 都是发展中国家

16. 和平与发展是当今世界两大主题，加强国际合作显得尤为重要，这是因为（ ）

- A. 发达国家要从发展中国家购买全部原料，并出售全部产品
- B. 发展中国家要从发达国家引进全部资金、设备、技术及管理经验
- C. 如果离开了某一大国，其他国家就无法生存
- D. 任何国家都不是孤立存在的，总与其他国家发生不同程度的联系

17. 下图是与美国某品牌汽车生产相关联的部分企业。这说明了当今国际经济关系是（ ）



- A. 国际商业竞争日趋激烈
- B. 各个国家经济发展自成一统
- C. 国际经济合作不断加强
- D. 国际经济合作不断削弱

18. 亚投行正式成立；中国—

东盟博览会在广西南宁举行；二十国集团峰会在浙江杭州举行；亚太经合组织(APEC)第二十四次领导人非正式会议在秘鲁首都利马举行，21个APEC经济体领导人出席会议。以上事件说明（ ）

- A. 各国间竞争激烈
- B. 各国间交流、合作不断加强
- C. 各国矛盾和冲突不断
- D. 各国经济已经实现了高度一体化

19. 美国苹果手机设计和操作软件来自美国总部，芯片来自韩国，产品组装在中国完成，然后销往国际市场。中国在组装中仅获取产品价值的7%。苹果手机产销过程说明了（ ）

- A. 美国缺少组装生产的技术
- B. 中国占据国际市场有利地位
- C. 各国经济互相依赖，相互融合
- D. 国家与国家之间经济依然封闭

20. 目前在许多国家都可以买到我国的商品，对这种现象最好的解释是（ ）

- A. 我国已经成为发达国家
- B. 这是全球经济一体化的体现
- C. 南南合作更有成效
- D. 南北对话更有成效

二、综合题

21. 阅读图文资料，回答以下问题。

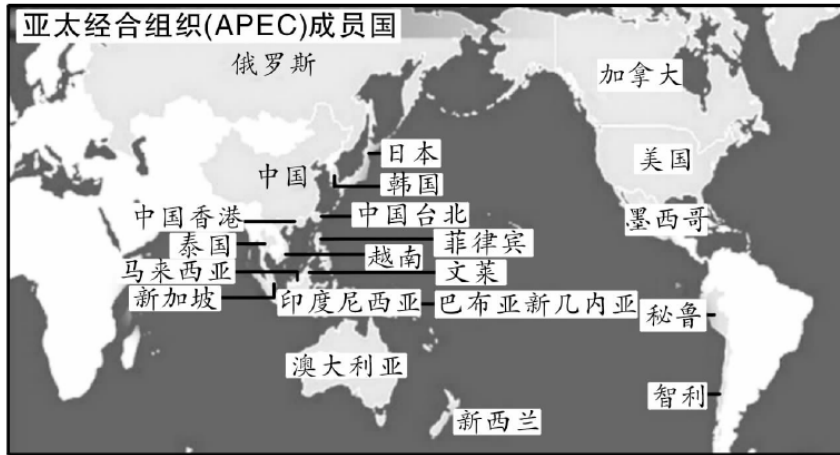
材料一

2014年11月5日至11月11日，APEC峰会在北京举行，其中领导人峰会于10日至11日在雁栖湖举行国家主席习近平主持了峰会。

材料二

APEC现有21个成员，分别是澳大利亚、文莱、加拿大、智利、中国、中国香港、印度尼西亚、日本、韩国、马来西亚、墨西哥、新西兰、巴布亚新几内亚、秘鲁、菲律宾、俄罗斯、新加坡、中国台北、泰国、美国、越南。

材料三 APEC成员国分布图



(1)

APEC成员国中，属于亚洲的发达国家是_____，属于北美洲的发达国家是_____和_____，属于大洋洲的发达国家是_____和_____，其他国家基本上属于发展中国家。

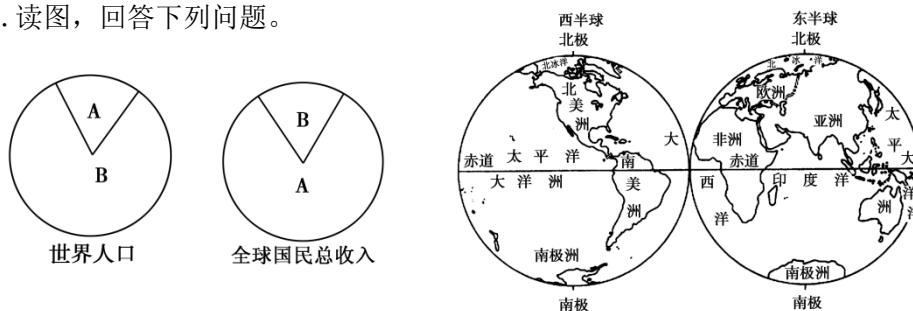
(2) APEC成员国差异很大，根据_____的差异，大致可以分为发达国家和发展中国家。

(3) 很多发展中国家出口农、矿等，以及普通工业产品，价格往往比较低。发达国家购买原料，制造价值高、含量高的产品，赚到的钱多。

(4) 据测算，每台苹果手机价值贡献中，美、日、韩分别凭设计和技术获得49.4%，34%和13%的利润分成，组织生产的中国不到4%。这说明（ ）

- A. 中国不应参与全球化生产
- B. 国际合作对发展中国家有害
- C. 国际经济合作是不平等的
- D. 发达国家不需要经济合作

22. 读图，回答下列问题。



以上内容仅为本文档的试下载部分，为可阅读页数的一半内容。
。如要下载或阅读全文，请访问：<https://d.book118.com/385310330343011233>