

2022 年河南省南阳市普通高校高职单招职业技能自考模拟考试(含答案)

学校:_____ 班级:_____ 姓名:_____ 考号:_____

一、单选题(20 题)

1.警察抓了 4 名偷窃嫌疑人甲、乙、丙、丁，甲、乙、丙、丁四人相互认识，警察将四名嫌疑人分别进行审问，甲说：“是乙和丙其中一个干的。”乙说：“我和甲都没干。”丙说：“我和乙都没干。”丁说：“我没干。”已知四人中有两人说谎，且只有一人偷窃，下列两人不可能同时说谎的是（）

A.甲和乙 B.乙和丙 C.丙和丁 D.丁和甲

2.小刚在小学时是有名的淘气大王。进入中学后，班主任老师对他殷切的期望和鼓励，使他有了重塑自我的想法。他可以在中学生活中向大家展示的新形象是（）

A.包容他人，做事有韧劲 B.遇事有主见，刚愎自用 C.善于合作，依赖他人 D.做事有活力，以自我为中心

3.中国革命和建设的基本立足点是()。

A.艰苦奋斗 B.实事求是 C.独立自主 D.争取外援

4.Windows 操作系统通过()来判断文件是不是一个可执行文件。

A.文件的属性 B.文件的扩展名 C.文件名 D.文件名及其扩展名

5.下列做法中符合用电安全的是()。

- A.为使用方便，应将销售到农村地区的空调三脚插头改为两脚插头
- B.发生触电事故后，应先切断电源再救治
- C.为安全起见，保险丝应尽可能粗
- D.当电器发生起火事故时，应迅速泼水灭火

6.5, 15, 10, 215, ()

- A.415 B.-115 C.445 D.-112

7.甲驾驶校车在市内接送学生，严重超载，甲的行为应当定性为（）。

- A.不构成犯罪 B.以危险方法危害公共安全罪 C.危险驾驶罪 D.交通肇事罪

8.关于职业活动中的“忠诚”原则的说法，不正确的是()。

- A.无论我们在哪一个行业，从事怎样的工作，忠诚都是有具体规定的
- B.忠诚包括承担风险，包括从业者对其职责本身所拥有的一切责任
- C.忠诚意味着必须服从上级的命令
- D.忠诚是通过圆满完成自己的职责，来体现对最高经营责任人的忠诚

9.健身教练通过改变播放音乐的节奏控制健身者运动时的（）

- A.时间 B.动力 C.功率 D.距离

10.毛泽东同志在《中国革命战争的战略问题》中指出：在有强大敌军存在的条件下，无论自己有多少军队，一个时间内，主要的使用方向只应有一个，不应有两个。该论述体现了()。

A.集中资源原则 B.把握时机原则 C.量力而行原则 D.扬长避短原则

11.东晋以少胜多战胜前秦的一次战役是（）

A.城濮之战 B.官渡之战 C.淝水之战 D.赤壁之战

12.对以空气柱振动引发的空气动力性噪声的治理，一般采用的措施是（）。

A.安装隔声窗 B.安装隔声屏障 C.加装减震垫 D.安装消声器

13.在现实生活中，仍然存在很多不平等的现象。为此，我们应该（） ①平等对待他人的合法权利 ②敢于抵制不平等的行为 ③据理力争，必要时依法维权 ④忍气吞声，自认倒霉

A.①③④ B.①②④ C.①②③ D.②③④

14.19 世纪末 20 世纪初，资产阶级维新派认为中国要取得民族生存和国家独立，只有实行维新变法。下列不属于维新派代表人物的是（）。

A.康有为 B.梁启超 C.谭嗣同 D.张之洞

15.如果美元贬值，因此可能产生的后果是（）。

- A.以美元计价的大宗商品价格上涨
- B.世界新兴经济体将增加美元储备
- C.我国产品在美国市场竞争力上升
- D.我国经销商将减少进口美国产品

16.许多现代化武器采取了“隐身”技术，下列不属于“隐身”技术的是()。

- A.降低潜艇发动机噪音,采用喷水推进、电磁推进
- B.改进飞机的外形结构, 尽量减少或者消除雷达接收到的有用信号
- C.武器装备采用吸收雷达波的涂敷材料和结构材料
- D.释放多个假目标,增多雷达监视目标数量

17.下列说法不正确的是()

- A.PH=0 的溶液显中性
- B.参加化学反应各物质的质量总和一定等于反应后各物质的质量总和
- C.在原子中原子核内的质子数一定等于核外电子总数
- D.保持水的化学性质的最小微粒是水分子

18.某公园内，有的家长把孩子抱到雕塑上拍照，有的游客随手乱丢食品包装，有的游客则躺在长椅上。上述行为（） ①是对他人的不尊重 ②败坏了社会风气 ③是个人的合法权利 ④是缺乏社会公德意识的表现

A.②③④ B.①②④ C.①②③ D.①③④

19.下列不属于空气的特征的是 ()

A.有固定形状 B.没有颜色 C.没有味道

20.将以下 6 个句子重新排列,语序正确的是 () ①它发轫于明清之际,贯穿清朝一代,其发展历程颇具启示意义 ②因而,盛京文化兼有清文化源头及清留都文化的双重内容 ③最初它仅指沈阳城一地,随历史演进,而成盛京(奉天)地区、陪都地方,范围所及已囊括东北全境 ④“盛京文化”,指清代盛京地区以满族为主体的各族共创文化,是清文化的重要组成部分 ⑤所以盛京文化就狭义而言可指清朝奉天地区的辽宇文化,就广义言当指盛京五部侍郎及盛京将军曾统辖的整个东北地区的文化 ⑥清入关前的后金天聪八年(1634),当满族共同体形成之际,沈阳被尊称“天眷盛京”,遂有“盛京”之名

A.⑥④②①③⑤ B.⑥③⑤②①④ C.④①⑥③⑤② D.④①②③⑥⑤

二、多选题(20 题)

21.唐代出现了博大宏放的精神面貌,其产生的原因不包括 ()

A.国运鼎盛,政局安定 B.科举制度的开创 C.统治者的开明政策 D.吸取秦朝的教训

22.氢能汽车是新能源汽车产业的一个发展重点,它是指以氢为主要能量,利用氢燃料电池和电动机取代传统的引擎。其燃烧物是水和少量

氮氢化合物，对空气污染少。具有广阔的应用前景。目前，氢能汽车的技术日趋成熟，但还有()等问题有待进一步解决。

A.氢的安全性 B.氢的储和运寸 C.电池运行时产生的辐射 D.电池的经济性

23.中国书法源远流长，历代书法大家层出不穷，他们的书法艺术流传至今，为子孙后代留下了宝贵的文化遗产。下列关于历代书法大家的叙述错误的有（）。

A.王羲之，东汉杰出书法家，擅长各类书体，尤其是他的行书对后世影响极大

B.欧阳询，唐初书法家，楷书最为出色，独创“欧体”

C.颜真卿，唐代书法家，擅用篆书笔意写楷书，其所创“颜体”为后人习书之楷模

D.黄庭坚，南宋书法家，与苏轼、蔡襄、米芾并称为“宋四家”，擅行书和草书

24.如果父母的血型都是 A 型，子女不会出现的血型是()。

A.A 型 B.B 型 C.AB 型 D.O 型

25.云计算是一种新的信息服务形式，其关键在于网页所连接的后台服务器：分布于世界各地的成千上万台服务器被网络汇聚成了一片拥有巨大处理能力的“云”。云计算的优点是（）。

A.节能 B.灵活定制 C.安全 D.高效

26.下列说法正确的有()

A.果汁是纯净物

B.在铁的表面镀一层漆可以防止铁生锈

C.冬天用炉子取暖时，应关闭门窗以防止冷空气进入

D.“墙内开花墙外香”是分子不断运动的结果

27.下列生活常识说法正确的是（）。

A.水果可以解酒，是因为水果中含有有机酸

B.炒菜时不可把油烧得冒烟才放菜

C.吃油条可以抑制胃酸，是因为油条中含有氢氧化钠成分

D.袜子湿了以后不容易脱掉，是由于压力和水分子引力的共同作用

28.蹦极运动员从高处跳下，弹性绳被拉展前做自由落体运动，被拉展后在弹性绳的缓冲作用下，下落到一定高度后速度减为零。下列说法中错误的是()。

A.弹性绳拉展前运动员处于失重状态，弹性绳拉展后运动员处于超重状态

B.弹性绳拉展后运动员先处于失重状态，后处于超重状态

C.弹性绳拉展后运动员先处于超重状态，后处于失重状态

D.运动员一直处于失重状态

29.下列医学知识的说法正确的有()

A.医用酒精和工业酒精的主要成分相同, 都可用于伤口消毒

B.砒霜在中药里可以入药

C.放疗中要使用放射线进行照射

D.针灸中的“针”是指用各种不同形状的针具刺激人体的穴位

30.水能是指水的动能、势能和压力能与能量资源, 水能的优点有

()。

A.成本低 B.可连续再生 C.无污染 D.不受自然条件限制

31.被废弃不再使用的电器和电子产品, 比如废旧电脑、废旧手机, 俗称“电子垃圾”, 下列关于“电子垃圾”, 说法正确的是 ()。

A.电子垃圾可以进行化学处理

B.电子垃圾可以进行焚烧处理

C.电子垃圾不能填埋处理, 这样会污染环境

D.电子垃圾应该进行综合处理, 对有用的部分回收再利用

32.下列人物的表现属于意志坚强的有 ()

A.司马迁历时 27 年完成《史记》

- B.袁隆平长年累月在田间地头工作，成功研制了杂交水稻
- C.七年半的监禁并未使伽利略向神学屈服
- D.邓稼先面对一次次失败依然潜心于科学研究，做出卓越贡献

33.下列成语中，其典故涉及三国人物的有（）。

- A.三顾茅庐 B.吴下阿蒙 C.闻鸡起舞 D.乐不思蜀

34.下列属于人体免疫器官的有（）。

- A.骨髓 B.脾脏 C.淋巴结 D.肝脏

35.下列电池中能充电的是（）。

- A.镍镉电池 B.银锌电池 C.普通干电池 D.铅蓄电池

36.下列有关生活常识的表述中，正确的是（）。

- A.女性比男性更易患抑郁症
- B.水果榨汁喝会减少对水果中维生素 C 的摄取
- C.运动时脚扭伤肿了，应该进行热水敷应急处理
- D.打呵欠是一种深呼吸运动，它会让人比平常更多的吸进氧气和排出二氧化碳

37.下列属于我国世界遗产中的文化遗产的有()。

A.长城 B.江西三清山 C.苏州古典园林 D.呼麦

38.春秋战国时期的诸子百家中，流传较广、影响较大,最终发展成学派的有()。

A.阴阳家 B.名家 C.杂家 D.农家

39.皮影戏是用家畜皮刻制的人物影像，借助灯光投影屏幕表演的一种戏曲。下列有关其表述，正确的有()

A.发源于陕西 B.在中国大江南北都有分布 C.中国出现最早的戏曲剧种之一 D.影上色主要使用红、青、绿、黑色

40.降水根据其不同的物理特征可分为液态降水和固态降水。下列属于固态降水的有（）。

A.雷阵雨 B.雪 C.雹 D.毛毛雨

三、判断题(20 题)

41.在“精卫填海”的故事里，“精卫”是一只鸟。（）

42.味精的主要成分是谷氨酸钠。（）

43.达尔文的《物种起源》的中心观点是物竞天择，适者生存。（）

44.少数民族最多的省份是云南。（）

45.歌剧诞生于英国。（）

46.桑巴舞是古巴人民最喜欢的舞蹈。（）

47.蝙蝠晚上捉蚊子不靠眼睛，靠的是超声波。（）

48.世界上掌握大深度载人深潜技术的国家有美国、德国、俄罗斯、日本、中国。（）

49.防止酸雨的最基本途径减少人为硫氧化物和氮氧化物的排放量。
（）

50.新材料科学技术是高科技的基础，它的一个标志技术是半导体技术。（）

51.声音的高低由发声体的结构决定的。 ()

52.鱼没有心脏。 ()

53.人体最坚硬的部分是牙齿。 ()

54.保险丝的作用是减小电流。 ()

55.第一架望远镜是由眼镜师汉斯·李波尔发明的。 ()

56.举世闻名的泰姬陵在泰国。 ()

57.日本发动全面侵华战争的标志是“九一八”事变。 ()

58.紫禁城的设计者是明代的匠师：蒯祥 ()

59.联合国的五个常任理事国分别是：中国、美国、英国、印度、俄罗斯。 ()

60.世界上第一台计算机 ENIAC 是 1945 年研制成功。

四、主观论述题(20 题)

61.一位同学反映，目前学校里流行一些新奇的贺卡有的印有占星术、明星写真、成人笑话。有一种“鬼怪贺卡”打开后，会冷不防弹出一个露着白牙、伸着红舌头的绿色骷髅头。这些贺卡大多被班主任收缴了。他非常郁闷：“既然文化选择有多样性，老师为什么还反对我们使用这类贺卡?请你从文化的角度帮助这位同学解开心结

62.现在很多子女由爷爷、奶奶或姥姥、姥爷照顾，产生了“隔代教育”，你怎么看这种现象?

63.当今社会食品安全问题日益凸显。毒大米、地沟油等现象屡见不鲜。虽然国家也出台了一系列政策，但始终无法从根本上解决这些问题。你怎么看待这一现象?

64.你如何看待“择校热”现象?

65.清华、北大等高校实行自主招生，你如何看待这个问题？

66.某图书馆总有人占座，你作为图书馆管理人员，请你去协调这个事情你将如何做？

67.作为一名中学语文教师，我热爱我的工作；注意在学习中激发学生的学习兴趣，让他们主动参与到教学过程中来。但是，我真的感觉学生有的时候实在是太吵闹了,在讲课过程中,有的学生会在下面说话或插话进来;在自学或做练习时，有的同学会在那里窃窃私语或很自由地讨论问题;在课堂讨论的时候更是难以把握，学生会争论不休;在课间休息时更是乱作一团.....。问题:如果你是这位老师，对于课堂吵闹的现象，你的基本态度和常规做法是什么？

68.有志愿者在高速公路上拦截运狗车，你有什么看法？

69.“学高为师，身正为范”，对此你是怎样理解的？

70.假若你是校长，你们学校有部分优秀教师下班时候在家辅导学生，你对这种现象怎么看？你如何处理？

71.当前青少年犯罪呈上升趋势，在社会上引起了很大关注，你如何看待这一现象？

72.“学生自己管理自己”的观点你赞同吗？

73.一个医生给国王看病，看病的时候，国王问医生：“你给我看病，和给别人看病，有什么不一样吗？”医生说：“在我眼里，只有病人，没有国王”。请你就这个故事谈一谈自己的看法。

74.在我们身边，有些人热衷于过“洋节”，却对中华民族传统节日不热心。原因之一，是认为我国传统节日的吸引力不强。请就如何增强我国传统节日的吸引力，谈谈你的看法。

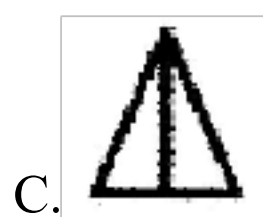

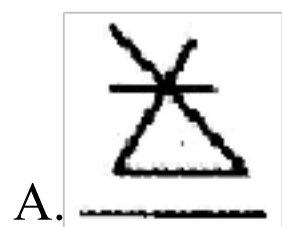
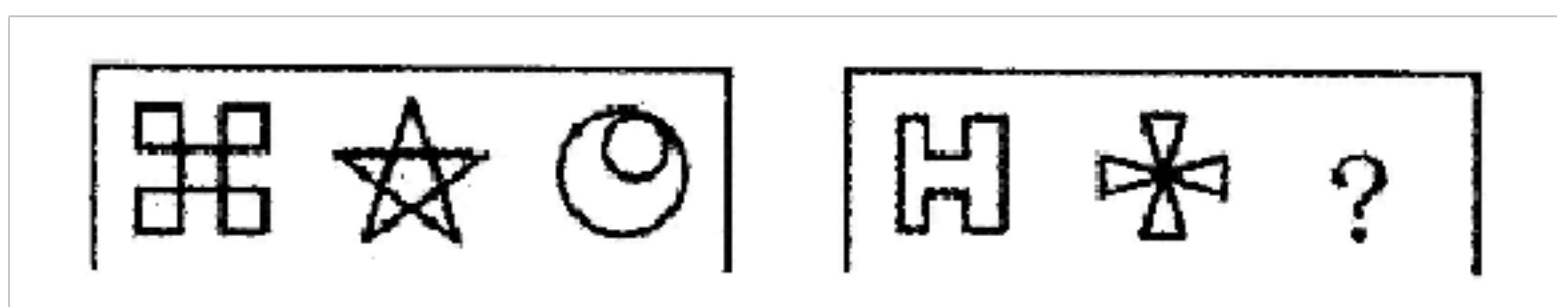
75.王老师是一位青年教师,工作热情非常高，他对学生要求十分严格，他经常要求学生不要讲脏话;不要乱扔废纸.....而这位教师讲课情急时，常常“笨猪”，“死脑子”不绝于耳。吸烟后,随手将烟蒂抛在课桌下面.....教育后的班级会怎样呢?虽然王老师没少用嘴皮子,没少用各种惩罚手段。但是班上说脏话、粗话连篇，纸屑杂物随处可见。王老师百

思不得其解。问题:请你帮助分析一下,王老师教育的班级为什么会产
生这样的后果做一名班主任应怎样教育学生才能有好的效果?

76.对于将酒驾司机放入银行信用黑名单,谈谈你的看法。

五、单选题(0 题)

77.请从所给的四个选项中,选择最合适的一个填入问号处,使之呈现
一定的规律性()



六、单选题(0 题)

78. 鱿鱼、鲫鱼、娃娃鱼、鳄鱼、章鱼、带鱼这些动物中，真正属于鱼类的有（）

A.1种 B.2种 C.3种 D.4种

参考答案

1.C 对于 A，若甲和乙同时说谎，甲说谎：则意思是甲或丁干的，乙说谎：则意思是甲或乙干的，丙：丙和乙都没干，是丁或甲干的，丁：甲或乙或丙干的，此时可能是甲干的；对于 B，若乙和丙同时说谎，甲：丙或乙干的，乙说谎：则意思是甲或乙干的，丙说谎：则意思是乙或丙干的，丁：甲或乙或丙干的，此时可能是乙干的；对于 C，若丙和丁同时说谎，甲丙或乙干的，乙丙或丁干的，丙说谎：则意思是乙或丙干的，丁说谎：则意思是丁干的，此时选不出是谁干的，所以丙和丁不可能同时说谎；对于 D，若丁和甲同时说谎，甲说谎：则意思是甲或丁干的，乙：丙或丁干的，丙：丙和乙都没干，是丁或甲干的，丁说谎：则意思是丁干的，此时可能是丁干的。故选：C

2.A 在集体生活中我们要包容他人，善于合作，做事有活力，遇事有主见，A 符合题意；B“刚愎自用”错误；C“依赖他人”会形成依赖性；D“以自我为中心”错误。故选：A

3.C

中共在抗日战争时期建立的国共合作抗日统一战线中多次强调独立自主、自力更生的原则。中国革命和建设的基本立足点就是独立自主、

自力更生。所以 C 项为最佳选择。B 项“实事求是”是毛泽东思想的精髓；A 项“艰苦奋斗”是我党的优良作风；D 项也不符合题意。故选：C

4.B

本题考查的是 Windows 操作系统中文件的基本概念。试题(7)正确答案是 B。因为在 Windows 操作系统中，文件名用来区分不同的文件，扩展名用来表明文件的类型。例如，扩展名为 EXE、COM、BAT 为可执行文件。

5.B

三脚插头顶脚与电器的金属外壳相连接地，作用是预防电器因绝缘损坏、老化或受潮后漏电伤人。当插头与插座的规格不对应时，不要人为改变插头。一定要采取更换插座的方法解决。A 项做法不符合。粗保险丝通过的电流大，在电流过大时不易及时熔断，起不到保护电路作用。C 项做法不符合。电器设备着火后，不能直接用水冲洗。因为水有导电性，进入带电设备后易触电，会降低设备绝缘性能，甚至引起设备爆炸，危及人身安全。D 项做法不符合。故选：B。

6.B

前一项的平方减后一项等于第三项， $5 \times 5 - 15 = 10$ ； $15 \times 15 - 10 = 215$ ； $10 \times 10 - 215 = -1150$ 故选：B

7.C

《刑法》第一百三十三条之一规定，在道路上驾驶机动车，有下列情形之一的，处拘役，并处罚金：（一）追逐竞驶，情节恶劣的；

（二）醉酒驾驶机动车的；（三）从事校车业务或者旅客运输，严重

超过额定乘员载客，或者严重超过规定时速行驶的；（四）违反危险化学品安全管理规定运输危险化学品，危及公共安全的。机动车所有人、管理人对前款第三项、第四项行为负有直接责任的，依照前款的规定处罚。有前两款行为，同时构成其他犯罪的，依照处罚较重的规定定罪处罚。故本题答案选 C。

8.C

忠诚意味着必须服从上级的命令，C 项不正确。故选：C

9.C 功率反映的是物体做功的快慢，等于功和时间的比值；健身教练通过改变音乐的节奏来控制健身者的运动量，从而改变健身者的做功快慢，即功率的大小。故选：C

10.A

军队“主要的使用方向只应有一个”，表示要把军队集中起来，也即“集中资源原则”。故选：A。

11.C

可以用排除法解决。城濮之战是春秋时期的吴越争霸的战役；官渡之战和赤壁之战都是东汉末年的战役；故可排除 ABD。淝水之战发生于 383 年，是前秦政权想南下消灭东晋时发生的一次战役。结果东晋打败了前秦，是一次著名的以少胜多的经典战役。故选：C。

12.D

对以振动、摩擦、撞击等引发的机械噪声，一般采用减振、隔声措施。对以空气柱振动引发的空气动力性噪声，一般采用安装消声器的措施。对某些用电设备产生的电磁噪声，一般尽量使设备安装远离人群，一是保障电磁安全，二是利用距离衰减降低噪声。故选：D

以上内容仅为本文档的试下载部分，为可阅读页数的一半内容。如要下载或阅读全文，请访问：<https://d.book118.com/386050241241010103>