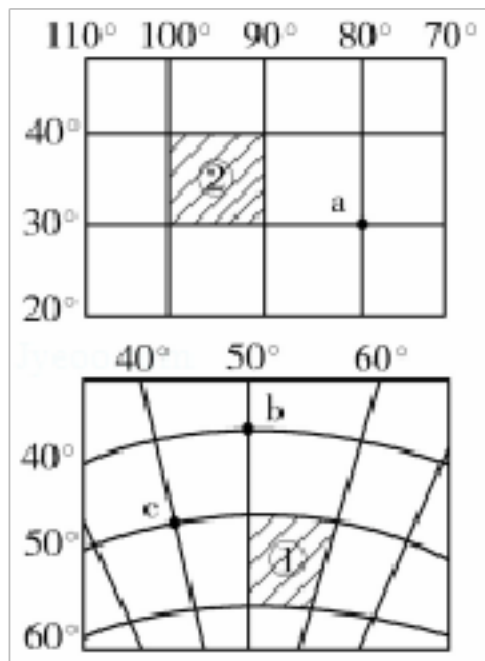


2020年山东省潍坊市中考地理试卷

一、选择题（下列各题的四个选项中，只有一个是正确的。每小题6分，共50分）

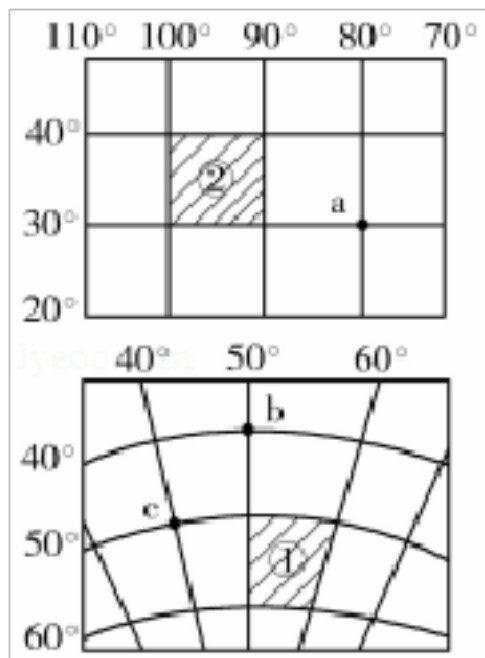
1. 如图为两幅经纬网地图。读图，完成1~3题。



b 点在 a 点的（ ）

- A. 东南方向    B. 东北方向    C. 西南方向    D. 西北方向

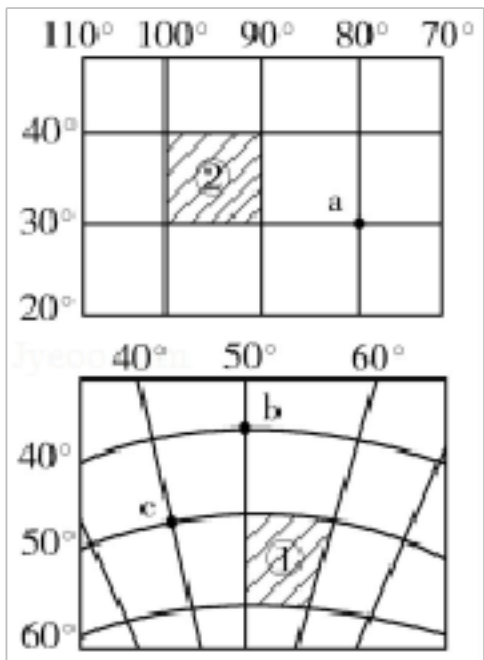
2. 如图为两幅经纬网地图。读图，完成1~3题。



c 点位于的半球分别为（ ）

- A. 南半球、东半球                      B. 南半球、西半球  
C. 北半球、西半球                      D. 北半球、东半球

3. 如图为两幅经纬网地图。读图，完成1~3题。



区域①和区域②所表示的面积大小关系为（ ）

- A. ① > ②      B. ② > ①      C. ① = ②      D. 不确定

4. 如图 1 为某时光照示意图，图 2 为地球公转示意图。读图，完成 4~5 题。

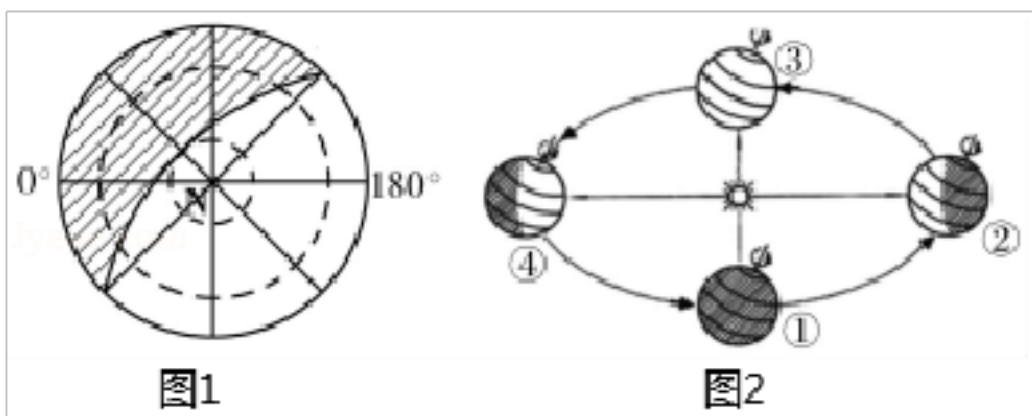
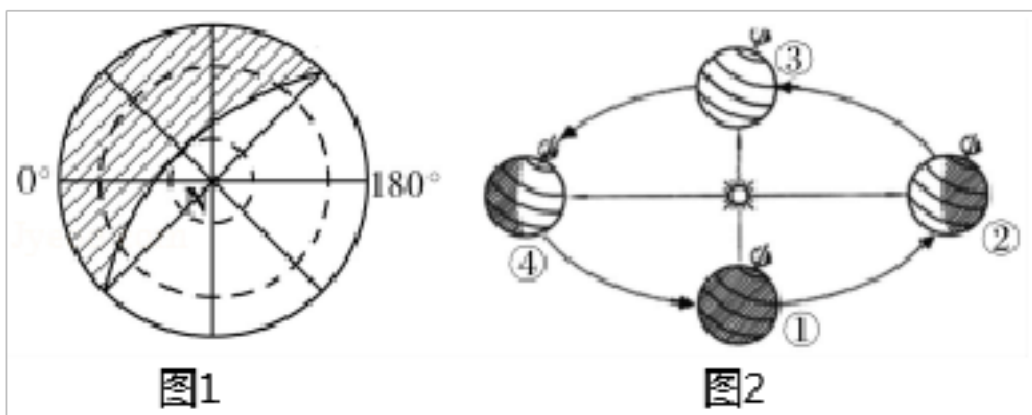


图 1 所示的节气为北半球的（阴影部分表示黑夜）（ ）

- A. 春分      B. 夏至      C. 秋分      D. 冬至

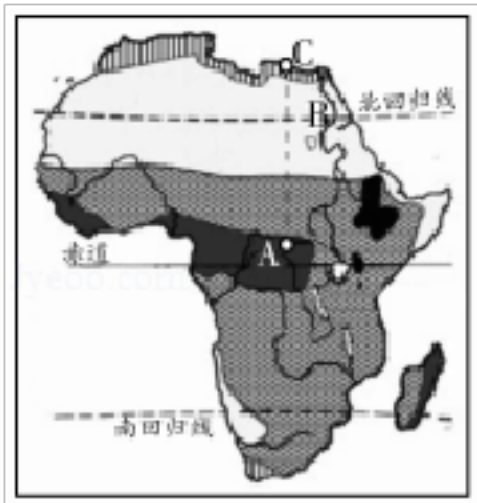
5. 如图 1 为某时光照示意图，图 2 为地球公转示意图。读图，完成 4~5 题。



当出现图 1 所示节气时，地球公转位置在图 2 中的（ ）

- A. ①处      B. ②处      C. ③处      D. ④处

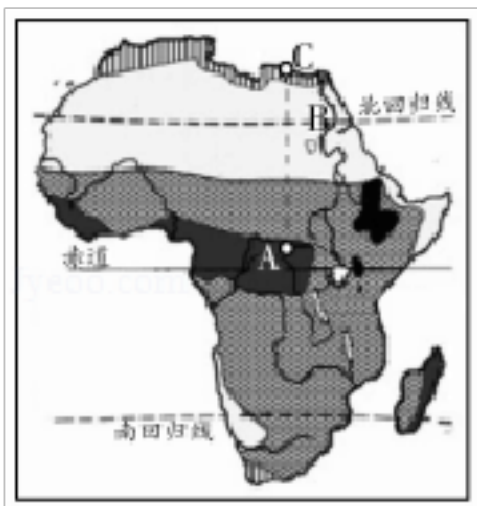
6. 如图为非洲气候类型分布示意图。读图，完成6~8题。



从A地到C地，降水的变化规律是（ ）

- A. 逐渐减少                      B. 逐渐增多  
C. 先增多后减少                D. 先减少后增多

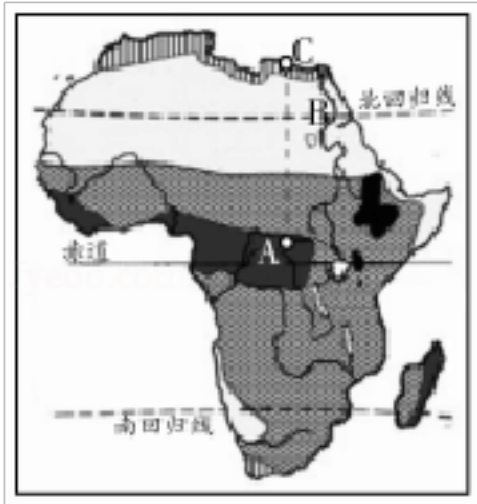
7. 如图为非洲气候类型分布示意图。读图，完成6~8题。



B地是埃及重要产棉区，与我国黄河中下游产棉区相比，该地具有的优势是（ ）

- A. 光照充足                      B. 降水丰富  
C. 气温日较差小                D. 劳动力资源丰富

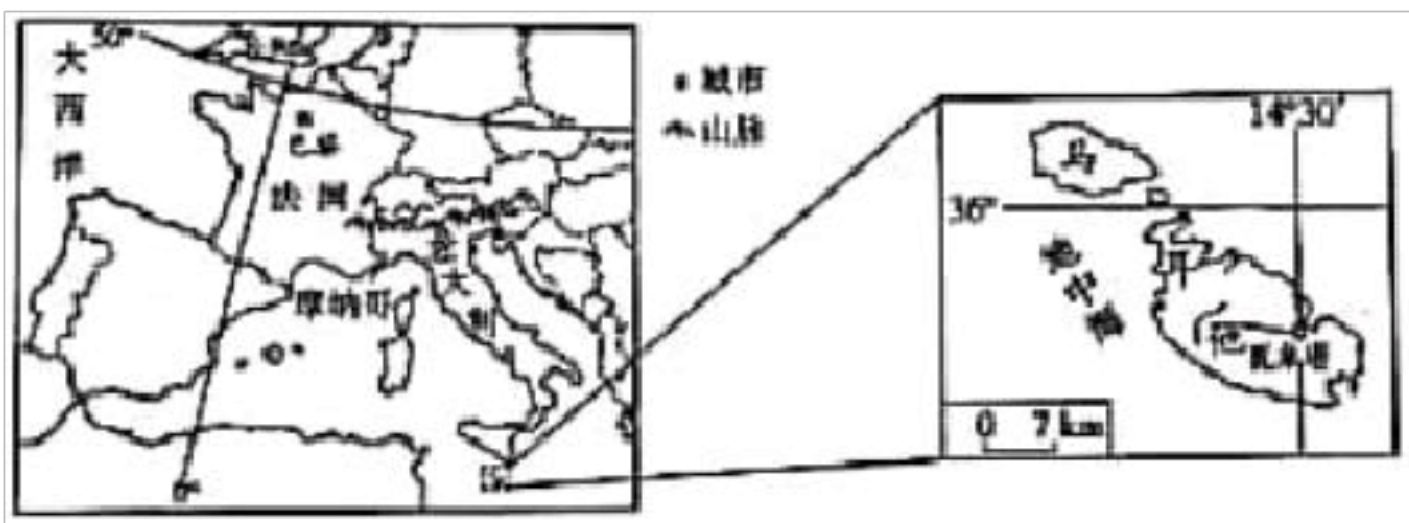
8. 如图为非洲气候类型分布示意图。读图，完成6~8题。



1970 年在尼罗河上建成了阿斯旺水坝后，下游地区由一年一熟变为一年两熟或三熟制，主要原因是水坝建成后改变了下游地区的 ( )

- A. 热量条件 B. 水分条件 C. 地形条件 D. 土壤条件

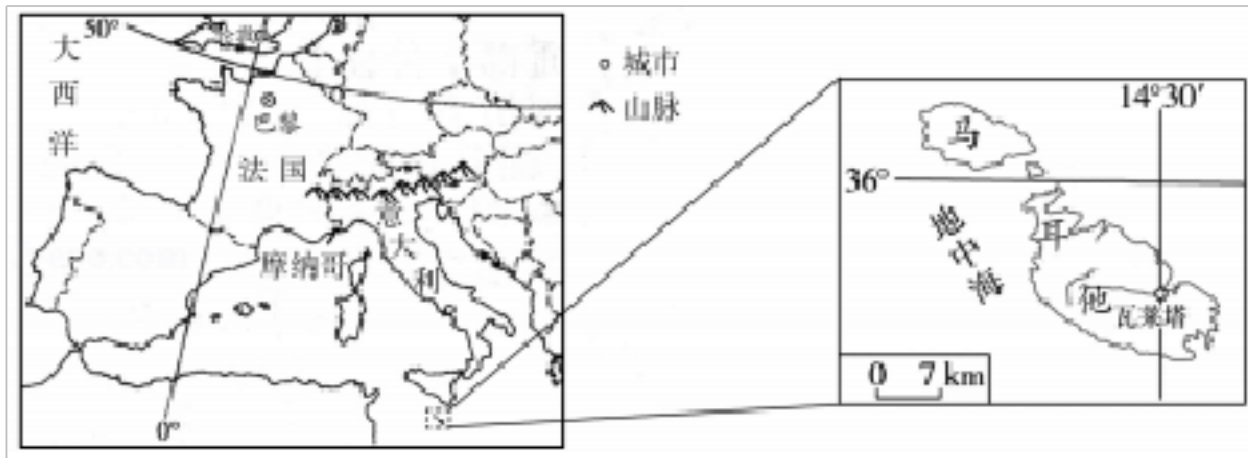
9. 马耳他是位于地中海中部的岛国，有“地中海心脏”之称，同 100 多个国家和地区有贸易关系，是闻名世界的旅游胜地。如图为欧洲西部部分地区及马耳他示意图。读图，完成 9~11 题。



马耳他国际客运的主要交通运输方式是 ( )

- A. 航空运输 B. 铁路运输 C. 公路运输 D. 内河航运

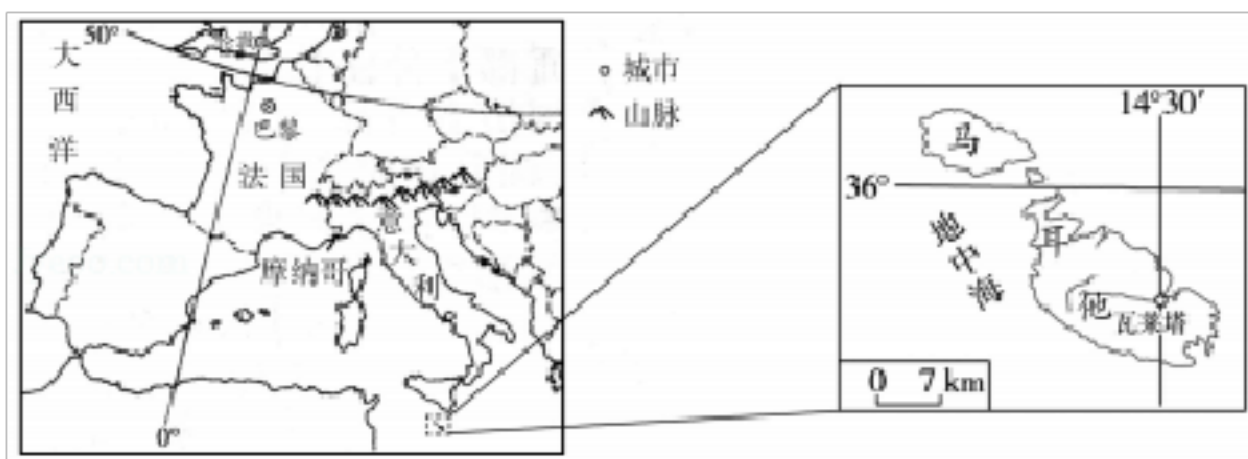
10. 马耳他是位于地中海中部的岛国，有“地中海心脏”之称，同 100 多个国家和地区有贸易关系，是闻名世界的旅游胜地。如图为欧洲西部部分地区及马耳他示意图。读图，完成 9~11 题。



由瓦莱塔港驶往英国的远洋货轮最近航线经过（ ）

- A. 马六甲海峡
- B. 苏伊士运河
- C. 直布罗陀海峡
- D. 巴拿马运河

11. 马耳他是位于地中海中部的岛国，有“地中海心脏”之称，同100多个国家和地区有贸易关系，是闻名世界的旅游胜地。如图为欧洲西部部分地区及马耳他示意图。读图，完成9~11题。



关于马耳他的气候特征叙述正确的是（ ）

- A. 全年高温多雨
- B. 雨热同期
- C. 冬季温和多雨
- D. 夏季高温多雨

12. 法国有秀丽的自然风光，灿烂的历史文化，是世界旅游大国。如图为法国主要河流分布示意图。读图，完成12~13题。

据图判断法国的地势特征是（ ）



- A. 东南高，西北低                      B. 西北高，东南低  
C. 东北高，西南低                      D. 西南高，东北低

13. 法国有秀丽的自然风光，灿烂的历史文化，是世界旅游大国。如图为法国主要河流分布示意图。读图，完成 12~13 题。

下列著名建筑位于法国的有 (     )

- ① 胡夫金字塔
- ② 埃菲尔铁塔
- ③ 泰姬陵
- ④ 凡尔赛宫



- A. ①②                      B. ③④                      C. ①③                      D. ②④

14. 亚马孙平原终年高温多雨，为植物生长提供了得天独厚的条件，形成了世界上最大的热带雨林区。2019 年 8 月发生的亚马孙热带雨林大火，烧毁了大面积的雨林，引起全球关注。据此完成 14~15 题。

此次森林大火会导致（ ）

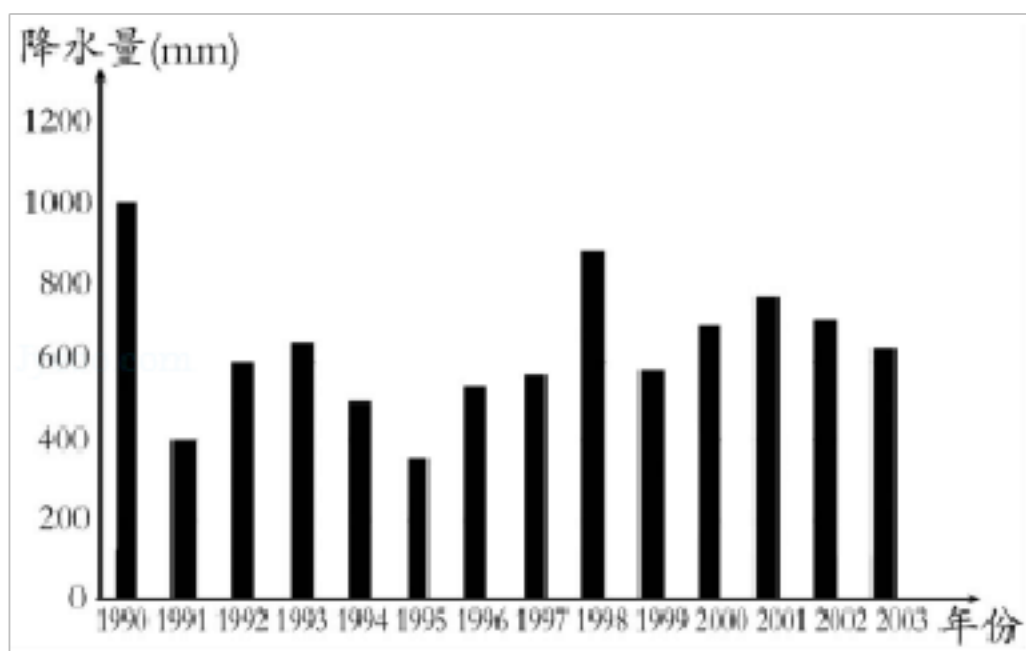
- A. 氧气释放增加
- B. 二氧化碳吸收减少
- C. 雨林植物种类增加
- D. 大气对地面增温作用减弱

15. 亚马孙平原终年高温多雨，为植物生长提供了得天独厚的条件，形成了世界上最大的热带雨林区。2019年8月发生的亚马孙热带雨林大火，烧毁了大面积的雨林，引起全球关注。据此完成14~15题。

有利于巴西热带雨林地区可持续发展的有效措施是（ ）

- A. 大规模兴建牧场，发展乳畜业
- B. 将大面积森林开发为农田，增加粮食产量
- C. 选择性采伐与更新造林相结合
- D. 通过严格立法，禁止开发雨林

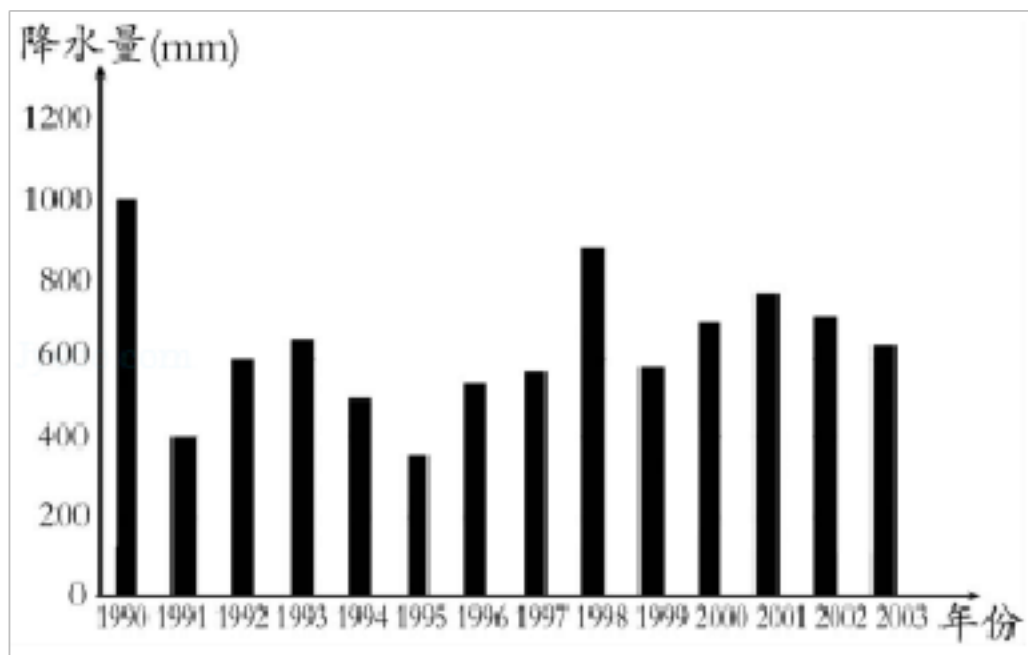
16. 如图为我国某地连续14年降水量统计图。读图，完成16~17题。



该地的气候类型可能是（ ）

- A. 热带季风气候
- B. 地中海气候
- C. 高山高原气候
- D. 温带季风气候

17. 如图为我国某地连续 14 年降水量统计图。读图，完成 16~17 题。



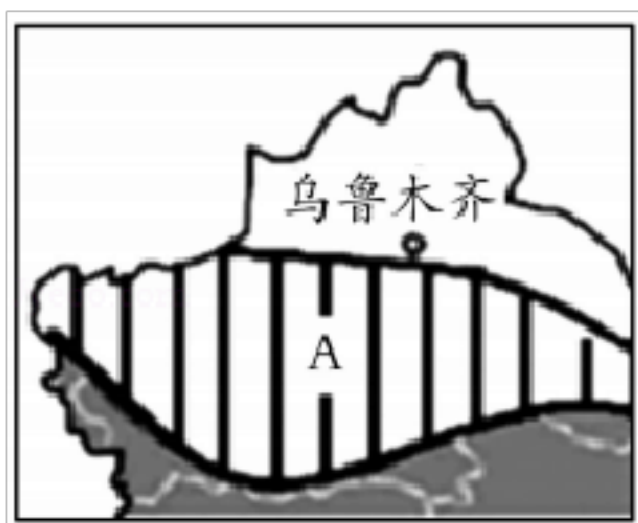
降水的年际变化给当地带来的不利影响是 ( )

- A. 降水集中，雨热同期
- B. 极易发生泥石流
- C. 旱涝灾害频繁
- D. 水土流失严重

18. 随着脱贫攻坚工作的深入，国家显著加大了支持新疆发展的力度。

如图为新疆维吾尔自治区温度带分布示意图。读图，完成 18~19 题。

A 所在地形区位于的温度带是 ( )



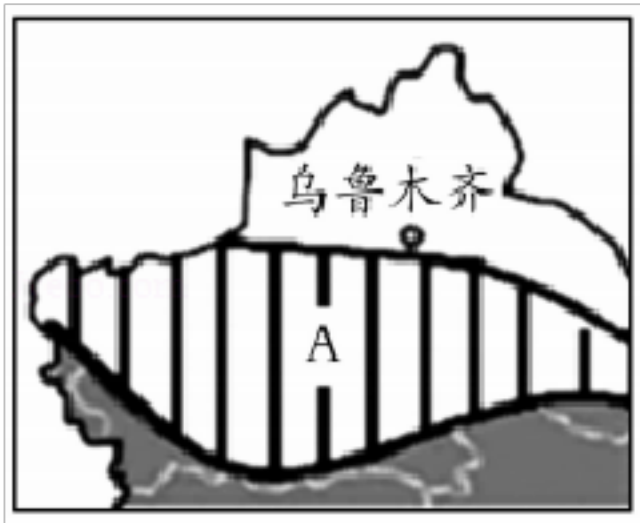
- A. 亚热带
- B. 暖温带
- C. 中温带
- D. 高山高原气候区



19. 随着脱贫攻坚工作的深入，国家显著加大了支持新疆发展的力度。

如图为新疆维吾尔自治区温度带分布示意图。读图，完成 18~19 题。

在新疆脱贫工作中，应坚持的原则是（ ）



- A. 坚持脱贫第一的理念
- B. 对当地大型企业给予环保优惠政策
- C. 将保护环境同消除贫困联系起来
- D. 对于可能造成环境影响的企业一律关闭

20. 《湖南省新型城市化规划（2015 - 2020 年）》提出：到 2020 年要把长株潭城市群发展为国家级城市群，一体化是建设长株潭城市群的最有效途径。如图为长株潭城市群示意图。读图，完成 20~22 题。

株洲是我国南方重要的铁路枢纽，在此交会的铁路线是（ ）



- A. 京广线、沪昆线                      B. 京沪线、陇海线  
 C. 京九线、沪昆线                      D. 焦柳线、陇海线

21. 《湖南省新型城市化规划（2015 - 2020 年）》提出：到 2020 年要把长株潭城市群发展为国家级城市群，一体化是建设长株潭城市群的最有效途径。如图为长株潭城市群示意图。读图，完成 20~22 题。

毛泽东同志的故乡是（     ）



A. 湘潭县      B. 浏阳市      C. 宁乡县      D. 韶山市

22. 《湖南省新型城市化规划（2015 - 2020 年）》提出：到 2020 年要把长株潭城市群发展为国家级城市群，一体化是建设长株潭城市群的最有效途径。如图为长株潭城市群示意图。读图，完成 20~22 题。

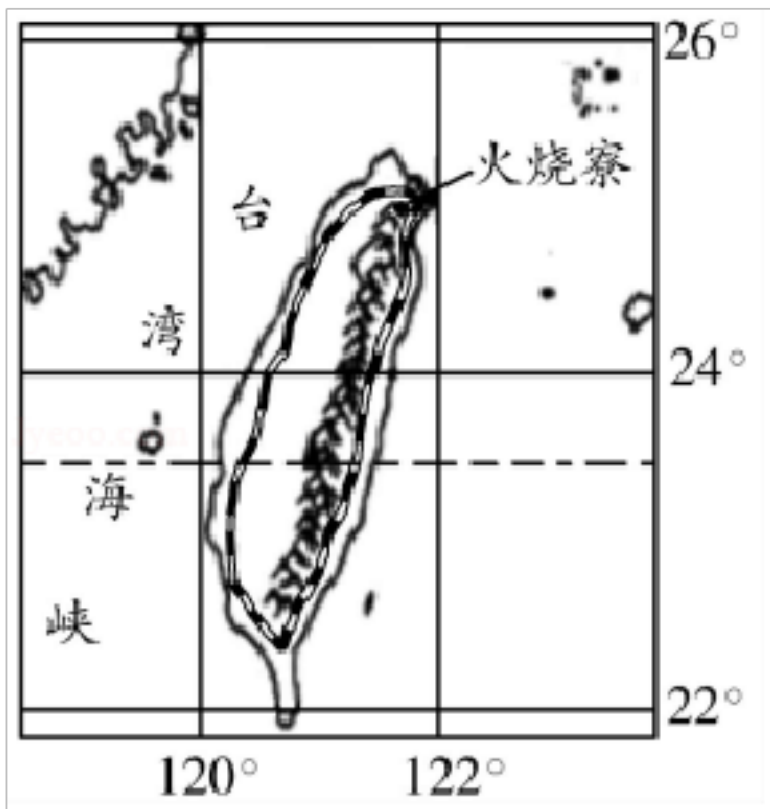
下列符合长株潭城市群一体化建设思想的是（      ）



- A. 将三个城市整合成一个城市，增强竞争力
- B. 三个城市各自依托自身优势，发展特色旅游
- C. 将三个城市的行政管理统一，避免政出多门，便于城市治理
- D. 在三个城市中建立统一的公共交通系统，为市民出行提供方便

23. 台湾著名诗人余光中曾在《乡愁》中写道“……乡愁是一湾浅浅的海峡，我在这头，大陆在那头。”抒发了期盼祖国统一的真挚情感。如图为台湾位置示意图。读图，完成 23~25 题。


“浅浅的海峡”沟通了（     ）



- A. 渤海、黄海 B. 黄海、南海 C. 黄海、东海 D. 东海、南海

24. 台湾著名诗人余光中曾在《乡愁》中写道“……乡愁是一湾浅浅的海峡，我在这头，大陆在那头。”抒发了期盼祖国统一的真挚情感。如图为台湾位置示意图。读图，完成 23~25 题。


台湾岛上的铁路线呈环状的原因是（ ）



- A. 这样设计更美观  
 B. 中部为山地，平原主要分布在四周沿海地区  
 C. 西部人口多，东部人口少，人口分布不均  
 D. 大城市多分布在台湾岛西部

25. 台湾著名诗人余光中曾在《乡愁》中写道“……乡愁是一湾浅浅的海峡，我在这头，大陆在那头。”抒发了期盼祖国统一的真挚情感。如图为台湾位置示意图。读图，完成23~25题。

火烧寮是我国年降水总量最大的地方，主要原因是（ ）

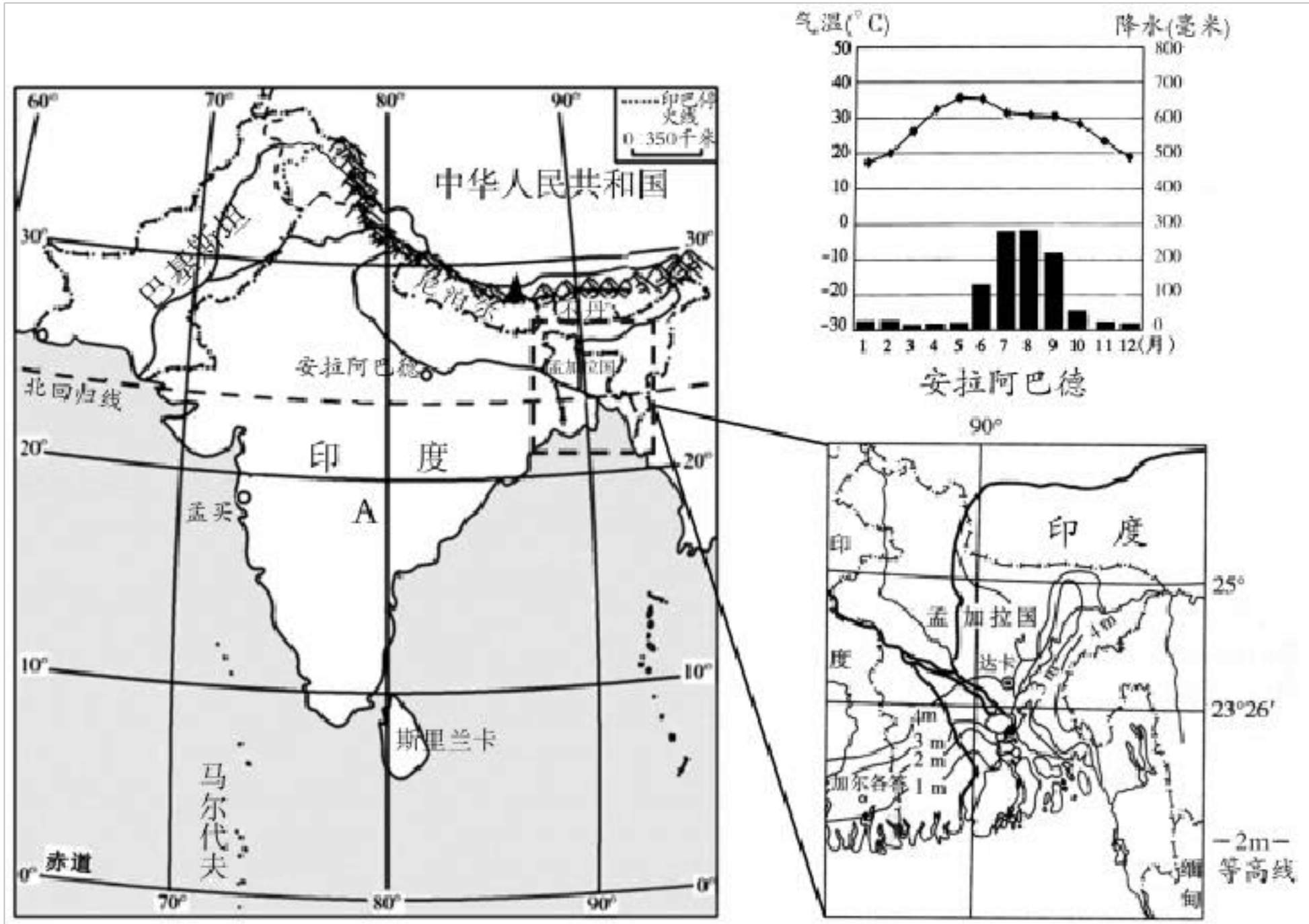


- A. 位于西北季风的迎风坡
- B. 地处热带季风气候区
- C. 位于东南季风的迎风坡
- D. 受台风影响大，降水多

二、综合题（本大题包括5个小题，共50分）

26.（10分）读图文材料，完成下列要求。

南亚各国都是发展中国家。长期以来，经济以农业为主。水稻、小麦、棉花和黄麻是该地区的主要农作物。孟买是印度的重要城市、海港和第一大棉纺织工业中心。如图为南亚地区、孟加拉国示意图及安拉阿巴德气候资料坐标图。



(1) 安拉阿巴德冬季盛行 \_\_\_\_\_ (风向) 风，根据安拉阿巴德气候资料坐标图说明该地 3 - 5 月水资源短缺的原因。 \_\_\_\_\_。

(2) A 为德干高原，其西部地区种植的主要经济作物是 \_\_\_\_\_。  
分析孟买发展棉纺织工业的有利条件。 \_\_\_\_\_。

(3) 孟加拉国所在地形区主要是 \_\_\_\_\_。该国洪涝灾害频发，试简要分析原因。 \_\_\_\_\_。

27. (10 分) 读图文材料，完成下列要求。

材料一 日本是一个多山的岛国，面积狭小，森林广布。经济发达，工业发展水平高。靠近日本海一侧以及从本州北部到北海道地区，是大雪经常光顾的地区，日语中称为“豪雪地带”。“合掌造”

以上内容仅为本文档的试下载部分，为可阅读页数的一半内容。如要下载或阅读全文，请访问：<https://d.book118.com/388100104003006106>