

系统复习资料汇编

考试复习重点推荐资料

百炼成金模拟考试汇编

阶段复习重点难点梳理

适应性全真模拟考试卷

考前高效率过关手册集

高效率刷题好资料分享

学霸上岸重点笔记总结

注：下载前请仔细阅读资料，以实际预览内容为准

2022年杭州市萧山区中考数学三年高频真题汇总卷

考试时间：90分钟；命题人：数学教研组

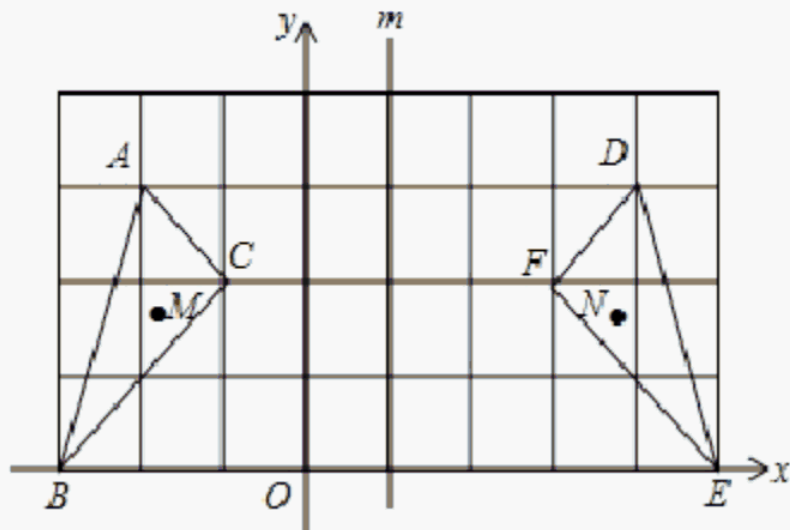
考生注意：

- 1、本卷分第I卷（选择题）和第II卷（非选择题）两部分，满分100分，考试时间90分钟
- 2、答卷前，考生务必用0.5毫米黑色签字笔将自己的姓名、班级填写在试卷规定位置上
- 3、答案必须写在试卷各个题目指定区域内相应的位置，如需改动，先划掉原来的答案，然后再写上新的答案；不准使用涂改液、胶带纸、修正带，不按以上要求作答的答案无效。

第I卷（选择题 30分）

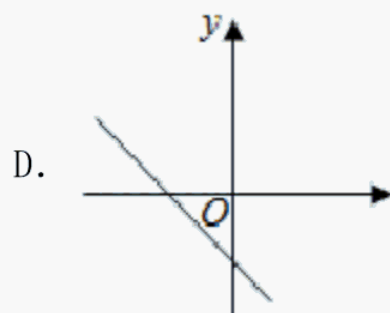
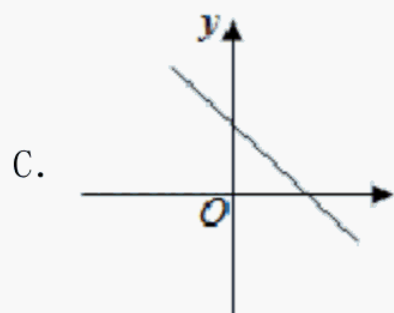
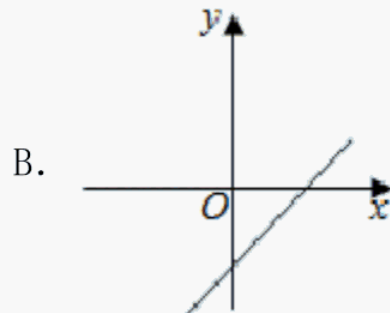
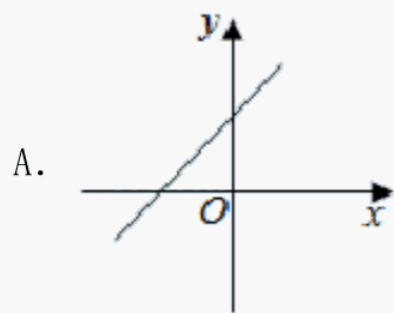
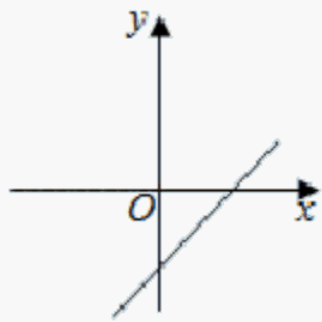
一、单选题（10小题，每小题3分，共计30分）

- 1、已知在直角坐标系中有点P(x, y)，且x、y满足条件 $|x|=5$ ， $|x-y|=8$ ，则这样的点P有（ ）
A. 1个 B. 2个 C. 4个 D. 8个
- 2、点P(3, -5)关于x轴对称的点的坐标为（ ）
A. (3, 5) B. (5, 3) C. (-3, 5) D. (-3, -5)
- 3、如图，在平面直角坐标系中， $\triangle ABC$ 与 $\triangle DEF$ 关于直线m: $x=1$ 对称，M, N分别是这两个三角形中的对应点. 如果点M的横坐标是a，那么点N的横坐标是（ ）



- A. -a B. -a+1 C. a+2 D. 2-a

4、已知函数 $y=kx+b$ 的图象如图所示，则函数 $y=-bx+k$ 的图象大致是 ()



5、下列每组数分别是三根小木棒的长度，用它们能摆成三角形的是 ()

A. 3 cm, 4 cm, 8 cm

B. 8 cm, 7 cm, 15 cm

C. 13 cm, 12 cm, 20 cm

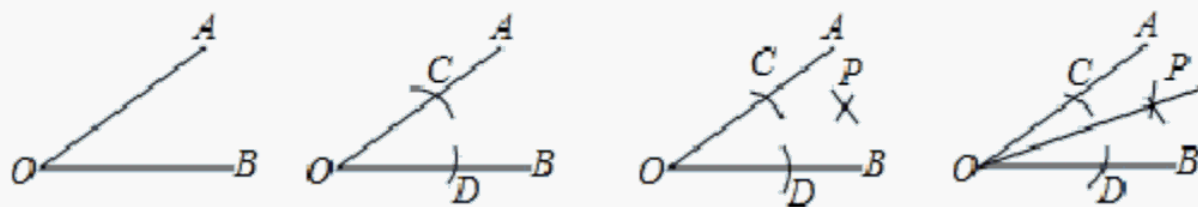
D. 5 cm, 5 cm, 11 cm

6、角平分线的作法（尺规作图）

①以点 O 为圆心，任意长为半径画弧，交 OA 、 OB 于 C 、 D 两点；

②分别以 C 、 D 为圆心，大于 CD 长为半径画弧，两弧交于点 P ；

③过点 P 作射线 OP ，射线 OP 即为所求。



角平分线的作法依据的是 ()

A. SSS

B. SAS

C. AAS

D. ASA

以上内容仅为本文档的试下载部分，为可阅读页数的一半内容。如要下载或阅读全文，请访问：<https://d.book118.com/39602512500010153>