

北京北京市 2024 学年科目一模拟考试 100 题含答案 版

1、机动车仪表板上（如图所示）亮，提示右侧车门未关闭。



A、正确

B、错误

正确答案：B

分析：很明显他是左侧的

2、已注册登记的机动车，改变机动车车身颜色的应到公安交通管理部门申请变更登记。

A、正确

B、错误

正确答案：A

分析：《中华人民共和国道路运输条例》说明，已注册登记的机动车，改变机动车车身颜色的应到公安交通管理部门申请变更登记。

3、驾驶机动车上路前应当检查车辆安全技术性能。

A、正确

B、错误

正确答案：A

分析：记住这点：车辆安全技术性能就已经包括整辆车的整体检查了

4、驾驶机动车在道路上向左变更车道时如何使用灯光？

A、不用开启转向灯

B、提前开启右转向灯


C、提前开启左转向灯

D、提前开启近光灯

正确答案：C

分析：无论左转还有右转都得提前打灯告诉其他车你的意图，这样才比较安全。

5、机动车仪表板上（如图所示）亮时，表示什么？



A、左转向指示灯闪烁

B、右转向指示灯闪烁

C、车前后位置灯闪烁

D、车前后示宽灯亮起

正确答案：B

分析：右转向灯，这个没有问题吧。。。老衲也不知如何解释这个题。万一不知道，死记。

6、机动车驾驶人请他人代为接受交通违法行为处罚和记分，并支付经济利益的，会被处以所支付经济利益二倍以下的罚款。

A、正确

B、错误

正确答案：B

分析：《道路交通安全违法行为记分管理办法》规定，机动车驾驶人请他人代为接受交通违法行为处罚和记分并支付经济利益的，由公安机关交通管理部门处所支付经济利益三倍以下罚款，但最高不超过五万元；同时，依法对原交通违法行为作出处罚。

7、有视力矫正的机动车驾驶人驾驶机动车时，应当佩戴眼镜。

A、正确

B、错误

正确答案：A

分析：《机动车驾驶证申领和使用规定》规定：持有准驾车型为残疾人专用小型自动挡载客汽车的机动车驾驶人驾驶机动车时，应当按规定在车身设置残疾人机动车专用标志。有听力障碍的机动车驾驶人驾驶机动车时，应当佩戴助听设备。有视力矫正的机动车驾驶人驾驶机动车时，应当佩戴眼镜。

8、当驾驶人的血液中酒精含量为 100 毫克/100 毫升时，属于醉酒驾驶。

A、正确

B、错误

正确答案：A

分析：醉酒驾驶是指车辆驾驶人员血液中的酒精含量大于或者等于 80mg/100mL 的驾驶行为。

9、改变车身颜色、更换发动机、车身或车架，未在规定时限内办理变更登记的，由公安机关交通管理部门处警告或者 200 元以下罚款。

A、正确

B、错误

正确答案：A

分析：《机动车登记规定》规定，有下列情形之一的，由公安机关交通管理部门处警告或者二百元以下罚款：（一）重型、中型载货汽车、专项作业车、挂车及大型客车的车身或者车厢后部未按照规定喷涂放大的牌号或者放大的牌号不清晰的；（二）机动车喷涂、粘贴标识或者车身广告，影响安全驾驶的；（三）载货汽车、专项作业车及挂车未按照规定安装侧面及后下部防护装置、粘贴车身反光标识的；（四）机动车未按照规定期限进行安全技术检验的；（五）改变车身颜色、更换发动机、车身或者车架，未按照第十六条规定的时限办理变更登记的；（六）机动车所有权转让后，现机动车所有人未按照第二十五条规定的时限办理转让登记的；（七）机动车所有人办理变更登记、转让登记，未按照第十八条、第二十七条规定的时限到住所地车辆管理所申请机动车转入的；（八）机动车所有人未按照第二十三条规定申请变更备案的。

10、在这个弯道上行驶时的最高速度不能超过多少？



A、30 公里/小时

B、40 公里/小时

C、50 公里/小时

D、70 公里/小时

正确答案：A

分析：30 公里每小时经常考的，大家一定要记住啊！总结一下时速不超 30 的：机动车在掉头、转弯、下陡坡时；在冰雪、泥泞路上行驶；牵引发动机故障的机动车；进出非机动车道，通过铁道路口、窄路、窄桥。

11、机动车驾驶人造成致人轻伤以上或者死亡的交通事故后逃逸，尚不构成犯罪的，一次记 12 分。

A、正确

B、错误

正确答案：A

分析：《道路交通安全违法行为记分管理办法》规定，机动车驾驶人有下列交通违法行为之一，一次记 12 分：（一）饮酒后驾驶机动车的；（二）造成致人轻伤以上或者死亡的交通事故后逃逸，尚不构成犯罪的；（三）使用伪造、变造的机动车号牌、行驶证、驾驶证、校车标牌或者使用其他机动车号牌、行驶证的；（四）驾驶校车、公路客运汽车、旅游客运汽车载人超过核定人数百分之二十以上，或者驾驶其他载客汽车载人超过核定人数百分之百以上的；（五）驾驶校车、中型以上载客载货汽车、危险物品运输车辆在高速公路、城市快速路上行驶超过规定时速百分之二十以上，或者驾驶其他机动车在高速公路、城市快速路上行驶超过规定时速百分之五十以上的；（六）驾驶机动车在高速公路、城市快速路上倒车、逆行、穿越中央分隔带掉头的；（七）代替实际机动车驾驶人接受交通违法行为处罚和记分牟取经济利益的。

12、医疗机构出具虚假身体条件证明的，公安机关交通管理部门有权停止认可该医疗机构出具的证明，并通报卫生健康行政部门。

A、正确

B、错误

正确答案：A

分析：《机动车驾驶证申领和使用规定》规定：医疗机构出具虚假身体条件证明的，公安机关交通管理部门应当停止认可该医疗机构出具的证明，并通报卫生健康行政部门。

13、非法安装警报器、标志灯具的将处 200 元以上 2000 元以下罚款。

A、正确

B、错误

正确答案：A

分析：根据《中华人民共和国道路交通安全法》第九十七条规定：非法安装警报器、标志灯具的，由公安机关交通管理部门强制拆除，予以收缴，并处二百元以上二千元以下罚款。

14、这个标志是何含义？



A、限制 40 吨轴重

B、限制最高时速 40 公里

C、前方 40 米减速

D、最低时速 40 公里

正确答案：B

分析：限制最高时速 40 公里：表示该标志至前方限制速度标志的路段内，机动车行驶速度

不得超过标志所示数值。此标志设在需要限制车辆速度的路段的起点。以图为例：限制行驶时速不得超过 40 公里。

15、持有小型汽车驾驶证的驾驶人，驾驶摩托车上路行驶的，一次记 9 分。

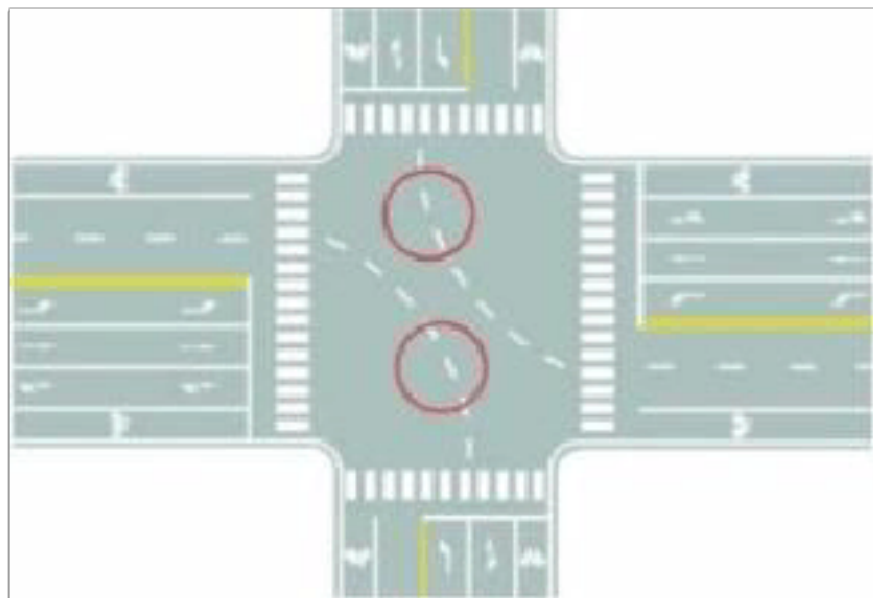
A、正确

B、错误

正确答案：A

分析：《道路交通安全违法行为记分管理办法》规定，机动车驾驶人有下列交通违法行为之一，一次记 9 分：（一）驾驶 7 座以上载客汽车载人超过核定人数百分之五十以上未达到百分之百的；（二）驾驶校车、中型以上载客载货汽车、危险物品运输车辆在高速公路、城市快速路以外的道路上行驶超过规定时速百分之五十以上的；（三）驾驶机动车在高速公路或者城市快速路上违法停车的；（四）驾驶未悬挂机动车号牌或者故意遮挡、污损机动车号牌的机动车上道路行驶的；（五）驾驶与准驾车型不符的机动车的；（六）未取得校车驾驶资格驾驶校车的；（七）连续驾驶中型以上载客汽车、危险物品运输车辆超过 4 小时未停车休息或者停车休息时间少于 20 分钟的。

16、图中圈内白色虚线是什么标线？



A、小型车转弯线

B、车道连接线

C、非机动车引导线

D、路口向导线

正确答案：D

分析：黄色白色都是路口导向线，黄色与黄实线相延续，白色与白实线相延续

17、机动车驾驶人及乘车人下车时，用远离车门一侧的手开门，转头观察车辆侧方和后方通行状况，避免妨碍他人通行。

A、正确

B、错误

正确答案：A

分析：正确。下车时应确认周边情况，确认安全后再开门下车，不得妨碍他人。当我们用远离车门一侧的手去开车门，同时上半身会自然转动，眼睛会通过后视镜观察，然后转身时向后看，这一个完整的动作能避免很多事故。在这个过程中，无论后方是有车还是有人，我们都能观察到，从而避免了后方车辆或行人撞上突然打开的车门的悲剧。

18、小型汽车驾驶人发生交通事故造成人员死亡，承担同等以上责任未被吊销驾驶证的，应当在记分周期结束后 30 日内接受审验。

A、正确

B、错误

正确答案：A

分析：2013《123号令》第六十条.持有本条第三款规定以外准驾车型驾驶证的驾驶人，发生交通事故造成人员死亡承担同等以上责任未被吊销机动车驾驶证的，应当在本记分周期结束后三十日内到公安机关交通管理部门接受审验。

19、醉驾可构成危险驾驶罪。

A、正确

B、错误

正确答案：A

分析：在道路上驾驶机动车，有下列情形之一的，构成危险驾驶罪：（一）追逐竞驶，情节恶劣的；（二）醉酒驾驶机动车的；（三）从事校车业务或者旅客运输，严重超过额定乘员载客，或者严重超过规定时速行驶的；（四）违反危险化学品安全管理规定运输危险化学品，危及公共安全的。

20、驾驶校车、公路客运汽车、旅游客运汽车、7 座以上载客汽车以外的其他载客汽车载人超过核定人数 60% 的，一次记 6 分。

A、正确

B、错误

正确答案：A

分析：《道路交通安全违法行为记分管理办法》规定，机动车驾驶人有下列交通违法行为之一，一次记6分：（一）驾驶校车、公路客运汽车、旅游客运汽车载人超过核定人数未达到百分之二十，或者驾驶7座以上载客汽车载人超过核定人数百分之二十以上未达到百分之五十，或者驾驶其他载客汽车载人超过核定人数百分之五十以上未达到百分之百的；（二）驾驶校车、中型以上载客载货汽车、危险物品运输车辆在高速公路、城市快速路上行驶超过规定时速未达到百分之二十，或者在高速公路、城市快速路以外的道路上行驶超过规定时速百分之二十以上未达到百分之五十的；（三）驾驶校车、中型以上载客载货汽车、危险物品运输车辆以外的机动车在高速公路、城市快速路上行驶超过规定时速百分之二十以上未达到百分之五十，或者在高速公路、城市快速路以外的道路上行驶超过规定时速百分之五十以上的；（四）驾驶载货汽车载物超过最大允许总质量百分之五十以上的；（五）驾驶机动车载运爆炸物品、易燃易爆化学物品以及剧毒、放射性等危险物品，未按指定的时间、路线、速度行驶或者未悬挂警示标志并采取必要的安全措施的；（六）驾驶机动车运载超限的不可解体的物品，未按指定的时间、路线、速度行驶或者未悬挂警示标志的；（七）驾驶机动车运输危险化学品，未经批准进入危险化学品运输车辆限制通行的区域的；（八）驾驶机动车不按交通信号灯指示通行的；（九）机动车驾驶证被暂扣或者扣留期间驾驶机动车的；（十）造成致人轻微伤或者财产损失的交通事故后逃逸，尚不构成犯罪的；（十一）驾驶机动车在高速公路或者城市快速路上违法占用应急车道行驶的。

21、申请机动车注册登记的，机动车所有人必须提交机动车交通事故责任强制保险凭证。

A、正确

B、错误

正确答案：A

分析：《机动车登记规定》规定，申请注册登记的，机动车所有人应当交验机动车，确认申请信息，并提交以下证明、凭证：（一）机动车所有人的身份证明；（二）购车发票等机动车来历证明；（三）机动车整车出厂合格证明或者进口机动车进口凭证；（四）机动车交通事故责任强制保险凭证；（五）车辆购置税、车船税完税证明或者免税凭证，但法律规定不属于征收范围的除外；（六）法律、行政法规规定应当在机动车注册登记时提交的其他证明、凭证。

22、在道路上跟车行驶时，跟车距离不是主要的，只须保持与前车相等的速度，即可防止发生追尾事故。

A、正确

B、错误

正确答案：B

分析：举个例子吧：你们都是以 100 速前进，只隔了 1 米，前面猛的刹车，你觉得你能在 1 米内刹住车吗？明显不能，所以此题错了！

23、机动车驾驶证补领后，以下说法正确的是什么？

- A、原驾驶证继续使用
- B、原驾驶证作废，不得继续使用
- C、原驾驶证特殊情况下使用
- D、替换使用

正确答案：B

分析：《机动车驾驶证申领和使用规定》机动车驾驶人补领机动车驾驶证后，原机动车驾驶证作废，不得继续使用。

24、驾驶机动车不按规定使用灯光的，将被一次记多少分？

- A、1 分
- B、2 分
- C、3 分
- D、6 分

正确答案：A

分析：机动车驾驶人有下列违法行为之一，一次记 1 分：（一）驾驶机动车不按规定使用灯光的；（二）驾驶机动车不按规定会车的；（三）驾驶机动车载货长度、宽度、高度超过规定的；（四）上道路行驶的机动车未放置检验合格标志、保险标志，未随车携带行驶证、机动车驾驶证的。

25、驾驶机动车在道路上掉头时，应当提前开启左转向灯。

- A、正确
- B、错误

正确答案：A

分析：《中华人民共和国道路交通安全法实施条例》第五十七条机动车应当按照下列规定使

用转向灯：（一）向左转弯、向左变更车道、准备超车、驶离停车地点或者掉头时，应当提前开启左转向灯；（二）向右转弯、向右变更车道、超车完毕驶回原车道、靠路边停车时，应当提前开启右转向灯。

26、这个标志是何含义？



- A、临崖路
- B、堤坝路
- C、傍山险路
- D、落石路

正确答案：C

分析：傍山险路：用以提醒车辆驾驶人小心驾驶。设在傍山险路路段以前适当位置。

27、驾驶这种自学直考机动车上路学习驾驶需要什么条件？



- A、符合自学直考规定
- B、有随车人员指导
- C、取得学习驾驶证明

D、没有条件限制

正确答案：A

分析：符合自学直考规定条件可以驾驶自学直考机动车上路学习驾驶。

28、当事人有下列哪种行为，要承担交通事故全部责任？

A、在高速公路上撞伤行人的

B、在路口直行与转弯车辆刮碰的

C、在快车道与摩托车刮碰的

D、发生事故后故意损坏、伪造现场、毁灭证据的

正确答案：D

分析：发生事故后故意损坏、伪造现场、毁灭证据的要承担交通事故的全部责任。

29、夜间驾驶人对事物的观察能力明显比白天差，视距变短。

A、正确

B、错误

正确答案：A

分析：此题说的意思是，你在白天开车的时候由于光线比较充足，所以观察事物的范围比较广，观察事物的视线距离相对也就比较大，而在晚上受到光线暗的局限，相对观察事物的距离也就受到局限，所以视距比较短，而并不是说人本身的观察有问题，所以此题是正确的！

30、驾驶校车、公路客运汽车、旅游客运汽车载人超过核定人数百分之二十未达百分之五十的，一次记几分？

A、9分

B、6分

C、12分

D、3分

正确答案：C

分析：《道路交通安全违法行为记分管理办法》规定，机动车驾驶人有下列交通违法行为之

一，一次记 12 分：（一）饮酒后驾驶机动车的；（二）造成致人轻伤以上或者死亡的交通事故后逃逸，尚不构成犯罪的；（三）使用伪造、变造的机动车号牌、行驶证、驾驶证、校车标牌或者使用其他机动车号牌、行驶证的；（四）驾驶校车、公路客运汽车、旅游客运汽车载人超过核定人数百分之二十以上，或者驾驶其他载客汽车载人超过核定人数百分之百以上的；（五）驾驶校车、中型以上载客载货汽车、危险物品运输车辆在高速公路、城市快速路上行驶超过规定时速百分之二十以上，或者驾驶其他机动车在高速公路、城市快速路上行驶超过规定时速百分之五十以上的；（六）驾驶机动车在高速公路、城市快速路上倒车、逆行、穿越中央分隔带掉头的；（七）代替实际机动车驾驶人接受交通违法行为处罚和记分牟取经济利益的。

31、驾驶机动车在铁路道口、桥梁、陡坡、隧道或者容易发生危险的路段不能掉头。

A、正确

B、错误

正确答案：A

分析：《中华人民共和国道路交通安全法实施条例》第四十九条第一款 机动车在有禁止掉头或者禁止左转弯标志、标线的地点以及在铁路道口、人行横道、桥梁、急弯、陡坡、隧道或者容易发生危险的路段,不得掉头。”

32、年满 70 岁的驾驶人发生责任交通事故造成人员重伤或者死亡的，应当在本记分周期结束后三十日内到公安机关交通管理部门接受审验。

A、正确

B、错误

正确答案：A

分析：《机动车驾驶证申领和使用规定》规定：机动车驾驶人应当按照法律、行政法规的规定，定期到公安机关交通管理部门接受审验。机动车驾驶人按照本规定第六十三条、第六十四条换领机动车驾驶证时，应当接受公安机关交通管理部门的审验。持有大型客车、重型牵引挂车、城市公交车、中型客车、大型货车驾驶证的驾驶人，应当在每个记分周期结束后三十日内到公安机关交通管理部门接受审验。但在一个记分周期内没有记分记录的，免于本记分周期审验。持有第三款规定以外准驾车型驾驶证的驾驶人，发生交通事故造成人员死亡承担同等以上责任未被吊销机动车驾驶证的，应当在本记分周期结束后三十日内到公安机关交通管理部门接受审验。年龄在 70 周岁以上的机动车驾驶人发生责任交通事故造成人员重伤或者死亡的，应当在本记分周期结束后三十日内到公安机关交通管理部门接受审验。机动车驾驶人可以在机动车驾驶证核发地或者核发地以外的地方参加审验、提交身体条件证明。

33、驾驶纯电动汽车出行前，应确保电池电量充足，提前规划合适的路线，了解途中充电站或者充电桩的位置。

A、正确

B、错误

正确答案：A

分析：纯电动汽车的主要动力来源是电池，因此在出行前一定要查看剩余电量，确保出行电量充足，并了解途中的充电桩或者充电站位置，做到有备无患，以免途中发生电量不足导致无法行驶的情况。

34、遇到这种情况时，要加速从红车前变更车道。



A、正确

B、错误

正确答案：B

分析：错在“加速”，只能减速跟在红车后面；前面是绝路，必须左转到“左车道”，而左车道已经有红车了；

35、在没有中心线的道路上发现后车发出超车信号时，如果条件许可如何行驶？

A、保持原状态行驶

B、加速行驶

C、迅速停车让行

D、减速靠右让路

正确答案：D

分析：和谐第一，人家要超车就减速靠右给他让出超车的位置。

36、机动车驾驶人补领机动车驾驶证后，使用原机动车驾驶证驾驶的，除由公安机关交通管理部门收回原机动车驾驶证外，还应当处多少罚款？

- A、20 元以上 200 元以下
- B、200 元以上 500 元以下
- C、1000 元以上 2000 元以下
- D、200 元以上 2000 元以下

正确答案：A

分析：《机动车驾驶证申领和使用规定》第 79 条第 1 款 公安部令第 123 号：机动车驾驶人有下列行为之一的，由公安机关交通管理部门处二十元以上二百元以下罚款：（一）机动车驾驶人补领机动车驾驶证后，继续使用原机动车驾驶证的；（第二款）：有第 1 款第一项规定情形的，由公安机关交通管理部门收回原机动车驾驶证。

37、这个标志是何含义？

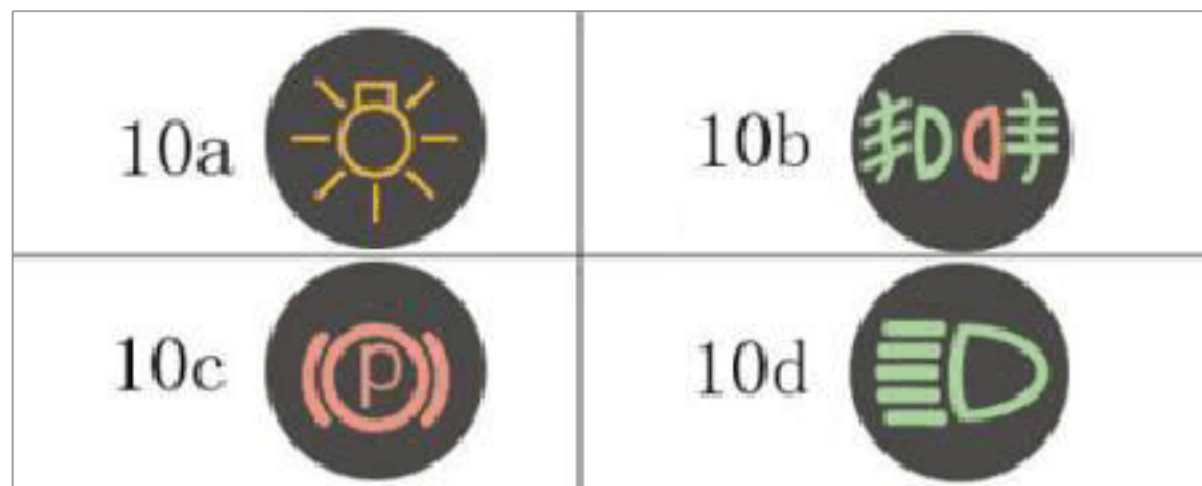


- A、环行交叉路口预告
- B、十字交叉路口预告
- C、互通立体交叉预告
- D、Y 型交叉路口预告

正确答案：A

分析：同志们记得。互通试的是全连的哦。环行交插路口有个空格。所以正确答案是 A。。才对

38、下列哪个指示灯亮表示车辆在使用远光灯？



A、10a

B、10b

C、10c

D、10d

正确答案：D

分析：C 是驻车指示灯（拉手刹、踩刹车时显示），B 是雾灯，D 是远光灯，A 是啥灯不是很清楚，我的车没有这种灯。

39、饮用少量啤酒不影响驾驶操作可以短距离驾驶机动车。

A、正确

B、错误

正确答案：B

分析：《道路交通安全法》第九十一条：饮酒后驾驶机动车的，处暂扣六个月机动车驾驶证，并处一千元以上二千元以下罚款。对自己对他人负责，只要饮酒就不开车。本题题干描述有误，因此本题答案应为错误。

40、社会车辆可以在出租车停车位临时停车。

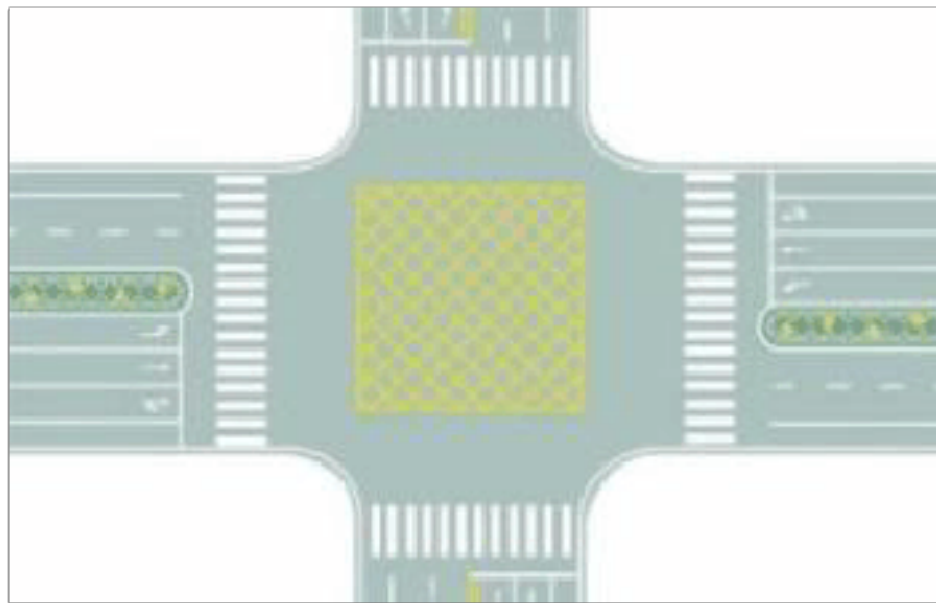
A、正确

B、错误

正确答案：B

分析：社会车辆不得在出租车停车位停车，长期或者临时都不行。

41、图中路口中央黄色路面标记是什么标线？



A、中心圈

B、导流线

C、网状线

D、停车区

正确答案：C

分析：路面黄色网状线表示严格禁止一切车辆长时或临时停车，防止交通阻塞。当黄色网状线前方有车辆停驶时，后车必须在黄色网状线外等候，直到确认黄色网状线前方有足够空间停驶本车时，方可驶过黄色网状线。另有黄色网状线是施画在重要国家机关、军队、大型企事业单位和公交枢纽门前，确保车辆进出时不致被门前拥堵车辆堵住的措施。网状线是黄色线，停车时禁止占用。

42、申请人以欺骗、贿赂等不正当手段取得机动车驾驶证的，公安机关交通管理部门收缴机动车驾驶证，撤销机动车驾驶许可，并处多少元以下罚款？

A、200 元

B、500 元

C、2000 元

D、1000 元

正确答案：C

分析：《机动车驾驶证申领和使用规定》规定：申请人以欺骗、贿赂等不正当手段取得机动车驾驶证的，公安机关交通管理部门收缴机动车驾驶证，撤销机动车驾驶许可，处二千元以下罚款；申请人在三年内不得再次申领机动车驾驶证。

43、道路交通安全违法行为累积记分的周期是多长时间？

A、3个月

B、6个月

C、12个月

D、24个月

正确答案：C

分析：常识题，牢记，时间为一年，共12分；下一年又重新开始计算。

44、驾驶机动车超员、超速，构成犯罪，被吊销驾驶证的，几年内不得申请机动车驾驶证？

A、10

B、1

C、3

D、5

正确答案：D

分析：《机动车驾驶证申领和使用规定》规定，有下列情形之一的，不得申请机动车驾驶证：（一）有器质性心脏病、癫痫病、美尼尔氏症、眩晕症、癔病、震颤麻痹、精神病、痴呆以及影响肢体活动的神经系统疾病等妨碍安全驾驶疾病的；（二）三年内有吸食、注射毒品行为或者解除强制隔离戒毒措施未满三年，以及长期服用依赖性精神药品成瘾尚未戒除的；（三）造成交通事故后逃逸构成犯罪的；（四）饮酒后或者醉酒驾驶机动车发生重大交通事故构成犯罪的；（五）醉酒驾驶机动车或者饮酒后驾驶营运机动车依法被吊销机动车驾驶证未满五年的；（六）醉酒驾驶营运机动车依法被吊销机动车驾驶证未满十年的；（七）驾驶机动车追逐竞驶、超员、超速、违反危险化学品安全管理规定运输危险化学品构成犯罪的依法被吊销机动车驾驶证未满五年的；（八）因本款第四项以外的其他违反交通管理法律法规的行为发生重大交通事故构成犯罪的依法被吊销机动车驾驶证未满十年的；（九）因其他情形依法被吊销机动车驾驶证未满二年的；（十）驾驶许可依法被撤销未满三年的；（十一）未取得机动车驾驶证驾驶机动车，发生负同等以上责任交通事故造成人员重伤或者死亡未满十年的；（十二）三年内有代替他人参加机动车驾驶人考试行为的；（十三）法律、行政法规规定的其他情形。未取得机动车驾驶证驾驶机动车，有第一款第五项至第八项行为之一的，在规定期限内不得申请机动车驾驶证。

45、机动车仪表板上（如图所示）亮时，表示什么？



A、空气内循环

B、侧面出风

C、空气外循环

D、迎面出风

正确答案：D

分析：直吹人脸表示迎面出风，垂直向下表示吹地板。

46、在车辆管理所管辖区域内，机动车驾驶证记载的机动车驾驶人信息发生变化申请换证时，应提交机动车驾驶证。

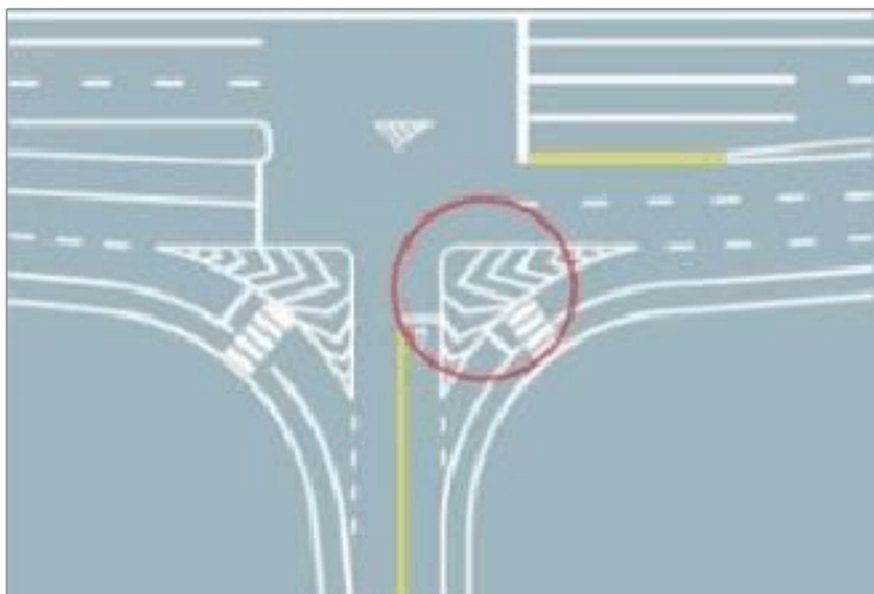
A、正确

B、错误

正确答案：A

分析：《机动车驾驶证申领和使用规定》规定，有下列情形之一的，机动车驾驶人应当在三十日内到机动车驾驶证核发地或者核发地以外的车辆管理所申请换证：（一）在车辆管理所管辖区域内，机动车驾驶证记载的机动车驾驶人信息发生变化的；（二）机动车驾驶证损毁无法辨认的。申请时应当确认申请信息，并提交机动车驾驶人的身份证明；属于第一款第一项的，还应当提交机动车驾驶证；属于身份证明号码变更的，还应当提交相关变更证明。

47、图中圈内三角填充区域是什么标线？



A、网状线

B、停车线

C、减速线

D、导流线

正确答案：D

分析：导流线的形式主要为一个或几个根据路口地形设置的白色 V 形线或斜纹线区域，表示车辆必须按规定的路线行驶，不得压线或越线行驶。主要用于过宽、不规则或行驶条件比较复杂的交叉路口,立体交叉的匝道口或其他特殊地点。

48、在这个路口可以掉头



A、正确

B、错误

正确答案：B

分析：严禁左转 自然就严禁掉头了

49、蓝色车辆遇到图中的情形时，下列做法正确的是？



A、按照前方交通信号灯只是直接通行

B、鸣喇叭提醒，让学生队伍中空出一个缺口，从缺口中穿行过去

以上内容仅为本文档的试下载部分，为可阅读页数的一半内容。如要下载或阅读全文，请访问：<https://d.book118.com/398122131002007006>