

青海省海东市循化撒拉族自治县 2023-2024 学年科目
一模拟考试 100 题附答案版

1、这个标志是何含义？



- A、进入前方路口要注意车辆
- B、进入前方路口要减速让行
- C、进入前方路口要停车让行
- D、进入前方路口要注意观察

正确答案：B

分析：这个标志是警告，前方减速让行。

2、车辆驶入匝道后，迅速将车速提高到每小时 60 公里以上。

- A、正确
- B、错误

正确答案：B

分析：应该是从匝道进入高速公路加速车道，在加速车道里迅速将车速提高到每小时 60 公里以上。

3、驾驶机动车在道路上向右变更车道可以不使用转向灯。

- A、正确
- B、错误

正确答案：B

分析：变更车道，一定要提前打转向灯。

4、在路口右转弯遇同车道前车等候放行信号时如何行驶？

- A、从前车左侧转弯
- B、从右侧占道转弯
- C、鸣喇叭让前车让路
- D、依次停车等候

正确答案：D

分析：和谐第一，该等的还是要等的。

5、这属于哪一种标志？



- A、禁令标志
- B、指示标志
- C、指路标志
- D、警告标志

正确答案：A

分析：牢记标志含义，这就是禁令标注，规定的。

6、对未按照国家规定投保交强险的车辆，交通警察可依法予以扣留。

- A、正确
- B、错误

正确答案：A

分析：未放置检验合格标志，未悬挂机动车号牌，未放置保险标志的，未携带机动车行驶证的都是可依法扣留车辆的。

7、如图，请判断左侧这辆小型客车有几种违法行为？



- A、有两种违法行为
- B、有三种违法行为
- C、有四种违法行为
- D、有五种违法行为

正确答案：C

分析：图中左侧这辆小型客车共有四种违法行为：1、开车打电话；2、未系安全带；3、未悬挂机动车号牌；4、占用应急车道。

8、准驾车型为小型汽车的，可以驾驶下列哪种车辆？

- A、低速载货汽车
- B、中型客车
- C、三轮摩托车
- D、轮式自行机械

正确答案：A

分析：小型汽车（C1）准驾车型：小型、微型载客汽车以及轻型、微型载货汽车；轻型、微型专项作业车，小型、微型自动挡载客汽车以及轻型、微型自动挡载货汽车，低速载货汽车，三轮汽车。

9、图中上路学习驾驶的自学直考小客车存在什么违法行为？



- A、学车专用标识粘贴的位置不符合规定
- B、搭载了除随车指导人员以外的其他人员
- C、自学人员和随车指导人员都没有系安全带
- D、没有使用教练车在道路进行训练

正确答案：B

分析：上路学习驾驶的自学直考小客车，不能搭载随车指导人员以外的其他人员。也就是说自学直考车，车上只能有两个人，学员和随车指导人员。

10、车辆驶入双向行驶隧道前，应开启远光灯。

- A、正确
- B、错误

正确答案：B

分析：车辆进入双向行驶隧道，一般都应该开启近光灯，而不要开启远光灯。若是隧道本身没有灯光的，可以变换灯光行驶，但是会车前要换成近光灯。

11、有下列哪种违法行为的机动车驾驶人将被一次记12分？

- A、驾驶故意污损号牌的机动车上道路行驶
- B、机动车驾驶证被暂扣期间驾驶机动车的

C、以隐瞒、欺骗手段补领机动车驾驶证的

D、驾驶机动车不按照规定避让校车的

正确答案：A

分析：B、C、D 的选项扣 6 分，A 扣 12 分

12、驾驶达到报废标准的机动车上道路行驶的，公安交通管理部门将会予以收缴，以下说法错误的是什么？

A、驾驶报废车影响驾驶人行车安全

B、报废车机械老化、容易发生交通事故

C、车辆不符合安全技术标准，需要强制报废

D、不美观，影响城市形象

正确答案：D

分析：由于报废车机械老化，极其不符合安全技术标准，因此很容易发生交通事故并影响驾驶人行车安全。为了保障道路交通安全，需要强制报废。因此不美观，影响城市形象的说法是错误的。

13、以下哪个仪表表示速度和里程表



A、图 1

B、图 2

C、图 3

D、图 4

正确答案：B

分析：速度和里程表的刻度标记一般超过两位数

14、货车上高速公路行驶超过规定限宽或者限高的，一次记几分？

A、6分

B、1分

C、3分

D、9分

正确答案：B

分析：《道路交通安全违法行为记分管理办法》规定，机动车驾驶人有下列交通违法行为之一，一次记1分：（一）驾驶校车、中型以上载客载货汽车、危险物品运输车辆在高速公路、城市快速路以外的道路上行驶超过规定时速百分之十以上未达到百分之二十的；（二）驾驶机动车不按规定会车，或者在高速公路、城市快速路以外的道路上不按规定倒车、掉头的；（三）驾驶机动车不按规定使用灯光的；（四）驾驶机动车违反禁令标志、禁止标线指示的；（五）驾驶机动车载货长度、宽度、高度超过规定的；（六）驾驶载货汽车载物超过最大允许总质量未达到百分之三十的；（七）驾驶未按规定定期进行安全技术检验的公路客运汽车、旅游客运汽车、危险物品运输车辆以外的机动车上道路行驶的；（八）驾驶擅自改变已登记的结构、构造或者特征的载货汽车上道路行驶的；（九）驾驶机动车在道路上行驶时，机动车驾驶人未按规定系安全带的；（十）驾驶摩托车，不戴安全头盔的。

15、未取得校车驾驶资格驾驶校车的，一次记多少分？

A、12分

B、9分

C、3分


D、6分

正确答案：B

分析：《道路交通安全违法行为记分管理办法》规定，机动车驾驶人有下列交通违法行为之一，一次记9分：（一）驾驶7座以上载客汽车载人超过核定人数百分之五十以上未达到百分之百的；（二）驾驶校车、中型以上载客载货汽车、危险物品运输车辆在高速公路、城市快速路以外的道路上行驶超过规定时速百分之五十以上的；（三）驾驶机动车在高速公路或者城市快速路上违法停车的；（四）驾驶未悬挂机动车号牌或者故意遮挡、污损机动车号牌的机动车上道路行驶的；（五）驾驶与准驾车型不符的机动车的；（六）未取得校车驾驶资格驾驶校车的；（七）连续驾驶中型以上载客汽车、危险物品运输车辆超过4小时未停车休

息或者停车休息时间少于 20 分钟的。

16、打开右转向灯开关（如图所示）亮起。



A、正确

B、错误

正确答案：B

分析：这个是左转向灯。

17、机动车驾驶人请他人代为接受交通违法行为处罚和记分，并支付经济利益的，会被处以所支付经济利益二倍以下的罚款。

A、正确

B、错误

正确答案：B

分析：《道路交通安全违法行为记分管理办法》规定，机动车驾驶人请他人代为接受交通违法行为处罚和记分并支付经济利益的，由公安机关交通管理部门处所支付经济利益三倍以下罚款，但最高不超过五万元；同时，依法对原交通违法行为作出处罚。

18、灯光开关旋转到这个位置时，全车灯光点亮。



A、正确

B、错误

正确答案：B

分析：此表示不是全车灯亮，而是示廓灯点亮。

19、这个标志的含义是告示车辆驾驶人应慢行或停车，确保干道车辆优先。




A、正确

B、错误

正确答案：A

分析：警告标志告示车辆驾驶人应慢行或停车，确保干道车辆优先。

20、驾驶机动车在这种道路上如何通行？



A、在道路两边通行

B、在道路中间通行

C、实行分道通行

D、可随意通行

正确答案：B

分析：《道路法》第三十六条..没有划分机动车道、非机动车道和人行道的，机动车在道路中间通行，非机动车和行人在道路两侧通行。[释义] .在没有明确的标志划道场合，机动车、非机动车和行人仍然应当按照“低速置右”的原则行驶，即：机动车在道路中间，非机动车和行人在道路两侧通行。

21、看到这个标志的时候，您应该主动确认您与前车之间的距离



A、正确

B、错误

正确答案：A

分析：记住就可以了，图标是什么？去“交通标志”里学习一遍吧。

22、驾驶人行车中看到注意儿童标志的时候，应怎样做？

A、加速行驶

B、绕道行驶

C、谨慎选择行车速度

D、保持正常车速行驶

正确答案：C

分析：祖国的花朵，当然要保护了。

23、请判断一下图中左侧机动车有几种违法行为？



A、五种违法行为

B、三种违法行为

C、四种违法行为

D、两种违法行为

正确答案：B

分析：1、打电话；2、未系安全带；3、占用应急车道。

24、以下哪个指示灯亮时，表示发动机温度过高？



A、图 1

B、图 2

C、图 3

D、图 4

正确答案：B

分析：记住就可以了，其他图标是什么？去“交通标志”里学习一遍吧。

25、机动车仪表板上（如图所示）亮表示什么？



A、防抱死制动系统故障

B、驻车制动处于解除状态

C、安全气囊处于故障状态

D、行车制动系统故障

正确答案：A

分析：ABS 就是防抱死制动系统

26、在高速公路上行车时，错过当前要驶出的出口时，应当在应急停车道上停车，等待车辆较少的时候再伺机倒车。

A、正确

B、错误

正确答案：B

分析：《道路交通安全法》规定：如果在高速公路上倒车、逆行、穿越中央分隔带掉头等严重交通违法行为，200 元处罚、一次性记 12 分。所以应该继续向前行驶，寻找下一个出口。

27、关于频繁变更车道的危害，下列说法错误的是什么？

A、扰乱交通秩序

B、易导致爆胎

C、影响正常通行

D、易引发交通事故

正确答案：B

分析：频繁变更车道的危害有：变更车道时，不观察车辆两侧和后方道路交通情况，不开启转向灯，随意频繁变更车道或强行突然变道，连续侵占正常通行车辆的行驶路线会严重扰乱道路通行秩序，影响其他车辆的正常通行，容易导致道路拥堵和剐蹭、碰撞等交通事故的发生，不容易导致爆胎。

28、机动车发生碰撞时座椅安全带主要作用是什么？

A、减轻驾乘人员伤害

B、保护驾乘人员腰部

C、保护驾乘人员颈部

D、保护驾乘人员胸部

正确答案：A

分析：座椅安全带可以保护人身体的大部分，故选 A

29、超车时应从前车的左侧超越，是因为左侧超车便于观察，有利于安全。

A、正确

B、错误

正确答案：A

分析：因为我们国家司机位置是在左边，便于观察，一转车头，就可以看到前方情况，而从右边超车，要整个车都转过去才能发现前面路况，相对危险，所以我国规定左侧超车，右侧禁止超车。

30、这个标志是何含义？



A、直行车道

B、单行路


C、向左转弯

D、禁止直行

正确答案：C

分析：明显是左转标志

31、这个标志是何含义？



- A、指示标志
- B、指路标志
- C、禁令标志
- D、警告标志

正确答案：D

分析：黄色底色的都是警告标志，图中表示驾驶者需要注意前方有十字路口。

32、图中蓝色车这种违法的行为会被记多少分？



- A、记2分
- B、记3分
- C、记9分
- D、记6分

正确答案：D

分析：除了以下三种情况，不得占用应急车道，否则记6分。1、在车辆发生突发故障无法正常行驶的时候；2 车内乘客突发疾病；3 开着特权车(救护车、救援车以及施工车辆等)。

33、驾驶小型载客汽车在高速公路上时速低于100公里时的最小跟车距离是多少？

A、不得少于50米

B、不得少于30米

C、不得少于20米

D、不得少于10米

正确答案：A

分析：根据《条例》第八十条 机动车在高速公路上行驶，车速超过每小时100公里时，应当与同车道前车保持100米以上的距离，车速低于每小时100公里时，与同车道前车距离可以适当缩短，但最小距离不得少于50米。

34、同车道行驶的车辆前方遇到下列哪种车辆不得超车？

A、执行任务的警车

B、超载大型货车

C、大型客车

D、城市公交车

正确答案：A

分析：同车道行驶的机动车，后车应当与前车保持足以采取紧急制动措施的安全距离。有下列情形之一的，不得超车：① 前车正在左转弯、掉头、超车的；② 与对面来车有会车可能的；③ 前车为《《执行紧急任务的警车、消防车、救护车、工程抢险车的》》；④ 行经铁路道口、交叉路口、窄桥、弯道、陡坡、隧道、人行横道、市区交通流量大的路段等没有超车条件的。

35、对行驶中的公共交通工具驾驶人使用暴力或者抢控驾驶操作装置，干扰公共交通工具正常行驶，危及公共安全，构成犯罪的，会被处以1年以下有期徒刑、拘役或者管制，并处或单处罚金。

A、正确

B、错误

正确答案：A

分析：《刑法》规定，对行驶中的公共交通工具的驾驶人员使用暴力或者抢控驾驶操纵装置，干扰公共交通工具正常行驶，危及公共安全的，处一年以下有期徒刑、拘役或者管制，并处或者单处罚金。前款规定的驾驶人员在行驶的公共交通工具上擅离职守，与他人互殴或者殴打他人，危及公共安全的，依照前款的规定处罚。有前两款行为，同时构成其他犯罪的，依照处罚较重的规定定罪处罚。

36、驾驶机动车在雾天行车开启雾灯和危险报警闪光灯。

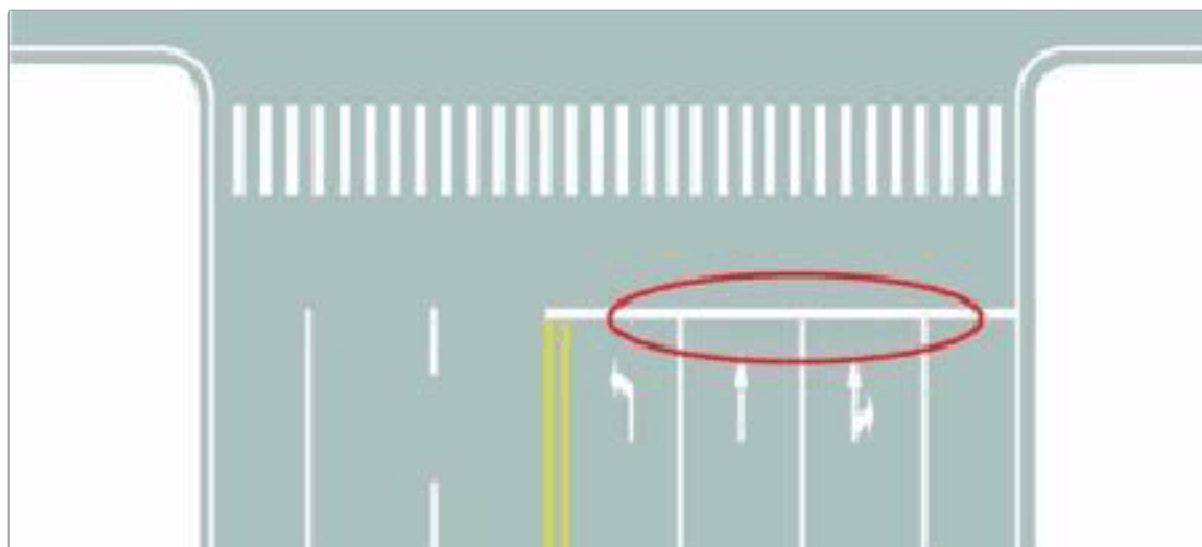
A、正确

B、错误

正确答案：A

分析：《安全法》第五十八条 机动车在夜间没有路灯、照明不良或者遇有雾、雨、雪、沙尘、冰雹等低能见度情况下行驶时，应当开启前照灯、示廓灯和后位灯，但同方向行驶的后车与前车近距离行驶时，不得使用远光灯。机动车雾天行驶应当开启雾灯和危险报警闪光灯。

37、图中圈内白色横实线是何含义？



A、停止线

B、让行线

C、减速线

D、待转线

正确答案：A

分析：红绿灯前的停止线呗，基础的基础

38、车辆管理所收到机动车所有人补领、换领机动车号牌的应用后，自受理之日起多少日内补发、换发号牌？

- A、三日
- B、十日
- C、五日
- D、十五日

正确答案：D

分析：《机动车登记规定》规定：机动车号牌灭失、丢失或者损毁的，机动车所有人应当向登记地车辆管理所申请补领、换领。申请时，机动车所有人应当确认申请信息并提交身份证明。车辆管理所应当审查提交的证明、凭证，收回未灭失、丢失或者损毁的号牌，自受理之日起十五日内补发、换发号牌，原机动车号牌号码不变。补发、换发号牌期间，申请人可以申领有效期不超过十五日的临时行驶车号牌。补领、换领机动车号牌的，原机动车号牌作废，不得继续使用。

39、这个标志是何含义？



- A、左侧通行
- B、不准通行
- C、两侧通行
- D、右侧通行

正确答案：A

分析：/表示两侧通行，/这个方向的表示左侧通行，\这个方向表示右侧通行。

40、上道路行驶的机动车不按规定安装机动车号牌的，一次记几分？

A、1分

B、12分

C、6分

D、3分

正确答案：D

分析：《机动车驾驶证申领和使用规定》规定，机动车驾驶人有下列交通违法行为之一，一次记3分：（一）驾驶校车、公路客运汽车、旅游客运汽车、7座以上载客汽车以外的其他载客汽车载人超过核定人数百分之二十以上未达到百分之五十的；（二）驾驶校车、中型以上载客载货汽车、危险物品运输车辆以外的机动车在高速公路、城市快速路以外的道路上行驶超过规定时速百分之二十以上未达到百分之五十的；（三）驾驶机动车在高速公路或者城市快速路上不按规定车道行驶的；（四）驾驶机动车不按规定超车、让行，或者在高速公路、城市快速路以外的道路上逆行的；（五）驾驶机动车遇前方机动车停车排队或者缓慢行驶时，借道超车或者占用对面车道、穿插等候车辆的；（六）驾驶机动车有拨打、接听手持电话等妨碍安全驾驶的行为的；（七）驾驶机动车行经人行横道不按规定减速、停车、避让行人的；（八）驾驶机动车不按规定避让校车的；（九）驾驶载货汽车载物超过最大允许总质量百分之三十以上未达到百分之五十的，或者违反规定载客的；（十）驾驶不按规定安装机动车号牌的机动车上道路行驶的；（十一）在道路上车辆发生故障、事故停车后，不按规定使用灯光或者设置警告标志的；（十二）驾驶未按规定定期进行安全技术检验的公路客运汽车、旅游客运汽车、危险物品运输车辆上道路行驶的；（十三）驾驶校车上道路行驶前，未对校车车况是否符合安全技术要求进行检查，或者驾驶存在安全隐患的校车上道路行驶的；（十四）连续驾驶载货汽车超过4小时未停车休息或者停车休息时间少于20分钟的；（十五）驾驶机动车在高速公路上行驶低于规定最低时速的。

41、这个标志是何含义？



A、直行和向右转弯

B、直行和向左转弯

C、禁止直行和向左转弯

D、只准向右和向左转弯

正确答案：B

分析：直行和向左转弯：表示只准一切车辆直行和向左转弯。此标志设在车辆必须直行和向左转弯的路口以前适当位置。

42、车辆涉水后，应保持低速行驶，怎样操作制动踏板，以恢复制动效果？

A、持续重踏

B、间断重踏

C、持续轻踏

D、间断轻踏

正确答案：D

分析：间断轻踏，给刹车片一些温度可以蒸发一些水，恢复制动。

43、这个标志是何含义？



A、不准临时或长时间停、放

B、可以停下来装卸货物

C、可以临时停车等待同行的人

D、可以停下来让同行的人下车

正确答案：A

分析：图中标志表示，不准临时或长时停、放。

44、驾驶人在实习期内驾驶机动车上高速公路行驶，应当由持相应或者包含其准驾车型驾驶证三年以上的驾驶人陪同。

A、正确

B、错误

正确答案：A

分析：《机动车驾驶证申领和使用规定》规定：驾驶人在实习期内驾驶机动车上高速公路行驶，应当由持相应或者包含其准驾车型驾驶证三年以上的驾驶人陪同。其中，驾驶残疾人专用小型自动挡载客汽车的，可以由持有小型自动挡载客汽车以上准驾车型驾驶证的驾驶人陪同。

45、驾驶中型以上载客汽车在高速公路上行驶超过规定时速未达 20% 的，对驾驶人处以（ ）的处罚。

A、罚款 100 元、驾驶证记 6 分

B、罚款 200 元、驾驶证记 3 分


C、罚款 200 元、驾驶证记 6 分

D、罚款 100 元、驾驶证记 3 分

正确答案：C

分析：驾驶校车、中型以上载客载货汽车、危险物品运输车辆在高速公路、城市快速路上行驶超过规定时速未达到 20%，一次记 6 分，罚款 200 元；超过规定时速 20% 的，一次记 12 分，罚款 200 元。

46、这个标志是何含义？



A、靠左侧道路行驶

- B、只准向左转弯
- C、左侧是下坡路段
- D、靠道路左侧停车

正确答案：A

分析：靠左侧道路行驶：表示只准一切车辆靠左侧道路行驶。此标志设在车辆必须靠左侧行驶的路口以前适当位置。

47、如图所示，A 车在此时进入左侧车道是因为进入实线区不得变更车道。



- A、正确
- B、错误

正确答案：A

分析：说的没错，在虚线处时就应进入要走的车道，不能压实现变道。

48、机动车所有人申请转移登记前，应当将涉及该车的道路交通安全违法行为和交通事故处理完毕。

- A、正确
- B、错误

正确答案：A

分析：第十八条已注册登记的机动车所有权发生转移的，现机动车所有人应当自机动车交付之日起三十日内向登记地车辆管理所申请转移登记。机动车所有人申请转移登记前，应当将涉及该车的道路交通安全违法行为和交通事故处理完毕。

以上内容仅为本文档的试下载部分，为可阅读页数的一半内容。如要下载或阅读全文，请访问：<https://d.book118.com/417133043200010005>