

# 小学二年级数学应用题大全

## 一. 解答题(共 50 题, 共 364 分)

停车场收费标准	
小汽车	4 元
面包车	6 元
货车	8 元

1.

(1) 如上图所示, 8 辆小汽车停车收费多少元?

(2) 一辆面包车和一辆货车停车收费多少元?

2. 阳光小学的学生参加三项体育活动人数的统计表如下。请你算出跑步人数并填入表内。然后解决下面两个问题。

跳高	跑步	打球	总计
26 人		18 人	95 人

(1) 请你算出跑步人数并填入表内。

(2) 跑步的比打球的多多少人?

(3) 跳高的比跑步的少多少人?

3.



2 元一枝



18 元一个



27 元一本



6 元一副

(1) 买一枝铅笔, 一个放大镜和一本书, 一共需要多少元?

(2) 40 元你可以同时买那三件商品, 还剩下多少钱?

(3) 你能提出一个用乘法解决的问题，并解答吗？

4. 下面是三个小组三天的销售情况统计表。


	一组	二组	三组
第一天(个)	23	27	30
第二天(个)	22	28	
第三天(个)		45	27
合计(个)	79		86

(1) 算一算第二组三天一共卖出多少个西瓜？

(2) 第一组第三天卖出多少个西瓜？

(3) 第三组第二天卖出多少个西瓜？

5. 幼儿园有 70 名小朋友。把下面这些苹果分给小朋友，每人分一个，够吗？



6. 爸爸、妈妈比赛跳绳，每人跳 3 次，总分高的获胜。(每跳 1 下记 1 分)

	爸爸	妈妈
第一次	24下	25下
第二次	20下	37下
第三次	35下	19下

(1) 比一比，你能直接看出谁获胜了吗？


(2) 算一算，他们分别得了多少分？到底谁获胜了？

7. 一共有多少颗跳棋子？



8. 小熊捡了 2 个玉米，小猴捡的是小熊的 4 倍，小猴一共捡了几个玉米？

9. 小猫钓鱼。



(1) 小花钓了多少条鱼？

(2) 小白钓了多少条鱼？



10. 5元



3元



4元

(1) 买 4 枝钢笔要多少钱？

(2) 买一枝钢笔和一本笔记本需要多少钱？

(3) 你还能提出什么数学问题？

11. 购物。



(1) 一顶帽子比一个书包便宜 24 元，一顶帽子多少钱？

(2) 一双鞋比一顶帽子贵 45 元，一双鞋多少钱？

(3) 一个书包、一本书和一个布娃娃一共多少钱？


12. 你知道吗？2020 年元旦节这一天，长沙世界之窗非常热闹。他们接待了许多来自外地的游客。下面是在 5 分钟里记下的结果。

城市	北京	上海	广州	西安	昆明
人数	25	63	50	30	32

根据上面的统计，提出自己的问题，并列算式。

问题： \_\_\_\_\_

列式：\_\_\_\_\_



原来一共有多少个西瓜？

14. 妈妈买水果共花了多少元？你是怎样算的？请写出来。



15. 1只小兔拔2个萝卜，7只小兔拔多少个萝卜？



加法算式：\_\_\_\_\_

乘法算式：\_\_\_\_\_

口答：7只小兔拔（\_\_\_\_\_）个萝卜。

16. 一个小于 5 的数乘上 3，把它的个位数与十位数上的数字相加，重新得到一个数，这个数是 1 的 3 倍，请问这个数字是多少？

17. 下面是花园小区今年种树的棵数。

树种	杨树	柳树	松树
棵数	48	30	9

(1) 杨树和柳树一共种了多少棵？

(2) 杨树比松树多多少棵？

(3) 松树比柳树少多少棵？

18. 踢毽子。

娟娟	秀秀	英英
33 下	48 下	26 下

(1) 娟娟和秀秀一共踢了多少下？

(2) 秀秀比娟娟多踢多少下？

(3) 你不能提出什么数学问题，并列式解答？

19. 解答题。



(1) 买9个玩具鸭子要花多少钱？

(2) 买5辆玩具汽车和1个洋娃娃，50元钱够吗？

(3) 请你再提出一个用乘法计算的问题并解答。

20. 王老师带领同学们去划船，男同学9人，女同学8人。



(1) 一共有多少人去划船？

(2) 租3条大船一共需要多少钱？

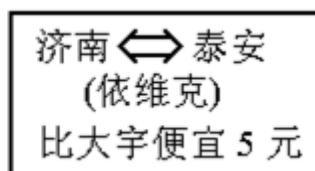
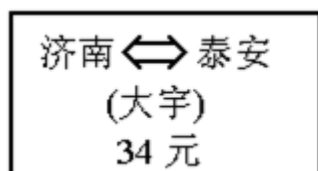


(3) 请你提出一个数学问题，并解答。

21. 多少个苹果？



22. 解答题。



(1) 李叔叔乘坐依维克车去泰安，车票是多少钱？

(2) 他拿 80 元钱买了些食品，找回 33 元，买食品花了多少钱？

23. 解答题。



(1) 猴子比鸭子多多少只？

(2) 鸭子和猴子一共有多少只？

24. 每相邻两棵树相隔 5 米，小兔从第 1 棵树跑到第 5 棵树，小兔跑了多少米？



25. 下面是学校体育器材室的体育器材情况。


		
篮球 26 个	排球 18 个	足球 35 个

(1) 篮球和足球一共有多少个？

(2) 排球比足球少多少个？

(3) 足球比篮球多多少个？

26. 小红、王老师和李老师去商店买东西。



(1) 小红买了 3 个日记本，用了多少钱？

以上内容仅为本文档的试下载部分，为可阅读页数的一半内容。如要下载或阅读全文，请访问：

<https://d.book118.com/428064115044006072>