

西城区高三统一测试试卷

历史

2024.4

本试卷共8页，100分。考试时长90分钟。考生务必将答案答在答题卡上，在试卷上作答无效。考试结束后，将本试卷和答题卡一并交回。

第一部分

本部分共15题，每题3分，共45分。在每题列出的四个选项中，选出最符合题目要求的一项。

1. 2024年春，中国国家博物馆推出了“龙肇新元——甲辰龙年新春文化展”开展。下图是其中的部分展出文物。由此可见（ ）




新石器时代红山文化玉龙



战国龙虎纹双耳盘



唐代双龙耳瓶



清宫廷金漆雕龙纹宝座

- ①龙文化的传统源远流长 ②龙的形象始终代表中国古代皇权
③龙文化的载体多样广泛 ④龙的形象逐步成为中华文明象征
- A. ①②③ B. ①②④ C. ①③④ D. ②③④

2. 下表展示了西汉初期一系列致富职业和活动，对此理解正确的是（ ）

| 姓名 | 职业和活动 |
|-----|---------------|
| 曹邴氏 | 冶铁、经商、放贷 |
| 刁闲 | 贩卖鱼、盐 |
| 任氏 | 储存、交易粮食、力田、畜田 |
| 桥姚 | 牧养马、牛、羊 |

- A. 休养生息政策促进经济发展 B. 长途大额贸易发展迅速
C. 此时政府放弃重农抑商政策 D. “盐铁官营”效果明显

3. 南朝刘宋时，农家子弟沈庆之官至宰辅，小贩出身的戴法兴掌管朝廷内务；萧齐时，出身寒微的纪僧真执掌中书后拜访士族遭到蔑视；萧梁时，北齐降将侯景提出与南朝望族王、谢两家联姻，被梁武帝劝诫与

门第低一些的家族联姻为宜。上述现象说明（ ）

- ①门阀政治在南朝逐渐衰落
- ②南北方文化交流日趋加强
- ③九品中正制加强中央集权
- ④门第差异的意识依然明显

A. ①② B. ①④ C. ②③ D. ③④

4. 下列表述中可以从史实直接推断出结论的是（ ）

| | 史实 | 结论 |
|---|-----------------------|---------------|
| A | 宋朝一年两熟的稻麦复种制在南方已经普及 | 当地的土地利用率得到提高 |
| B | 吸收佛、道思想阐释儒学的新学派——理学形成 | 理学成为基层教化的主要工具 |
| C | 辽、夏、金都模仿汉字字形创造本民族文字 | 民族交融限于文化层面 |
| D | 元朝的简仪是当时世界上先进的天文观测仪器 | 元代科技全面领先世界 |

A. A B. B C. C D. D

5. 以下关于中国古代不同时期政治状况的表述，按时序排列正确的是（ ）

- ①虽置三公，事归台阁，自此以来，三公之职，备员而已
- ②大盗既灭，而武夫战卒以功起行阵，列为侯王者，皆除节度使
- ③天子建国，诸侯立家，卿置侧室，大夫有贰宗，士有隶子弟
- ④掌内外藩蒙古、回部及诸番部，制爵禄，定朝会，正刑罚

A. ①②③④ B. ③②④① C. ③①②④ D. ③④②①

6. 1906年刊发在《北京画报》上的插画“恭贺立宪”配文“改行立宪，是中国的大转折，是几千年没有的大幸福。”该插图反映了（ ）



- ①戊戌维新冲击旧式官僚体制
- ②西式的服饰乐器得到了传播

③全国人民广泛拥护共和政体 ④部分人士对政治变革的憧憬

A. ①③ B. ①④ C. ②③ D. ②④

7. 1948年12月，华北人民政府在河北石家庄成立了中国人民银行，开始统一发行人民币。这一史实表明

- A. 解放战争的顺利进行 B. 党的工作重心已由乡村转移到城市
C. 国民经济的全面恢复 D. 已基本摧毁国民党的主要军事力量

8. 下表是我国“一五”计划部分指标变动情况。据此可知（ ）

| 年份 \ 数据 | 工业基本建设 投资额（亿元） | 工业总产值年均 速度（ % ） | 农业总产值年均递增 速度（ % ） |
|-------------|-------------------|--------------------|----------------------|
| 1953年计划概要指标 | / | 25.0 | 7.0 |
| 1954年拟定计划指标 | 292 | 15.5 | 5.0 |
| 1955年正式计划指标 | 248.5 | 14.7 | 4.3 |

- ①体现了国家向社会主义工业化努力 ②推动了土地改革顺利进行
③反映了全面建设时期总路线的要求 ④党依据国情适时调整计划

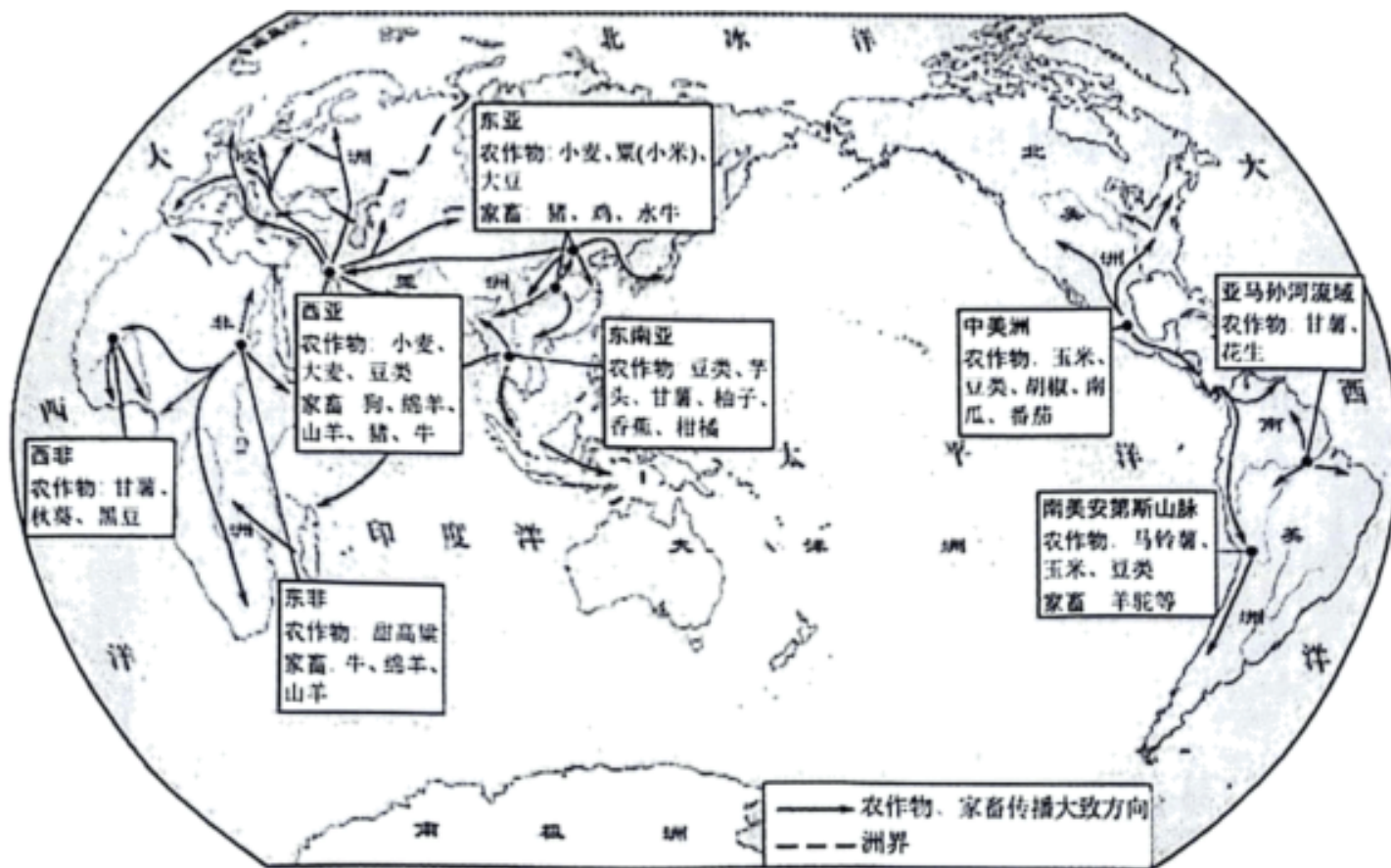
A. ①② B. ①④ C. ②③ D. ③④

9. 1977年11月，安徽省委制定了《关于当前农村经济政策几个问题的规定》，尊重生产队的自主权，减轻社员的负担，落实按劳分配政策。1977年底，甘肃省委规定允许对农作物采取定额管理，包工到作业组的做法。1978年2月，四川省委制定《关于目前农村经济政策几个主要问题的规定》，取消不准农民搞家庭副业、农民自销多余产品的禁令。这说明（ ）

- ①十一届三中全会揭开了农村改革的序幕 ②关于八字方针的调整得到了落实
③农业农村农民是国计民生的基础性大事 ④全面农村改革前多地进行了探索

A. ①② B. ①④ C. ②③ D. ③④

10. 下图为农耕畜牧的产生及其传播示意图，由此可知（ ）



- A. 国家的形成促进了早期农牧业产生
- B. 早期农业和畜牧业起源于欧亚大陆
- C. 各地发展了适合本地区的农业畜牧业
- D. 人类从定居形成聚落过渡到经常迁徙

11. “撤回忠诚”是从 11 世纪开始的有关欧洲封建关系的法律词汇，即领主如果不履行诺言，附庸可以离弃领主。该现象（ ）

- A. 说明封建制度在欧洲终结
- B. 是契约意识在政治上的表现
- C. 反映欧洲教权与王权对立
- D. 表明罗马法取代了日耳曼法

12. 有学者认为美国独立战争前，移民在新的自然环境和社会环境里已基本上融合在一起，铸造成美利坚民族的雏形，但来自非洲的黑人移民并未能有效融入其中。这是由于（ ）

- A. 黑人奴隶制度的存在
- B. 缺乏共同的语言交流
- C. 非洲与北美缺乏了解
- D. 启蒙思想未传入北美

13. 1872年，法国作家儒勒·凡尔纳发表科幻小说《八十天环游地球》，主人公英国绅士福格与朋友约定能用 80 天时间环游地球。随后一路历经曲折、克服困难，从伦敦出发，路经地中海、红海、印度洋、太平洋、大西洋，游历印度、新加坡、日本、美国等地返回，用时正好 80 天。小说的情节反映当时（ ）

- ①新的国际航线得以开辟
- ②世界市场已经最终形成
- ③交通运输条件得到改善
- ④具有积极进取时代精神

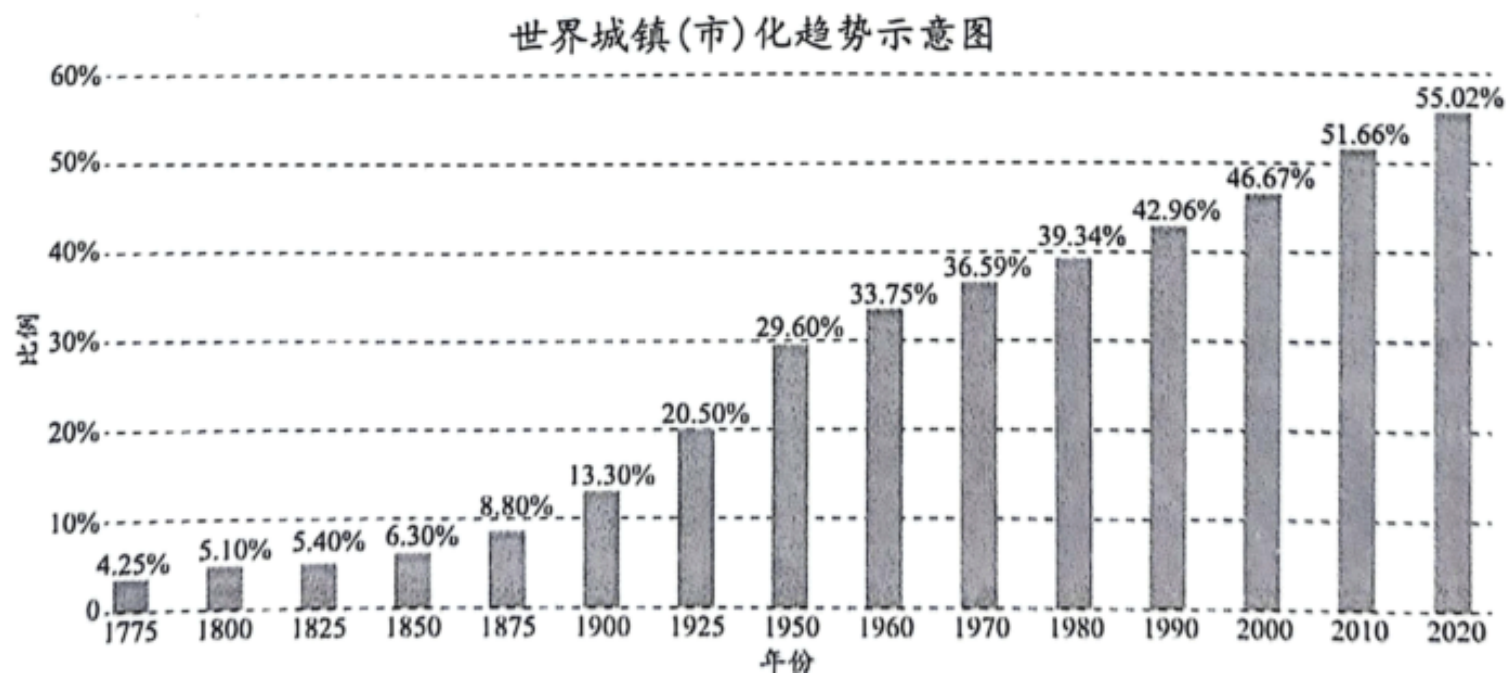
- A. ①②
- B. ①④
- C. ③④
- D. ②③

14. 下图为“1937 年世界部分国家国民收入及防务开支比重表”，从表格数据中能够得出的直接认识是（ ）

| | 国民收入 (亿美元) | 防务开支比重 (%) |
|-----|---------------|---------------|
| 美国 | 680 | 1.5 |
| 英帝国 | 220 | 5.7 |
| 法国 | 100 | 9.1 |
| 德国 | 170 | 23.5 |
| 意大利 | 60 | 14.5 |
| 苏联 | 100 | 26.4 |
| 日本 | 40 | 28.2 |

- A. 美国已从经济大危机中复苏
 B. 轴心国集团疯狂的扩军备战
 C. 苏联基本实现了“工业化”
 D. 英国受到经济大危机的重创

15. 依据以下图表数据，分析恰当的是



- ①工业革命时期世界城镇化增速明显加快
 ②第二次工业革命前世界城镇化比例较低
 ③冷战结束前世界城镇人口已超乡村人口
 ④工业化发展推动了人类社会城市化进程

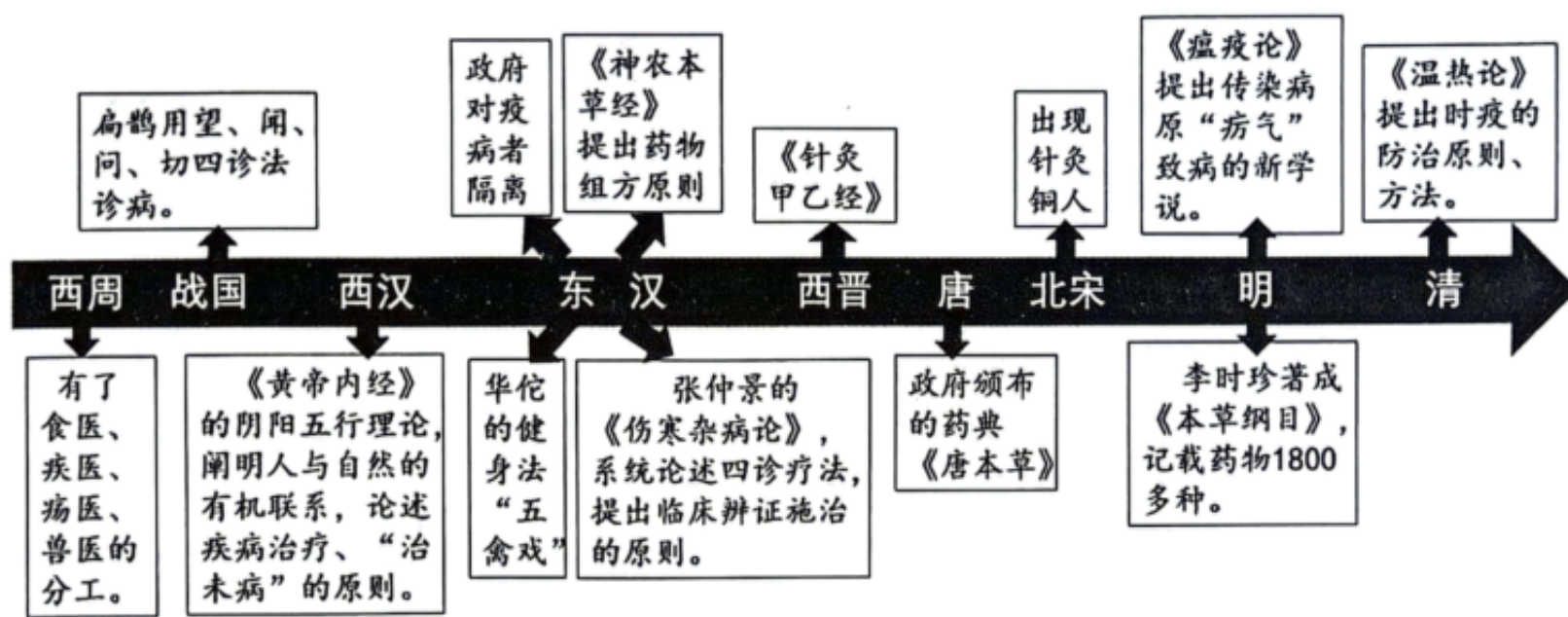
- A. ①③
 B. ①④
 C. ②③
 D. ②④

第二部分

本部分共 5 题，共 55 分。

16. 中医药学

材料 中国古代中医药学发展示意图

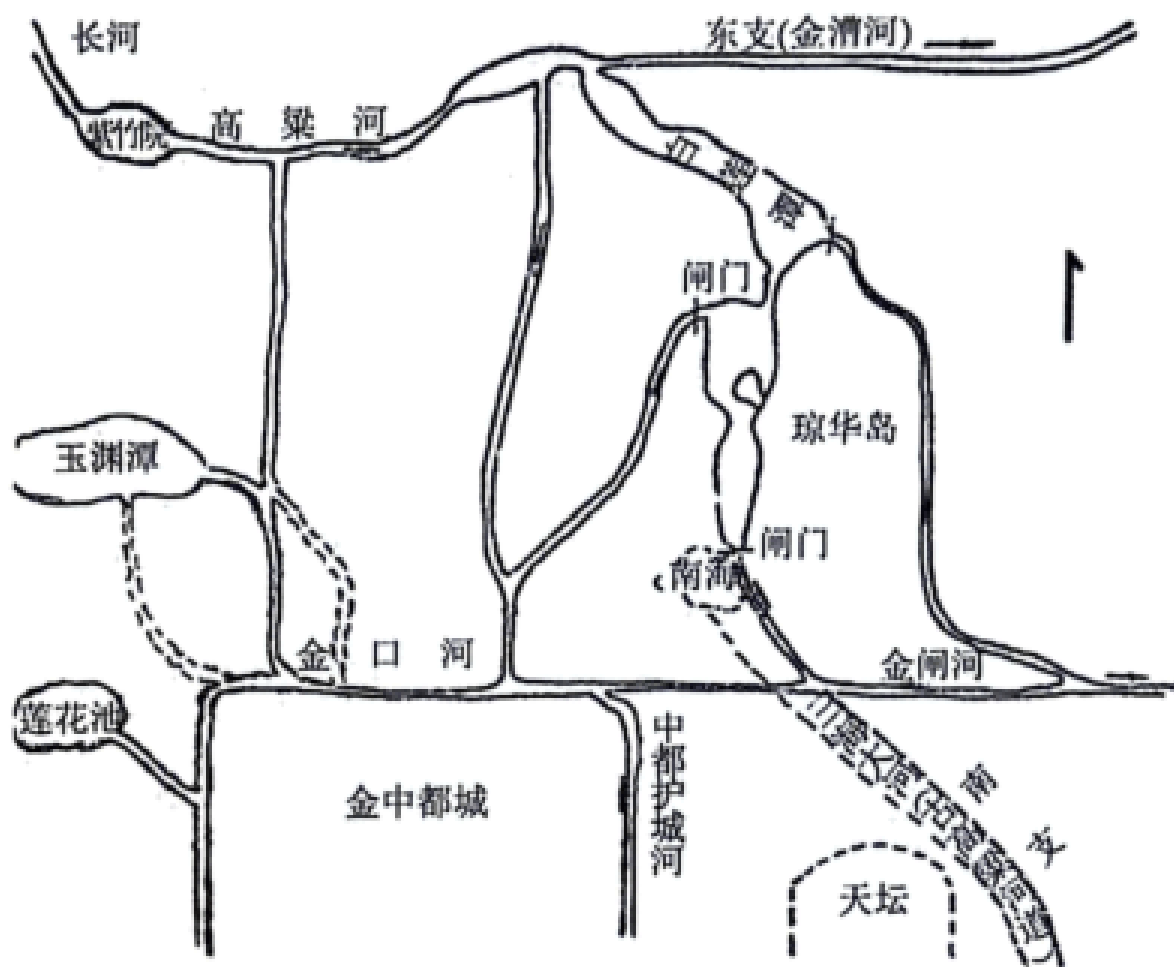


- (1) 阅读材料，概括中国古代中医药学的特点并加以说明。
- (2) 结合材料和所学，简述中医药学发展对中国古代社会的影响。

17. 运河——流动的文化遗产

材料一 金朝定都中都，漕运主要是依靠今北京城北的坝河，但由于北京地势西北高、东南低，坝河的河床坡度很大，难以存留足够深度的水量。为此，金朝政府在其上游的高粱河和白莲潭设置闸门来调节坝河的水量。但终因这条渠道水源单一和渠道狭窄，漕粮仍然主要依靠陆运。

元朝郭守敬设计导引昌平白浮泉水西行，从上游绕过沙河、清河谷地，循西山麓转而东南，沿着平缓的坡降，汇集沿途泉流，聚入瓮山泊（今昆明湖）；再从瓮山泊扩浚长河、高粱河至和义门（今西直门）水关入大都城，汇入积水潭；又从万宁桥下沿皇城东墙外南下出丽正门东水关，东南流至文明门（今崇文门以北）外，与金代的闸河故道相接，下至通州高丽庄入白河（即潞水，今北运河）。这项水利工程为大都城开辟了新水源，使大都城内的积水潭成为新的大运河终点。忽必烈将这条新的水道赐名为“通惠河”。



金代高粱河水系与闸河沟通示意图

(1) 结合图文资料，说出金元时期是如何解决北京漕运难题的。

材料二 大宗货品的运输走水路比陆路要便宜，因此天然河道和人工运河对运输粮食等大宗商品十分重要。……元代未能一直维持运河的畅通。明朝永乐帝迁都北京，迫使政府再次斥巨资开凿大运河。明代对施工难度较大的运河山东段进行了至关重要的河道改道。运河重开后，除有数次黄河改道影响其通航外，直至明代结束，始终通行不废。大运河为整个明王朝及其经济的统一提供了重要的基础设施保障，但也是一个巨大的负担。运河的治理，使本已犯难的河政变得更加难以负荷。

(2) 依据材料二，结合所学，分析明朝重新开通运河的原因和影响。

18. 中国视角下的法国

材料一（法兰西）新王嗣位。是时北方亚美利加之民与英吉利国交战，王助亚美利加战胜。然其饷银渐减，故招爵、僧、民三品会集，以寻聚敛之法。国民弃王杀之，七年国政混乱。有臣曰拿破仑者，武功服众，嘉庆八年登王位，连九年战服四方，恃强黩武，旋败失位……欧罗巴用武之国，以法兰西为最。争先处强，不居人下；偶有凌侮，必思报复。

——摘编自魏源撰《海国图志》卷四十一

材料二自千七百八十九年，法兰西之人权宣言刊布中外。欧罗巴之人心，晓然于人权之可贵，群起而抗其君主，仆其贵族。

自竞争人权之说兴，机械资本之用广，其言遂演而日深：君主贵族之压制，一变而为资本家之压制。欲去此压制，继政治革命而谋社会革命者，社会主义是也。法兰西人圣西孟及傅里耶，其最著称者也。其后数十年，德意志之马克思，承法人之师说，发挥而光大之。

——摘编自陈独秀：《法兰西人与近世文明》（1915年9月）

魏源与陈独秀对法国关注点明显不同。结合所学，加以阐释。

19. 华侨华人与中国抗战和建设

| 时期 | 概况 | 相关事例 |
|--------|--|---|
| 全面抗战时期 | <p>1940年中共《新中华报》社论中指出:抗战以来,他们(侨胞)献给祖国的捐款已在六万万以上。南洋侨胞献给祖国的,单是奎宁丸一种,其价值达二百五十万元。回国参战的同胞中间,还有活跃在西北前线的华侨服务团,以及出生入死的担任战地采访的华侨记者团。</p> | <p>1937年泰国华侨寄回的家书写到:“目下闸北(在上海)一带,悉遭敌人焚烧,……现沪上难民达百万之众,诚属可怜,然我人虽旅居海外,无不时时怀祖国,近日各制裁衣裤,寄回祖国,以赠伤兵,聊尽国民之职耳。”</p> |
| 改革开放时期 | <p>改革开放初期,海外华侨面对国内较差的投资环境和高风险,率先来到中国投资拓荒。商务部统计,自改革开放以来至2005年年底,我国累计吸收的6224亿美元外商投资中,至少有67%是由华商或华商主导的企业带来的。投资方式由中外合资、合作向外商独资发展;投资领域由加工业逐步转向机械制造等生产性项目和资本相对密集的产</p> | <p>邓小平指出“确定四个经济特区,主要是从地理条件考虑的。深圳毗邻香港,珠海靠近澳门,汕头是因为东南亚国家潮州人多,厦门是因为闽南人在外国经商的很多。”菲律宾华侨施至成说到“我在中国大陆的投资,一半是基于乡情,另一半才是基于商业考虑,……为祖国的富强作一点贡献,是每一位华夏儿女应该做的。</p> |

| | | |
|--|------------------------------|--|
| | 业。21 世纪初，高新科技及服务业领域投资比例有所增长。 | |
|--|------------------------------|--|

依据材料，结合所学，围绕“华侨华人与中国抗战和建设”主题，自拟论题，加以论述。

（要求：观点正确，史论结合，论述充分，逻辑严谨）

20. 变化的格局

材料一 第二次世界大战使整个欧洲遭受了几乎是致命的打击。随着又一代年轻人被战火吞噬，欧洲各国的基本国力几乎也在这场战争中消耗殆尽，从而导致了欧洲的整体衰落。不仅如此，欧洲还被苏联和美国划分为东西两大势力范围，造成了它在地理上、政治制度上、经济模式上和意识形态方面的一分为二，形成了欧洲历史上前所未有的现象。随着经济的发展和民族主义思想意识更为广泛的传播，殖民地半殖民地人民奋起“对西方造反”……这不仅是 20 世纪最伟大的革命性变化，是人类历史的极其巨大的进步，也是对旧欧洲的又一个致命打击。

因此，经过第二次世界大战，欧洲在 19 世纪建立起来的世界霸权地位一去不复返了。

（1）阅读材料一，结合所学，简析第二次世界大战后欧洲的世界霸权地位“一去不复返了”的背景。

材料二 16 世纪以后，形成了两种类型的文化帝国主义。第一种是官方性质的，旨在殖民帝国时代增加和维持帝国的权威。20 世纪后半期，随着非殖民化浪潮兴起，第二种类型的非官方文化帝国主义也应运而生。跨国公司在全球范围的经营活动和通讯行业的发达，发挥了塑造人之价值观、情趣态度的作用，如无所不在的广告宣传。

面对这样的侵袭，尼加拉瓜人提供了一个取代弥漫第三世界的文化帝国主义的做法。去年（1979 年）的一次文化活动浪潮，尼加拉瓜人用艺术的方式在绘画、舞蹈、歌唱、写作和工艺创造中表达自己。“人们正爆发出一股干劲和热情，”一位民歌手说。政府也在努力拯救尼加拉瓜的文化传统，尼加拉瓜文化部长卡德纳尔说：“文化必须交到人民手中，他们既是文化的创造者也是消费者。”

（2）阅读材料二，结合所学，指出“非官方文化帝国主义”产生的原因及第三世界的应对之道。

西城区高三统一测试试卷

历史

2024.4

本试卷共8页，100分。考试时长90分钟。考生务必将答案答在答题卡上，在试卷上作答无效。考试结束后，将本试卷和答题卡一并交回。

第一部分

本部分共15题，每题3分，共45分。在每题列出的四个选项中，选出最符合题目要求的一项。

1. 2024年春，中国国家博物馆推出了“龙肇新元——甲辰龙年新春文化展”开展。下图是其中的部分展出文物。由此可见（ ）




新石器时代红山文化玉龙



战国龙虎纹双耳盘



唐代双龙耳瓶



清宫廷金漆雕龙纹宝座

- ①龙文化的传统源远流长 ②龙的形象始终代表中国古代皇权
③龙文化的载体多样广泛 ④龙的形象逐步成为中华文明象征

- A. ①②③ B. ①②④ C. ①③④ D. ②③④

【答案】C

【解析】

【详解】本题是组合选择题。准确时空是：古代（中国）。根据图片信息可知，从石器时代的玉龙，一直发展到清代的宫廷金漆雕龙纹宝座，这一历程体现了龙文化的传统源远流长，①正确；龙的形象只有在封建社会代表着皇权，石器时代并未有皇帝，②错误；根据图片信息可知，龙文化的载体有玉、青铜器、瓷器、漆器，从而可以看出是多样广泛的，③正确；根据所学可知，在中华文明绵延不绝的发展进程中，龙的形象逐步成为中华文明的象征，④正确。故选C项。

2. 下表展示了西汉初期一系列致富职业和活动，对此理解正确的是（ ）

| 姓名 | 职业和活动 |
|-----|---------------|
| 曹邴氏 | 冶铁、经商、放贷 |
| 刁闲 | 贩卖鱼、盐 |
| 任氏 | 储存、交易粮食、力田、畜田 |

| | |
|----|---------|
| 桥姚 | 牧养马、牛、羊 |
|----|---------|

- A. 休养生息政策促进经济发展
B. 长途大额贸易发展迅速
C. 此时政府放弃重农抑商政策
D. “盐铁官营”效果明显

【答案】A

【解析】

【详解】本题是单类型单项选择题。据本题主题干的设问词，可知这是正向题。据本题时间信息可知准确时空是：西汉（中国）。根据表格中的职业和活动可知，这些人都是通过农业与畜牧业及一定的商业活动致富发家了，这体现出了汉代经过初期的休养生息政策为商业交易提供了大量剩余产品，从而推动了经济发展，A项正确；长途大额贸易在明清时期才得以迅速发展，排除B项；政府放弃重农抑商政策不符合史实，排除C项；盐铁官营是强调由政府垄断盐铁的生产与销售，不符合题意，排除D项，故选A项。

3. 南朝刘宋时，农家子弟沈庆之官至宰辅，小贩出身的戴法兴掌管朝廷内务；萧齐时，出身寒微的纪僧真执掌中书后拜访士族遭到蔑视；萧梁时，北齐降将侯景提出与南朝望族王、谢两家联姻，被梁武帝劝诫与门第低一些的家族联姻为宜。上述现象说明（ ）

- ①门阀政治在南朝逐渐衰落 ②南北方文化交流日趋加强
③九品中正制加强中央集权 ④门第差异的意识依然明显

- A. ①② B. ①④ C. ②③ D. ③④

【答案】B

【解析】

【详解】本题是组合选择题。时空是：魏晋南北朝时期（中国）。据材料“南朝刘宋时，农家子弟沈庆之官至宰辅，小贩出身的戴法兴掌管朝廷内务”可知，南朝刘宋时期，许多并非出身于世家大族的人进入官僚体系，反映了门阀政治在南朝的一种衰落趋势，①符合题意，据材料“出身寒微的纪僧真执掌中书后拜访士族遭到蔑视；萧梁时，北齐降将侯景提出与南朝望族王、谢两家联姻，被梁武帝劝诫与门第低一些的家族联姻为宜”可知，当时人们在婚姻和日常生活中仍旧受到门第差异意识的影响，④符合题意，①④符合题意，B项正确；材料仅涉及北方降将一人例子，不能得知南北文化交流加强，②不符合题意，排除AC项；据所学知识可知，南朝时期，九品中正制的选官标准只看门第，是的世家大族垄断地方选官权，不利于中央集权，③不符合题意，排除D项。故选B项。

4. 下列表述中可以从史实直接推断出结论的是（ ）

| | 史实 | 结论 |
|--|----|----|
|--|----|----|

| | | |
|---|-----------------------|---------------|
| A | 宋朝一年两熟的稻麦复种制在南方已经普及 | 当地的土地利用率得到提高 |
| B | 吸收佛、道思想阐释儒学的新学派——理学形成 | 理学成为基层教化的主要工具 |
| C | 辽、夏、金都模仿汉字字形创造本民族文字 | 民族交融限于文化层面 |
| D | 元朝的简仪是当时世界上先进的天文观测仪器 | 元代科技全面领先世界 |

A. A

B. B

C. C

D. D

【答案】A

【解析】

【详解】本题是单类型单项选择题。据本题主题干的设问词，可知这是正向题。据本题时间信息可知准确时空是：古代（中国）。根据所学知识可知，宋朝时期一年两熟的稻麦复种制在南方已经普及，这说明当地的土地利用率得到提高，A项正确；结合所学可知，理学产生后成为了封建社会的官方哲学，并不是基层教化的主要工具，排除B项；辽、夏、金都模仿汉字字形创造本民族文字并不能说明民族交融限于文化层面，还会有政治、风俗习惯等层面，排除C项；元代科技全面领先世界说法夸大事实，排除D项。故选A项。

5. 以下关于中国古代不同时期政治状况的表述，按时序排列正确的是（ ）

①虽置三公，事归台阁，自此以来，三公之职，备员而已

②大盗既灭，而武夫战卒以功起行阵，列为侯王者，皆除节度使

③天子建国，诸侯立家，卿置侧室，大夫有贰宗，士有隶子弟

④掌内外藩蒙古、回部及诸番部，制爵禄，定朝会，正刑罚

A. ①②③④

B. ③②④①

C. ③①②④

D. ③④②①

【答案】C

【解析】

【详解】本题是组合选择题。时空是：古代（中国）。据材料“虽置三公，事归台阁，自此以来，三公之职，备员而已”可知，①反映的是东汉时期的尚书成为国家的政务中枢；据材料“大盗既灭，而武夫战卒以功起行阵，列为侯王者，皆除节度使”可知，②反映的唐朝时期繁镇割据；据材料“天子建国，诸侯立家，卿置侧室，大夫有贰宗，士有隶子弟”可知，③反映的是西周时期的分封制；据材料“掌内外藩蒙古、回部及诸番部，制爵禄，定朝会，正刑罚”及所学知识可知，④反映的是清朝的理藩院；所以按照时间顺序是③①②④，C项正确；按照时间顺序是③①②④，排除ABD项。故选C项。

6. 1906年刊发在《北京画报》上的插画“恭贺立宪”配文“改行立宪，是中国的大转折，是几千年没有的

以上内容仅为本文档的试下载部分，为可阅读页数的一半内容。如要下载或阅读全文，请访问：<https://d.book118.com/438123074055007005>