

2022-2023 学年河南省焦作市普通高校高职 单招职业技能测试题(含答案)

学校:_____ 班级:_____ 姓名:_____ 考号:_____

一、单选题(20题)

1.地摊经济的放开,在拉动经济发展、增加就业的同时,也带来了环境卫生、交通堵塞、产品质量安全、经营者行为规范、售后维权等问题。

让地摊经济升温而不是“发烧”,“放开”不是“放手”,这要求政府应()

①科学运用行政手段,柔性执法 ②树立诚信观念,遵守市场道德 ③发挥市场配置资源的决定性作用 ④加强市场监管,规范市场秩序

A.①③ B.①④ C.②③ D.②④

2.老师发给甲班每人4张白纸,乙班每人3张白纸,共发白纸716张;

若发给甲班每人3张自纸,乙班每人4张白纸,则共发白纸705张,

问:两班共有多少人? ()

A.96 B.117 C.203 D.128

3.清代著名作家蒲松龄落第后,但他落第不落志,下定决心干一番大业。

写下了一副自勉联:“有志者,事竟成,破釜沉舟,百二秦关终属楚;苦心人,天不负,卧薪尝胆,三千越甲可吞吴。”他这样写,也这样做了,

终完成《聊斋志异》。这说明磨砺意志就要() ①确立明确的目标 ②做自己不感兴趣的事 ③加强自我管理和约束 ④找准合适的时间

A.①④ B.①③ C.②④ D.③④

4.下列各项协议，与电子邮件的收发关最密切的是（）

A.FTP B.SMTP C.IP D.TCP

5.以下中学生的做法值得肯定的是（）

A.小美看到网络上有人发布的求助信息后，毫不犹豫把自己的零花钱全部捐了出去

B.小明迷上了网络小说，恨不得把吃饭时间的时间也用在这件事上

C.网友约小红单独见面，小红欣然前往

D.小丽把自己看到的好心人帮助陌生人的事情发布到本市文明市民贴吧上

6.人们都喜爱观赏日出，无不赞叹太阳升起时的壮观景象。而对日落，却很少有人去流连观赏、吟咏描绘。原因何在？恐怕是一种感情的影响，“日薄西山，气息奄奄”。就连我们的古人也不留下_____的诗句吗？填入画横线部分最恰当的一句是（）

A.“白日依山尽，黄河入海流”

B.“大漠孤烟直，长河落日圆”

C.“夕阳无限好，只是近黄昏”

D.“白日地中出，黄河天外来”

7. “以量取胜”，赚廉价“加工费”的箭匕模式的形成有其客观原因，也为我国的高速发展作出了贡献。但随着我国经济发展到新阶段，“人口红

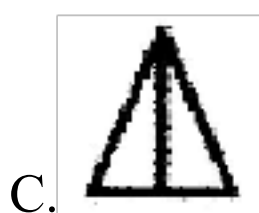

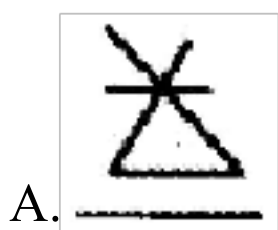
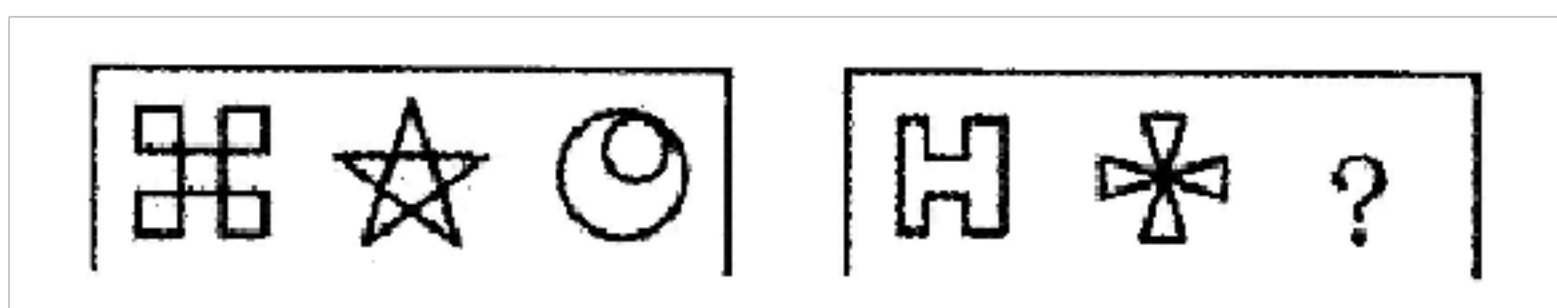
利”、资源消耗都亮起红灯，生态环境压力越来越大，_____。填入画横线部分最恰当的一句是()

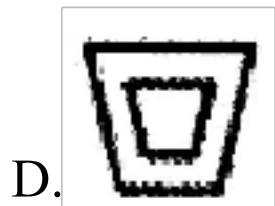
- A.把核心技术掌握在自己手中，才能真正掌握竞争和发展的主动权
- B.推进科技创新，把核心技术掌握在自己手里，必须向改革要动力
- C.以质的改善取代量的扩张越来越迫在眉睫
- D.在核心技术上受制于人的困局，几乎渗透在中国制造的各个领域

8.已知数列 $\{a_n\}$ 是等差数列， $a_2+a_9=3a_6$ ，公差 $d=-4$ ，则其前11项和等于()

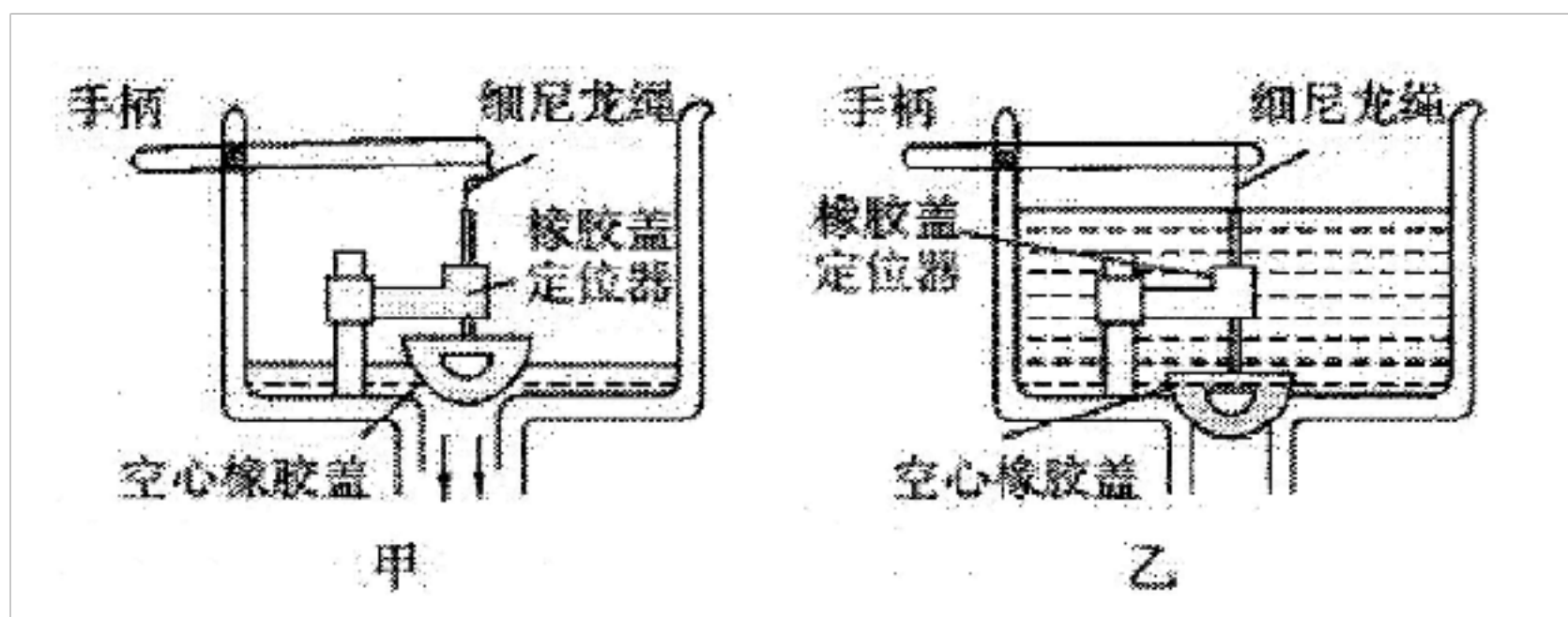
- A.44 B.22 C.-44 D.-22

9.请从所给的四个选项中，选择最合适的一个填入问号处，使之呈现一定的规律性()





10.一种厕所水箱结构如图，出水口上的橡胶盖是空心的，放水时它漂浮在水面上，水从出水口流出，如图甲所示，随着水的流出，水面降低，直到橡胶盖盖住出水口，放水过程结束。注水过程中和注满水后，橡胶盖都盖住出水口，如图乙，下列说法不正确的是（）



- A.能自动储水，拨动手柄，能实现放水，体现了系统的目的性
- B.长期使用后，橡胶盖等部件会出现老化现象，体现系统的动态性
- C.细尼龙绳若断裂，会影响水箱的正常排水，体现系统的整体性
- D.水箱水量既要考虑节水因素，又要考虑冲厕干净，不能顾此失彼，体现了技术的综合性

11.如图所示是一款电动轮椅，设计师团队经数年时间的研制测试、不断改进，引入独特的先进技术，终于研发了这款更方便、更舒适的个人移动代步工具。从技术的角度，以下说法中不正确的是（）



- A.让用户在草地、石子路上如履平地，体现了技术解放人的作用
- B.应用感知、智能与控制等方面技术，体现了技术的目的性
- C.可用手机去控制的轮椅方向与速度，体现了技术的创新性
- D.智能与控制等技术的发展推动了移动代步工具的设计

12.炎炎夏日，鲜花买回家后容易枯萎，下列关于鲜花保鲜的方法不正确的是()。

- A.把花枝末端用火烧一下，使花枝末端 2~3 厘米处变色后，及时浸入冷水中，再插进花瓶
- B.在清水中加几滴白醋或漂白水，花枝底部再修剪一下
- C.插花时应选用清洁的河水、井水、池塘水
- D.插花摆放的位置要合理，夏季应放置在有强烈阳光直射的地方

13.下列关于我国古代的科学成就说法不正确的是（）。

- A.郭守敬主持编订的《授时历》是中国古代最优秀的历法，也是使用时间最长的历法
- B.战国时期的《墨经》中已有对焦距和物体成像的关系说明
- C.《水经注》是古代地理学著作,它与《三国志注》《世说新语注》《九章

算术注》合称“四大名注”

D.《甘石星经》是我国也是世界最早的天文学著作

14.关于 Access 数据库和数据表，下列说法正确的是（）

A.同一张数据表可以有相同的字段名称

B.删除所有数据表，数据库文件也会被删除

C.数据表视图下，被设为“主键”的字段值一定是不同的

D.数据表视图下，删除记录后可以通过“撤销”命令恢复

15.当和好朋友产生较大冲突时，我们应该（） ①宽容理解，换位思考

②从此绝交，互不往来 ③保持冷静，坦诚交流 ④服从朋友，放弃自己

A.①② B.①③ C.②③ D.③④

16.拾得他人财物不归还失主的行为属于（）

A.违法行为，要追究民事责任 B.违法行为，要追究行政责任 C.盗窃行

为，要追究刑事责任 D.正确行为，因为这不违法

17.改革开放以来,我们党对公有制认识上的一个重大突破,就是明确了公

有制和公有制的实现形式是两个不同层次的问题。公有制的实现形式

是指资产或资本的（）。

A.组织形式和经营方式 B.分配形式 C.所有权归属 D.占有形式

18.下列关于物质的用途不正确的是()

- A.用熟石灰改良酸性土壤
- B.在医疗上用碳酸氢钠来治疗胃酸过多
- C.有些净水器利用活性炭未吸附、过滤水中的杂质
- D.商家用甲醛水溶液（福尔马林）浸泡海产品来延长海产品的保质期

19.在外打工的张先生，没找到雇主，买了张返程票还剩1元钱。他买了支彩笔和4个包烟的纸箱子，把纸箱子裁成24张纸牌，在车站的出口举着“出租接站牌(2元)”牌子。结果不少人租用了他的接站牌。很快他挣了40元钱，1个月后，他用镀锌板做成的40只可调式“迎宾牌”，每天能挣200元。3个月后，他租了房子，有了帮手。后来又用出租“迎宾牌”挣来的3万元，开了一家鲜花店，承揽了鲜花批发业务。就这样，化在1年将1元钱变成了100万元。这段文字主要告诉我们()

- A.创富是一门科学，也是一门艺术
- B.机会总是偏爱那些有头脑、有智慧的人
- C.谁的脑子转得快、灵活运用得快，“黄金”就会垂青谁
- D.只要你善于运用知识、智慧，苦干实干，小钱就会变大钱

20.正式场合着装，整体不应超过（）种颜色。

- A.两 B.三 C.四

二、多选题(20题)

21.下列属于我国世界遗产中的文化遗产的有()。

A.长城 B.江西三清山 C.苏州古典园林 D.呼麦

22.仿生学是研究生物系统的结构和性质，为工程技术提供新的设计思想及工作原理的科学。其中()等发明就是运用仿生学的研究成果。

A.雷达 B.尼龙搭扣 C.广角镜头 D.声呐

23.关于电冰箱，以下说法不正确的是()

A.电冰箱内温度比较低，这是制冷装置中液体蒸发吸热

B.电冰箱散热器摸起来烫手，这主要是电流的热效应造成的

C.夏天，打开电冰箱门看到的“白烟”是冰箱内蔬菜、水果等蒸发产生的水蒸气

D.家用电冰箱的耗电功率通常超过 1000 瓦

24.关于勤劳节俭的正确说法是()

A.消费可以拉动需求，促进经济发展，因此提倡节俭是不合时宜的

B.勤劳节俭是物质匮乏时代的产物，不符合现代企业精神

C.勤劳可以提高效率，节俭可以降低成本

D.勤劳节俭有利于可持续发展

25.夏天炎热多汗,汗渍容易残留在衣物上,尤其颈部、腋下、后背等部位,导致衣物发黄,特别是棉质衣物,这一问题更为严重。下列方法可以较好地除去汗渍的是()。

- A.在汗渍上滴上汽油或酒精,等它自然挥发即可
- B.将约 25 克小苏打溶解在 500 克热水里,充分摇晃,使之完全溶解,待水温凉到 40℃以下时,浸泡汗渍斑斑的衣服即可
- C.使用废弃不用的牙刷,将约一厘米牙膏挤在牙刷上,用牙刷轻轻刷洗汗渍部分
- D.在清水中加几滴白醋,浸泡衣物十分钟后再洗涤,可以搓去汗渍

26.GPS 地面控制系统的组成部分有()。

- A.主控制站
- B.监测站
- C.用户设备部分
- D.地面天线

27.降水根据其不同的物理特征可分为液态降水和固态降水。下列属于固态降水的有()。

- A.雷阵雨
- B.雪
- C.雹
- D.毛毛雨

28.下列医学知识的说法正确的有()

- A.医用酒精和工业酒精的主要成分相同,都可用于伤口消毒
- B.砒霜在中药里可以入药
- C.放疗中要使用放射线进行照射
- D.针灸中的“针”是指用各种不同形状的针具刺激人体的穴位

29.唐代出现了博大宏放的精神面貌,其产生的原因不包括 ()

,政局安定 B.科举制度的开创 C.统治者的开明政策 D.吸取秦朝的教训

30.水能是指水的动能、势能和压力能与能量资源,水能的优点有

()。

A.成本低 B.可连续再生 C.无污染 D.不受自然条件限制

31.白鹿洞书院、岳麓书院、石鼓书院和应天府书院合称为我国古代四大书院,那么同在一个省份的书院是()。

A.石鼓书院 B.岳麓书院 C.白鹿洞书院 D.应天府书院

32.中国书法源远流长,历代书法大家层出不穷,他们的书法艺术流传至今,为子孙后代留下了宝贵的文化遗产。下列关于历代书法大家的叙述错误的有 ()。

A.王羲之,东汉杰出书法家,擅长各类书体,尤其是他的行书对后世影响极大

B.欧阳询,唐初书法家,楷书最为出色,独创“欧体”

C.颜真卿,唐代书法家,擅用篆书笔意写楷书,其所创“颜体”为后人习书之楷模

D.黄庭坚,南宋书法家,与苏轼、蔡襄、米芾并称为“宋四家”,擅行书

33.下列物理现象中属于液化的有（）。

从冷库到热的地方眼镜上会出现水珠

B.晾在户外的湿衣服干了

C.北方冬天窗户上结的“冰窗花”

D.从冰箱中刚拿出来的冰棍冒“白烟”

34.中华民国时期，掌管西藏等地区少数民族事务的中央机关有（）。

A.蒙藏委员会 B.蒙藏院 C.蒙藏事务局 D.理藩院

35.下列逸项中关于文学作品描述正确的是（）。

A.俄国作家托尔斯泰的长篇小说《复活》围绕男主人公沃伦斯基公爵与姑妈家的女仆马洛斯娃展开

B.《大卫科波菲尔》为英国作家查尔斯狄更斯创作的长篇小说，讲述了主人公大卫从幼年至中年的生活历程

C.德国作家托马斯曼的长篇小说《魔山》以一个疗养院为中心，描写了欧洲许多封建贵族和资产阶级人物

D.墨西哥作家卡洛斯富恩特斯的长篇小说《佩德罗.巴拉莫》被认为是“拉丁美洲文学的巅峰小说之一”

下列属于人体免疫器官的有（）。

B.脾脏 C.淋巴结 D.肝脏

37.皮影戏是用家畜皮刻制的人物影像，借助灯光投影屏幕表演的一种戏曲。下列有关其表述，正确的有（）

A.发源于陕西 B.在中国大江南北都有分布 C.中国出现最早的戏曲剧种之一 D.影上色主要使用红、青、绿、黑色

38.随着城市豢养宠物的人越来越多，被宠物猫、狗等动物咬伤、抓伤的情况也日益增多。如果不慎被猫、狗抓（咬）伤，正确的处理措施是（）。

A.马上用肥皂水和清水冲洗伤口 15 分钟以上

B.清洗后用碘酒或医用酒精涂擦伤口

C.及时全程足量地注射狂犬病疫苗

D.在 36 小时之内注射一次狂犬病疫苗

39.关于诚实守信的说法，你认为正确的是（）

A.诚实守信是市场经济法则

B.诚实守信是企业的无形资产

C.诚实守信是为人之本

D.奉行诚实守信的原则在市场经济中必定难以立足

40. 下列关于生活中的物理知识的叙述，正确的有（）。

摩擦

B. 汽车旁的观后镜、交叉路口的观察镜用的都是凹面镜可以开阔视野

C. “摘不着的是镜中月，捞不着的是水中花”这句俗语蕴含的物理知识是：

平面镜成的像是虚像

D. 汽车快速行驶时，车的尾部会形成一个低气压区，因而常能在运动中的汽车尾部看到卷扬的尘土

三、判断题(20题)

41. “神舟7号”是航天飞机。（）

42. 世界上第一台计算机 ENIAC 是 1945 年研制成功。

43. 世界上掌握大深度载人深潜技术的国家有美国、德国、俄罗斯、日本、中国。（）

44. 日本发动全面侵华战争的标志是“九一八”事变。（）

泰山是我国的“五岳之首”，被联合国教科文组织列入“世界自然遗产”名录中。（）

46.唐代妇女以肥胖为美，源于一位大美女，这位美女是杨贵妃。（）

47.人体最坚硬的部分是牙齿。（）

48.《黄河大合唱》的作曲者是冼星海。（）

49.我国最先出现的纸币是宋代的“交子”。（）

50.亚马逊河在北美洲。（）

51.第一架望远镜是由眼镜师汉斯·李波尔发明的。（）

52.歌剧诞生于英国。（）

()

54.指南针、火药、印刷术这三大发明都取得重大突破的时期是宋朝。

()

55.海马不是马。()

56.光脚散步对小儿发育有好处。()

57.鲸是海洋中最大的哺乳动物。()

58.鳄鱼是哺乳动物。()

59.世界上第一个提出“不治已病治未病”这一防病养生保健康的预防医学观点的是《黄帝外经》。()

60.鱼没有心脏。()

四、主观论述题(20题)

61. 学生自己管理自己”的观点你赞同吗?

62.在我们身边，有些人热衷于过“洋节”却对中华民族传统节日不热心。原因之一，是认为我国民族传统节日的吸引力不强。请就如何增强我国民族传统节日的吸引力，谈谈你的看法。

63.现在很多子女由爷爷、奶奶或姥姥、姥爷照顾，产生了“隔代教育”，你怎么看这种现象?

64.清华、北大等高校实行自主招生，你如何看待这个问题?

65.你如何看待“择校热”现象?

66.有志愿者在高速公路上拦截运狗车，你有什么看法?

67.当今社会食品安全问题日益凸显。毒大米、地沟油等现象屡见不鲜。虽然国家也出台了一系列政策，但始终无法从根本上解决这些问题。你怎么看待这一现象？

68.一个医生给国王看病，看病的时候，国王问医生：“你给我看病，和给别人看病，有什么不一样吗？”医生说：“在我眼里，只有病人，没有国王”。请你就这个故事谈一谈自己的看法。

69. “学高为师，身正为范”，对此你是怎样理解的？

70.作为一名中学语文教师，我热爱我的工作；注意在学习中激发学生的学习兴趣，让他们主动参与到教学过程中来。但是，我真的感觉学生有的时候实在是太吵闹了，在讲课过程中，有的学生会在下面说话或插话进来；在自学或做练习时，有的同学会在那里窃窃私语或很自由地讨论问题；在课堂讨论的时候更是难以把握，学生会争论不休；在课间休息时更是乱作一团……。问题：如果你是这位老师，对于课堂吵闹的现象，你的基本态度和常规做法是什么？

71.当前青少年犯罪呈上升趋势，在社会上引起了很大关注，你如何看待这一现象？

72.对于将酒驾司机放入银行信用黑名单，谈谈你的看法。

73.某图书馆总有人占座，你作为图书馆管理人员，请你去协调这个事情你将如何做？

74.假若你是校长，你们学校有部分优秀教师下班时候在家辅导学生，你对这种现象怎么看？你如何处理？

75.一位同学反映，目前学校里流行一些新奇的贺卡有的印有占星术、明星写真、成人笑话。有一种“鬼怪贺卡”打开后，会冷不防弹出一个露着白牙、伸着红舌头的绿色骷髅头。这些贺卡大多被班主任收缴了。他非常郁闷：既然文化选择有多样性，老师为什么还反对我们使用这类贺卡？请你从文化的角度帮助这位同学解开心结

76.王老师是一位青年教师,工作热情非常高，他对学生要求十分严格，他经常要求学生不要讲脏话;不要乱扔废纸……而这位教师讲课情急时，常常“笨猪”，“死脑子”不绝于耳。吸烟后,随手将烟蒂抛在课桌下面……教育后的班级会怎样呢?虽然王老师没少用嘴皮子,没少用各种惩罚手段。但是班上说脏话、粗话连篇，纸屑杂物随处可见。王老师百

思不得其解。问题:请你帮助分析一下,王老师教育的班级为什么会产生这样的后果做一名班主任应怎样教育学生才能有良好的效果?

五、单选题(0题)

77.俗话说:“轻霜冻死单根草,狂风难毁万木林。”要建设一个富有凝聚力和竞争力的班集体,它的灵魂是()

A.集体荣誉感 B.相互信任 C.团队意识 D.热情开朗

六、单选题(0题)

78.保护生物多样性的最有效的保护措施是()

A.建立自然保护区 B.迁地保护 C.引入其他的物种 D.法制管理

参考答案

1.B①④正确,地摊经济在拉动经济发展、增加就业的同时,也带来了环境卫生、交通堵塞等问题。政府应科学运用行政手段,柔性执法,健全征信体系,规范市场秩序,让地摊经济升温而不是“发烧”;②不合题意,材料强调政府的行为,而树立诚信观念,遵守市场道德是对经营者的要求;③不合题意,政府完善地摊经济的配套设施,并不能解决地摊经济带来的一系列问题,也与促进社会公平之间发展没有直接关系。故选:

B。

2.C

设甲班有 X 人，乙班有 Y 人，则根据题意列方程 $4X+3Y=716$,

$3X+4Y=705$ ，两式相加得： $7(X+Y)=1421$ ，解得 $X+Y=203$ 。故选：C

3.B 磨砺坚强意志要掌握科学的方法。题干中蒲松龄“下决心干一番事业”，树立了明确的目标；写对联激励自己并坚持执行，说明了他善于自我管理。①③说法正确，符合题意。②说法错误，磨砺意志要做自己不感兴趣但有意义的事；④说法错误，磨砺意志要从现在做起。故选：B

4.BSMTP 和 POP3 是电子邮件的发送和接收协议，所以选项中只有 SMTP 是与电子邮件的收发关系最密切的。ACD 都不正确，B 正确。故选 B

5.D 运用所学知识分析得知，好心人帮助陌生路人是关爱社会、奉献社会的表现，是亲社会的行为，小俐把自己看到的好心人帮助陌生路人的事情发布到本市文明市民贴吧上，是为了宣传网络正能量，是值得肯定的行为，所以 D 符合题意；A 做法错误，错在“毫不犹豫、全部”表述；B 做法错误，我们不能沉湎于网络小说，要把精力放在学习上；C 做法错误，和网友见面要慎重，小红不能欣然前往。故选：D。

6.C

“日薄西山”指太阳快要落山，比喻人到老年或事物衰微接近灭亡。“气息奄奄”形容人即将断气、死亡的样子，比喻事物衰败没落，即将灭亡。A 项描写的是登楼看见的景色，景象壮阔，气势雄浑。B 项描写的是边陲大漠中壮阔雄奇的景象。D 项描写的是一轮白日，跃出平地，喷薄而上的景象。A、B、D 三项表达的都是积极的意思，可知与原文的语境不符。C 项“夕阳无限好，只是近黄昏”描写的是只见夕阳

以上内容仅为本文档的试下载部分，为可阅读页数的一半内容。如要下载或阅读全文，请访问：<https://d.book118.com/445302334042011101>