

人教版七年级上册地理

练习题课件

第六章 发展与合作

过基础 教材必备知识精练



知识点1 不同国家发展水平差异

下表示意某年不同国家的人类发展指数（人类发展指数最高为1,指数越高，表示发展水平越高）。据此完成1—3题。

国家	美国	挪威	巴西	日本
人类发展指数	0.926	0.957	0.765	0.919

1.上述国家发展水平最高的是(**B**)

A.美国

B.挪威

C.巴西

D.日本

【解析】根据材料可知，人类发展指数越高，发展水平越高。挪威人类发展指数最高，发展水平最高。



2.巴西和日本两国的经济商谈被称为(**C**)

A.“北北对话”

B.“南南合作”

C.“南北对话”

D.南北合作

【解析】巴西是发展中国家，日本是发达国家，两个国家的经济商谈被称为“南北对话”。



3.巴西和美国的发展差异表现为(C)

A.美国的人均居民消费支出较巴西低

B.美国的中学和大学入学率较巴西低

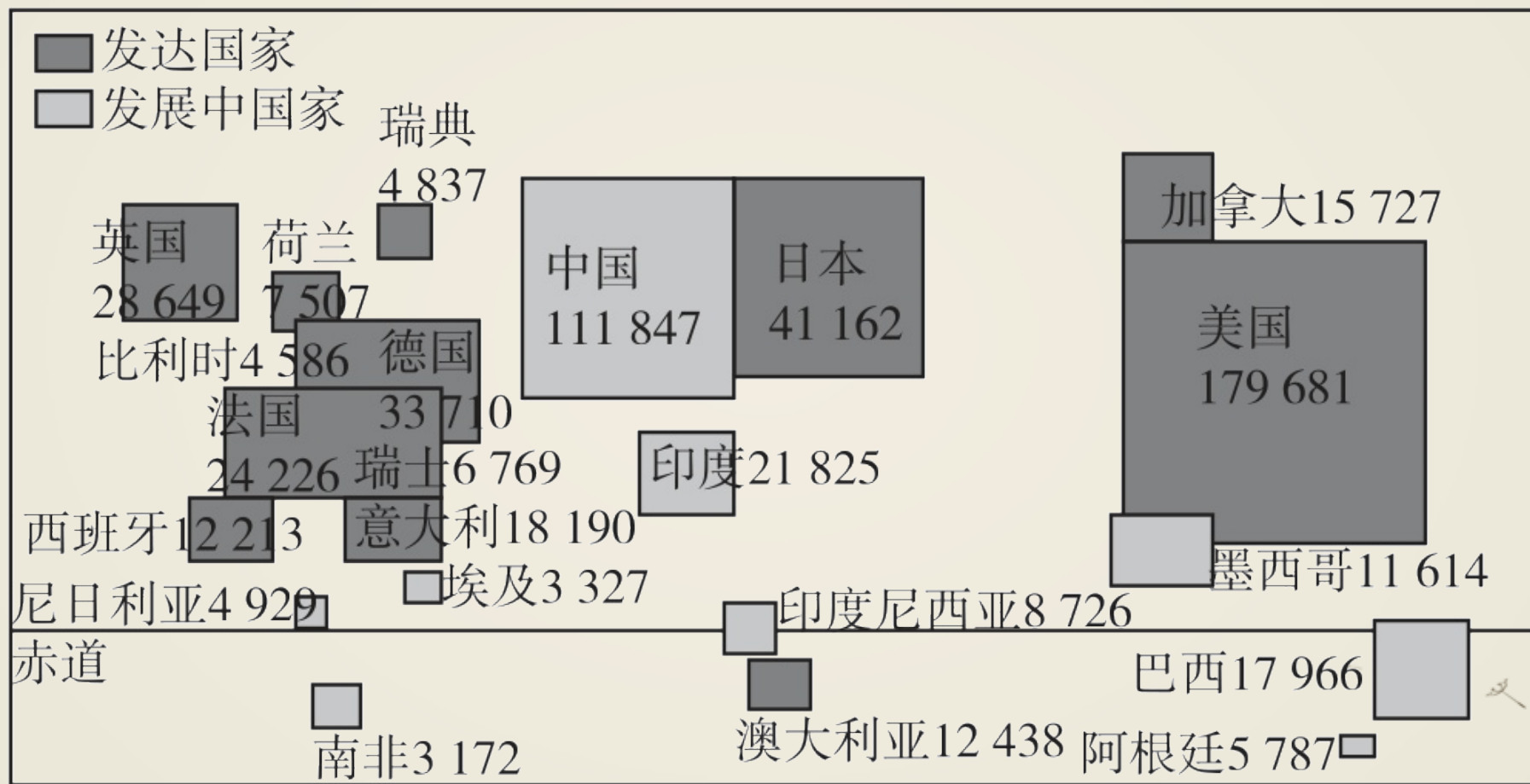
C.美国的医疗服务设施较巴西更完善

D.美国的人口数量较巴西多

【解析】据表可知，巴西人类发展指数低，美国人类发展指数高，美国为发达国家，巴西为发展中国家。美国的人均居民消费支出较巴西高，中学和大学入学率较巴西高，医疗服务设施较巴西完善，C正确，A、B错误。人口数量不是衡量发展水平差异的主要指标，D错误。



如图示意某年世界部分国家国内生产总值（亿美元）。读图完成4—5题。



4.以下国家中，国内生产总值最高的是(**A**)

A.德国

B.巴西

C.澳大利亚

D.加拿大

【解析】读图可知，德国的国内生产总值是33 710亿美元,巴西的国内生产总值是17 966亿美元,澳大利亚的国内生产总值是12 438亿美元,加拿大的国内生产总值是15 727亿美元,四国中国内生产总值最高的是德国，故选A。



5. 下列说法正确的是(**D**)

A. 发达国家多位于南半球

B. 北美洲均为发达国家

C. 亚洲均为发展中国家

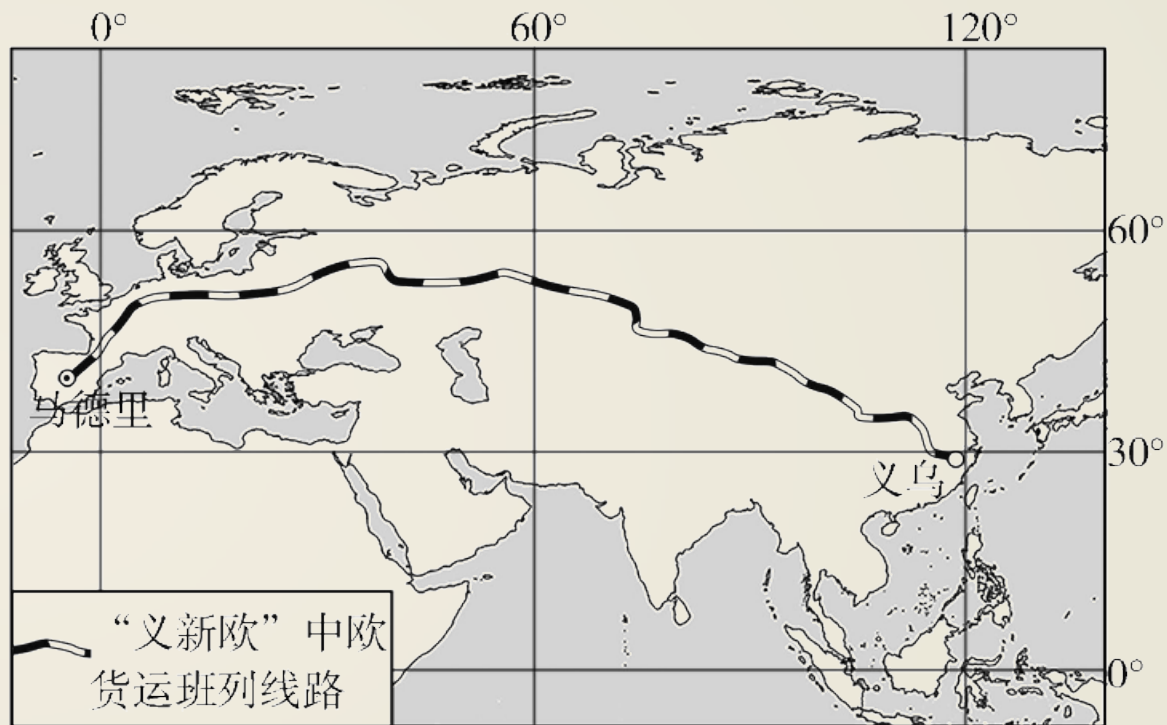
D. 欧洲西部发达国家集中

【解析】 读图并结合所学知识可知，发达国家大多分布在北半球。北美洲不都是发达国家，例如墨西哥。亚洲发展中国家众多，但也有发达国家，例如日本。欧洲西部是发达国家最集中的区域，故选D。



知识点2 联系日益紧密的全球经济

[2024聊城期末] 2023年前11个月，中欧班列累计开行16 145列。“义新欧”中欧班列从中国义乌出发，途经多个国家，最终到达西班牙首都马德里，是联通世界的新桥梁。下图为“义新欧”中欧班列路线图。据此完成6—7题。



6.“义新欧”中欧班列路线(**B**)

A.连接太平洋和印度洋

B.横跨亚欧大陆

C.途经地区位于西半球

D.位于低纬度地区

【解析】据图可知，“义新欧”中欧班列路线横跨亚欧大陆，但没有连接太平洋和印度洋，A错误、B正确。“义新欧”中欧班列路线经过地区主要位于 0° — 120°E ，主要位于东半球，C错误。“义新欧”中欧班列路线经过地区主要位于 30°N — 60°N ，即主要位于中纬度地区，D错误。



7.中欧班列开通的重要意义有(**D**)

①助力经济全球化发展

②消除地区经济差异

③促进地区投资与贸易合作

④促进文化交流与传播

A.①②③

B.①②④

C.②③④

D.①③④

【解析】中欧班列横跨亚欧大陆，连接多个国家，其开通有利于促进沿线地区文化交流与传播，促进沿线地区投资与贸易合作，助力经济全球化发展，①③④正确。中欧班列开通不能消除地区经济差异，②错误。故选D。



知识点3 国际合作

新情境·生产情境2023年5月28日，中国按照国际标准研制且拥有自主知识产权的大型客机C919实现首次商业飞行。读国产大飞机C919主要部件产地示意图，完成8—9题。



8.国产大飞机C919主要部件来源于中国、美国等国家，这种现象说明
(**D**)

A.中美经济各成一体

B.中美竞争日益激烈

C.中国飞机制造领先

D.国际合作不断加强

【解析】 国产大飞机C919主要部件来源于中、美等国家，这种现象表明经济全球化使国家间的合作越来越密切，国际合作不断加强，D正确。



9.国产大飞机C919选用不同国家的零部件主要是为了(**A**)

A.降低飞机生产成本

B.助力其他国家发展

C.推广我国核心技术

D.学习其他国家技术

【解析】 国产大飞机C919选用不同国家的零部件主要是为了降低生产成本，而不是为了助力其他国家发展、学习其他国家技术；核心技术是国家之重器，不会在其他国家推广。故选A。

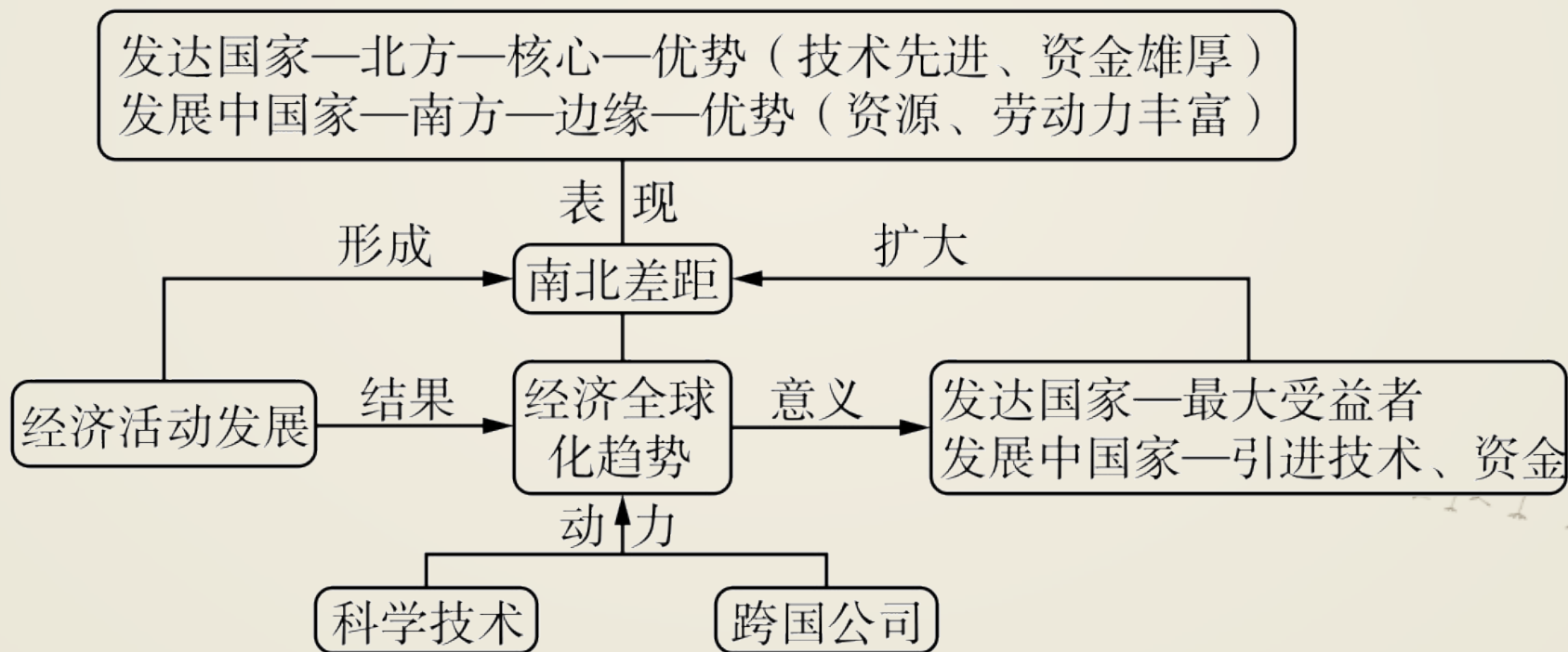


第六章 发展与合作

过能力 学科关键能力构建



[2022无锡中考] 某饮料国际集团（美国）现已在我国建立了几十家合资企业。下图为某同学整理的“发达国家与发展中国家之间的联系图”。读图完成1—2题。



1.20世纪80年代初，该饮料国际集团在中国建厂并迅速发展，当时中国的优势是(**D**)

A.科技发达

B.管理先进

C.资金雄厚

D.劳动力丰富

【解析】八十年代初，该饮料国际集团在中国建厂并迅速发展，当时中国的优势是人口众多，劳动力丰富。与美国相比，当时我国在科技、管理、资金方面不占优势。



2.该成功合作案例说明了(C)

A.“南南合作”的重要性

B.“南北对话”的复杂性

C.经济的发展要加强国际合作

D.我国是世界经济最发达的国家

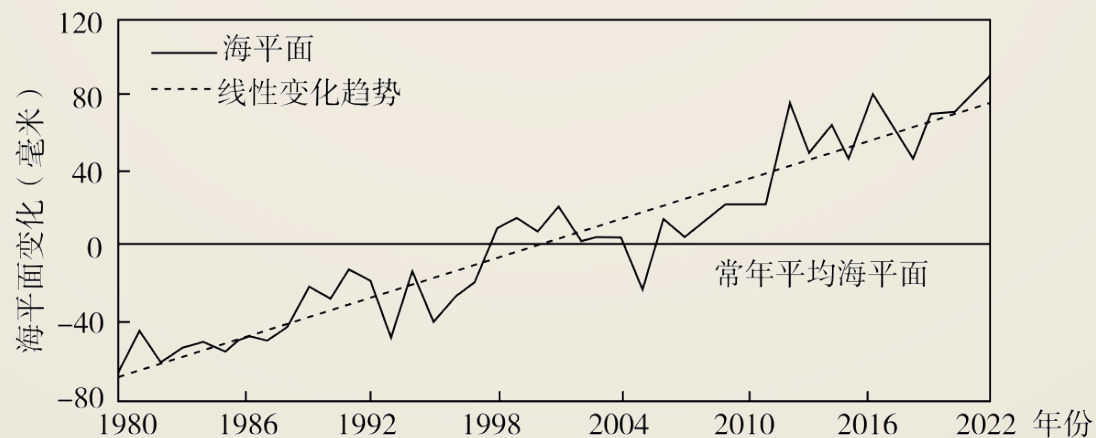
【解析】我国属于发展中国家，美国属于发达国家，该成功合作案例说明了“南北对话”的重要性，经济的发展要加强国际合作。



3.[2024青岛期末改编] 阅读图文材料，完成下列问题。

【分析成因，探究影响】

世界气象组织发布的《2023全球气候状况报告》显示，2023年是有记录以来最暖的一年。全球以前所未有的速度快速升温，全球极端天气事件呈多发态势。下图为1980—2022年中国沿海海平面变化图。



以上内容仅为本文档的试下载部分，为可阅读页数的一半内容。如要下载或阅读全文，请访问：
<https://d.book118.com/447043110010010005>