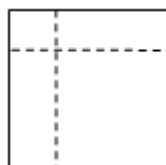


## 小学三年级数学应用题大全

### 一. 解答题(共 50 题, 共 314 分)

1. 一个正方形被两条直线分成 4 个长方形, 这 4 个长方形的周长和是 200 厘米, 原来正方形的周长是多少厘米?



2. 下面是实验小学去年物品的使用情况。

	扫帚	粉笔
上半年	364 把	483 盒
下半年	326 把	406 盒

(1) 去年用了多少盒粉笔?

(2) 去年上半年比下半年多用了多少把扫帚?

3. 光明小学作息时间表(上午)如下:

7:50	8:00—8:10	8:20—9:00	9:10—9:50	10:00—10:30	……
到校	早操	第一节课	第二节课	课间操	

(1) 做课间操用多长时间?

(2) 如果你在这所学校上学，从家到学校要走 15 分钟。为了保证不迟到，你最晚什么时候从家里出发？

4. 解答题。



(1) 参加科技小组有多少人？

(2) 参加体育小组的人数是科技小组的几倍？



5. 冰箱：3000 元

洗衣机：1960 元

烤炉：1000 元

(1) 买一台冰箱和一台烤箱，一共需要多少元钱？

(2) 妈妈带了 6000 元钱，想买这三件商品，够吗？

6. 一条绳子长 3 米，捆第一个盒子用了 75cm，捆第二个盒子用了 80cm。



(1) 3 米等于多少厘米？

(2) 捆第一个盒子和第二个盒子一共用了多少厘米长的绳子？

(3) 这条绳子还有多长？

7. 根据下列表格回答问题，

二年级各班图书本数	
二(1)班	147本
二(2)班	176本
二(3)班	158本
二(4)班	189本

(1) 二(4)班的图书比二(1)班大约多多少本？

(2) 哪两个班的图书合起来最接近 300 本？

(3) 你还能提出什么数学问题？并解决。

8. 星期六上午，小明要做的事有：去超市买东西、书店买书、医院看望奶奶。



① 写出小明两种行走路线。

② 计算一下最近的路线是多少米？

9. 下面是一组商品的价格。



(1) 电饭锅和自行车一共需要多少元钱？

(2) 自行车比电风扇多多少元钱？

(3) 你还可以提出什么数学问题？自己解答。



小川家到邮局有 6000 米, 到学校有 5000 米。邮局和超市之间相距 3000 米。学

校和超市之间相距多少米?合多少千米?

11. 下面是文化小学冬游时间安排表。

时间	活动项目
8: 30	全体同学到校集合
8: 30-9: 00	乘车到郊野公园
9: 00-10: 10	登山比赛
10: 10-10: 40	休息
10: 40-11: 50	小队游戏
11: 50-12: 30	午饭时间
12: 30-下午1: 40	各小队自由活动
下午1: 40-下午2: 00	各班总结冬游活动
下午2: 00-下午2: 30	乘车返回学校

(1) 从学校乘车到郊野公园用了多长时间?

(2) 登山比赛用了多长时间?

(3) 同学们在郊野公园待了多长时间?

12. 阿瓦山寨餐厅买这些芹菜一共花了多少元钱?




80 千克



4 元/千克

13. 如下图所示，一块长方形的菜地，长 10 米，宽 5 米，李大伯把它分成两块，并在每块地的边上围上篱笆，篱笆的总长度是多少米？



14. 王老师带了 600 元去买下面一套课桌椅。



587元



105元

(1) 这 600 元钱够不够？

(2) 如果不够，大约还差多少元？

15. 小货车一次只能运 600 箱。估一估，以上三种水果，小货车能一次运走哪几种？



463 箱

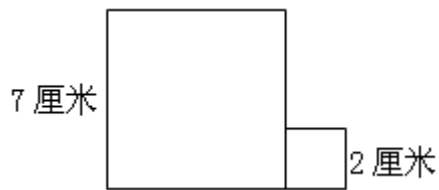


328 箱

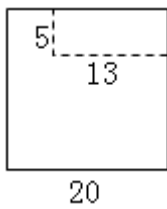


256 箱

16. 下图是由一个边长是 7 厘米的大正方形和一个边长是 2 厘米的小正方形拼成的，求它的周长。



17. 在一张边长为 20 厘米的正方形纸的一角剪去一个长为 13 厘米，宽为 5 厘米的长方形，剩下纸的周长是多少厘米？



18. 小伊是什么时候开始画画的？



19. (1) 买这些东西准备 900 元钱够吗？

(2) 买这些东西应付给售货员多少钱？

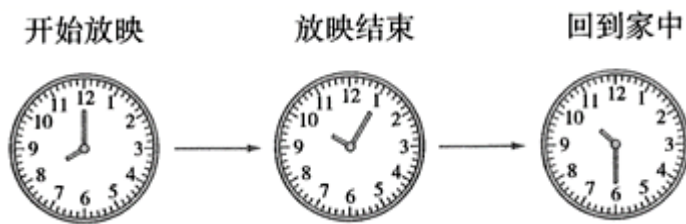
20. 购物。



(1) 明明带了 30 元钱可以买几个文具盒？

(2) 红红带了 120 元钱，买了一辆玩具汽车，剩下的钱还够买一个书包吗？

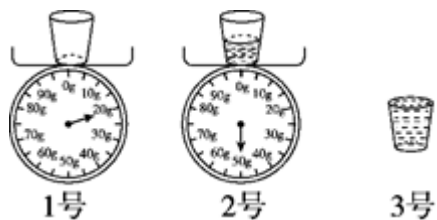
21. 周末，小丽跟妈妈去看电影。



(1) 电影放映了多长时间？

(2) 小丽看完电影回到家用了多长时间？

22. 3 个杯子同样大。



(1) 1 号空杯重多少克？



(2) 2号杯中的水重多少克?

(3) 估计3号杯中的水重多少克?

23. 乘车。



(1) 这6只动物能一起乘车吗?

(2) 哪些动物能一起乘坐这辆车?

24. 买车。



(1) 一辆自行车要多少元?

(2) 两轮童车比三轮童车贵多少元?

25. 你知道强强家明天什么时候吃午饭吗？



26. 妈妈计划在商场给自己买一条裙子，给儿子买一件上衣。500元够买下面哪两件？大约能找回多少元？（写出一种情况）



27.



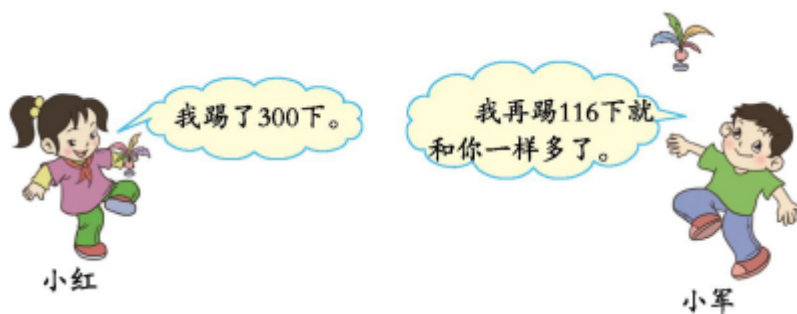
418元



206元

估一估：我有650元钱，够买这两样玩具吗？

28. 踢毽子比赛。



小军踢了多少下？

29. 看图回答



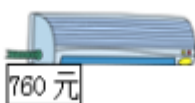
3000元



比摩托车便宜2600元

(1) 一辆自行车多少元？

(2) 一辆摩托车和一辆自行车一共要多少元？



(1) 买一台录音机和一台风扇一共用去多少元？

(2) 买一台风扇比一台空调便宜多少元？

31. 张老师要买一个书柜和一把单人沙发，1000元够吗？



658元



325元

32. 上衣和裤子分别便宜了多少元？

以上内容仅为本文档的试下载部分，为可阅读页数的一半内容。如要下载或阅读全文，请访问：

<https://d.book118.com/457114063051006112>