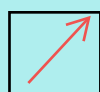







SOLD

@备考首选

通关无忧 轻松拿下考试

-  基础阶段—专业知识
-  刷题阶段—重点题库
-  冲刺阶段—押题点睛
-  考点覆盖—精编习题
-  紧扣考纲—直击考点
-  历年真题—押题抢分

本封面内容仅供参考，实际内容请认真预览本电子文本

祝您考试顺利

2023 年宁夏普通脚手架工(建筑特殊工种)考试内部摸底题库含答案

- 1、【单选题】下列()不属于建筑施工特种作业人员。(D)
- A、建筑电工
 - B、建筑架子工
 - C、建筑起重机械司机
 - D、项目技术负责人
- 2、【单选题】从业人员的()即有权获得本单位为其办理工伤保险。(B)
- A、建议权
 - B、获得工伤保险权
 - C、劳动保护权
 - D、批评权和检举、控告权
- 3、【单选题】作业前()内,应对受限空间进行气体采样分析,分析合格后方可进入。(B)

A、60min

B、30min

C、90min

D、120min

4、【单选题】作业区各作业位置至相应坠落高度基准面之间的垂直距离中的()，称为该作业区的高处作业高度。(A)

A、最大值

B、最小值

C、平均值

D、都不

5、【单选题】几何不变体系的基本形状为()。(B)

A、圆形

B、三角形

C、四边形

D、平行四边形

6、【单选题】几何可变体系的基本形状为()。(D)

A、圆形

B、三角形

C、四边形

D、平行四边形

7、【单选题】在不考虑材料应变的假定下,能保持几何形状和位置不变的体系,称为()。(A)

A、几何不变体系

B、弹性体系

C、几何可变体系

D、塑性体系

8、【单选题】在室外完全采用人工照明时进行的高处作业称为()。
(D)

A、夜间作业

B、照明作业

C、照明高处作业

以上内容仅为本文档的试下载部分，为可阅读页数的一半内容。如要下载或阅读全文，请访问：<https://d.book118.com/475222301040011202>