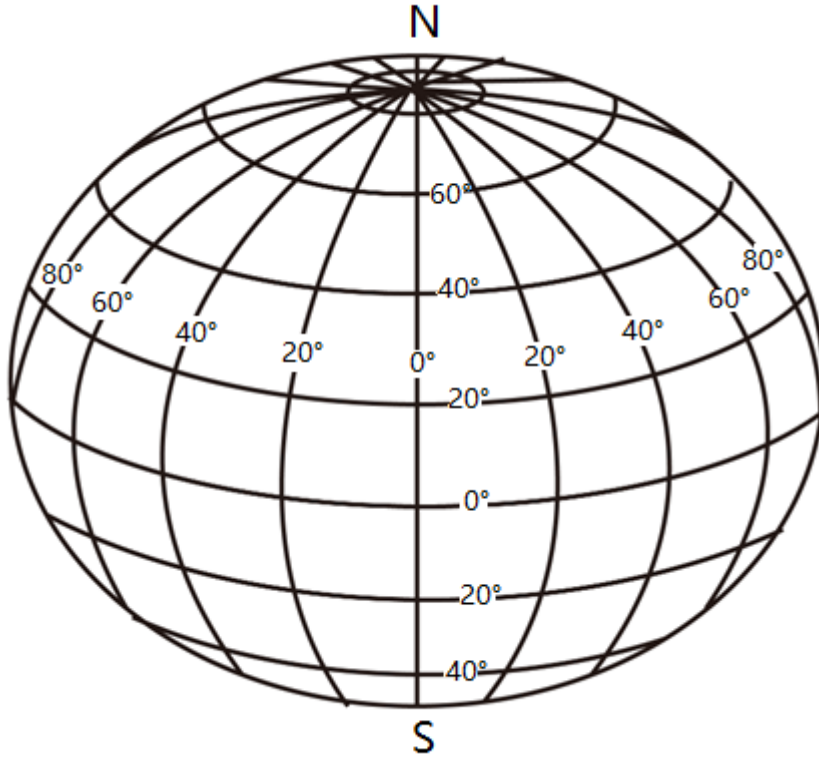


# 2022 年江苏省沭阳县怀文中学中考二模地理试题

学校:\_\_\_\_\_ 姓名:\_\_\_\_\_ 班级:\_\_\_\_\_ 考号:\_\_\_\_\_

## 一、选择题

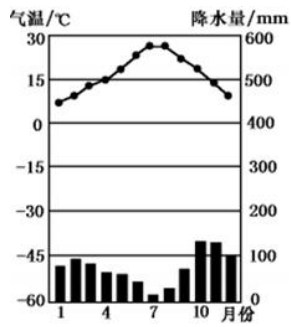
用一只乒乓球当作地球仪，在上面画出经纬线。根据你做的地球仪完成下列小题。



1. 一架飞机在燃油充分的情况下，从北京出发沿纬线一直向西飞，最终能到达（ ）  
A. 北极                      B. 南极                      C. 北京                      D. 赤道
2. 小冬应邀到纬度  $0^{\circ}$ ，经度  $110^{\circ}$  的地方参加地理实践活动，他可以在地球表面找到几个符合该条件的地点（ ）  
A. 1 个                      B. 2 个                      C. 3 个                      D. 4 个
3. 一架飞机以 1000 千米/小时的速度绕赤道飞行一圈，约需（ ）  
A. 4 小时                      B. 40 小时                      C. 400 小时                      D. 80 小时

2021 年 12 月 9 日，中国空间站“天宫课堂”首次太空授课，宿迁市多所中学组织师生观看。下图为“天宫课堂”授课画面及地球公转示意图。读图，完成下面小题。





8. 该地降水最少的月份是 ( )

- A. 1月
- B. 5月
- C. 7月
- D. 10月

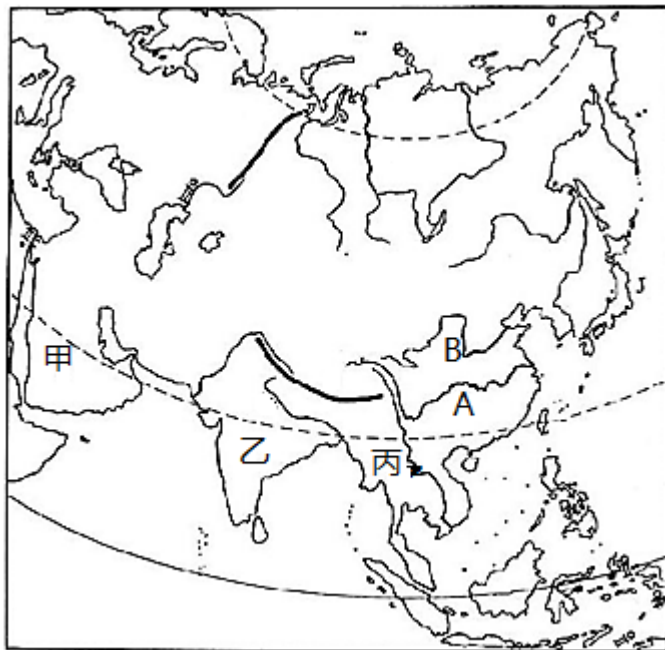
9. 该地气候特点是 ( )

- A. 全年高温多雨
- B. 全年低温少雨
- C. 夏季高温多雨，冬季温和少雨
- D. 夏季炎热干燥，冬季温和湿润

10. 根据图中资料，可确定该地位于 ( )

- A. 东半球
- B. 西半球
- C. 南半球
- D. 北半球

下图为亚洲略图，完成下面小题。



11. 下列关于亚洲的说法错误的是 ( )

- A. 世界上面积最大的大洲

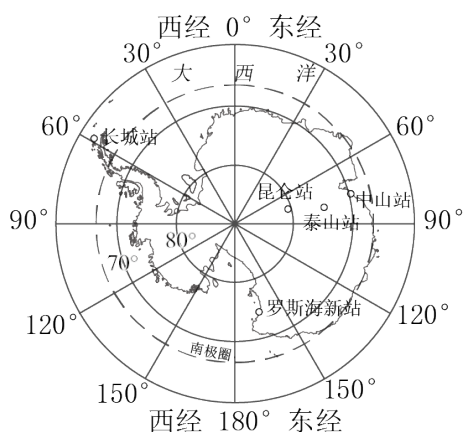
- B. 地跨热带、北温带和北寒带
- C. 北回归线自西向东依次穿过阿拉伯半岛、山东半岛和印度半岛
- D. 东部和南部季风气候显著

12. 图中甲、丙所在地区经济与居民的叙述，正确的是（ ）

- A. 甲所在地区农业多分布在沿海地区，畜牧业是其主要的经济支柱
- B. 丙所在地区是世界上热带经济作物的重要产区
- C. 甲所在地区以白色人种为主，多信仰基督教
- D. 丙所在地区人口稀疏，是世界上华人最集中的地区

2018年2月7日，中国第五个南极科学考察站——罗斯海新站在难言岛选址奠基。

完成下面小题。



13. 长城站位于拟建的罗斯海新站的方向，难言岛位于南极点的方向（ ）。

- A. 东北北方
- B. 西北南方
- C. 西南东南
- D. 东北西南

14. 在南极建科考站可能会遇到的困难是（ ）

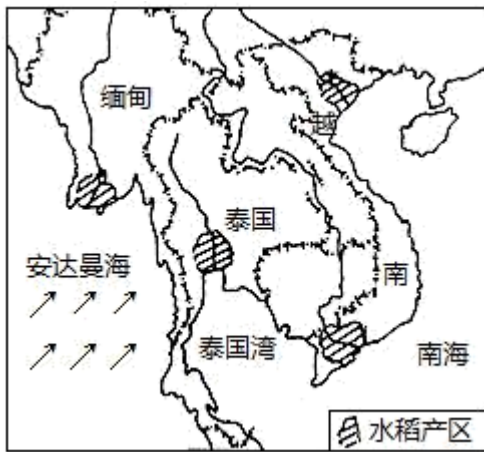
①酷寒 ②烈风 ③沙尘暴 ④暴雨

- A. ①②
- B. ③④
- C. ①③
- D. ②④

15. 《南极条约》对南极环境的保护做出了严格的规定，下列做法正确的是（ ）

- A. 垃圾分类掩埋
- B. 塑料等化学制品焚烧处理
- C. 污水排入海洋
- D. 不易处理的废物运回国内

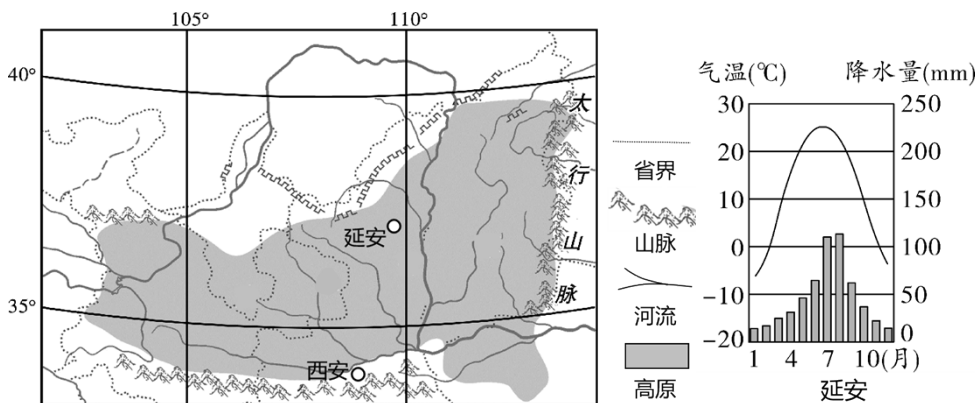
据日本《日经亚洲评论》2022年3月31日援引相关人士报道，由于干旱导致东南亚水稻的产量降低，而新冠病毒疫情也引发了当地恐慌性抢购稻米。图为东南亚中南半岛水稻产区图，读图回答下面小题。



16. 图示箭头代表影响区域降水量及其分布的季风，该季风是（ ）
- A. 东北季风      B. 西北季风      C. 东南季风      D. 西南季风
17. 为了缓解中南半岛各国的农业生产旱情，我国每年都会通过澜沧江景洪水电站对湄公河中下游实施应急补水。推测我国每年开闸放水的时间大约是（ ）
- A. 1~2月      B. 3~4月      C. 7~8月      D. 9~10月
18. 美国农业生产上形成了小麦区、乳畜带、玉米带等农业区，这反映了美国农业生产的特点是（ ）
- A. 高度机械化      B. 区域专门化      C. 高度商品化      D. 高度工业化
- 2022年2月以来，俄罗斯和乌克兰之间局势不断变化，引起全球的关注，结合所学知识，请完成下面小题
19. 俄罗斯西部有一条著名的河流，它流量丰富，水流平缓，航运便利，沿河两岸是重要农业区，它就被俄罗斯人誉为母亲河的（ ）
- A. 伏尔加河      B. 叶尼塞河  
C. 鄂毕河      D. 勒拿河
20. 俄罗斯幅员辽阔，资源丰富。下列说法正确的是（ ）
- A. 俄罗斯大部分地区属于温带大陆性气候，冬季漫长而严寒，夏季温暖而短促  
B. 俄罗斯是国土辽阔，东部以平原为主西部以高原为主  
C. 俄罗斯地跨亚、欧两洲，人口和城市主要集中在亚洲部分  
D. 首都莫斯科位于俄罗斯亚洲部分
21. 俄乌冲突引起世界格局变化，其中国际原油价格大受影响，与俄罗斯具备的下列哪一条件有关（ ）
- A. 核工业和航空工业在世界上占重要地位      B. 是世界大量出口石油天然气的国家  
C. 货运以铁路和管道运输为主

D. 首都莫斯科位于俄罗斯欧洲部分的中央

“在漫长的二三百百万年间,这片广袤的土地已经被水流剥蚀的沟壑纵横、支离破碎、四分五裂,像老年人的一张粗糙的脸”(摘自路遥《平凡的世界》)。图为我国某区域略图及延安气温曲线和降水量柱状图。读图完成下面小题。



22. 小说《平凡的世界》中描述的某地区 ( )

- A. 一月平均气温高于 0°C
- B. 主要分布在晋、秦、宁、陇
- C. 位于第二级阶梯, 秦岭以南
- D. 河流众多, 短小而湍急

23. 造成文中描述“这片广袤的土地已经被水流剥蚀的沟壑纵横、支离破碎、四分五裂”的主要原因是 ( )

- ①土质疏松 ②夏季多暴雨 ③河流结冰 ④植被稀少
- A. ①②③
- B. ②③④
- C. ①③④
- D. ①②④

24. 小说主人公及当地很多居民戴白羊肚头巾, 可能的原因是 ( )

- A. 冬季寒冷、风沙大
- B. 夏季多雨、气温低
- C. 山高谷深
- D. 防止蚊虫叮咬

25. 习近平总书记提出:“绿水青山就是金山银山”。关于黄土高原生态环境治理措施, 不符合该理念的是 ( )

- A. 植树种草, 增加植被覆盖率
- B. 合理安排生产活动, 退耕还林还草
- C. 大力开荒种粮, 增加农民收入
- D. 整修梯田、修筑挡土坝等

26. 合理利用和保护自然资源的正确态度是（ ）
- A. 我国地大物博，资源可以大量消耗
  - B. 人均占有量太低，导致我国经济发展缓慢
  - C. 可再生资源取之不尽、用之不竭，可供人类无节制使用
  - D. 非可再生资源要综合利用，注意节约，避免浪费

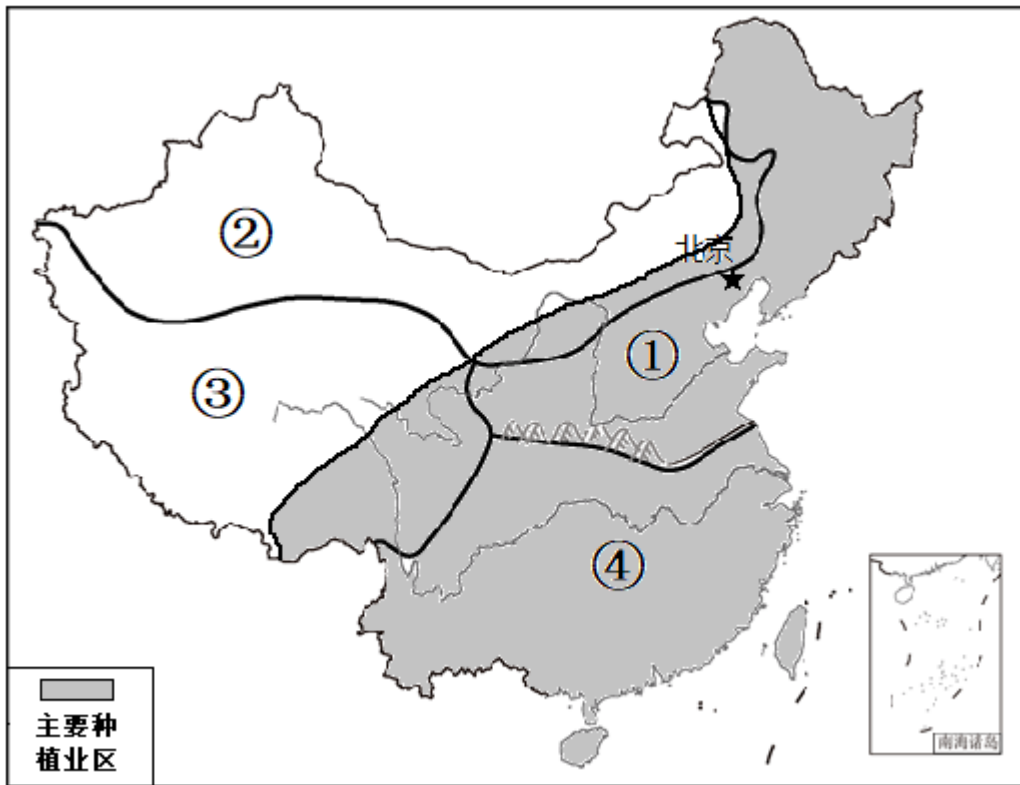
读我国南、北方民居示意图可见，北方民居庭院面积大而方正，南方民居庭院小且多有楼房。据此完成下列各题。



27. 形成南北方民居庭院大小差异的主要原因是( )
- A. 南方院落小，利于排水
  - B. 北方平原广大，地面平坦；南方平原较小，人多地狭
  - C. 北方院落大，利于保暖
  - D. 南方是水田耕作，北方是旱地耕作
28. 南方民居多临水而建，对其原因叙述不正确的是( )
- A. 水运便利
  - B. 用水方便
  - C. 地势低平
  - D. 防洪减灾

读“我国主要种植业区及四大地理区域图”，据图完成下面小题。





29. 下列叙述正确的是 ( )

- A. 种植业区与牧区界线大致与 800 毫米年等降水量线接近
- B. 种植业区主要分布在湿润地区和半湿润地区
- C. 我国的林业、畜牧业主要分布在②、③地区
- D. ④地区主要生产水稻、棉花、苹果等农产品

30. 不同的地理环境，居民有不同的饮食习惯和生活方式。下列叙述正确的是 ( )

- A. ①地区居民的主食是馒头、包子和饺子
- B. ②地区的特色食品有汤圆、刀削面和年糕
- C. ③地区的手抓肉、米线是当地的传统美食
- D. ④地区的藏族人喜爱喝酥油茶和青稞酒

31. 图中区域①和区域④的分界线，同时也是 ( )

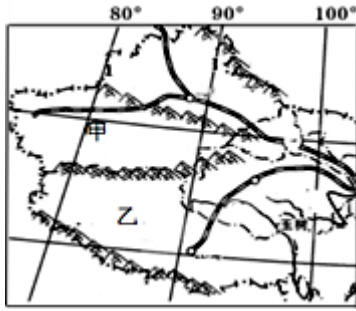
- A. 内流区与外流区的分界线
- B. 季风区与非季风区的分界线
- C. 暖温带与亚热带的分界线
- D. 半湿润地区与半干旱地区的分界线

32. 下列描述东北地区山河大势的说法正确的是 ( )

- A. 山环水绕，沃野千里
- B. 地势低平，河网密布
- C. 山河相间，纵列分布
- D. 千沟万壑，支离破碎

读我国部分地区图（下图），完成下列各题





33. 对甲所在地形区的叙述，正确的是

- A. 高山阻挡，降水稀少  
B. 地形平坦，土壤肥沃  
C. 主要河流注入北冰洋  
D. 各种资源贫乏

34. 对甲、乙所在地形区共同地理特征叙述正确的是

- A. 维吾尔族聚居区  
B. 太阳能丰富  
C. 在地形区边缘发展种植业  
D. 高寒为主的环境特征

35. 下列关于中国各地地理环境的叙述，正确的是（ ）

- A. 四合院是中国的传统民居，但其占地面积大，空间利用率低，越来越不能适应时代发展，因此有必要拆除建高楼，使空间利用率大大提高。  
B. 台湾铁路、公路环岛修建的自然原因是这里城市、人口密集。  
C. 黄土高原和云贵高原均属于我国水土流失严重的地区，其形成的共同人为原因是乱砍滥伐、过度开垦、地形崎岖等。  
D. 北京的高新技术产业发展迅猛，主要以电子、信息类产业为龙头。

36. 株洲是中国南方重要的铁路枢纽，在此交会的铁路是（ ）

- A. 京沪、陇海铁路  
B. 京广、成昆铁路  
C. 京九、沪昆铁路  
D. 京广、沪昆铁路

37. 下列关于黄土高原的说法，不正确的是（ ）

- A. 生态环境脆弱，水土流失严重  
B. 传统民居——窑洞  
C. 广泛种植杂交水稻，杂交玉米等，居民生活水平不断提高  
D. 降水季节分配不均匀，集中在夏季，多暴雨

坐上那动车去台湾，就在那 2035 年，去看看那外婆澎湖湾，还有那脚印两对半，  
坐上那动车去台湾，就在那 2035 年，去看看那情歌阿里山，还有那神奇的日月潭……  
近日，歌曲《2035 去台湾》在网络上热播。读下面台湾省位置图及文字材料，完成下面小题。

以上内容仅为本文档的试下载部分，为可阅读页数的一半内容。如要下载或阅读全文，请访问：

<https://d.book118.com/476234151110011005>