

第一单元知识测试卷(附答案解析)

一、单选题（共5题；共10分）

1.小红上学时是往西南走，那么放学时她应该往（ ）走。

- A.东南 B.东北 C.西北

2.小明座位的西南方向是张强的座位，那么小明在张强的（ ）方向。

- A.东南 B.西北 C.东北

3.小乐和小丽的家在同一个小区内。在小区平面图(上北下南，左西右东)上，小东家在小丽家正上方，小丽家在小东家的（ ）面。

- A.南 B.北 C.东

4.小明站在阳台上面向东方，她向左转，面向（ ）方

- A.东 B.西 C.北

5.青岛在日照的东北方向，日照在青岛的（ ）方向。

- A.东南 B.西南 C.西北

二、判断题（共5题；共10分）

6.树的年轮较密的部分向着南面，较疏的部分向着北面。（判断对错）

7.如果医院在超市的东方，则超市在医院的西方。

8.地图通常是按上北、下南、左西、右东绘制的。（判断对错）

9.小华面向东，他的右边是南，左边是北。（判断对错）

10.与西北相对的方向是东北。（判断对错）

三、选择题（共1题；共6分）

11.将正确答案的序号填在括号里。

(1) 当你面向东时，右边是（ ），

A. 南 西 北

(2) 西面和()面相对.

A. 西 东 北

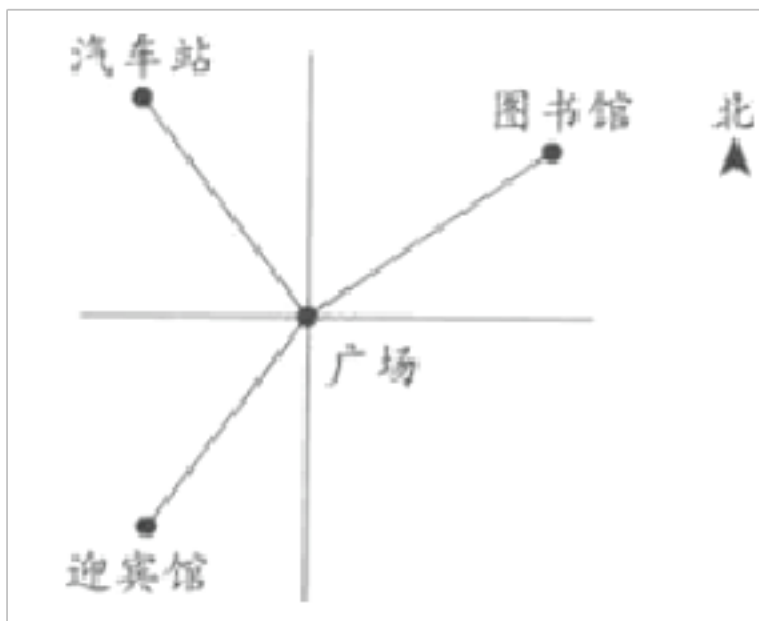
(3) 一名同学由朝南站立, 如果连续两次向左转, 现在他面朝().

A. 东 南 北

四、填空题 (共 8 题; 共 31 分)

12. 太阳从_____方升起, _____方落下。

13. 看图填一填。



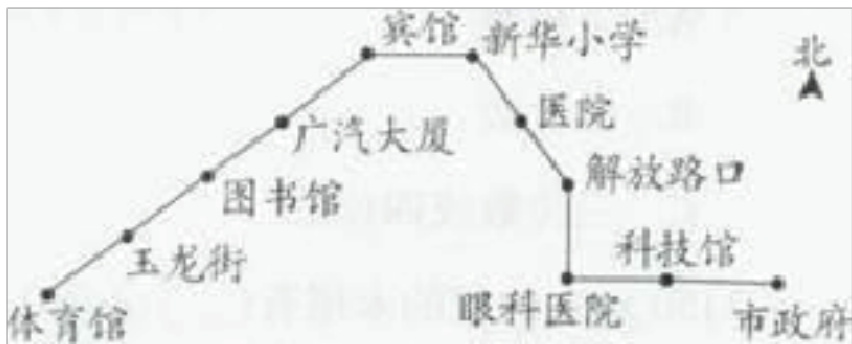
汽车站在广场的_____方向, 图书馆在广场的_____方向, 迎宾馆在广场的_____方向; 广场在图书馆的_____方向, 广场在汽车站的_____方向, 广场在迎宾馆的_____方向; 汽车站在迎宾馆的_____面, 图书馆在迎宾馆的_____方向。

14. 与东南角相对的是_____，与北相对的是_____。

15. 今天刮西北风, 顺风应该是东南方向. _____ (判断对错)

16. 和西北相对的方向是_____。

17. 下面是 1 路车的行车路线图。



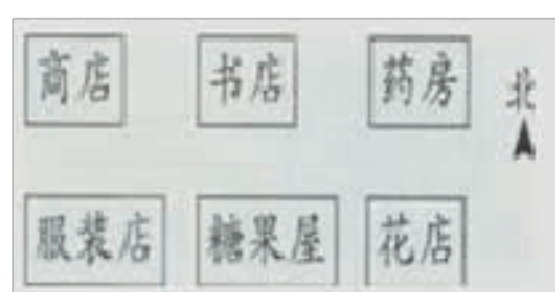
从市政府出发向_____行驶_____站到眼科医院,再向_____行驶_____站到解放路口,再向_____行驶_____站到新华小学,再向_____行驶_____站到宾馆,最后向_____行驶_____站到体育馆。

18.太阳从东边升起,小明面对太阳,他的后面是_____,左边是_____右边是_____。

19.地图通常是按上_____,下_____,左_____,右_____绘制的。

五、解答题 (共 2 题; 共 10 分)

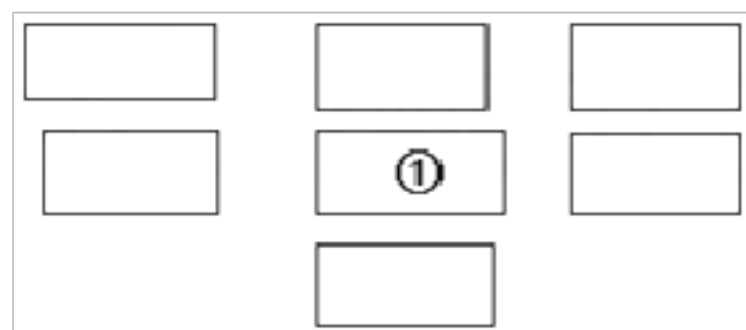
20.下面的说法对吗?



- ① 商店在糖果屋的东北方向。
- ② 服装店在药房的西南方向。

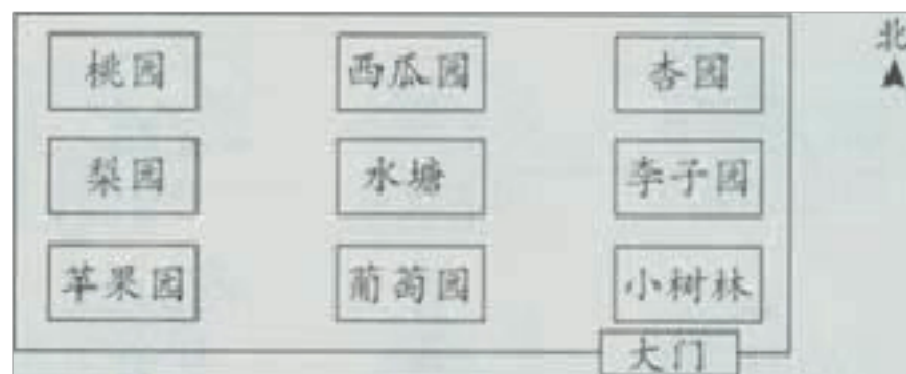
21.根据描述,设计出新野文化广场周边平面图.填番号即可。

- ① 文化广场
- ② 北关小学在文化广场的南边
- ③ 居民区在文化广场的北边
- ④ 商场在居民楼的西南面
- ⑤ 纱厂二区在商场的北面
- ⑥ 中医院在文化广场的东北面。



六、综合题 (共 2 题; 共 17 分)

22.青山乡农技站的技术员要去种植园里的几个果园做技术指导。



- (1) 苹果园在种植园的_____角,种植园的西北角是_____。

(2) 技术员从小树林出发，先到葡萄园，再到梨园、西瓜园，再到杏园，最后从大门出去，该如何走？

23. 说一说 3 路公共汽车的行车路线。



(1) 从汽车站出发到实验小学的路线：

(2) 从实验小学出发到汽车站路线：

答案解析部分

一、单选题

1. 【答案】B

【解析】【解答】解：方向是相对的，相对的方向完全相反，所以，与西南方向相反的方向是东北方，所以小红上学时是往西南走，那么放学时她应该往东北走；

故选：B.

【分析】方向是相对的，相对的方向完全相反，据此解答即可.

2. 【答案】C

【解析】【解答】这道题目考查的是东南、东北、西南、西北的运用。【分析】小明的西南方向是张强，倒过来小明在张强的哪一面，就应该是西南的对面，如果要考虑实际生活中的方向，比较麻烦些，可以这样想，西的对面是东，南的对面是北，所以西南的对面则是东北方向。

3. 【答案】A

【解析】【解答】据分析可知：

小东家在小丽家正上方，即小东家在小丽家正北方，

以小东家为观测点，小丽家的方向是正南方；

故选：A.

【分析】本题考点：方向.

此题主要考查地图上的方向辨别方法的灵活应用.

依据地图上的方向辨别方法，即“上北下南，左西右东”，以及题目所给的信息，即可进行解答.

4. 【答案】C

【解析】【解答】首先面向东，向左转，应该是面向北。

【分析】此题需要将东南西北的方向，先联系实际，再转换。

5. 【答案】B

【解析】【解答】解：青岛在日照的东北方向，日照在青岛的西南方向； 故选：B.

【分析】依据八个方向的对应关系，即南对北、西对东、西北对东南、西南对东北，即可进行正确解答.

二、判断题

6. **【答案】** 错误

【解析】【解答】解：由分析可知：树的年轮较密的地方向着北方，较疏的地方向着南方； 故答案为：错误.

【分析】根据树的年轮特点可知：年轮较疏的是南面，那么年轮较密的就是北面，由此解答即可.

7. **【答案】** 正确

【解析】【解答】根据位置的相对性可知：如果医院在超市的东方，则超市在医院的西方，原题说法正确；

故答案为：正确.

【分析】根据方位可知，东与西相对，南与北相对，位置是相对的，据此解答.

8. **【答案】** 正确

【解析】【解答】解：地图通常是按“上北、下南、左西、右东”绘制的说法是正确的. 故答案为：正确.

【分析】地图通常是按“上北、下南、左西、右东”绘制的，据此判断即可.

9. **【答案】** 正确

【解析】【解答】解：小华面向东，他的右边是南，左边是北，这是正确的； 故答案为：正确.

【分析】小华面向东，他的右边是南，左边是北，这是正确的，可以做一做，亲身体会一下，据此解答.

10. **【答案】** 错误

【解析】【解答】解：与西北相对的方向是东南； 故答案为：错误.

【分析】依据八个方向的对应关系，即南对北、西对东、西北对东南、西南对东北，即可进

行正确解答.

三、选择题

11. 【答案】(1) A

(2) B

(3) C

【解析】【分析】本题考点：方向.

本题考查了方向与位置的相对关系.

根据方向的相对性，东的左边是北，右边是南，南的左边是东右边是西，北的左边是西，右边是东，西的左边是南，右边是北，以及方向的相对性，东对西，南对北，解答即可得出答案.

四、填空题

12. 【答案】东；西

【解析】【解答】解：东，西

【分析】考察位置与方向，生活中一些小常识，要熟记。并却能辨别方向。

13. 【答案】西北；东北；西南；西南；东南；东北；北；东北

【解析】【解答】西北 东北 西南 西南 东南 东北 北 东北

【分析】根据上北下南左西右东规律来判断常用的位置和方向。考察了方向和位置的确定方法。

14. 【答案】西北；南

【解析】【解答】如果要考虑实际生活中的方向，比较麻烦些，可以这样想，东的对面是西，南的对面是北，所以东南的对面则是西北方向。另外，北的向对面是南。

【分析】这道题目考查的是东南、东北、西南、西北的运用。

15. 【答案】错误

【解析】【解答】解：今天刮西北风，顺风应该是从西北走向东南方向，所以本题说法错误；故答案为：错误.

【分析】风吹来的方向，叫做风向，所以刮西北时，顺风的方向应该是从西北向东南方，据

此解答即可。

16. 【答案】东南

【解析】【解答】如果要考虑实际生活中的方向，比较麻烦些，可以这样想，西的对面是东，北的对面是南，所以西北的对面则是东南方向。

【分析】这道题目考查的是东南、东北、西南、西北的运用。

17. 【答案】西；2；北；1；西北；2；西；1；西南；4

【解析】【解答】从市政府出发向西行驶2站到眼科医院，再向北行驶1站到解放路口，再向西北行驶2站到新华小学，再向西行驶1站到宾馆，最后向西南行驶4站到体育馆。

【分析】根据地图上的分向的辨别方法：上北、下南、左西、右东描述1路公共汽车的行车路线即可。根据地图上的分向的辨别方法：上北、下南、左西、右东，描述简单的路线图的能力。

18. 【答案】西面；北面；南面

【解析】【解答】解：太阳从东边升起，小明面对太阳，他的后面是西面，左边是北面，右边是南面；故答案为：西面，北面，南面。

【分析】太阳东升西落这是自然规律，早上，面对太阳升起的地方，就是面向东，前面是东，后面是东的对面西，左面是北，右面是南，亲自体验更好理解，据此解答。

19. 【答案】北；南；西；东

【解析】【解答】解：地图通常是按“上北、下南、左西、右东”绘制的说法是正确的。故答案为：北、南、西、东。

【分析】地图通常是按“上北、下南、左西、右东”绘制的。

五、解答题

20. 【答案】解：① 错误；② 正确

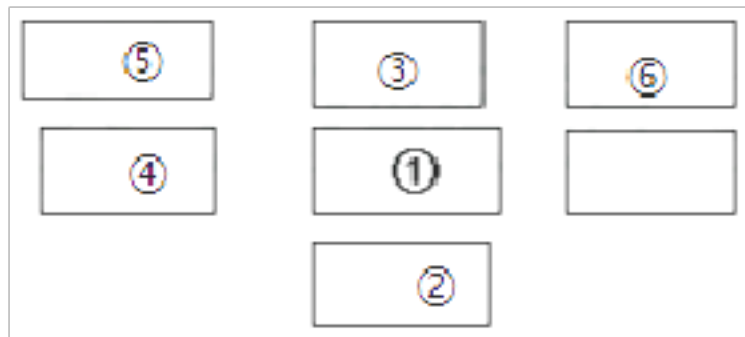
【解析】【分析】本题考点：方向。

本题考查了方向与位置的相对关系。

根据方向的相对性，东的左边是北，右边是南，南的左边是东右边是西，北的左边是西，右边是东，西的左边是南，右边是北，以及方向的相对性，东对西，南对北，解答即可得出答

案.

21. 【答案】解:



【解析】【分析】根据地图上的方位“上北下南，左西右东”来判断方向，据此依据条件的描述，找准参照物，即可得到其他场所的位置。

六、综合题

22. 【答案】(1) 西南；桃园

(2) 答：先向西走到葡萄园，再向西北走到梨园，再向东北走到西瓜园，再向东走到杏园，最后向南走到大门。

【解析】【分析】本题考点：方向。

本题考查了方向与位置的相对关系。

根据方向的相对性，东的左边是北，右边是南，南的左边是东右边是西，北的左边是西，右边是东，西的左边是南，右边是北，以及方向的相对性，东对西，南对北，解答即可得出答案。

(1) 以种植园为中心，确定周围位置的园林。

(2) 按照技术员走路顺序，确定方向。

23. 【答案】(1) 汽车站，向东至广场，向东南至少少年宫，向东至电影院，向东北至水利局，向东南至实验小学。

(2) 实验小学，向西北至水利局，向西南至电影院，向西至少少年宫，向西北至广场，向西至汽车站。

【解析】【解答】首先是四个方向标注在图上，上北下南左西右东，然后再是东南、西南、东北、西北的运用。【分析】因为牵涉到多次方向转换，很普通出错，一定要仔细。

(含答案解析)

一、选择题（共 题；共 14 分）

1. 小刚放学回家时往西南方向走，那么他上学时应该往()方向走。

- A. 东北
- B. 西北
- C. 东南

2. 面向南方，你的左面是()。

- A. 东方
- B. 西方
- C. 北方

3. 今天刮西南风，顺风的方向是()

- A. 西北
- B. 东南
- C. 东北


4. 图书馆在街心广场的北面，街心广场在图书馆的()。

- A. 东 面
- B. 西 面
- C. 南 面
- D. 北面

5. 小红家在小丽家的西北方向，那么小丽家在小红家的()方向。

- A. 西北
- B. 东南
- C. 西南

6. 如下图，小红正站在沙坑处，她应该向()方向走才能到达树林。



- A. 东北
- B. 西南
- C. 西北

7. 冬天，山坡上雪融化得比较快的一面是()面。

- A. 东
- B. 西
- C. 南
- D. 北

二、填空题（共 6 题；共 22 分）

8. 地图通常是按照 北_____南，_____西_____东”来绘制的。

9. 方向是两两相对的,东与_____相对,南与_____相对,东南与_____相对,

相对。

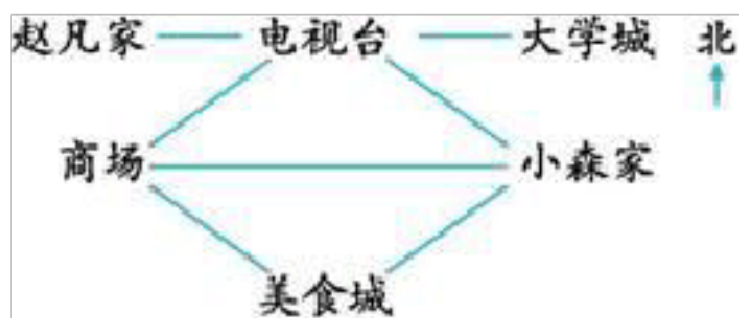
10.晚上当你面对北极星,你的后面是_____面,你的右面是_____面,你的左面是_____面。

11.早晨当你面对太阳,你的后面是_____面,你的右面是_____面,你的左面是_____面。

12. (1) 公园在学校的东面,学校在公园的_____面。

(2) 电视塔在学校的西南面,学校在电视塔的_____面。

13.看图辨方向。



(1) 赵凡家在电视台的_____面,电视台在赵凡家的_____面。

(2) 美食城在小森家的_____面,大学城在小森家的_____面。

(3) 商场在电视台的_____面,在美食城的_____面。

三、解答题 (共 题; 共 20 分)

14.幸运大转盘。[来源:学#科#网]

指针指向 () 面时, 指的物品是鞋。
指针指向 () 面时, 指的物品是篮球。
指针指向 () 面时, 指的物品是烤箱。
指针指向 () 面时, 指的物品是苹果。
指针指向 () 面时, 指的物品是上衣。

15.根据小朋友的描述,把花园小学附近建筑的示意图填完整。

书店		
礼品店	花园小学	

花园小学的南面是超市,北面是银行,东面是公交公司,东南面是少年宫,西南面是邮局,东北面是服装城。

以上内容仅为本文档的试下载部分，为可阅读页数的一半内容。如要下载或阅读全文，请访问：<https://d.book118.com/478001001061006071>