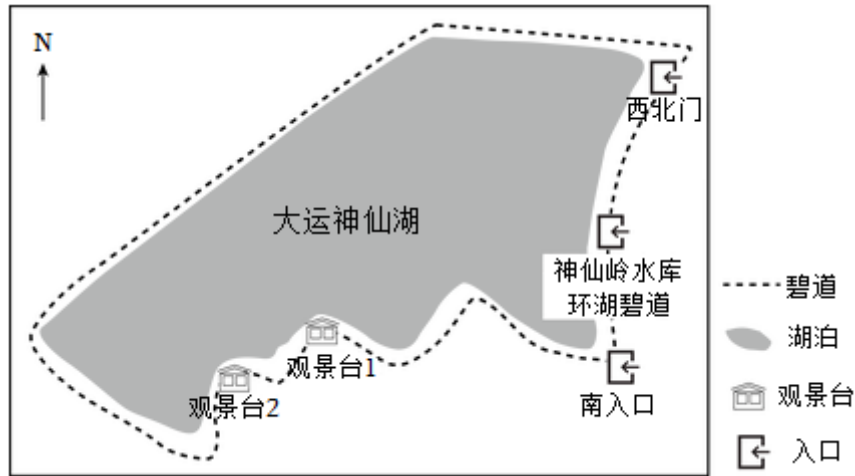


2022-2023 学年广东省深圳市龙岗区七年级（上）期末地理试卷

一、单项选择题（共 30 题，每题 2 分，共 60 分。在每小题给出的 4 个选项中，只有一项符合题意，请将答题卡上对应题目所选的选项涂黑。）

如图为小明同学绘制的“龙岗大运公园神仙岭水库游玩线路图”，据此完成 1~3 题。



1. 图中缺少的地图三要素是（ ）
 - A. 方向
 - B. 比例尺
 - C. 图例
 - D. 注记
2. 观景台 1 位于观景台 2 的（ ）方向。
 - A. 正东
 - B. 正西
 - C. 东北
 - D. 西南
3. 小明来到观景台 1，望向对面观景台 2，他想知道两观景台直线距离，已知图中比例尺为 1: 6000，图上直线距离为 2 厘米，实地距离为（ ）
 - A. 30 米
 - B. 60 米
 - C. 120 米
 - D. 1200 米

2022 年 6 月 5 日，神舟十四号搭乘长征二号 F 遥十四运载火箭在酒泉卫星发射中心成功发射。读地球公转示意图（图 1）和中国宇航员从核心舱拍摄的地球照片（图 2），完成 4~6 题。

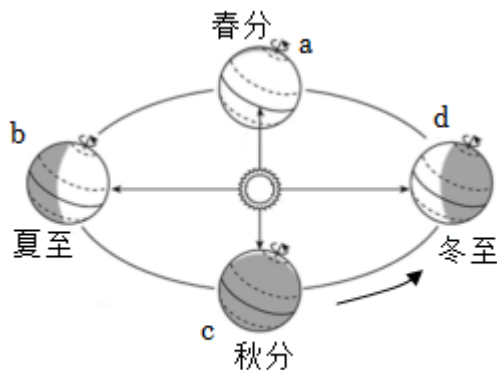


图 1




图 2

4. 宇航员在太空中能看到地球的（ ）
 - A. 地轴
 - B. 经线
 - C. 形状
 - D. 纬线

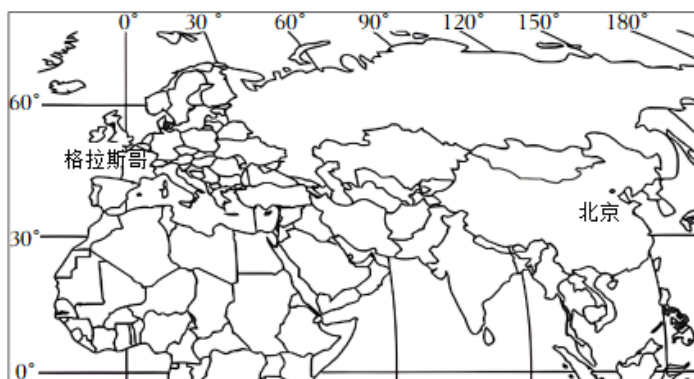
5. 下列关于地球公转的叙述, 正确的是 ()

- A. 公转周期为一天
- B. 公转的方向为绕太阳自东向西
- C. 公转产生了日月星辰每日东升西落
- D. 公转的同时也自转

6. 神舟十四号发射时, 地球运行的位置是图 2 中的 ()

- A. b、c 之间
- B. c、d 之间
- C. d、a 之间
- D. a、b 之间

《联合国气候变化框架公约》第 26 次缔约方大会在英国格拉斯哥召开。2021 年 11 月 1 日, 国家主席习近平在北京通过视频会议发表书面致辞, 习近平指出, 中方期待各方强化行动, 携手应对气候变化挑战, 合力保护人类共同的地球家园, 读格拉斯哥和北京的位置示意图 (图 4), 完成 7~9 题。



7. 格拉斯哥的经纬度位置是 ()

- A. 4° E, 55° S
- B. 4° E, 55° N
- C. 4° W, 55° S
- D. 4° W, 55° N

8. 视频会议当天, 北京的昼夜长短情况是 ()

- A. 昼长夜短
- B. 昼短夜长
- C. 昼夜等长
- D. 正值极夜

9. 格拉斯哥城市时间比北京晚 8 个小时, 这一现象产生的原因是 ()

- A. 地球公转产生的季节变化
- B. 地球公转产生的时间差异
- C. 地球自转产生的季节变化
- D. 地球自转产生的时间差异

联合国教科文组织 (UNESCO) 在 11 月 3 日发出警告称, 非洲乞力马扎罗山上的冰川正在融化。读非洲示意图 (图 1) 和乞力马扎罗山雪峰景观图 (图 2) 完成 10~11 题。

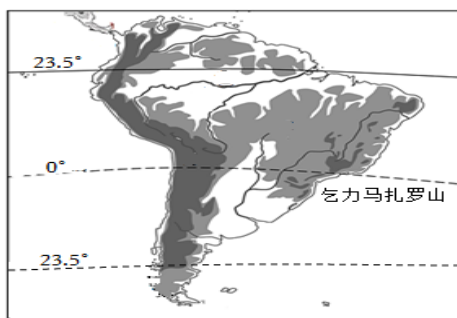


图 1



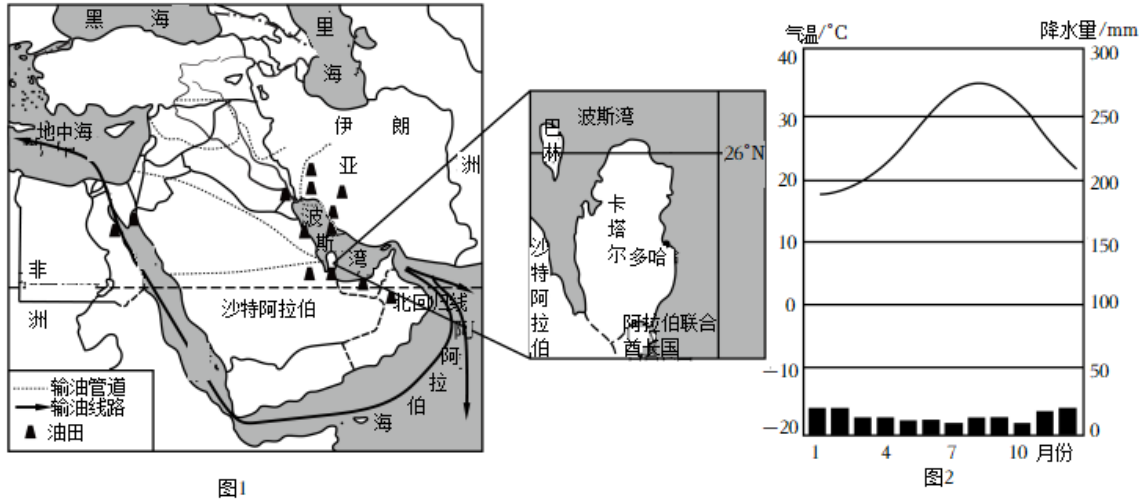
图 2

10. “非洲之巅”乞力马扎罗山位于赤道附近, 山顶终年积雪, 其主要影响因素是 ()

- A. 纬度因素
- B. 海陆因素
- C. 地形因素
- D. 人类活动

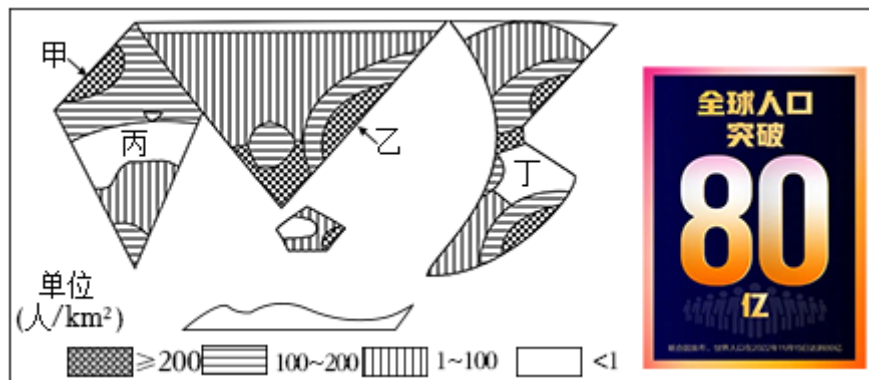
11. 乞力马扎罗山山顶冰川融化的原因是（ ）
- A. 空气污染严重
 - B. 无极昼极夜
 - C. 全球气候变暖
 - D. 人为开采冰川

卡塔尔是波斯湾沿岸国家，2022年11月20日至12月18日，世界杯在卡塔尔举行，这是首次在冬季举行的世界杯足球赛。读中东区域略图（图1）和多哈气温曲线降水柱状图（图2）完成12~14题。



12. 卡塔尔地势平坦，大部分地区的海拔低于103米，据此判断这里的地形主要是（ ）
- A. 高原
 - B. 平原
 - C. 山地
 - D. 丘陵
13. 下列关于卡塔尔叙述错误的是（ ）
- A. 处在北半球和西半球
 - B. 当地居民主要是白色人种
 - C. 处在北温带，低纬度地区
 - D. 石油资源丰富
14. 历届世界杯都在夏季举行，但卡塔尔世界杯足球赛选在冬季举行，其原因是（ ）
- A. 夏季雨季太长
 - B. 夏季气温过高
 - C. 夏季人们忙于生产
 - D. 夏季与宗教节日冲突

据联合国《世界人口展望2022》报告预计，11月15日，地球人口步入“80亿时代”。根据世界人口分布示意简图，读图完成15~17题。



15. 从图中我们可以看出，人口稠密区是（ ）
- A. 甲地和乙地 B. 甲地和丙地 C. 乙地和丁地 D. 丙地和丁地
16. 结合图分析，世界人口主要分布在（ ）
- A. 经济发达地区 B. 中低纬度沿海地区
- C. 出生率高地区 D. 气候炎热地区
17. 下列四幅漫画中，能体现人口数量过多带来资源危机的有（ ）



①民工荒



②水井的变迁



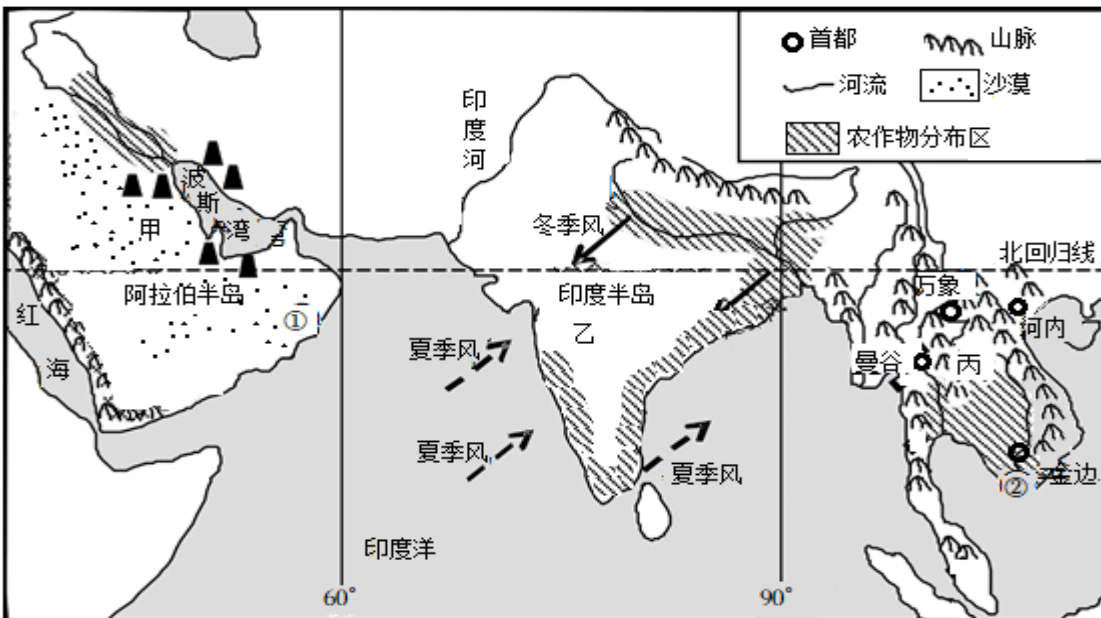
③不堪重负的地球



④托不住了

- A. ①② B. ①③ C. ②③ D. ②④

亚洲有三大半岛，地理环境差异显著。读亚洲南部三大半岛及①②两地建筑风格图，读图完成 18~20 题。



①地西亚传统居民



②地东南亚高脚屋

18. 关于三大半岛地理特征的描述，其中不可能的是（ ）
- A. 小明：甲半岛气候干燥少雨，沙漠广布
- B. 小军：乙半岛主要属于热带季风气候
- C. 小温：丙半岛的地势南高北低
- D. 小华：三大半岛气候以热带气候为主，热量充足

19. 图中传统民居反映①、②两地自然环境最显著的差异是 ()

- A. 气温 B. 地形 C. 土壤 D. 降水


20. 在甲半岛可以看到图中的宗教建筑, 有浑圆的穹顶、尖而高耸的塔, 该宗教建筑是 ()



- A. 教堂 B. 清真寺 C. 佛寺 D. 道观

春暖花开, 适合外出踏青。根据题意完成 21~22 题。

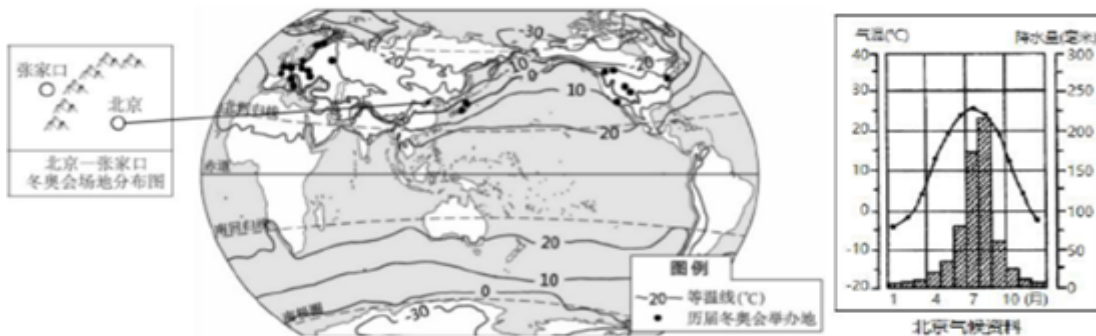
21. 你认为以下最适宜外出踏青的天气是 ()



22. 下列倡议对改善空气质量比较有效的做法是 ()

- ①多乘公共交通出行 ②不乱扔垃圾 ③农民伯伯不要燃烧秸秆 ④洗菜的水冲马桶或浇花
- A. ①③ B. ①④ C. ②③ D. ②④

2022 年第 24 届冬季奥林匹克运动会由北京主办, 位于北京 100 多千米的张家口成为本届冬奥会的合办地。读图“历届冬奥会举办地分布示意图及北京气候资料图”, 完成 23~25 题。



23. 历届冬奥会举办地均位于 ()

- A. 北温带地区 B. 南温带地区 C. 北寒带地区 D. 南寒带地区

24. 世界年平均气温分布的一般规律是 ()

- A. 从两极向赤道逐渐降低 B. 从平原向高原逐渐升高
- C. 从陆地向海洋逐渐降低 D. 从低纬向高纬逐渐降低

25. 北京的气候类型为 ()

- A. 温带海洋性气候 B. 温带季风气候
- C. 温带大陆性气候 D. 地中海气候

某科考队考察南美洲南部的气候和植被情况，发现甲乙两地降水差异明显（图1），南美洲南端的火地岛有很多树木的树冠形状奇特，当地称作“醉汉树”（图2），结合两图完成26~28题。

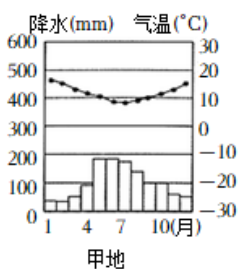
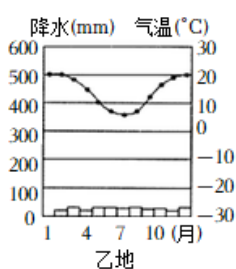



图1



乙地



“醉汉树”景观图

图2

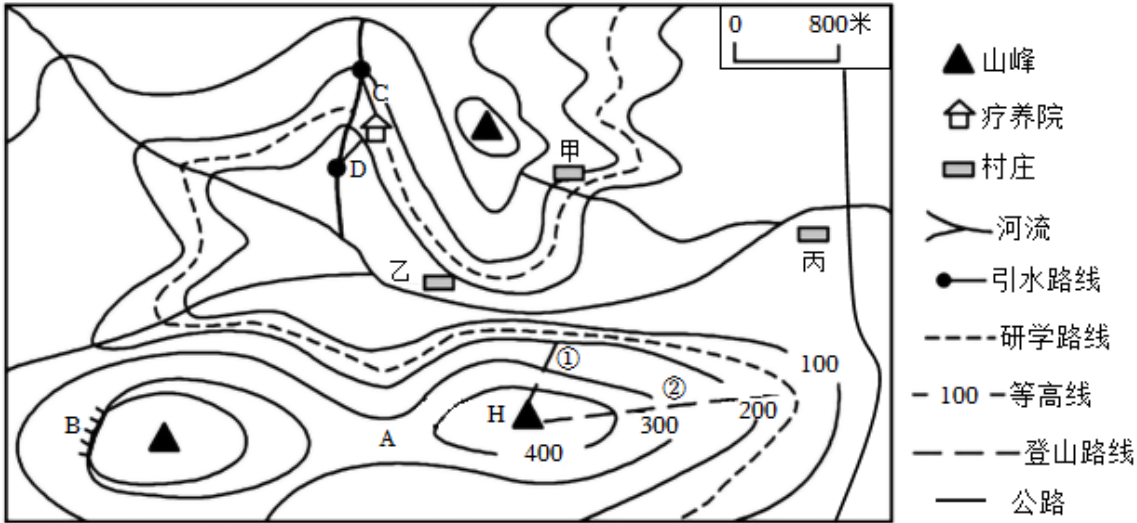
26. 下列对甲地气候特征判断正确的是 ()
- A. 全年高温少雨 B. 夏季多雨，冬季干燥
- C. 全年高温多雨 D. 夏季干燥，冬季多雨
27. 与甲地相比，乙地的降水特点及成因是 ()
- A. 降水多，原因是位于沿海 B. 降水多，原因是位于迎风坡
- C. 降水少，原因是位于背风坡 D. 降水少，原因是位于内陆
28. 造成“醉汉树”独特冠型的原因是 ()
- A. 温度 B. 降水 C. 风向 D. 地形

2022年2月，中国与阿根廷签署了共建“一带一路”相关文件，继续高质量推进各领域交流合作。阿根廷跨境电子商务平台瞄准中国市场，将牛肉、红虾等美食送上中国人的餐桌。据此完成29~30题。

29. 阿根廷与中国开展跨境电子商务合作的社会经济条件是 ()
- ①两国自然地理环境差异大 ②一带一路政策支持
- ③网络通信技术提供保障 ④中国市场广阔
- A. ①②③ B. ①③④ C. ②③④ D. ①②
30. 中国与阿根廷之间的跨境电子商务有利于 ()
- A. 降低运输费用 B. 降低劳动力成本
- C. 加强土地荒漠化治理 D. 促进区域经济合作

二、非选择题（本大题共2小题，每小题20分，共40分）

31. (20分) 某中学地理研学小组来到城郊某地进行野外研学考察活动，阅读该地区等高线地形图，完成下列问题。



(1) 研学小组根据等高线地形图，判断该地区的主要地形类型是 _____。

(2) 根据山地不同部位等高线特征，判断图中 A 地为 _____，B 地为 _____（山顶/陡崖/山谷/山脊/鞍部）。

(3) 图中疗养院计划新建一条引水线路，设计了图中 C、D 两条引水线路，其中更合理的是 _____ 线路。

(4) 图中 H 点的海拔高度范围为：_____米 < H < _____米，研学小组从山脚登山到达 H 点，①、②两条路线中坡度比较陡的是 _____。

(5) 甲、乙、丙三个村庄，最适合发展成城镇的是 _____，请从地形、交通等角度说出你的判断理由。（至少答 2 点）

32. (20 分) 2022 年 11 月 15 日至 16 日在印度尼西亚的巴厘岛举行二十国集团 (G20) 领导人第十七次峰会。根据以下材料完成下列题目。

材料一：二十国集团分布图 (图 1)。

材料二：巴厘岛是印度尼西亚岛屿，东部的阿贡火山海拔 3142 米，是全岛最高峰。日照充足，大部分地区年降水量约 1500 毫米，干季约 6 个月。如图是巴厘岛位置示意图 (图 2) 和气候统计图 (图 3)。



①日本 ②韩国 ③英国 ④欧盟 ⑤法国 ⑥德国 ⑦意大利
⑧土耳其 ⑨沙特阿拉伯

图1

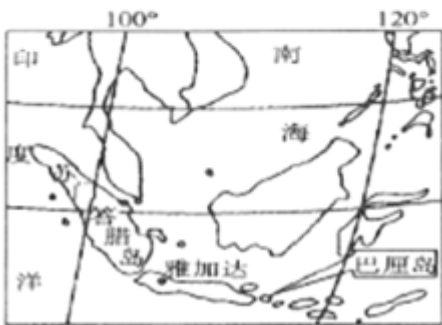


图2

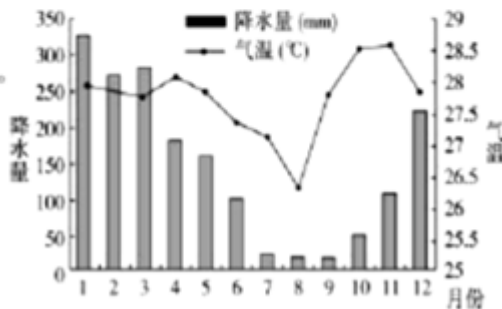


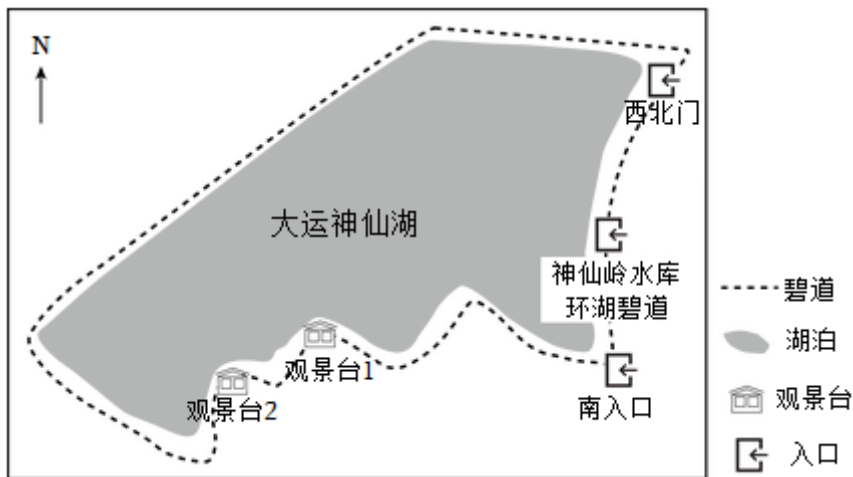
图3

- (1) 读图1，二十国集团的成员国主要分布在亚洲和 _____ 洲；主要分布在 _____ 半球和北半球。
- (2) 在此次峰会中，中国和印尼两国元首共同观摩了雅万高铁试验运行，雅万高铁是“一带一路”建设和中印尼两国务实合作的标志性项目，也是印尼和东南亚第一条高铁。中国和印度尼西亚从经济发展水平看，两国都属于 _____ 国家，两国的合作是属于“_____”。
- (3) 小玲想了解印度尼西亚在世界上的位置情况，她可以选择的地图是 _____ (写序号)。这四幅地图图幅相同，比例尺最小的是 _____ (写序号)。
- ①世界政区图
 - ②亚洲气候图
 - ③印度尼西亚地形图
 - ④巴厘岛导游图
- (4) 印度尼西亚是世界上火山最多的国家，有“_____国”之称。主要原因是这里处在板块的 _____ (内部/交界处)，地壳活动比较活跃。
- (5) 巴厘岛是世界著名的旅游圣地，每年7月~9月是去巴厘岛旅游的最佳季节。请你结合巴厘岛的气候统计图，从气温、降水的角度分析原因。(写出两点)

2022-2023 学年广东省深圳市龙岗区七年级（上）期末地理试卷

一、单项选择题（共 30 题，每题 2 分，共 60 分。在每小题给出的 4 个选项中，只有一项符合题意，请将答题卡上对应题目所选的选项涂黑。）

如图为小明同学绘制的“龙岗大运公园神仙岭水库游玩线路图”，据此完成 1~3 题。



1. 图中缺少的地图三要素是（ ）

- A. 方向 B. 比例尺 C. 图例 D. 注记

【分析】地图是学习地理必不可少的工具。打开各种地图，尽管它们所表示的内容不同，却都具备方向、比例尺、图例和注记等要素，因此方向、比例尺、图例和注记构成了地图的三要素，也称为地图的语言。

【解答】解：地图的三要素有方向、比例尺和图例。读图可得，图中有指向标可判断方向，有图例和注记，缺少的地图三要素是比例尺。故选：B。

2. 观景台 1 位于观景台 2 的（ ）方向。

- A. 正东 B. 正西 C. 东北 D. 西南

【分析】地图上表示方向的三种方法：指向标；经纬网；“上北下南，左西右东”。在有指向标的地图上判定方向，要根据指向标的箭头指示来确定；在经纬网地图上，纬线指示东西方向，经线指示南北方向；没有指向标与经纬网的地图，通常采用“上北下南，左西右东”的规定确定方向。

【解答】解：据图中指向标箭头所指为北方，可判定，观景台 1 位于观景台 2 的东北方向。故选：C。

3. 小明来到观景台 1，望向对面观景台 2，他想知道两观景台直线距离，已知图中比例尺为 1: 6000，图上直线距离为 2 厘米，实地距离为（ ）

- A. 30 米 B. 60 米 C. 120 米 D. 1200 米

【分析】比例尺是图上距离比实地距离的缩小程度，比例尺=图上距离/实地距离。

【解答】解：已知图中比例尺 1: 6000，即图上 1 厘米代表实地距离 60 米，图上直线距离为 2 厘米，可知实地距离 $2 \times 60 = 120$ 米。故选：C。

以上内容仅为本文档的试下载部分，为可阅读页数的一半内容。如要下载或阅读全文，请访问：<https://d.book118.com/496025111155010142>