

山东省高中信息技术学业水平考试真题题库

一、选择题

1 对于信息,下列说法错误的是(D)

- A信息是可以解决的 B信息是可以共享的
C信息是可以传递的 D信息可以不依附于某种载体而存在。

2压缩工具的重要功能之一是(A)

- A使原文献压缩后容量变小。 B改变原文献的类型
C使原文献加密 D修补原文献丢失的信息

3对于计算机来说,信息解决其本质就是(A)

- A数据解决 B控制解决 C事件解决 D资源应用

4人们把人造卫星发上天,得到了大量的数据信息和情报,这是(D)的过程。

- A信息解决 B信息储存 C信息加工 D信息采集

5

美国高中生弗雷·帕森对冲击波病毒进行了修改并传播了一系列的病毒变种,是全球近50万的

电脑受到袭击,针对这一行为下列说法不对的是(A)

- A该生属于思想意识问题,并没有触及法律。
B该生已经触及法律,应受到法律的制裁。
C网络用户应当引起高度重视,增强防范意识
D人人都应自觉遵守网络道德规范。

6陈明要将已完毕的数学第一至第五章的练习共5个文献,通过电子邮件,发送给数学老师,下列做

法不能实现的是(B)

- A将5个文献分别作为邮件的附件,一次发送。
B将5个文献放入"数学作业"文献夹,再将"数学作业"文献夹作为附件,一次发送出去
C将5个文献压缩打包为一个文献,作为附件发送出去

D将5个文献分别作为5个邮件的附件,分别发送出去

7假如电子邮件到达时,你的电脑没有开机,那么电子邮件将会(B)

- A退回给发信人 B保存在服务器商的邮件服务器上
C过一会对方重新发送 D永远不再发送

8老师布置了一个制作电子报刊的任务,那么以下软件中你觉得哪些是比较合适的?(A)

- A WORD WPS B WORD 写字板
C WORD 记事本 D 写字板 记事本

9在下列存储器中,访问速度最快的是(C)

- A 软盘 B 硬盘 C 内存储器 D 光盘

10我们要支持国产软件,支持民作产业,以下哪些软件是中国人自主开发的(B)

- A WORD B WPS C Photoshop D Flash

11某电子邮件地址为,其中Chinasd代表(A)

- A 用户名 B 主机名 C 本机域名 D 密码

12一个教室内的计算机连成的网络属于(C)

- A 因特网 B 广域网 C 局域网 D 城域网

13一般来说,使用域名WWW.tsinghua.edu.cn的机构是(A)

- A 中国的教育界 B 中国的工商界 C 政府机构 D 网络机构

14网页排版一般都用(A)控制文本、图片、动画、视频位置

- A 表格 B 段落 C 层 D 章节

15下列用来制作网页的软件是(C)

- A Outlook Express B Foxmail C Frontpage D Internet Explorer

16下列那种不是接入internet的方式(D)

- A、DDN B、ISDN C、ADSI D、Http

17、学校要进行一项“青少年禁毒宣传活动”

，同时需要建立相关的主题网站，借此宣传毒品对青少年的危害性；以此为例，下面过程较为合理的信息集成过程是 (D)

- ①收集反馈、评价修正
- ②拟定主题、设计目的
- ③规划内容结构、收集加工素材
- ④选择适当工具、实际制作

A、③②①④ B、②①④③ C、①③②④ D、②③④①

18统一资源定位器URL完整格式为：(A)

- A 协议：//IP地址或域名/途径/文献名 B 协议：//途径/文献名
- C TCP/IP协议 D http协议

如

19在word中要绘制一个正方形，可以在“绘图”工具栏中选择“矩形”工具，按住(C)键同时，拖动鼠标画出正方形。

A、Alt B、Tab C、Shift D、Ctrl

20在Word2023中，对的的“右对齐”按钮是 (B)



A、图一 B、图二 C、图三 D、图四

21

用IE浏览器浏览网页时，当鼠标移动到某一位置时鼠标指针变成“小手”，说明该位置一般有：(

A)

A、超链接 B、病毒 C、黑客侵入 D、错误

22 公司考勤部门用的指纹辨认机是人工智能的 (A) 应用

A、模式辨认 B、手写辨认 C、语音辨认 D、光学字符辨认

23下列四个文献中，那个文献是网页类型的文献 (C)



A文献1.doc B文献2.zip C 文献3.htm D文献4.txt

24下列关于计算机病毒的叙述中，不对的是 (D)

- A 制造、散布计算机病毒是犯罪行为
- B 计算机病毒具有潜伏性
- C 计算机病毒具有传染性
- D 计算机病毒会传染给操作者

25在windows资源管理器文献夹窗口中，假如需要选择多个不连续排列的文献，对的地操作是

：(B)

- A 按住Alt+单击要选定的对象
- B 按住Ctrl+单击要选定的对象
- C 按住Shift+单击要选定的对象
- D 按住Ctrl+双击要选定的对象

26信息技术老师给了小明一个IP地址192.168.9.*57其中”*”位置的数字有些模糊，那么”

*”位置的数应当是 (A)

A.1 B.2 C.3 D.4

27 OSI模型将网络结构划分为(D)层。

A. 四层 B. 五层 C. 六层 D. 七层

28下列IP地址合法的是 (C)

A 128/234/56/7

B 202.102.24.256

C

193.123.45.6

D 201, 102, 24, 56

29、以下设立密码的方式中哪种更加安全 (C)

A 用自己的生日作为密码 B 所有用英文字母作为密码

C 用大小写字母、标点、数字以及控制符组成密码

D 用自己的姓名的汉语拼音作为密码

30、有关网络叙述对的是 (B)

A、398. 321. 23. 333是一个对的的 I p 地址

B、outlook Express是一个电子邮件收发软件

C、显示网页中的图片，不会影像网页的浏览速度

D、在因特网，有些专门帮大家进行数据存储的网站称搜索引擎+

31学校计算机机房中教师机的IP地址为：192. 168. 0. 2地址为 (A) 地址

A. A类 B. B类 C. C类 D. D类

32 目前网络传输介质中传输速率最高的是 (C)

A. 双绞线 B. 同轴电缆 C. 光缆 D. 电话线

33小明正在做一个关系北京奥运的网页，需要一幅相关的图片，得到网上查找，那么以下哪个

网站可以帮到他呢？D

①百度 ②新浪 ③网易 ④搜狐

A、①② B、①②③ C、①③④ D、①②③④

34机器人是一个比较热门的话题，那么你知道机器人重要是运用了 (B)

A、网络技术 B、人工智能技术 C、语音技术 D、自动化信息加工技术

35下面不属于信息技术范畴的是 (C)

A、计算机技术 B、网络技术 C、转基因技术 D、通信技术

36关于信息，以下说法不对的是 (D)

A、信息需要依附于载体而存在

B、两个人进行交谈或讨论也是在互相传递信息

C、传递和获得信息的途径可以有很多种

D、同一条信息对所有人都有价值。

37有位同学在网上找到了一份英文学习资料，想把它翻译成中文，可以用以下那个软件 (C)

网络蚂蚁 B、CuteFTP C、金山快译 D、影音传送带

38在用电子表格分析结果时，描述学校招生人数走势，最形象地图标类型是 (C)

A柱形图 B条形图 C折线图 D 饼图

39运用计算机模拟人类的某些活动，如医疗诊断、定理证明等，这些应用都属于 (C)

A、数值计算 B、自动控制 C、人工智能 D、辅助教育

40、下列不属于数据库管理系统软件的是 (D)

A、access B、foxpro C、oracle D、wps

41、下列各项中表达网站域名的是 (B)

A、 B、www.163.com

C、124. 185. 56. 88 D、

42通过网络缴纳水电费、煤气费等属于 (A)

A、电子商务 B、钞票买卖 C、储蓄业务 D、通存通兑

43、下列四种软件是压缩软件的是 (C)。

A、Word B、Flash C、Winzip D、Photoshop

44网上“黑客“是指 (D) 的人

A 总在晚上上网

B 匿名上网

C 制作Flash的高手

D 在网上私闯别人计算机系统

45某学校用来管理课程选修信息的学生选课系统属于： (A)

- A 数据库应用软件 B 图像解决软件
- C 多媒体制作软件 D 字解决软件

46计算机断电后，计算机中（ B ）所有丢失，再次通电也不也许恢复。

- A ROM和RAM中的信息 B RAM中的信息
- C ROM中的信息 D 硬盘中的信息

47在数据库中，表的结构有字段组成，每一行所有字段组合起来的数据便是一个完整的（ D ）

- A、数据库 B、档案 C、数据 D、记录

48人类经历五次信息技术革命依次是：语言的产生、文字的出现、（ C

），电报、电话、广播、电视的使用、电子计算机和现代通信技术的应用。

- A、火的使用 B、指南针的使用 C、印刷术的应用 D、蒸汽机的发明和使用

49 假如想保存网页上一张图片，对的的操作是（ B ）

- A、单击文献菜单，选择“另存为”命令
- B、右击该图片，选择“图片另存为”命令
- C、单击该图片，在弹出的快捷菜单中选择“图片另存为”命令
- D、直接拖曳图片到收藏夹中

50下图是国际足球比赛中经常使用的信息表达方式，这是采用的（ A ）



云达不莱梅 vs 汉诺威96

亚琛 vs 勒沃库森

- A、结构图 B、图形 C、文字 D、流程图

51对于同一个视频片断文献而言，下列四种文献格式中存储空间最小的是（ A ）

- A、mpg B、dat C、avi D、vcd

52将一副bmp格式的图像转换成jpg格式之后，会使（ C ）

- A、图像更清楚 B、文献容量变大 C、文献容量变小 D、文献容量大小不变

53一个字节涉及（ B ）个二进制位

- A 6 B 8 C 16 D 32

54、一张1、44Mb软盘已保存了共900kb的数据，则下列文献能存入该软盘的是（ C ）

- A、614400B的文献 B、700KB的文献 C、500KB的文献 D 0.7Mb的文献

55、数据库管理系统中的查询功能是（ A ）

- A、必不可少的 B、可有可无的 C、多余的 D、没故意义的

56下列选项中所有属于应用软件的是（ A ）

- A、WPS2023、Word2023、Excel 2023
- B、Windows2023、Excel2023、WPS2023
- c、Kill3000、Word2023、Unix
- D、WPS2023、DOS7.0 、Word2023

57在OSI模型中，网卡的作用属于那一层（ D ）

- A、应用层 B、表达层 C、传输层 D、物理层

58小明想把搜狐网站连到自己个人网站上，需要建立（ B ）

- A、ftp超链接 B、www超链接 C、email超链接 D、bbs超链接

59关于因特网搜索引擎的叙述对的的是（ C ）

- A、只能按关键字进行查询 B、只能按分类目录进行查询
- C、既能按关键字查询又能按分类目录查询 D、既不能按关键字查询又不能按分类目录查询

名著《三国演义》在图书馆被不同的人借了又借，网上登载的文章《我们如何应对入世》被数以千计的人们不断的阅读，这说明信息具有（A）

A共享性 B 传递性 C变换性 D时效性

61 下列叙述你认为对的是（C）

A、广播、电视、因特网给我们带来了大量的信息，这些信息都是可信的，可以直接使用。

B、在因特网上，可以运用搜索引擎查找到我们所需要的一切信息。

C、有效获取信息后，要对其进行分类、整理并保存。

D、保存在计算机的信息是永远不会丢失和损坏的。

62下列软件属于智能解决软件的是（C）

A 文字解决软件 B 网页制作软件

C 语言翻译辨认软件 D 视频播放软件

63在计算机内部，信息的存储、解决、传送都是采用（A）。

A、二进制 B、十进制 C、八进制 D、以上都不对

64 要想在万维网上迅速的找到自己想要的资源，应当学会使用（B）

A、超级链接 B、搜索引擎 C、下载文献 D、e-mail

65运用因特网给我们提供的博客服务，我们可以通过申请自己的个性博客空间，关于博客下列说法不对的是（D）

A. 博客是一种特殊的网络服务，它是继E-mail\BBS\IM等之后出现的一种网络交流方式。

B. 博客基于网页，采用类似于个人网站的表现形式。

C. 我们可以通过博客将极富个性化的思想、见闻以及个人收集的知识以“帖子”的形式在网络上发布出来共享。

D. 博客可以写作“播客”，内容可以不受任何限制。

66下列行为不违反信息道德的是（D）

A. 小王自恃计算机水平很“高”，通过网络强行控制别人的计算机，随意删除修改别人的文献

；

B. 小丽是A通信公司老总的秘书，于是趁工作之便将公司核心技术文献以电子邮件的形式发给老对手B通信公司老总，并获5万元红包；

C. 吴某是编程高手，通过3天的攻关，把某公司辛劳3年开发的程序破解了，并以每套1000元的价格（低于该公司销售价格5000元）卖给了几个公司；

D. 网友小木是个摄影高手，他登陆某论坛贴图社区，上传若干风景图片，并希望网友对他的作品提出意见。

67 山东省招生信息得网站：根据域名推测，这是一个（D）部门得网站。

A 军事 B 商业 C 公司 D 政府

.edu.cn是属于（教育）部门网

68 用word2023编辑文档时，规定图片作为背景显示，应设立其围绕方式为（C）

A 四周型 B 紧密型 C 衬于文字下方 D 嵌入型

69微型计算机正常运营必不可少的输入输出设备：（A）

A 键盘和显示器 B 键盘和鼠标

C 显示器和打印机 D 鼠标和打印机址

70在互相发送电子邮件的时候，我们必须知道彼此的（D）

A 家庭具体地址 B 电话号码

C 密码 D 电子邮件地址

71下面关于IP地址的说法，错误的是（A）

A 因特网上的每台主机至少有一个IP地址

B 因特网上的每台主机有且只有一个IP地址

C 每个IP地址占有32个二进制位

D A类IP地址所包含的主机数比B类IP地址多

72建立班级主题网站的顺序是（B）

A

规划→设计→实现→

发布管理

B 设计→规划→实现→发布管理

C 规划→实现→设计→发布管理

D 设计→实现→规划→发布管理

73关于URL，以下(D)是错误的

A 网页的网址是一种URL

B URL就是统一资源定位符

C Http://.sh.cn 是“上海热线”主页的URL

D 也许是某个网页的URL

74家中新买计算机的配置为：Intel 奔腾4 2.8GHz/ 256M/ 80GB/50 X，其中奔腾4表达的是(

D)。

A、内存容量大小 B、软盘容量大小 C、显示器型号 D、CPU型号

75 小王要从网上下载一部650M的电影，使用那种方式下载速度最快(C)

A、直接下载 B、单击鼠标右键选择“目的另存为”

C、使用“网际快车”进行下载 D、通过复制来达成目的

76、在Word中，(B

)查看方式具有“所见即所得”的效果，页眉、页脚、分栏和图文框都能显示在真实的位置上，

可用于检查文档的外观。

A、普通视图 B、页面视图 C、大纲视图 D、web版式视图

77、小李要安装Office2023，他打开光盘文献夹看到里面有个名叫“SETUP.EXE”的文献，这

种文献一般是表达 (C)

A、 Office2023说明文献 B、 Office2023解压程序

C、 Office2023安装程序 D、 Office2023卸载程

78 下面对电子邮件的描述中，对的是(C)

A一封邮件只能发给一个人

B不能给自己发送邮件

C一封邮件能发给多个人

D不能将邮件转发给别人

79 在windows98系统中，在各种输入法之间进行切换的默认热键：(B)

A ctrl+空格 B ctrl+shift C Alt+空格 D ctrl+Alt

80、某同学想知道

“地球自转方向”，

通过网上搜索查询得出两种不同的答案，一是顺时针旋转，二是逆时针旋转，面对这种情况，

如何判断哪种结果是否对的比较好。(A)

A、 查找的是否专业的、权威的、可信度高的网络科学数据库。

B、 查询的结果多少而定，得出相同的结论多的就是对的。

C、 网站界面设计的是否美观，界面设计的好的数据比较准确。

D、看查找的速度如何，速度快的网站比较准确。

81 “你有一种思想，我有一种思想，彼此互换，每人至少有两种思想”这体现了什么？(D)

A、信息的依附性 B、信息的时效性 C、信息的价值性 D、信息的共享性

82下列软件不是操作系统的是(B)

A、unix B、word2023 C、windows xp D、dos

83假如你只保存一个软件序列号或者是一段纯文本，使用方便占用空间小的软件是(C)

A、WPS B、word2023 C、记事本 D、Flash mx

84因特网起源于上个世纪的(C)

A、互联网 B、广域网 C、阿帕网 D、公共网

85计算机的发展大体通过了四个阶段(A)

A、电子管 晶体管 集成电路 大规模集成电路

B、晶体管 电子管 集成电路 大规模集成电路

C、晶体管 集成电路 电子管 大规模集成电路

D、电子管 集成电路 晶体管 大规模集成电路

86某学校用来管理课程选修信息的学生系统属于 (C)

A、人工管理 B、文献管理 C、数据库管理 D、以上三种都不是

87将当前浏览的标题为“welcome”的页面保存时(采用默认文献名)(B)

A、可以得到一个index.htm页面和index文献夹

B、可以得到一个welcome页面和welcome文献夹

C、可以得到一个index.htm页面和welcome文献夹

D、可以得到一个welcome.htm页面和index文献夹

88班主任小林想开一个有关“弘扬奥运精神”的主题班会，现在他手里有一张有关奥运会的光盘，但是他只想要其中的一个片段，假如你是小林，你会运用以下哪个计算机软件把这段截取出来呢？(C)

A、Winamp B、ACDSee C、超级解霸 D、cool Edit Pro

89关于文献和文献夹，下列说法错误的是(C)。

A、在同一文献夹下，可以有两个不同名称的文献

B、在不同文献夹下，可以有两个相同名称的文献

C、在同一文献夹下，可以有两个相同名称的文献

D、在不同文献夹下，可以有两个不同名称的文献

90下列选项都是在中文信息解决技术发展过程中相称重要的事件，请选出那一项是王选院士的科技成果(B)

A、CDOS操作系统 B、汉字激光照排系统和电子制版系统


C、联想汉卡 D、中文字解决wps

二、判断题

1、计算机网络的重要功能是信息通信、资源共享、分布式解决。(对的)

2使用WORD2023只能解决文字(错误)

3 Internet上采用的网络协议是ISO/OSI (错误)

4在WORD2023中编辑文档时，可以从“文献”  页面设立来设立纸张类型(对的)

5只要计算机不上网就不会感染病毒(错误)

6使用网络搜索时，每次只能使用一个关键词(错误)

7网络中传输文献通常是将文献先进行压缩，是由于文献越小，传输时间越短。(对的)

8学校图书管理软件属于应用软件(对的)

9、电子邮件中，用户可以发送任意大小的计算机文献。(错误)

10在Windows98系统中，只有一个任务在前台运营，其他任务都在后台运营。(对的)

11 图像的魅力重要体现在信息丰富，形象直观，并且可以跨越语言的障碍(对的)

12、不同的搜索引擎同一个关键词的搜索结果是同样的。(错误)

13用QQ或MSN等工具软件，可以实现一对一在线视频或语音交流(对的)

14 一个多媒体作品中必须要有文字、动画和声音信息(错误)

15信息资源的管理方式有人工管理方式、文献管理方式、数据库管理方式三种(对的)

16网址，http的含义是万维网(错误)

17

用户运用文献传输协议(FTP)可在两台联网的计算机之间传输文献，它是因特网传输文献的重要的方式之一(对的)

18 在普通网页中我们只可以加入图片和音频文献，不能加入视频文献(错误)

19小刚把自己刚买的正版软件放在网上供别人下载，这种行为是合法的。(错误)

20 虚假的情报不是信息(错误)

21在信息的获取过程中，信息评价环节并不重要,可有可无。(错误)

22 信息只有被运用才干体现出价值(对的)

23 只要给计算机设立了密码，就不会被黑客袭击(错误)

24 在我们国家，在Internet上我们只能浏览我国网站的信息。(错误)

25信息传递必须依附于载体(对的)

26、电子邮件是一种方便实时性的联系方式。(错误)

27 IT是指信息技术（对的）

28

我们可以通过电子邮箱给别人发送电子邮件，但电子邮件只能发送文字信息，不能发送图片或动画（错误）

29、一般来说，矢量图像的文献容量比较小，图像在放大或者旋转等操作是不会失真（对的）

30、FTP是专门提供文献传输的网站（对的）

三、操作题

1、使用outlook

express软件，给你的好友张龙发送一封主题为“暑假计划”的邮件，信的内容为“暑假计划，请查收”，同时把C:\ks文件夹下的“暑假计划.txt”一起发送给对方，张龙的邮箱地址为

操作环节：

①、启动outlook express，进入outlook express界面，单击“创建邮件”

按钮，进入“新邮件”窗口，添加如下内容：

收件人

抄送

主题 暑假计划

输入正文内容：暑假计划，请查收

②、菜单栏“插入”——

“文献附件”，在插入附件窗口中找到“C:\ks\暑假计划.txt”，单击“附件”添加上。

③、最后，单击“发送”

2、某同学申请了一个免费邮箱，请在outlook

express中添加这个帐号。邮件的接受和发送服务器分别为：pop3.163.com和smtp.163.com，密码为def。

操作环节

①、启动“outlook express”，选择“工具”——“帐户”，“添加——邮件”

②、显示名称：abc，电子邮件地址：,接受邮件服务器：pop3.163.com发送邮件服务器：smtp.163.com，密码：def，拟定。

3. 某营销员携带笔记本电脑（操作系统是windows98）到宾馆住宿，需要接受公司传给他的数据，宾馆为他提供了如下数据：

IP地址：192.168.0.100 网关：192.168.0.1

DNS：202.102.152.3 子网掩码：255.255.255.0

操作环节：

①、在桌面上右击“网上邻居”，单击“属性”。（在属性窗口中A、单击选中“TCP/IP协议”，然后单击窗口下边“属性”；B、或者直接双击“TCP/IP协议”）

②、在属性窗口中分别选择“IP地址”、“DNS配置”、“网关”选项卡，输入相关内容。

③、单击“拟定”，当出现“是否重新启动计算机”对话框时，单击“是”即可。

4、打开C:\ata\temp\{topic_info}04\{topic_info}\p4translator\frontpg\fp01\文献夹中网页xxfc.htm，将“学校风采”标题依次设为楷体_GB2312、24磅、居中、网页背景设立为图片（C:\ata\temp\{topic_info}04\{topic_info}\p4translator\frontpg\fp01\xxtp.jpg），并以xxwy.htm为文献名另存到文献夹中。

操作环节：

①、打开网页。

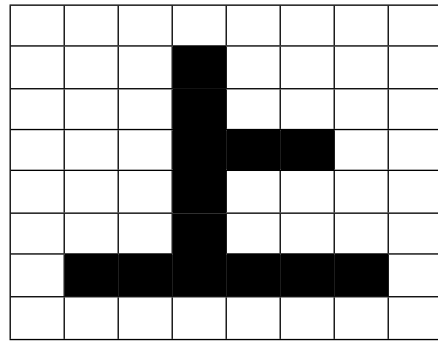
②、在出现的网页中选择文字“学校风采”，然后设立字体的格式。

③、单击“格式——

背景”，在“网页属性”窗口中，选择“背景图片”选项，单击“浏览”按钮，选择规定的图片，拟定返回。

④、单击“文献——另存为”，换名保存。

5.打开C:\ata\temp\{topic_info}04\{topic_info}\p4translator\frontpg\fp01\文献夹中的“我的个人主



页.htm”文献，在标题“我的个人主页”下添加一个四行三列的表格，在网页中的“与我联系”文字上建立邮件超级链接指向,最后以myweb.htm为文献名保存在的C:\ata\temp\{topic_info}04\{topic_info}\p4translator\frontpg\fp01中。

操作环节：

- ①、打开网页“我的个人主页.htm”,位置如题
- ②、拟定“插入点”的位置，选择“表格——插入——表格”，插入四行三列的表格
- ③、选中文字“与我联系”，右击选中的文字，选择“超链接”，在“创建超级连接”窗口中单击右下角第三个类似“信封”形状的按钮（制作发送电子邮件的超链接），输入邮件地址：
- ④、单击“文献——另存为”，换名保存。

四、分析题

1下面是某市中学生足球比赛循环赛球队比赛结果登记表，根据积分规则“比赛获胜积3分，打平积1分，落败积0分”情进行如下分析

球队	胜	平	负	积分	名次
甲	2	0	1		
乙	2	1	0		
丙	0	1	2		
丁	1	0	2		

问题：

获得小组冠军的是哪个队？

按积分算，丁队的排名是第几？

积分最少的球队是哪个队

2 下面是一个“上”字的8*8信息编码点阵图，假设空方块用“0”表达，黑方块用“1”表达,试分析并回答下列问题。

8
7
6
5
4
3
2
1

1 2 3 4 5 6 7 8

问题：

点阵图第二行用“0”和“1”从左向右排列的信息编码是如何的？

编码00011100表达点阵图的第几行

第6行第5列的信息编码是“0”还是“1”

3根据下面“大华商场2023年电器产品销售情况表”（单位：元）中的信息进行如下分析：

商品名称	一季度	二季度	三季度	四季度	全年合计
------	-----	-----	-----	-----	------

电脑	133000	145000	157000	212023	647000
彩电	102400	113800	89000	138000	443200
冰箱	125000	100000	137000	96700	458700
空调	98000	102023	56700	112023	368700

问题:

哪种产品平均季度销售额最低

哪种产品第一季度比第二季度的销售额高

哪种产品销售额每季度在递增

4.下图是山东彩票网公布的30选7中奖号码表,请通过度析号码表回答下面的问题:

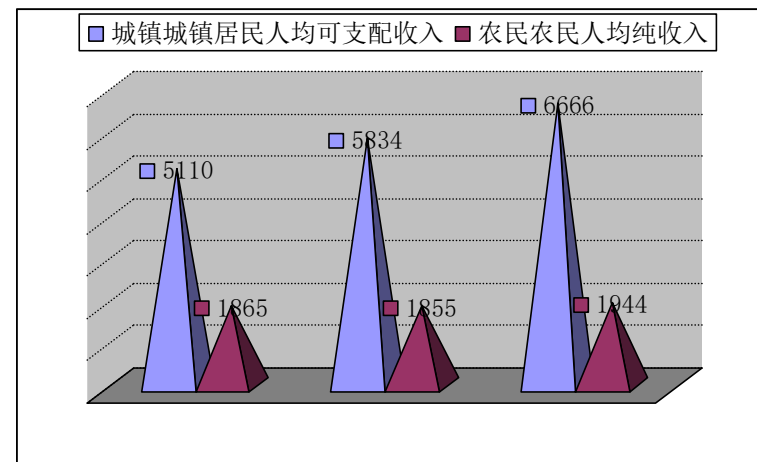
期号	开奖日期	01	02	03	04	05	06	07	08	09	10	11	12	13	14	15	16	17	18	19	20	21	22	23	24	25	26	27	28	29	30
2006Q006	2006年1月13日			3						9	10					15					20	22		24						29	
2006Q007	2006年1月16日											11						18			20	22	23		25	26	27				
2006Q008	2006年1月18日		2					7		9	10	11											23	24						30	
2006Q009	2006年1月20日		2	3	4								12									21				26	27	28			
2006Q010	2006年1月23日			3	4			7			10					15						22	23							30	
2006Q011	2006年1月25日			3								11		14			17				21			23		25	27		29		
2006Q012	2006年1月27日					5							12	13	14	15							23				27			30	
2006Q013	2006年2月6日	1				5	6											17	18				23				27	28	29	30	

(1)这几期彩票中奖号码中出现频率最高的号码是:

(2)此表共有几条记录,几个字段:

(3)30个号码中,出现频率与6相同的号码是:

5 广西省城乡居民人均可支配收入与农民人均村收入(单位:元)对比图如下



问题:

(1)依图分析,哪一年城乡居民人均可支配收入与农民人均纯收入差距大?

(2)依图分析,1997年到2023年农民人均纯收入增长了多少元?

(3)依图分析,城乡居民人均可支配收入与农民人均纯收入哪个增长得快

6

以下是某市通过1.38万份网民问卷对打折购买商品进行调查的结果,表中数据为王明购买某类

打折商品选择消费市场的比例,请根据此表回答()

打折商品 消费市场	服装	鞋、包	家用电器	其他商品
综合性百货商店	43.0	10.2	16	18.8
主题商场	22.6	25	28.4	43.8
超市	26.6	47.2	44.4	25
小店	7.8	17.6	11.2	12.4

问题:

打折时网民购买电冰箱,最也许取得购物场合是哪个消费市场?

在综合性百货商场，购买哪一类打折商品的人最多

购买洁具和餐具等其他商品，去主题商场的人数比例为多少？

7一家便民超市使用电子表格记录销售情况，下表是数据表的一部分：

	A	B	C	D
1	种类	单价（每公斤）	销售数量（公斤）	合计金额
2	猪肉	¥12.00	10	¥120.00
3	鸡蛋	¥4.00	26	¥104.00
4	黄瓜	¥3.00	20	¥60.00
5	总计			¥284.00

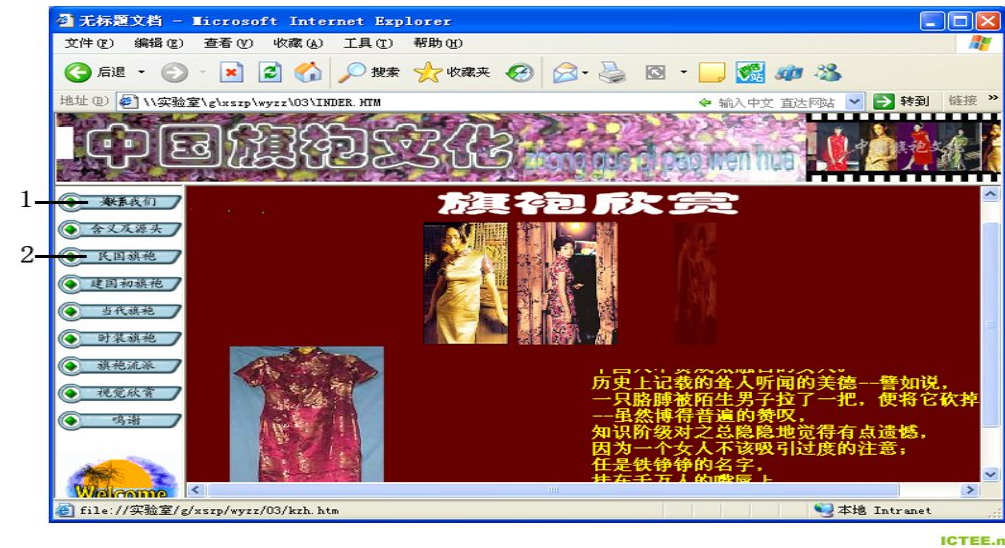
问题：

该表中“¥”表达什么含义

假如鸡蛋的销售数量改为30公斤，那么必须改动哪一个单元格

计算黄瓜合计金额的d4单元格的计算公式是什么

8下面是一个同学设计的网站的首页，请通过度析回答下面的问题：

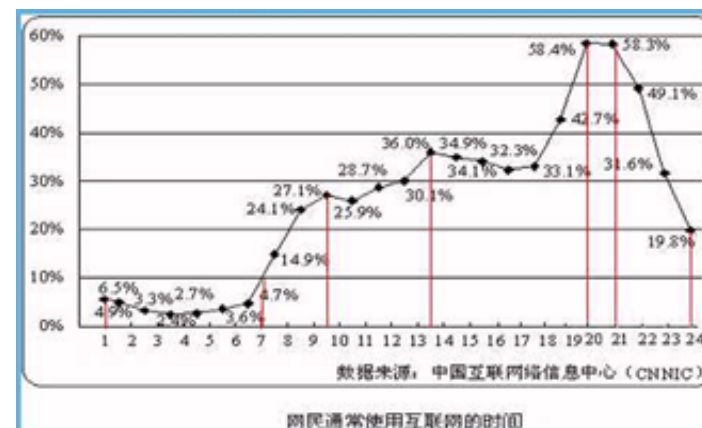


(1)图中1处链接的是这个同学在网易申请的免费电子信箱，用户名是zgqp，那么这个邮箱对的的写法应当是：

(2)当把鼠标指向图中2处时，鼠标指针会变成小手状，这说明这儿有什么？

(3)这个同学在制作这个网页时忘了加标题了，请试着帮他想一个标题：

9新浪科技讯2023年7月21日，中国互联网信息中心在京发布“第十六次”中国互联网络发展状况记录报告，根据本次调查结果，网民一天中使用互联网的时间波动非常大，如下图（横坐标为时间，纵坐标为上网率）请根据下图进行分析



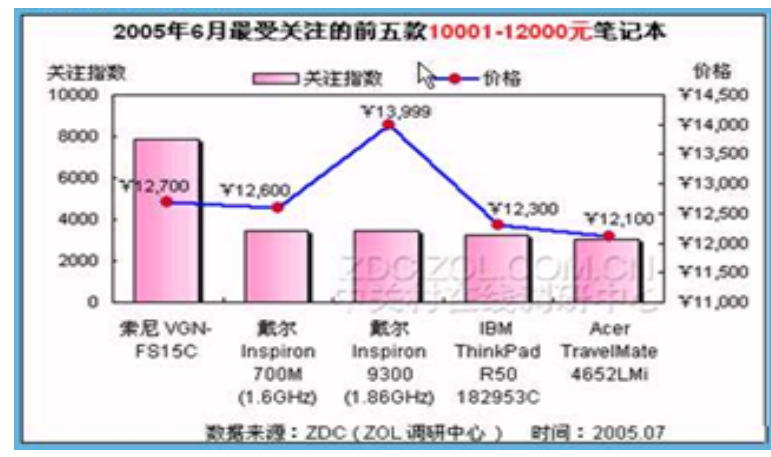
问题

观测上表中的折线走向，找出网民上网率不高于10%的时间段（以小时为单位）是从1点到几点？

上网人数达成最高时的比例是多少？

从21点到24点，上网人数下降了多少个百分点？

10根据下表分析



问题：

最受关注的笔记本电脑的价格是多少？

IBM笔记本电脑的价格（由低到高）排第几？

索尼笔记本电脑与最高价格的笔记本电脑差价是多少

10小峰去年考取了离家较远的某所大学。入校时他已经购买了笔记本电脑，并且所在学校的宿舍也安装了宽带。

假如小峰想通过网络与家人语音视频聊天，你觉得他还应当购买什么？

摄像头

小峰注册了一个电子信箱，地址为：，那么用户名是什么？

sdxiaofeng

小峰想把自己在学校拍摄的数码照片通过网络发给同学、朋友，请你写出他也许运用的交流工具（至少写出3种）

11下表为某市公交线路特定期段每车平均载客量调查登记表，根据表中数据回答下列问题

线路	固定每车间隔时间	7: 00-8: 30时段每车平均载客量	8: 30-11: 30时段每车平均载客量	11: 30-1: 30时段每车平均载客量
2路	5分钟	136人	102人	113人
5路	5分钟	82人	23人	38人
10路	10分钟	33人	28人	30人

哪条线路最需要增长车辆加以缓解乘车压力？

2路

哪个时段每车平均载客量最大

7: 00-8: 30

哪条线路发车间隔时间最应当更改为随客流量变化的？

5路

12下图为2023年北京奥运会运动会票务网站，请根据网站内容回答问题：

要想快速的找到自己购买的门票信息，网站提供了门票搜索功能，请问有哪几种搜索方式？

按比赛日期查看，按体育项目查看，按比赛场馆查看

假如你有一个网易（163.com）的电子邮箱，用户名为aoyun，并在票务网站已经注册成功，请问你在右侧登陆时输入的电子邮件地址应当是

该网站面向国际提供多种语言服务，请问有哪几种语言（请使用中文回答）

中文、英语、法语

山东省信息技术学业水平考试2023年题库增长题目

一、选择题

- 1、一张光盘被损坏了，存储的信息就无法读取，一盘录像带被烧毁了，影像信息就不复存在，这重要体现了信息的（ A ）
A 载体依附性 B 共享性 C 传递性 D 时效性
- 2、小王打开电子邮件收件箱，发现其中有一封邮件有 标志，该标志表达该邮件（ B ）
A 紧急邮件 B 有附件 C 邮件未读 D 已回复
- 3、在“百度”搜索引擎“山东大学”，出现的页面内容（ C ）
A 山东大学概况 B 山东大学的所有信息
C 山东大学相关信息的链接地址 D 山东大学网站的主页
- 4、为了可以直观的表现某地一年来猪肉价格的变化趋势，最佳使用（ C ）
A 柱形图 B 饼图 C 折线图 D 条形图
- 5、二进制运算规则为 $1+1=10$ ，那么二进制算式 $11*11$ 等于（ C ）
A 121 B 1011 C 1001 D 都不对
- 6、下列文献的扩展名中，表达声音文献的是（ B ）
A DOC B WAV C XLS D PSD
- 7、在下载一个较大的文献时，通常使用（ B ）
A Winrar B Flashget C Photoshop D Webzip
- 8、刘伟想把自己喜欢的网站分类收藏，并且能快速打开这些网站，那么最佳管理方式是（ D ）
A PDA B 资源管理起 C 用笔记录 D 收藏夹
- 9、下列不属于网络交流方式的是（ D ）
A BBS B MSN C E-mail D Dreamweaver
- 10、我国正式颁布实行的（ ）对计算机病毒的定义具有法律性、权威性。
A 《计算机软件保护条例》 B 《中华人民共和国计算机信息系统安全保护条例》
C 《中华人民共和国刑法》 D 《互联网电子公告服务管理规定》
- 11、以下关于超级链接的说法中错误的是（ C ）
A 超级链接的链接目的可以是另一个网页 B 超级链接的链接目的可以是另一个网站
C 超级链接的链接目的可以是一个打印机 D 超级链接的链接目的可以是E-mail
- 12、下列行为符合网络道德规范的是（ D ）
A 聊天时对网友任意谩骂 B 将病毒放在自己的网站中
C 私自查看别人计算机内的重要数据 D 对论坛上别人的合理求助给与帮助
- 13、灭火机器人可以感知火源重要是运用了（ A ）
A 传感技术 B 通信技术 C 计算机技术 D 纳米技术
- 14、高考报名时，需要提供每位同学的数字照片一张，学校应选择哪种信息采集工具最方便、快捷？（ C ）
A 电视机 B 普通光学相机 C 数码相机 D 扫描仪
- 15、下列关于“Blog”说法不对的是（ D ）
A Blog的全名应当是“Web Blog”，中文意思是“网络日记”
B 一个Blog 其实就是一个网页，它通常是由简短且经常更新的帖子所构成
C Blog 是一种新兴的网络交流方式，代表着新的生活、工作与学习方式
D 在网上Blog对所有人都是完全开放的

以上内容仅为本文档的试下载部分，为可阅读页数的一半内容。如

要下载或阅读全文，请访问：<https://d.book118.com/508071016>

[135006102](https://d.book118.com/508071016)