

第三章

第四节 “一带一路”倡议与国际合作

地理





内容索引

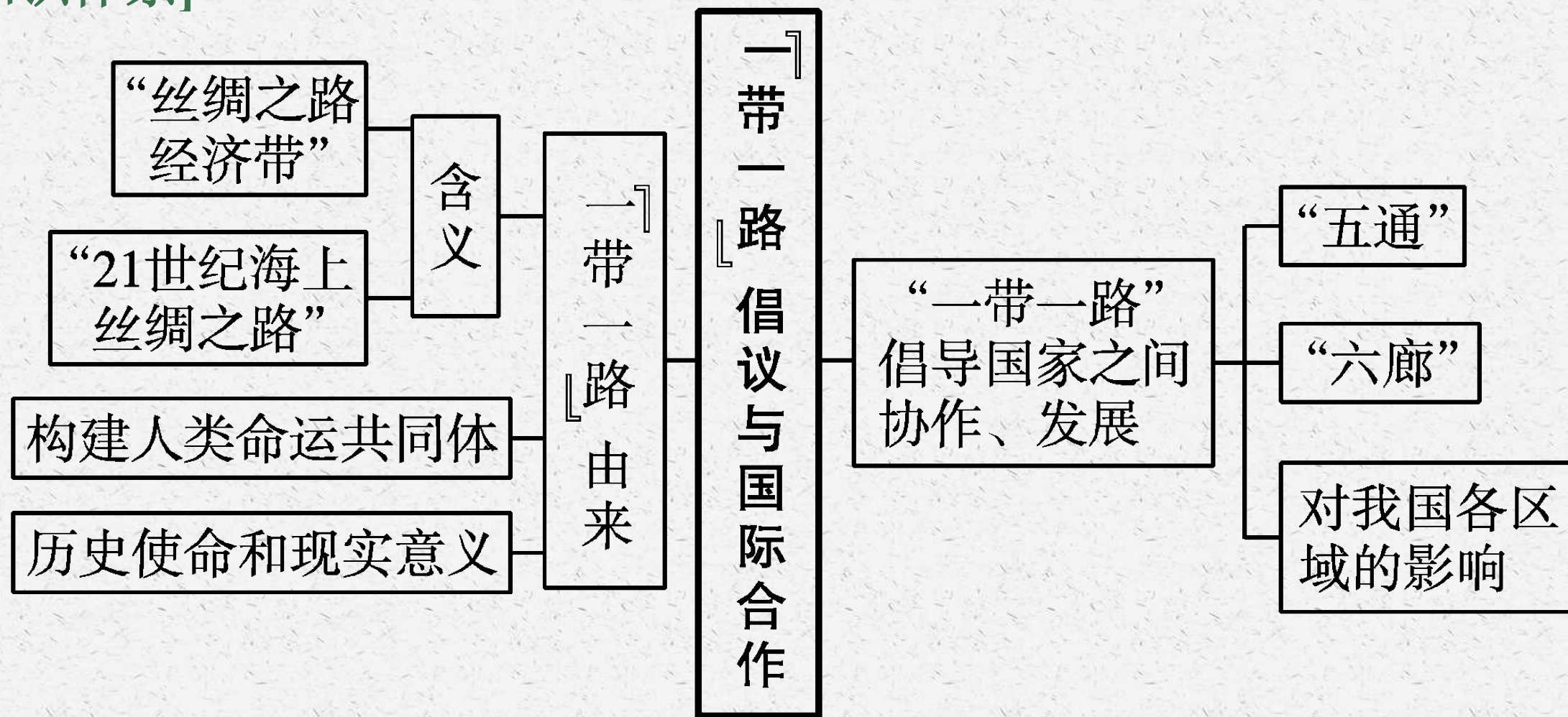
课前篇 自主预习

课堂篇 探究学习

[教材导读]

课程标准	结合“一带一路”建设,说明国际合作的重要意义。
目标 导引	<p>1.结合材料,掌握共建“一带一路”的由来与提出背景。 (区域认知)</p> <p>2.运用资料,掌握“一带一路”的历史使命和现实意义。 (综合思维)</p> <p>3.通过资料,了解“一带一路”倡导国家之间协作发展及构建人类命运共同体。(综合思维)</p>

[知识体系]





课前篇 自主预习

[必备知识]

一、“一带一路”由来

1.“一带一路”是“_____”和“_____”的简称。

(1)“一带”指的是“丝绸之路经济带”，有三个走向：

从我国出发 {
 一是经中亚、俄罗斯到达 _____
 二是经中亚、西亚至波斯湾、 _____
 三是到东南亚、南亚、印度洋

(2)“一路”指的是“21世纪海上丝绸之路”,重点方向是两条:一是从我国沿海港口过南海到印度洋,延伸至____;二是从我国沿海港口过南海到南太平洋。“一带一路”贯穿亚欧非大陆,一头是活跃的东亚经济圈,一头是发达的欧洲经济圈,中间广大腹地国家经济发展潜力巨大。

2. 共建“一带一路”

(1) 提出背景: 2013年9月, 我国首次提出了加强政策沟通、道路联通、贸易畅通、货币流通、民心相通, 共同建设“丝绸之路经济带”的倡议。10月, 我国又明确提出致力于加强同东盟国家的互联互通建设, 愿同东盟国家发展好_____伙伴关系, 共同建设“21世纪海上丝绸之路”。

当今世界, 争端频发, 风险增多, 增长乏力, 动荡持续, “和平赤字、发展赤字、治理赤字”的严峻局面正摆在全人类面前。我国率先提出“一带一路”倡议, 以期构建_____, 实现共赢共享发展。

优势互补, 协调人地关系



(2)“一带一路”所负载的历史使命和现实意义主要表现在:

一是____之路,与相关国家发展战略对接,增进互信,扩大合作。

二是繁荣之路,聚焦发展,大力推动互联互通和产业合作。

三是____之路,提高贸易和投资自由化便利化水平,加强商务合作。

四是创新之路,抓住新一轮科技产业变革机遇,加强创新能力合作。

五是文明之路,建立多层次的人文合作机制,推动教育、科技、文化等领域合作。

判断正误并纠错

(1)“一带一路”包括“丝绸之路经济带”和“21世纪海上丝绸之路”。()

答案 √

(2)“一带一路”横贯欧亚大陆,与非洲无关。()

答案 × “一带一路”横贯亚欧非大陆。

实践链接2013年9月我国首次提出共同建设“丝绸之路经济带”的倡议,10月又提出共同建设“21世纪海上丝绸之路”,其主要目的是什么?

提示 为了应对当今世界争端频发,风险增多,增长乏力,动荡持续,“和平赤字、发展赤字、治理赤字”的严峻局面,我国率先提出“一带一路”倡议,以期构建人类命运共同体,实现共赢共享发展。

二、“一带一路”倡导国家之间协作发展

1.“五通”

(1)政策沟通。加强政策沟通是“一带一路”倡议的重要保障。加强政府间合作,积极构建多层次政府间宏观政策沟通交流机制,深化利益融合,促进_____ ,达成合作新共识。

(2)_____ 联通。基础设施互联互通是“一带一路”倡议的优先领域。在尊重国家主权和安全关切的基础上,相关国家宜加强基础设施建设规划、技术标准体系的对接,共同推进国际骨干通道建设,逐步形成连接亚洲各次区域以及亚欧非之间的基础设施网络。

(3)贸易畅通。投资贸易合作是“一带一路”倡议的重点内容。宜着力研究解决投资贸易便利化问题,消除投资和贸易壁垒,构建区域内和各国良好的营商环境,积极同相关国家和地区共同商建_____区。

(4)资金融通。资金融通是“一带一路”倡议的重要支撑。深化金融合作,推进亚洲货币稳定体系、投融资体系和信用体系建设。

(5)民心相通。民心相通是“一带一路”倡议的社会根基。

2.“六廊”

根据“一带一路”走向,陆上依托国际大通道,以相关_____为支撑,以重点经贸产业园区为合作平台,共同打造新亚欧大陆桥、中蒙俄、中国—中亚—西亚、中国—中南半岛等国际经济合作走廊;海上以重点港口为节点,共同建设通畅安全高效的运输大通道。中巴(巴基斯坦)、孟中印缅两个经济走廊与推进“一带一路”倡议关联紧密,要进一步推动合作,取得更大进展。

3.“一带一路”对我国各区域的影响

(1)西南地区:基于“一带一路”倡议框架,中国—中南半岛和孟中印缅经济走廊的建设,有利于西南地区的对外开放,促进广西和云南加速发展,使广西成为我国面向_____开放的核心区,使云南成为我国面向南亚开放的桥头堡,形成“丝绸之路经济带”与“21世纪海上丝绸之路”衔接的枢纽地域。

(2)西北地区:通过新亚欧大陆桥、中国—中亚—西亚国际大通道和中巴(巴基斯坦)经济走廊,加强与_____、南亚发展的联系。

(3)东北和内蒙古:通过中蒙俄经济走廊,加强与俄罗斯远东地区和蒙古国的全方位合作,为东北和内蒙古的发展创造新的动力。

(4)东部沿海地区:通过加强与“海上丝绸之路”相关国家,特别是_____国家的合作对接,进一步提升对外开放水平和国际竞争力。

要点笔记 “一带一路”倡议的实施为世界经济增长带来新的动力,推动世界实现更为开放、包容、普惠、均衡的发展。

判断正误并纠错

(1)设施联通就是积极构建多层次政府间宏观政策沟通交流机制。()

答案 × 政策沟通要积极构建多层次政府间宏观政策沟通交流机制。

(2)孟中印缅经济走廊与推进共建“一带一路”没有关联。()

答案 × 孟中印缅经济走廊与推进“一带一路”倡议关系密切。

(3)西北地区通过多条国际合作经济走廊加强与中亚、南亚发展的联系。

()

答案 √

实践链接“一带一路”是“丝绸之路经济带”和“21世纪海上丝绸之路”的简称,其贯穿亚欧非大陆,一头连接东亚经济圈,一头连接欧洲经济圈。共建“一带一路”对我国的产业结构调整与布局、城镇化发展等具有重要意义。西方传统工业区的成功转型对我国资源枯竭型城市的发展有哪些借鉴意义?

提示 调整产业结构,大力发展高新技术产业和第三产业;加大技术创新,改造传统产业;改善环境污染,加强环境管理;完善基础设施和公共服务;将旧厂房改造成博物馆和休闲娱乐中心。



课堂篇 探究学习

/// 探究一 “一带一路”产生的影响

[问题探究]

材料一 为切实做好“一带一路”建设中的生态环保工作,2017年5月环境保护部率先发布了《“一带一路”生态环境保护合作规划》,提出到2025年,推进生态文明和绿色发展理念融入“一带一路”建设,夯实生态环保合作基础,形成生态环保合作良好格局。

材料二 2017年12月,连云港市按照习近平总书记提出的“将连云港—霍尔果斯串联起的新亚欧陆海联运通道打造为‘一带一路’合作倡议的标杆和示范项目”要求,抢抓政策机遇,积极作为,深入推进“一带一路”商贸合作工作开展。

结合材料探究:

(1)与“丝绸之路经济带”相比,“21世纪海上丝绸之路”的优势是什么?

(2)“丝绸之路经济带”途经中亚,该地区突出的生态环境问题是_____,其有效的治理措施是什么?

(3)简述共建“一带一路”的实施给连云港经济发展带来的有利影响。

提示 (1)运量大、成本低、航行便利。

(2)荒漠化 退耕还牧、还草;改良灌溉技术,合理利用水资源;改善能源消费结构,开发利用新能源,如风能、太阳能等。

(3)有利于连云港与其他区域之间的交流与协作;有利于加快连云港的产业升级,促进经济发展;增加就业机会;有利于基础设施建设;有利于加强连云港的国际竞争力。

[指点迷津]

1.从地理角度审视“一带一路”

“一带一路”是“丝绸之路经济带”和“21世纪海上丝绸之路”的简称。根植于历史,但面向未来;源自中国,但属于世界,中国奏响的“一带一路”弦歌激昂、音域宽广、和声回荡。

“一带一路”贯穿亚欧非大陆,一头是活跃的东亚经济圈,一头是发达的欧洲经济圈。无论是发展经济、改善民生,还是应对危机,许多沿线国家同我国有着共同利益,因此得到了许多国家的积极响应,“一带一路”的朋友圈越来越大,不仅成为中国的热点,也成为世界的焦点。故我们在学习过程中不仅要关注“一带一路”的前世今生(形成的历史基础、构建原因和现实意义),还要放眼世界,关注“一带一路”沿线国家及重要城市(如西安、重庆等);不仅要从小人文地理角度关注“一带一路”沿线地区的经济、人口、交通、工业、资源、农业等的分布和发展状况,还要从自然地理角度关注“一带一路”沿线地区的气候、植被、洋流等。

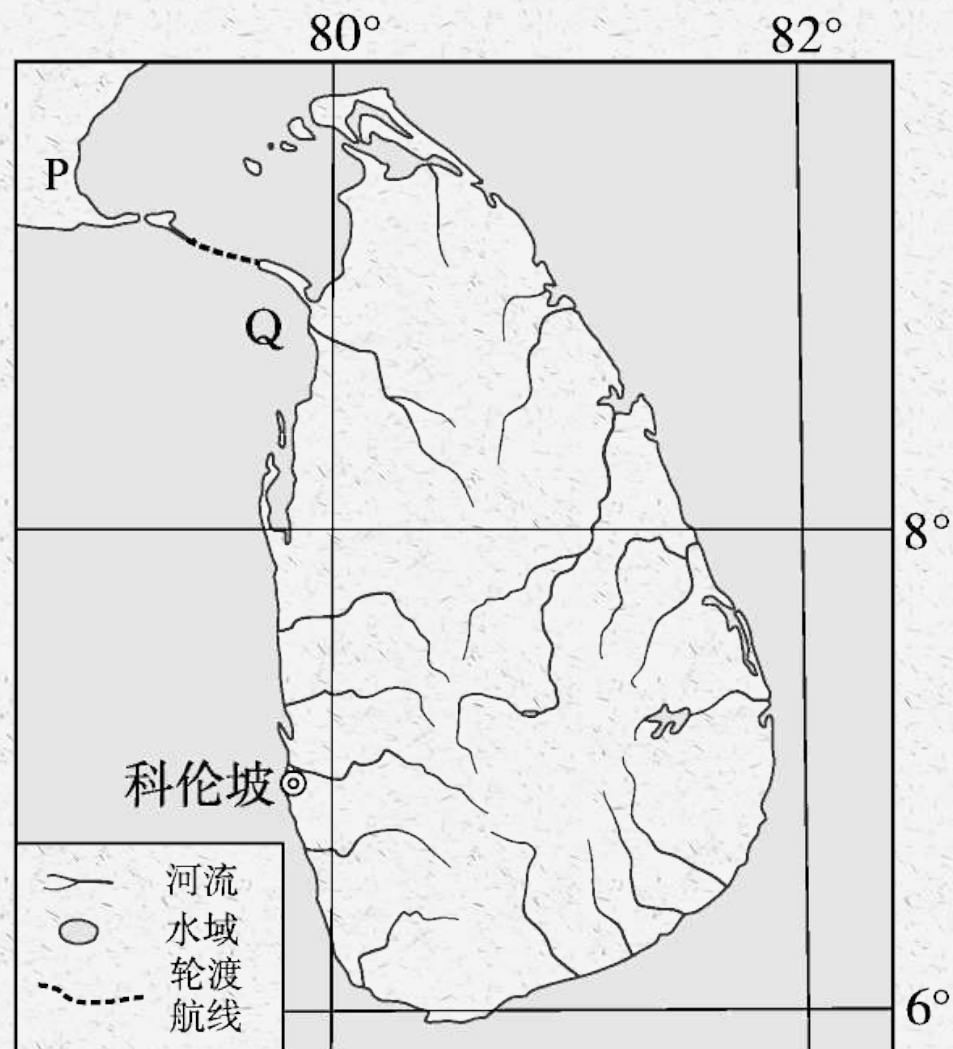
2. 共建“一带一路”产生的影响

要素	影响
资源	和沿线国家形成资源互补,沿着“一带一路”进行资源配置,加强我国的资源、能源安全
交通	通过中国内地交通网沟通东亚、北亚与东南亚,形成亚洲南北向的交通大通道。“一带”主要对接的是西部广阔的腹地,将在交通设施建设和油气管道建设上发力。“一路”可以以上海和泉州等港口为依托,建设国际中转港,带动国际经济、金融、贸易、航运中心的建设
工业	我国和沿线众多国家的产业合作,有利于建立健全共赢机制
农业	深化与沿线国家的农业合作,增加农产品的进出口及农业技术交流
商贸文化	与沿线更多国家和地区发展贸易往来,扩大交流合作

[典题演练]

典例1 阅读图文材料,完成下列各题。

材料一 “一带一路”是“丝绸之路经济带”和“21世纪海上丝绸之路”的简称。斯里兰卡以其得天独厚的地理位置,在“21世纪海上丝绸之路”中发挥重要的作用。中国将持续不断投资斯里兰卡科伦坡港口城建设,使两国百姓受益。下图为斯里兰卡地理位置示意图。



材料二 茶叶原产自中国,19世纪80年代,斯里兰卡引种茶树成功。从此,这个盛产宝石的岛国也开始盛产茶叶,并成为该国最主要的出口农产品。科伦坡作为斯里兰卡首都,早已成为该国宝石和红茶贸易集散地,享誉世界。

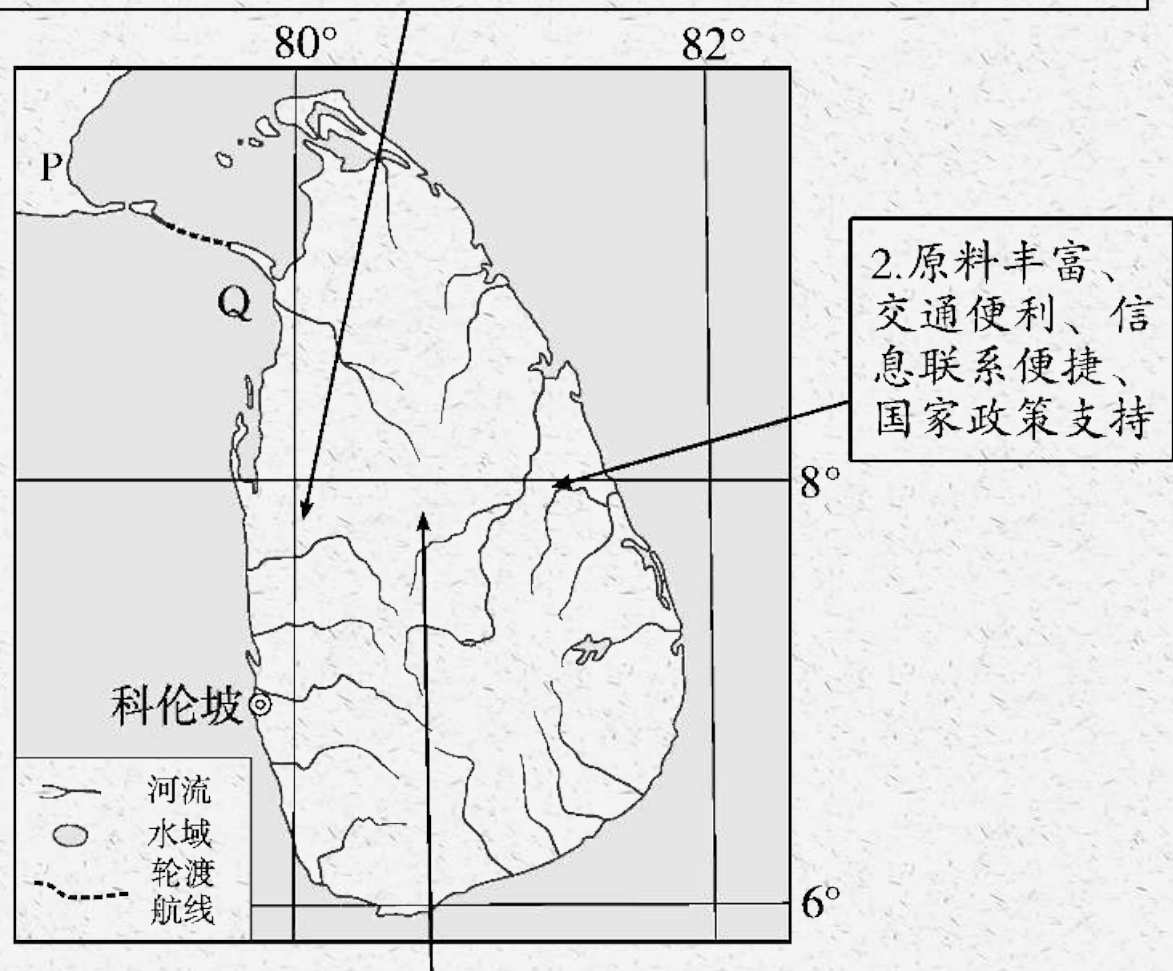
(1)简述斯里兰卡的地理位置。

(2)试分析科伦坡成为著名宝石和红茶贸易集散地的原因。

(3)结合“一带一路”,分析我国投资斯里兰卡科伦坡港口城建设对两国经济发展的意义。

思路点拨

1.从半球位置、纬度位置、海陆位置、交通位置等方面分析



3.促进斯里兰卡经济发展，扩大就业，改善基础设施；对我国的意义可从产业转移、能源进口安全性、对外开放联系等方面分析

解析 第(1)题,地理位置主要包括纬度位置、海陆位置等。斯里兰卡位于北半球、东半球;位于低纬度地区;位于亚洲南部、印度洋北部;其西北与印度半岛隔海相望;扼北印度洋航道要冲,是世界海洋运输的重要枢纽。第(2)题,科伦坡成为著名宝石和红茶贸易集散地的原因主要从原料、交通、政策、信息等方面分析。第(3)题,我国投资斯里兰卡科伦坡港口城建设对两国经济发展的意义,需要分别从对斯里兰卡的意义和对我国的意义两方面回答。

答案 (1)斯里兰卡位于北半球、东半球;位于低纬度地区;位于亚洲南部、印度洋北部;其西北与印度半岛隔海相望;扼北印度洋航道要冲,是世界海洋运输的重要枢纽。

(2)邻近宝石和茶叶产地,原料丰富;地理位置优越,海陆空交通运输便利;是该国首都,信息交流便捷(或配套设施完善,服务质量高);宝石、茶叶交易历史悠久;政策支持;等等。

(3)改善斯里兰卡基础设施建设,扩大就业,推动经济发展。有利于我国产能过剩产业的海外转移;有利于我国能源进口安全;有利于我国与欧洲、西亚等地区的商业贸易往来。

以上内容仅为本文档的试下载部分，为可阅读页数的一半内容。如要下载或阅读全文，请访问：
<https://d.book118.com/578020050120006120>