

2010-2023 历年宁夏银川二中高三一次月考 历史试卷（带解析）

第 1 卷

一. 参考题库(共 25 题)

1.1956 年，在遭受严重水灾的情况下，农业总产值仍达到 582.9 亿元，比上年增长 4.9%。1957 年，粮食产量达到 3901 亿斤，比 5 年前增长 19%；棉花总产量达到 3280 万担，比 5 年前增长 26%。这两年中国农业增产的主要原因是

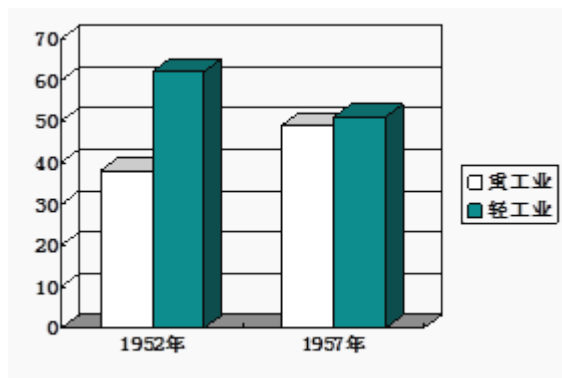
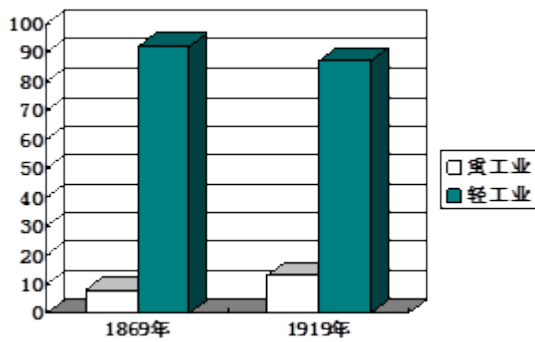
- A. 农业社会主义改造基本完成
- B. 贯彻落实了中共八大的路线
- C. 人民公社化运动掀起了高潮
- D. 实行了家庭联产承包责任制

2.晚清的历史演进过程艰辛而悲壮，曲折而复杂，对此国内学术界进行了不同的解读和阐释，涌现出一大批成果，其中有这样一些著作：《动荡时代的知识分子》《社会剧变中的近代绅商》《晚清学堂学生与社会变迁》《从边缘走向中心——晚清社会变迁中的军人集团》，他们这些著作的研究视角应该是

- A. 社会变迁的角度
- B. 现代化的角度

- C. 社会思潮的角度
- D. 社会群体的角度

3. 阅读下列不同历史时期我国工业比重图，判断下列选项不正确的是



- A. 列强侵略使轻重工业比例严重失调
- B. 一战期间重工业获得一定程度发展
- C. 大炼钢铁使轻工业比重有所下降
- D. 有效政策使轻重工业比例趋于平衡

4. (25分) 材料一 近代中国外交中的重要条约、事件及影响

时间

事件或条约

影响

1842年

《南京条约》

“以前是中国处于命令的地位去决定国际关系”的局面发生了根本性转变

1895 年

《马关条约》

中国面临着被“瓜分”的民族危机，传统的宗藩体制已经崩溃，华夷秩序几乎荡然

无存

1900 年

《辛丑条约》

中国完全陷入半殖民地半封建社会的深渊

1919 年

巴黎和会

“中国与外国的条约关系，见证了一个时代的开始和另一个时代的结束”

1928 年 6 月

“改订新约”运动

减少了一些帝国主义在我国长期享有的特权，否认了领事裁判权的合法性，增加

了国家关税的收入，但又很不彻底

1943 年 1 月

中英、中美签订新约

将上海及厦门公共租界之行动与管理权交与中国政府，凡关于上述租界给予英美

政府之权益应予终止等

1949 年 9 月

《共同纲领》

对国民党政府与外国所订立的各项条约和协定，中华人民共和国中央政府应加以

审查，按其内容，分别予以承认，或废除，或修改，或重订

——根据《中国废除不平等条约的历史考察》中的有关内容编制

材料二

当时，在中国享有带有不平等性质的权益的国家主要是美、英、苏三家。在具体实践中，中国政府采取了不同的对策。美国是当时与新中国最为敌对的国家。中国政府对中美商约等一系列条约采取了不予承认的立场，美国此前在中国所享有的特权至此在大陆全部丧失。这种处理干脆利落。苏联是中国最重要的盟友。对于中苏友好条约，中国政府并没有断然宣布废除，而是积极地与苏联政府展开重新谈判。1950年2月，中苏订立了新的友好同盟互助条约及有关协定。协定规定在不迟于1952年末之前，苏联将中长路的一切权利及一切财产无偿移交中国，苏军从旅顺口撤出，大连行政完全由中国政府管辖，苏方临时代管或租用的财产，应由中国政府接收。至此，可以说中国已经完全挣脱了百年之久的不平等条约的束缚。

——裴坚章《中国外交史——中华人民共和国时期（1949—1979年）》

请回答：

(1) 根据材料一并结合所学知识，概括近代中国百年间签订条约主要内容的变化趋势，并概述近代百年间签订的条约对中国产生的主要影响。（17分）

(2) 根据材料二，概括新中国对待不平等条约及其国际态度的主要特点及其原因。（8分）

5. 《奥巴马执政百日》一文把中美关系概述为：美国是中国之民国立宪的榜样，二战抗日的盟军，朝鲜战争的对手，七十年代制衡苏联的新盟友，改革开放的模仿对象，九十年代制裁中国的牵头人，世贸组织的介绍者，台湾现状的维持国，最大的贸易伙伴。据材料判断下列说法不正确的是

- A. 维新派主张以美国式政体改造中国政治
- B. 朝鲜战争是冷战背景下的局部“热战”
- C. 美国的干涉是中国分裂的重要国际因素

D. 制衡苏联是中美关系正常化的重要因素

6. (15分) 【二十世纪的战争与和平】

柏林墙大事记

1948年6月24日：前苏联军队构筑封锁线把柏林一分为二，使柏林成为冷战时期东西方对抗的最前沿。

1961年8月13日：民主德国决定封锁西柏林四周的边界，随后关闭勃兰登堡门，在分界线上建筑了隔离设施，总长达165公里，通称“柏林墙”。

1989年11月9日下午6时57分：民主德国宣布从即日起开放边境。聚集在柏林墙附近的德国人很快就拆除了这个横在德国人中间的高墙，史称“柏林墙倒塌”。

(1) 根据材料并结合所学知识，概述与“柏林墙”建立相关的国际形势。（7分）

(2) 试归纳“柏林墙倒塌”对欧洲局势产生的影响。（8分）

7.2011年5月22日，第四次中日韩领导人会议发布宣言，决定三国将在今年完成中日韩自贸区联合研究。一旦达成自贸区协议，这将会：

- ①带动东亚至亚太经济一体化总体进程
- ②对经济全球化起推动作用
- ③体现世界经济的区域集团化趋势
- ④成为世界贸易组织的组成部分

- A. ①②③
- B. ②③④
- C. ①③④
- D. ①②③④

8.汤因比曾这样评价一件史事：“顺利地在新瓶里装进了新酒，还不至于引起旧瓶爆炸。”并认为：“这可以说是一种宪法方面的胜利，这种胜利应该当作是一种惊人的技艺。”汤因比所评价的是

- A. 英国君主立宪制的确立
- B. 美国联邦共和国的确立

C. 法国共和制度战胜君主制度

D. 近代德国宪法是议会装饰下的皇帝专制

9. (12分) 美国著名历史学家斯塔夫里阿诺斯对20世纪的欧洲乃至整个人类社会的发展状况进行了深入研究,提出了诸多令人耳目一新的观点。阅读下列材料,回答问题。

在某种意义上说,20世纪历史的进程意味着西方的衰落。伦敦、巴黎和柏林不再左右世界的新闻。它们也不再控制世界上的帝国。受第二次世界大战的影响,传统的欧洲体系的崩溃已成为不可改变的事实……

欧洲除了在进入一个衰落的时期外,还在进入一个成功的时期:它的思想、技术和制度正比以往任何时候更迅速地传遍全球。从根本上说,这意味着欧洲三大革命——工业、科学和政治革命的传播……在战后的年代里,越来越多的民众积极地、自觉地卷入了西方化的进程。

当今时代的希望和危险远远超过世界历史上的任何时代。人类还从未看到过展现在他们面前如此灿烂夺目的前景,但人类同样从未见识过潜伏在这种景象后面的蘑菇云。

运用上述材料,结合所学知识,论证材料中的观点。

(要求:观点明确;史论结合;逻辑严密;表述清楚)

10.有人认为,如同牛顿发现了自然界的“三大定律”一样,西方先哲们也在人类社会同样发现了“三大定律”:第一,人是社会的中心;第二,个人利益是治理社会的基础,建立了承认和尊重个人利益的哲学观念;第三,任何政府唯一的宗旨就是保护人民创造财富和享受幸福的自由。其中,第三大定律是指

A. 三权分立

- B. 社会契约论
- C. 天赋人权
- D. 人民主权

11.有学者这样描写前苏联一位领导人“他摆弄这个国家，就像家庭主妇摆弄卷心菜一样。他以为只要把外面的烂叶子剥掉，就会有里边的好心子，他不停地剥下去，一直到剥光为止。”材料所描写的应是

- A. 斯大林
- B. 赫鲁晓夫
- C. 勃列日涅夫
- D. 戈尔巴乔夫

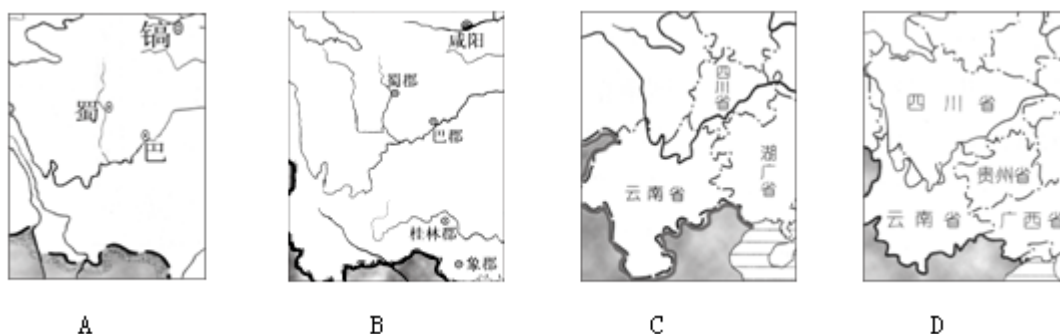
12.1912年4月22日《大总统袁世凯命令》中强调：“现在五族共和，凡蒙、藏、回疆各地方同为我中华民国领土，则蒙、藏、回疆各民族，即同为我中华民国国民，……蒙、藏、回疆与内地各省平等，将来各该地方一切政治，俱属内务行政范围。”这主要表明，北洋政府

- A. 坚持维护共和制度
- B. 坚决维护国家主权
- C. 实行民族平等政策
- D. 以《中华民国临时约法》作为施政纲领

13.《世界文明史》介绍：罗马成文法的组成部分之一“是罗马城市行政官在执法过程中所做的决定……行政官……可以根据每一个别案例的情况做出裁量，而不必僵硬地按照有关法律条文的字面含义进行判决。他的这种决定成为事实上的判例法。”由此可见，罗马法的显著特点是

- A. 具有较为明显的习惯法传统
- B. 内容庞杂且受行政因素影响
- C. 结构松散但有普遍的适用性
- D. 具有高度的灵活性和实用性

14. 公元前 8 世纪——公元前 3 世纪是中国由分裂割据向统一发展的时期，也是中央集权制度形成时期，下列承载这一历史使命的王朝是



15. 某航海家根据马可·波罗对亚洲东西宽度的估计（一个过高的估计），及其关于日本距亚洲大陆有 1,500 哩的报告（一个极为过高的估计），以及托勒密对地球周长的估计（一个过低的估计），推断出分隔欧洲和日本的海洋宽不到 3,000 哩。据此，这位航海家决定

- A. 绕过非洲到达亚洲
- B. 向西航行到达美洲
- C. 穿越地中海向东航行
- D. 横穿大西洋到达亚洲

16. 中国服饰在不同历史时期特征各异，如商的“威严庄重”，周的“秩序井然”，战国的“清新”，汉的“凝重”，六朝的“清瘦”，唐的“丰满华丽”，宋的“理性美”

，元的“粗壮豪放”，明的“敦厚繁丽”，清的“纤巧”。这里周的“秩序井然”、战国的“清新”、唐的“丰满华丽”、宋的“理性美”折射出的历史现象分别是

- A. 宗法制、“百家争鸣”、民主政治、新思潮萌发
- B. 郡县制、“罢黜百家”、政治腐朽、理学盛行
- C. 郡县制、“百家争鸣”、国家富强、“经世致用”思想
- D. 宗法制、“百家争鸣”、国家富强、理学盛行

17.2010年1月第40届世界经济达沃斯论坛将主题确定为“重新思考价值观、重新设计合作体制、重新建设相关国际机构”。三个“重新”从一个侧面反映出当前世界

- A. 经济一体化的形成
- B. 经济区域集团化趋势加强
- C. 经济政治多极化的进一步发展
- D. 动荡局势的加剧

18.梁启超说：“吾敬李鸿章之才，吾惜李鸿章之识，吾悲李鸿章之遇。……其于西方之所以富强之源，茫乎未有闻焉，正所谓：无盐效西子之颦，邯郸学武陵之步。”最能佐证梁启超观点的史实是

- A. 绞杀太平天国，挽救清朝统治
- B. 力主加强海防，创立近代海军
- C. 投身洋务运动，成为中兴名臣
- D. 签订屈辱条约，留下千古罪名

19.中国古代讲究“同姓不婚”。春秋时秦晋两国世为婚姻（故称两姓联姻为“喜结秦晋之好”），而鲁晋两国不可通婚。结合所学“西周分封制”的知识，判断下列说法错误的是

- A. 晋国是姬姓封国
- B. 晋燕两国可以通婚
- C. 晋宋两国可以通婚
- D. 秦燕两国可以通婚

20.罗斯福新政使美国经济逐渐走出低谷，缓解了社会危机。但有一项措施却导致世界经济进一步陷入混乱，一度加深已经非常严重的危机，使国际关系日趋紧张。这项措施是

- A. 恢复银行信用
- B. 实行美元贬值
- C. 限制价格水平
- D. 推行福利制度

21.中国古代某时期制定的选官标准，史称“四科取士”：“一曰德行高妙，志节清白；二曰学通行修，经中博士；三曰明达法令，足以决疑，能按章覆问，文中御史；四曰刚毅多略，遭事不惑，明足以决，才任三辅令，皆有孝悌廉公之行。”该时期是

- A. 西汉时期
- B. 魏晋时期
- C. 隋唐时期
- D. 明清时期

以上内容仅为本文档的试下载部分，为可阅读页数的一半内容。

如要下载或阅读全文，请访问：

<https://d.book118.com/586105242032011004>