
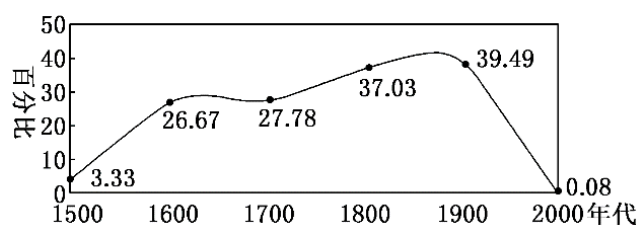


2023 人教版带答案高中历史下高中历史统编版下第八单元 20 世纪下半叶世界的新变化解题技巧总结



单选题

1、下图为全球殖民地占陆地（南极洲除外）面积的比例变化示意图。这反映了



- A. 资本主义世界格局的演变 B. 欧美国家加快了对外殖民扩张
C. 世界殖民体系形成与瓦解 D. 亚非拉民族民主运动不断高涨

答案：C

解析：

从材料可得出，世界殖民地的面积急剧下降，反映出二战后世界殖民体系的瓦解，C项正确，排除B项；从殖民地的变化并不能充分反映出格局的变化，排除A项；材料反映的是整个变化过程，亚非拉民族民主运动不断高涨是从19世纪末才开始的，排除D项。故选C项。

2、下图截取自《现代文明的发展与选择：20世纪的世界史》的目录，其中第二节的标题应为

第九章	世界格局向多极化的演变	
第一节	两大阵营的分化.....	263
第二节	□□□□□□□□.....	268
第三节	美苏争霸.....	271
第四节	两极格局的终结.....	282
第五节	后冷战时代“全球问题”的挑战.....	290

- A. 东西方冷战的开始
- B. 战后苏联的历史进程
- C. 冷战在欧洲的加剧
- D. “第三世界”的兴起

答案：D

解析：

根据所学大标题可知，本章内容是多极化趋势，而两大阵营的分化意味着多极化趋势的出现，即“第三世界的兴起”，D项正确；冷战开始是在两大阵营分化之前，排除A项；苏联解体在美苏争霸之后，排除B项；冷战在欧洲的加剧与是在两大阵营分化之前，排除C项。故选D项。

3、1919年，英国科学家爱丁顿对日全食的观测结果证实了爱因斯坦的理论，这引起了巨大轰动，世界范围的“爱因斯坦热”接踵而至。这反映出当时人们

- A. 对和平的向往与憧憬 B. 热衷于探索大自然
- C. 对科学的信奉和崇拜 D. 要求重建世界秩序

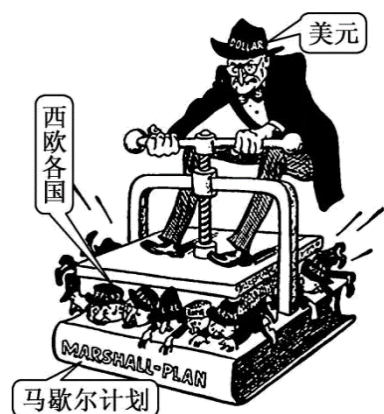
答案：C

解析：

根据材料可知，1919年兴起“爱因斯坦热”，这反映了当时人们对科学的信奉和崇拜，C

项正确；当时一战已经结束，排除 A 项；材料反映了人们对爱因斯坦理论的推崇，并不是要探索大自然，排除 B 项；“要求重建世界秩序”属于政治诉求，与材料主旨不符，排除 D 项。故选 C 项。

4、下面是 20 世纪 40 年代一幅有关国际关系的漫画。漫画中：代表美元的美国人正在挤压趴伏在马歇尔计划上的西欧各国。下列对此漫画解读正确的是



- A. 美国借助马歇尔计划确立了美元的霸主地位
- B. 马歇尔计划导致了西欧各国经济走向了衰退
- C. 美国借马歇尔计划加紧向西欧进行资本渗透
- D. 马歇尔计划意图是帮助西欧国家恢复经济

答案：C

解析：

根据“代表美元的美国人正在挤压趴伏在马歇尔计划上的西欧各国”，根据所学可知，二战后，欧洲经济濒于崩溃，物资极度匮乏，马歇尔计划以“复兴欧洲”为名，加紧向西欧进行资本渗透，借经济手段来稳住资本主义的阵脚，控制西欧，达到共同“遏制”苏联的目的，以此建立自己的世界霸权，C 项正确；通过布雷顿森林体系确立了美元的霸主地位，排除 A 项；马歇尔计划促进了西欧各国经济的恢复，排除 B 项；D 项无法体现“挤压趴伏在马歇尔计划上的西欧各国”，排除。故选 C 项。

5、据如表可知

主要发展中国家在 IMF、世界银行投票权占比（单位：%）

	IMF 份额占比（改革完成后）	IMF 投票权占比（改革完成后）	世界银行份额占比（改革完成后）	2010 年 GDP 占比（购买力平价）
中国	6.39	6.07	4.42	13.56
俄罗斯	2.73	2.59	2.77	3.00
印度	2.75	2.63	2.91	5.43
巴西	2.32	2.22	2.24	2.93
南非	0.64	0.634	0.76	0.71
合计	14.83	14.14	13.1	25.62

（备注：表中“改革”指 2008 年国际金融危机后，国际货币基金组织进行的改革）A. 美国主导国际货币金融体系

B. 资本主义国家的政治经济发展不平衡

C. 中国经济发展速度领先全球

D. 发展中国家话语权与经济实力不相称

答案：D

解析：

由材料数据 2010 年 GDP 占比中国达到 13.56%，而在 IMF 投票权占比仅有 6.07%，在世界银行投票权占比仅有 4.42%，说明中国虽然有强大的经济实力，但是在国际金融机构中没有话语权，而整个发展中国家也是 GDP 占比远远高于 IMF 投票权和世界银行份额的占比，说明发展中国家话语权与经济实力不相称，D 项正确；材料中并未涉及美国的数据，无法得出美国的主导，排除 A 项；材料中都是发展中国家而非发达国家，排除 B 项；不能由 2010 年一年的 GDP 占比信息得出中国经济领先全球的结论，排除 C 项。故选 D 项。

6、1960 年联合国通过决议，“必须制止一切针对附属国人民的武装行动和镇压措施，使他们能够和平地、自由地行使他们实现完全独立的权利”；“任何旨在部分地或全面地分裂一个国家的团结和破坏其领土完整的企图，均与《联合国宪章》的目的和原则相违背”。没有国家对该决议投反对票，澳大利亚、比利时、法国、英国、葡萄牙、南非、西班牙、美国投票弃权。该决议

A. 说明民族自决成为了国际共识 B. 确立国家间享有平等权利的信念

C. 标志联合国性质发生根本转变 D. 符合不结盟运动独立自主的原则

答案：A

解析：

根据“任何旨在部分地或全面地分裂一个国家的团结和破坏其领土完整的企图，均与《联合国宪章》的目的和原则相违背”“没有国家对该决议投反对票，澳大利亚、比利时、法国、英国、葡萄牙、南非、西班牙、美国投票弃权”可得出随着殖民地半殖民地人民的斗争，民族意识不断高涨，民族自决成为了国际共识，A项正确；材料并没有涉及到国家间的权利平等，排除B项；该决议并不是标志，排除C项；材料与不结盟无关，排除D项。故选A项。

7、1971年秋，美国环保署空气污染治理小组访问苏联，与苏联专家展开研讨。1972年5月，尼克松访苏期间，两国共同签署了《美苏环保合作协议》，空气污染治理成为双方共同关注的问题。这说明美国

- A. 尝试主导建立全球治理体系
- B. 在美苏争霸中处于攻势地位
- C. 试图弥合美苏意识形态分歧
- D. 寻求缓和美苏冷战对峙局面

答案：D

解析：

根据材料可知，美苏在空气污染治理方面加强合作，这说明美苏两国寻求缓和美苏冷战对峙局面，D项正确；材料得不出是美国尝试主导建立全球治理体系，排除A项；材料强调美国和苏联在在空气污染治理方面加强合作，没有体现美素争霸，且美国这时期在美苏争霸中处于守势，排除B项；美苏之间的意识形态分歧不能弥合，排除C项。故选D项。

8、冷战期间,苏联对一些第三世界国家进行了大规模援助,例如帮助埃及修建了阿斯旺水坝,并支持埃及对苏伊士运河的主权要求;为安哥拉修建卡潘达水坝提供支持。对此埃及宣布要建成“民主的社会主义”,而亲苏的安哥拉人民解放运动组织也成功得以执政。由此可知,苏联的援助()

- A. 缓和了两极格局的对峙
- B. 有利于国际政治的多极化
- C. 仅限于经济领域的支持
- D. 影响了受援国的发展方向

答案：D

解析：

根据题干信息可知,社会主义国家苏联帮助埃及建立起新政权,并扶植安哥拉亲苏组织执政,从而影响了相关国家发展方向,D项正确;苏联援助这些国家是为了扩大势力范围,加剧了两极格局对峙,排除A项;材料并没有涉及国际政治多极化方向的信息,排除B项;苏联的援助涉及政治、经济和军事,排除C项。故选D项。

9、冷战初期,美国对民主德国采取“不承认”政策,并以美占区广播电台作为主要工具对其发动广泛的心理战,大搞舆论宣传,传播美国所谓的民主和自由价值观,企图使民主德国“自由化”。美国政府这一做法

- A. 促进了德国民主化改造
- B. 意图争取中间地带国家
- C. 试图分化社会主义阵营
- D. 缓和了紧张的国际局势

答案：C

解析：

根据材料以及所学知识可知 1949 年,隶属于苏联社会主义阵营的民主德国成立,而为了与苏联进行冷战对抗,美国试图通过舆论宣传等方式瓦解民主德国,分化社会主义阵营,C项正确;材料并未反映美国对德国进行了民主化改造,排除A项;民主德国属于社会主义国家,不是中间地带,排除B项;美国的做法使得国际局势更加紧张而不是缓和,排除D项。故选C项。

10、柏林墙于 1961 年 8 月 13 日开始建造,将整个西柏林围起来。1989 年 11 月 9 日,柏林墙倒塌,两德重归统一。柏林墙

- A. 是美苏争霸的产物
- B. 因冷战结束而告终
- C. 是德国分裂的根源
- D. 见证了二战的残酷

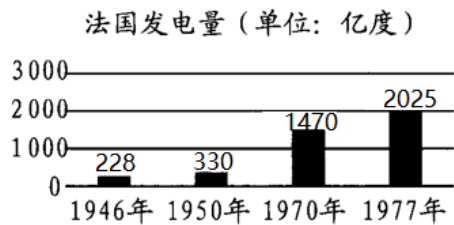
答案：A

解析：

本题主要考查美苏争霸的影响。根据所学知识可知,柏林墙的修筑是美苏冷战的产物,造成德国分裂为民主德国和联邦德国,阻碍了双方民众的往来,A项正确;1991

年苏联解体，冷战结束，此时柏林墙已倒塌，实现了德国统一，排除 B 项；战后大国对德国的分区占领导致英、法、美同苏联矛盾的激化，柏林墙只是分裂的表现，排除 C 项；二战于 1945 年结束，柏林墙始建于 1961 年 8 月 13 日，排除 D 项。故选 A 项。

11、读下图，对图中数据变动的原因解读正确的是



- ①马歇尔计划的实施 ②私有化浪潮的推动
 ③计划指导型经济模式的保障 ④欧元进入流通领域

A. ①③ B. ②③ C. ①②③ D. ①②④

答案：A

解析：

依据材料可知，1946 到 1977 年，法国的发电量持续增长。结合所学可知，1947 年美国实施马歇尔计划，推动了欧洲经济的复兴，①正确；法国在二战后实行计划指导型经济模式，推动了其经济发展，③正确，A 项正确；法国开始私有化浪潮是在 20 世纪 80 年代中期以后，②错误；欧元进入流通领域是在 2002 年，④错误，排除 BCD 三项。故选 A 项。

12、1958 年赫鲁晓夫提出，力争 1961 年前在肉类、牛奶、黄油的人均产量赶上和超过美国，并要求各地党委书记向保证一年肉类增产两倍的梁赞州委书记拉里昂诺夫学习。赫鲁晓夫此举力图

- A. 扩大地方发展经济自主权 B. 探索经济发展新模式
 C. 顺应加速发展战略的需要 D. 摆脱传统体制的束缚

答案：D

解析：

结合所学可知，在苏联高度集中的计划经济体制下，长期执行计划指令，压制了地方和企业的积极性，阻碍了苏联经济的持续发展。依据材料信息“要求各地党委书记向保证一年肉类增产两倍的梁赞州委书记拉里昂诺夫学习”并结合所学可知，当时处于赫鲁晓夫改革时期，当时斯大林模式弊端暴露，因此其改革的主要目的是摆脱传统体制的束缚，D项正确；赫鲁晓夫此举力图摆脱传统体制的束缚，而非扩大地方发展经济自主权，排除A项；赫鲁晓夫改革是为了突破斯大林模式，但没有从根本上动摇斯大林模式，不是探索新经济模式，排除B项；戈尔巴乔夫提出“加速发展战略”，排除C项。故选D项。

13、20世纪80年代，撒切尔夫人针对当时高涨的欧洲联邦主义呼声，强烈反对“布鲁塞尔集权倾向”，提出“我的第一条指导方针就是：独立的主权国家之间的志愿和积极的合作，是建设一个成功的欧共体的最佳途径。”这表明

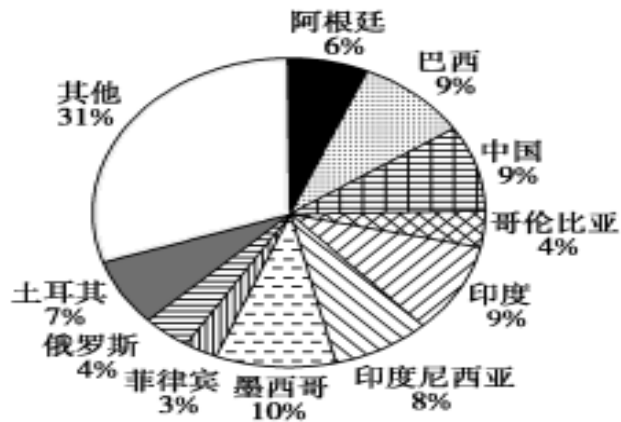
- A. 多极化趋势进一步加强
- B. 欧盟内部出现较大分歧
- C. 超国家一体化遭遇挑战
- D. 冷战加速了欧洲的联合

答案：C

解析：

根据材料“独立的主权国家之间的志愿和积极的合作，是建设一个成功的欧共体的最佳途径”并结合所学知识可知，材料反映了英国强调独立的主权国家的重要性，在独立的主权国家之下建设欧共体，这反映了超国家一体化遭遇挑战，C项正确；结合所学知识可知，多极化趋势进一步加强出现在20世纪90年代，排除A项；结合所学知识可知，欧盟在1993年成立，排除B项；结合所学知识可知，冷战加速了欧洲的联合出现在20世纪50年代，排除D项。故选C项。

14、下图反映的是某国际组织从1981年到2009年向各成员国提供贷款消减贫困的情况(注：表中“其他”指的是贷款额低于112.95亿美元的国家的贷款总额百分比)。由此可判断该组织应是



A. 国际货币基金组织 B. 世界银行 C. 世贸组织 D. 亚洲基础设施投资银行

答案：B

解析：

根据材料“向各成员国提供贷款消减贫困”及所学知识可知，该组织应是世界银行。世界银行向成员国提供贷款，以促进该国经济恢复和发展，B项正确；国际货币基金组织的职责是监察货币汇率和各国贸易情况，提供技术和资金协助，确保全球金融制度运作正常，不符合材料，排除A项；世界贸易组织的职能是调解纷争，不符合材料，排除C项；2015年12月25日，亚洲基础设施投资银行正式成立，不符合材料，排除D项。故选B项。

15、苏联时期有这样一个关于勃列日涅夫政治笑话，有家晨报在一天早晨报道说“共产党中央委员会、政治局和部长会议沉痛地宣告：列昂尼德·伊里奇·勃列日涅夫同志在长期患重病后没有苏醒过来，但是目前仍在工作。”，这一政治笑话

- A. 讽刺了苏联职务终身制 B. 预示了苏联即将解体
C. 推动了勃列日涅夫改革 D. 批判了苏联特权制度

答案：A

解析：

这是一则政治笑话，既是针对勃列日涅夫本人的，也讽刺了当时的官员职务终身制，A正确；材料无法直接预示苏联“即将”解体，排除B项；勃列日涅夫并未对政治笑话进行深刻反思，也无法推动其改革，排除C项；从“没有苏醒过来，但是目前仍在工作”

这一信息可以看出，这则笑话不是针对特权制度，而是针对职务终身制度进行批判，排除 D 项。故选 A 项。

填空题

16、多极力量的成长

(1) 表现

西方阵营逐渐分化	① 西欧：欧洲共同体的成立和发展 ② 日本：经济“起飞”及其要成为“____”的追求
社会主义阵营开始瓦解	① 原因：苏联的大国主义和____ ② 表现：东欧国家反对苏联控制的斗争，中苏关系的破裂
中国崛起	① 标志事件：拥有“____”、恢复在联合国的合法席位、美国总统尼克松正式访华等 ② 意义：中国成为国际社会中不可忽视的政治力量
第三世界的兴起	1955 年万隆会议及 1961 年兴起的____，是发展中国家以独立的政治力量登上国际政治舞台的重要标志

(2) 影响：对____造成了有力冲击。

答案： 政治大国 民族利己主义 两弹一星 不结盟运动 美苏两极格局

(1) 二战随着日本经济的崛起，日本迫切地希望成为“政治大国”，在国际舞台希望发挥更大的作用；由于苏联奉行大国沙文主义、霸权主义和民族利己主义，导致东欧国家反对苏联的控制和中苏关系的严重恶化；20 世纪 70 年代，中国拥有了“两弹一星”，提高了国际影响力；20 世纪五六十年代，第三世界崛起，其中 1955 年万隆会议及 1961 年兴起的不结盟运动，是发展中国家以独立的政治力量登上国际政治舞台的重要标志。故

①②③④分别填为：政治大国、民族利己主义、两弹一星、不结盟运动。

(2) 西方阵营的分化、第三世界的崛起、西欧和日本的崛起等无不冲击着美苏两极格局，推动世界格局向多极化方向发展。故⑤应填为：美苏两极格局。

17、国家的宏观调控：背景

(1) 1929 年爆发的____，充分暴露了自由放任的资本主义的弊病。

(2) ____的生死存亡教训，以及____

以上内容仅为本文档的试下载部分，为可阅读页数的一半内容。如要下载或阅读全文，请访问：<https://d.book118.com/606131004134010232>