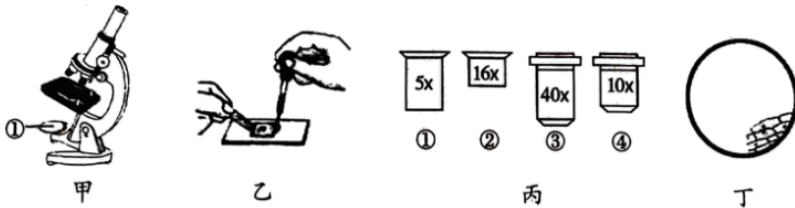


2023 年湖南省衡阳中考生物真题

一、单项选择题

- 地衣是真菌与藻类共生在一起形成的。藻类为真菌提供有机物，真菌为藻类提供水和无机盐。这体现的生物基本特征是（ ）
 - 生物的生活需要营养
 - 生物能进行呼吸
 - 生物能生长和繁殖
 - 生物都有遗传和变异的特性
- 同一品种的结球甘蓝在北京栽培时，叶球重 1~3 千克；引种到西藏后，叶球的重量可达 6.5 千克。这一实例说明生物与环境的关系是（ ）
 - 生物适应环境
 - 环境影响生物
 - 生物影响环境
 - 环境适应生物
- 迄今为止，地球仍是人类和其他生物唯一的家园，我们应该倍加珍惜和爱护。地球上最大的生态系统是（ ）
 - 生物圈
 - 森林生态系统
 - 草原生态系统
 - 海洋生态系统
- 罗华同学制作了洋葱鳞片叶内表皮细胞临时装片，并用显微镜进行了观察。下列有关实验操作叙述不正确的是（ ）



- 图甲中的①是反光镜，当环境光线较弱时，应选用凹面镜对光
 - 图乙是给洋葱鳞片叶内表皮细胞染色，所用的液体是碘液
 - 要想观察到的细胞数量最多，应选择的镜头组合是图丙中的②③
 - 若要把图丁中观察到的物像移到视野中央，玻片应向右下方移动
- 下图表示番茄的几个不同结构层次，下列有关说法不正确的是（ ）



- 切番茄时，流出大量汁液，这些汁液主要来自图甲中的①
- 图丙中的②是由种子中的胚根发育而来
- 番茄植株的结构层次依次为甲→丁→乙→丙
- 人的心脏和图丁属于同一个结构层次

6. 进化论的建立者达尔文在仔细比较了人和现代类人猿的相似之处后，提出了人类和现代类人猿的共同祖先是（ ）

- A. 森林古猿 B. 猕猴 C. 大猩猩 D. 长臂猿

7. “离离原上草，一岁一枯荣。野火烧不尽，春风吹又生。”这是对植物生命周期的真实写照。被子植物的一生要经历种子的萌发、植株的生长、发育、繁殖、衰老和死亡的过程。下列有关被子植物一生的叙述，错误的是（ ）

- A. 一定的水分、适宜的温度和充足的空气是种子萌发所需要的环境条件
B. 植物生长过程中需要量最多的是含氮的、含磷的、含钾的无机盐
C. 植物吸收水分和无机盐的主要部位是根尖的伸长区和分生区
D. 黄瓜的花多半都不会结果，因为黄瓜花是单性花，雄花不结果

8. 生物个体的寿命都是有限的，死亡意味着生命的结束。受精卵的形成，标志着新生命的开始。请问人类精子和卵细胞结合的场所是（ ）

- A. 卵巢 B. 子宫 C. 阴道 D. 输卵管

9. 某同学生了一场大病，几天吃不下食物，身体明显消瘦。这主要是因为贮存在体内的备用能源物质被大量消耗。请问人体内的备用能源物质是（ ）

- A. 糖类 B. 脂肪 C. 蛋白质 D. 维生素

10. 下表列出了四种食物可食用部分（各 100 克）营养物质的含量，下列说法错误的是（ ）

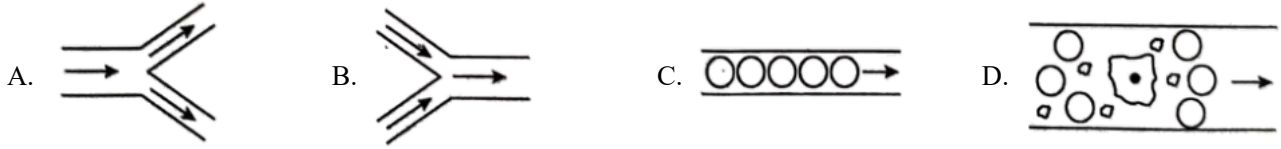
食物	糖类（克）	维生素 A（微克）	维生素 C（毫克）	钙（毫克）	铁（毫克）
甲	5.0	4972	20	6	22.6
乙	18	3	220	10	0.7
丙	51.7	141	4	676	1.2
丁	76.8	0	0	11	1.1

- A. 食物丁中维生素 A 和维生素 C 含量为 0，应少食用或不食用
B. 多吃食物甲有利于预防夜盲症和贫血症
C. 食物乙适合坏血病患者食用
D. 佝偻病和骨质疏松症患者应多食用食物丙

11. 写流程图是生物学习过程中常用的方法，有利于我们对所学的知识进行整理和归纳。下列有关流程图叙述不正确的是（ ）

- A. 食物经过消化道的顺序：口腔→咽→食道→胃→小肠→大肠→肛门
- B. 人体肺循环的途径：右心室→肺动脉→肺部毛细血管→肺静脉→左心房
- C. 完成反射活动的过程：感受器→传入神经→神经中枢→传出神经→效应器
- D. 听觉形成的过程：外界声波→外耳道→耳蜗→听小骨→鼓膜→听觉中枢

12. 下图是人体血管的图示，箭头为血流方向。请据图判断，表示毛细血管的是（ ）



13. 哺乳动物具有强大的运动能力，有利于其寻觅食物、躲避敌害、争夺栖息地和繁殖后代，以适应环境。下列有关动物的运动说法错误的是（ ）

- A. 只要运动系统完好，动物就能正常运动
- B. 哺乳动物的运动系统主要是由骨、关节和肌肉组成
- C. 运动之前做一做热身活动，可以预防关节脱臼和肌肉拉伤
- D. 学生在升旗仪式上向国旗敬礼时，肱二头肌收缩，肱三头肌舒张

14. 幽门螺旋杆菌是一种能够引起胃病的细菌，甚至可诱发胃癌。其与真菌相比，在细胞结构上的主要区别是（ ）

- A. 没有细胞壁
- B. 没有成形的细胞核
- C. 没有细胞膜
- D. 没有细胞结构

15. 西渡湖之酒是衡阳县西渡镇特产，中国国家地理标志产品。湖之酒采用当地传统“贡米”“麻矮糯”为原料，经过复杂的工艺精制而成。与湖之酒酿造有关的主要微生物是（ ）

- A. 乳酸菌
- B. 酵母菌
- C. 醋酸菌
- D. 青霉菌

16. 生物学家将生物进行科学分类，是为了弄清不同类群之间的亲缘关系和进化关系。下列有关生物分类叙述错误的是（ ）

- A. 种是最基本的分类单位
- B. 生物分类的主要依据是生物的形态结构和生理功能等方面的特征
- C. 分类的单位由大到小依次是：界、纲、门、目、科、种、属
- D. 分类单位越小，其中所包括的生物共同特征越多

17. 早在三千年以前，我国人民就开始种桑养蚕、生产蚕丝，并用蚕丝织成美丽的绸缎。下图是家蚕发育的四个时期，按其发育过程排序正确的是（ ）



A. ①②③④

B. ②④③①

C. ③②①④

D. ②③④①

18. 生物性状的变异是普遍存在的，引起变异的原因也是多种多样的。下列属于可遗传变异的是（ ）

- A. 种在肥沃土壤里的水稻颗粒饱满
- B. 经常练习举重的人，胸肌变得发达
- C. 一对肤色正常夫妇生育白化病女儿
- D. 单眼皮做过整形手术后成为双眼皮

19. 生物通过遗传、变异和自然选择，不断进化。下列有关生物进化的叙述，正确的是（ ）

- A. 生物进化的总体趋势，从生活环境上看，是由陆生到水生
- B. “超级细菌”的出现是自然选择的结果
- C. 越古老地层中的化石，其生物越复杂、越高等
- D. 为了适应环境，生物会主动产生有利变异

20. 健康是人们永远追求的美好愿望，是人生永恒的话题。下列有关健康的说法不正确的是（ ）

- A. 要与他人和睦相处，保持良好的人际关系
- B. 健康不仅仅是指没有疾病或不虚弱
- C. 心情愉快是儿童青少年心理健康的核心
- D. 经常玩手机游戏、熬夜上网有利于身心健康

二、双项选择题

21. 花生，又称“落花生”，是一种食用广泛的坚果，营养价值非常高。右图为一颗花生。下列有关说法错误的是（ ）



- A. ①是由子房壁发育而来
- B. ②是由种皮、胚和胚乳组成
- C. 花生属于裸子植物
- D. 发育成该花生的子房内有两个胚珠

22. 下列反射活动属于人类特有的是（ ）

- A. 谈虎色变
- B. 杯弓蛇影
- C. 吃梅止渴
- D. 望文生义

23. 大多数扁形动物与线形动物营寄生生活，下列与其寄生生活相适应的特点是（ ）

- A. 生殖器官发达
- B. 消化器官简单
- C. 运动器官发达
- D. 生殖器官简单

24. 具有社会行为的动物，群体内部往往有一定的组织，成员之间有明确的分工。下列动物具有社会行为的是（ ）

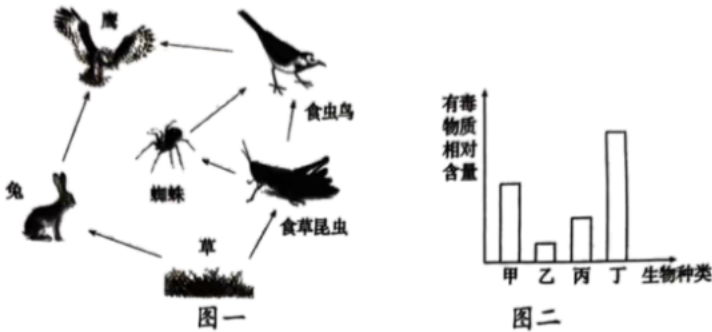
- A. 蚂蚁 B. 蝗虫 C. 狒狒 D. 苍蝇

25. 现代科技的进步离不开科学家们的勤劳和智慧。下列科学家与其称号对应正确的是（ ）

- A. 遗传学之父——巴斯德 B. 微生物学之父——孟德尔
C. 杂交水稻之父——袁隆平 D. 试管婴儿之父——罗伯特·爱德华兹

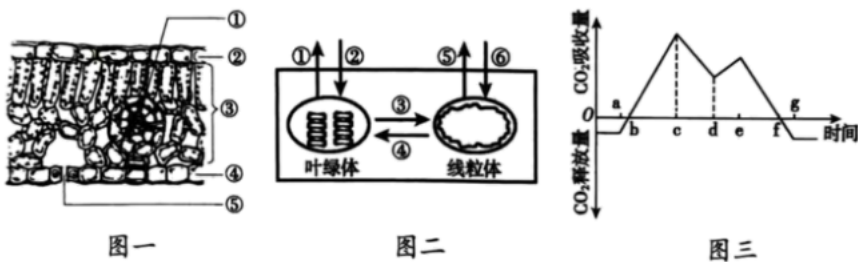
三、非选择题

26. 南岳衡山，终年翠绿，四时郁香，以风景秀丽著称。在这一片国家级自然保护区中生活了各种各样的生物，还有土壤、水、阳光、空气等非生物，它们共同组成了一个生态系统。下图一是由该生态系统中部分生物构成的食物网。请据图分析回答下列问题：



- (1) 图一中有_____条食物链。在该食物网中，最短的一条食物链是_____。
- (2) 若要构成一个完整的生态系统，图一中还缺少的生物成分是_____。其中食虫鸟和蜘蛛的关系是_____。
- (3) 若图二表示图一中某条食物链各生物体内有毒物质的相对含量，则图二中的乙对应图一中的生物是_____。
- (4) 该生态系统中能量的最终来源是_____。

27. 绿色植物对生物圈的存在和发展起着决定性作用，为了更好地了解绿色植物的生理作用，某生物兴趣小组进行了初步探究。图一是叶片的结构示意图；图二是叶肉细胞中叶绿体和线粒体吸收或释放气体过程示意图；图三是一种陆生植物在夏季某一晴天的二氧化碳吸收量和释放量的变化示意图。请据图分析问题：（注：CO₂表示二氧化碳）

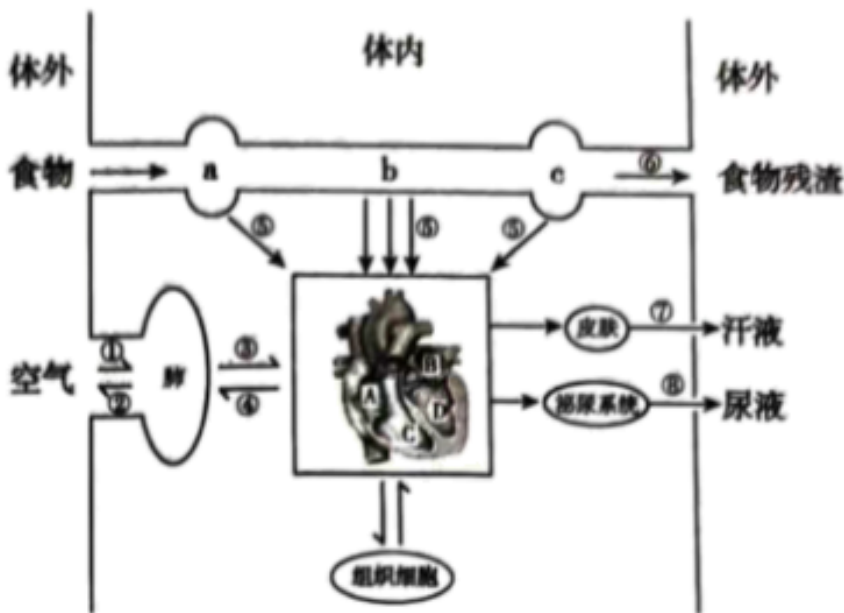


- (1) 图一中，结构[③]的名称是_____，含有大量叶绿体，是进行光合作用的主要部位。
- (2) 在黑暗的条件下，图二中叶绿体和线粒体吸收或释放气体的过程能够进行的有_____（填数字）。
- (3) 图三中，在 b 点时光合作用强度_____（填“大于”“小于”或“等于”）呼吸作用强度。
- (4) 图三中，cd 段下降的原因是植物为了降低蒸腾作用，避免失水过多，关闭了部分图一中的 [⑤]_____。该植物一天中积累有机物最多的是_____（填字母）点。
- (5) 根据光合作用的表达式，请写出影响光合作用强度的因素_____（至少写两点）。

28. 根据所学生物学知识，回答下列问题：

- (1) 在农业生产中，向日葵的子粒常有空瘪的，玉米的果穗常有缺粒的，主要是由于_____引起的。
- (2) 人从外界接受各种信息，通过视觉获取信息的数量是最多的。为了保护视力，预防近视，应该做到_____。
- (3) 俗话说“树怕剥皮，不怕空心”。“怕剥皮”的原因是：切断了_____（填“导管”或“筛管”），会影响有机物向下运输，易造成树死亡。
- (4) 近些年来，随着饮食和生活方式的改变，我国糖尿病患者的数量呈上升趋势。糖尿病主要是由于体内_____（填激素名称）分泌不足引起的。
- (5) 利用泡菜坛制作泡菜时，既要给泡菜坛加盖，还要用一圈水来封口的目的是_____。
- (6) 我国婚姻法规定：直系血亲和三代以内的旁系血亲之间禁止结婚，请说出其中的科学道理_____。

29. 下图是人体消化、呼吸、循环、泌尿和排泄等一系列生理活动示意图，其中数字①~⑧表示生理过程，A、B、C、D 表示心脏的四个腔，请利用所学知识和图示，回答下列问题：



- (1) 淀粉被消化的最终产物是_____。图中 a、b、c 表示人体消化道内具有吸收功能的几个部位，其中 [b]_____是吸收的主要场所。

- (2) 人在进行①过程时，膈肌处于_____状态，吸入的氧气最先到达心脏的_____（填字母）。
- (3) 血液经过③④过程后，变成了含氧丰富的_____血。
- (4) 在心脏内血液只能由心房流向心室，不能倒流，是因为心房和心室之间存在着防止血液倒流的_____。
- (5) 能将人体组织细胞产生的尿素排出体外的途径有_____（填数字）。

30. 我国是生物种类最丰富的国家之一。下图是我们所学过的几种动物，请据图回答下列问题：



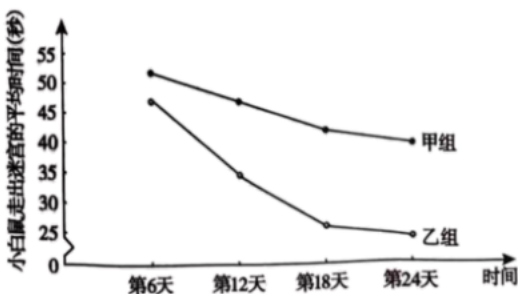
- (1) A 是缢蛏，其柔软的身体表面有外套膜，具有贝壳，运动器官是足，属于_____动物。
- (2) B 在成长过程中需要定期蜕皮，是因为_____会限制其发育和长大。
- (3) C 是很多农田害虫的天敌，号称“农田卫士”。其幼体生活在水中，用_____呼吸。
- (4) E 的很多特征都与飞行生活相适应，如身体呈_____型，可以减少飞行中空气的阻力。
- (5) F 生殖发育的特点是_____，大大提高了后代的成活率。
- (6) 根据体内是否有脊柱可以把以上六种动物分成两类，其中与 D 属于同一类的还有_____（填字母）。

31. 随着“双减”和“五项管理”政策的推广和落实，保证了广大中小學生有充足的睡眠时间。为了探究睡眠不足对学习能力的影 响，衡阳市某中学生物教师团队以小白鼠为实验对象，建立模拟人类睡眠不足状态的模型，并进行了如下实验：

第一步：选取发育状况一致的健康小白鼠 20 只，随机均分为甲、乙两组。

第二步：采用适当的实验方法，限制甲组小白鼠的每日睡眠时长，使其睡眠时长为每日 3 小时，持续 24 天。乙组小白鼠不限制睡眠时长，其他实验条件均与甲组相同。

第三步：在实验的第 6 天、第 12 天、第 18 天、第 24 天，分别对两组中的每只小白鼠走出同一迷宫的时间进行多次测量，计算平均值。实验结果如右图所示。




- (1) 该实验探究的问题是：_____。
- (2) 在该探究实验中，设置乙组的作用是_____。
- (3) 实验中选取发育状况一致的健康小白鼠，且其他实验条件均相同，其目的是_____。

(4) 分析上图可知，随着每组小白鼠走迷宫次数的增多，小白鼠走出迷宫的平均时间逐渐_____。从获得途径来看，小白鼠走迷宫的行为属于_____行为。

(5) 根据本实验的结果，请给你的同学提一条合理的建议：_____。

32. 遗传学家之所以常常选用果蝇为实验材料，是因为果蝇具有繁殖周期短、繁殖能力强，染色体数目少等特点。图一表示某果蝇体细胞染色体的组成，果蝇的性别决定方式与人类一致；图二表示亲代果蝇的直翅和直翅杂交后子代性状的表现，用 B、b 分别表示控制显、隐性状的基因。请分析回答下列问题：



(1) 图一表示的是_____（填“雄性”或“雌性”）果蝇染色体的组成。其生殖细胞中染色体的数目为_____条。

(2) 图二中，亲代都是直翅果蝇，子代却出现了卷翅果蝇，在遗传学上称为_____现象。子代中直翅果蝇基因组成为 BB 的概率是_____。

(3) 现在有一只直翅雄果蝇，某生物兴趣小组为了判断其基因组成，可以从图二实验的子代中随机选取一只_____（填“直翅”或“卷翅”）雌果蝇与该果蝇杂交，观察后代的表现类型及比例。①若杂交后代均为直翅，则该直翅雄果蝇的基因组成为 BB；②若杂交后代_____，则该直翅雄果蝇的基因组成为 Bb。

33. 请阅读下列材料，回答问题：

材料一：2023 年 2 月 6 日清晨，土耳其东南部地区发生 7.7 级强烈地震。地震在该国已造成至少 1014 人死亡，2824 幢建筑倒塌。

材料二：联合国儿童基金会近日发布报告指出，马拉维、索马里等 11 个非洲国家正在艰难应对多年以来最为严重的霍乱疫情，尤其是儿童面临紧急情况。霍乱是由霍乱弧菌引起的急性肠道传染病，主要经由不洁水源和食物传染，患者常出现呕吐、腹泻、脱水和高烧等症状，重症和延误治疗可致死亡。

材料三：我国自新中国成立初期，就开始了预防接种工作。现在，可免费接种的疫苗越来越多。婴儿刚一出生，医院就给接种卡介苗和乙肝疫苗。婴儿刚满两个月后，要到户口所在地（或居住地）指定的社区医院保健科办理接种登记，领取预防接种证，医生会按婴儿的月龄安排接种日期。

(1) 地震中某人下肢受伤，伤口连续不断流出暗红色血液，急救时应指压伤口的_____端止血。

(2) 如发现有人呼吸、心跳骤停时，在确保安全的前提下，要对患者进行心肺复苏。心肺复苏包括胸外心脏按压和_____等，且按 30：2 的比例交替反复进行。

(3) 从材料二中可以看出，霍乱这种传染病的病原体是_____。

(4) 防疫人员紧急为疫情高发区送去肥皂和氯片等防疫物资，用卡车运来安全的饮用水。这种做法在预

防传染病的措施中属于_____。

(5) 材料三中，医生给婴儿接种卡介苗可以预防结核病，接种这种疫苗_____（填“能”或“不能”）预防乙肝。从免疫的角度看，接种的卡介苗属于_____。

2023 年湖南省衡阳中考生物真题

一、单项选择题

1. 地衣是真菌与藻类共生在一起形成的。藻类为真菌提供有机物，真菌为藻类提供水和无机盐。这体现的生物基本特征是（ ）

- A. 生物的生活需要营养
B. 生物能进行呼吸
C. 生物能生长和繁殖
D. 生物都有遗传和变异的特性

【答案】A

【解析】

【分析】生物的共同特征有：①生物的生活需要营养；②生物能进行呼吸；③生物能排出身体内产生的废物；④生物能对外界刺激作出反应；⑤生物能生长和繁殖；⑥生物都有遗传和变异的特性；⑦除病毒以外，生物都是由细胞构成的。

【详解】由题干“藻类为真菌提供有机物，真菌为藻类提供水和无机盐”，体现了生物的生活需要营养的特征，不能体现生物能进行呼吸、生物能生长和繁殖、生物都有遗传和变异的特性，A 符合题意，BCD 不符合题意。

故选 A。

2. 同一品种的结球甘蓝在北京栽培时，叶球重 1~3 千克；引种到西藏后，叶球的重量可达 6.5 千克。这一实例说明生物与环境的关系是（ ）

- A. 生物适应环境
B. 环境影响生物
C. 生物影响环境
D. 环境适应生物

【答案】B

【解析】

【分析】生物与环境的关系包括：生物适应环境，生物影响环境，环境影响生物。生物适应环境是指生物为了生存下去，在生活习性或者形态结构上力求与环境保持一致。生物影响和改变环境是指由于生物的存在或者某些活动，使得环境有了改观或变化。生物依赖环境是（环境影响生物）指生物类别不同，受生存空间或生活环境的制约。

【详解】A. 生物适应环境是指生物为了生存下去，在生活习性或者形态结构上力求与环境保持一致，A 错误。

BD. 甘蓝种到北京时，长成后叶球重 1~3 千克，引种到西藏后，甘蓝由于昼夜温差大，日照时间长，叶球可重达 6.5 千克，体现了环境影响生物，而不是环境适应生物，B 正确，D 错误。

C. 生物影响环境是指由于生物的存在或者某些活动，使得环境有了改观或变化，C 错误。

故选 B。

3. 迄今为止，地球仍是人类和其他生物唯一的家园，我们应该倍加珍惜和爱护。地球上最大的生态系统是（ ）

- A. 生物圈 B. 森林生态系统 C. 草原生态系统 D. 海洋生态系统

【答案】A

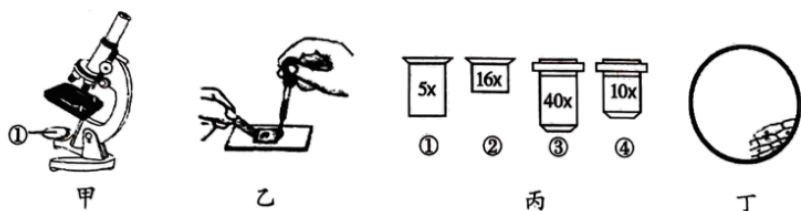
【解析】

【分析】生物圈就是生物与环境构成的一个统一的整体，它包括了地球上所有的生物及其生存的全部环境，因此生物圈是一个生态系统，而且是最大的生态系统。

【详解】地球上所有的生物与其环境的总和就叫生物圈。生物圈的范围：以海平面为标准来划分，生物圈向上可到达约 10 千米的高度，向下可深入 10 千米左右的深处，厚度约为 20 千米左右的圈层，包括大气圈的底部、水圈的大部和岩石圈的表面。生物圈是地球上所有生物与其生存的环境形成的一个统一整体，包括森林生态系统、海洋生态系统、农田生态系统、草原生态系统、淡水生态系统、湿地生态系统、城市生态系统等等，生物圈是一个统一的整体，是地球上最大的生态系统，是所有生物共同的家园。故 A 正确，BCD 错误。

故选 A。

4. 罗华同学制作了洋葱鳞片叶内表皮细胞临时装片，并用显微镜进行了观察。下列有关实验操作叙述不正确的是（ ）



- A. 图甲中的①是反光镜，当环境光线较弱时，应选用凹面镜对光
 B. 图乙是给洋葱鳞片叶内表皮细胞染色，所用的液体是碘液
 C. 要想观察到的细胞数量最多，应选择的镜头组合是图丙中的②③
 D. 若要把图丁中观察到的物像移到视野中央，玻片应向右下方移动

【答案】C

【解析】

【分析】1. 图甲中，①反光镜能使光线通过通光孔反射到镜筒内。反光镜有两个面，平面镜和凹面镜，凹面镜能够聚光，可以使视野变亮，故当外界光线较强时用平面镜，当外界光线较弱时用凹面镜。

2. 图丙中，目镜没有螺纹，它直接插在镜筒的顶端，放大倍数低的长，放大倍数高的短。物镜上有螺纹，安装在转换器上，放大倍数低的短，放大倍数高的长。题图中：①是低倍目镜、②是高倍目镜，③是高倍物镜、④是低倍物镜。

【详解】A. 图甲中的①是反光镜，反光镜的凹面镜能够聚光，可以使视野变亮。因此，当环境光线较弱时，应选用凹面镜对光，A 正确。

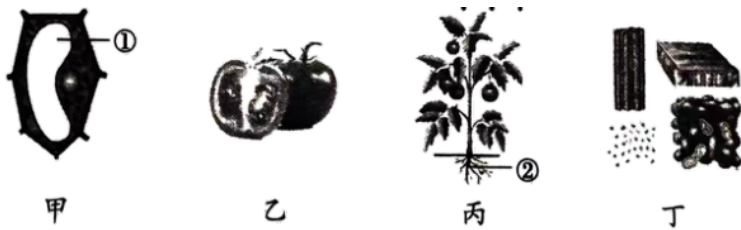
B. 为了便于观察洋葱鳞片叶内表皮细胞的结构，要对细胞进行染色。在盖玻片一侧加碘液，另一侧用吸水纸吸引，重复 2~3 次，使染液浸润到细胞标本的全部。可见，图乙是给洋葱鳞片叶内表皮细胞染色，所用的液体是碘液，B 正确。

C. 观察同一视野的同一部位：低倍镜下看到的细胞小，数量多；高倍镜下看到的细胞大，数量少。显微镜的放大倍数等于目镜的放大倍数乘以物镜的放大倍数。因此，要想看到细胞的数目最多，显微镜的放大倍数应是最小，即低倍目镜①（5×）和低倍物镜④（10×）组合，C 错误。

D. 我们在显微镜下看到的物像是上下左右均颠倒的物像，所以我们移动玻片标本时，标本移动的方向正好与物像移动的方向相反。图丁中，细胞物像在视野的偏右下方，向右下方移动装片，物像会向左上方移动到视野的中央，D 正确。

故选 C。

5. 下图表示番茄的几个不同结构层次，下列有关说法不正确的是（ ）



A. 切番茄时，流出大量汁液，这些汁液主要来自图甲中的①

B. 图丙中的②是由种子中的胚根发育而来

C. 番茄植株的结构层次依次为甲→丁→乙→丙

D. 人的心脏和图丁属于同一个结构层次

【答案】D

【解析】

【分析】细胞是生物体的结构和功能的基本单位，细胞经过细胞的分裂、分化产生了不同的组织。而不同的组织按照一定的次序结合在一起构成器官。绿色开花植物有根、茎、叶、花、果实、种子六大器官。所以植物体的结构层次为：细胞→组织→器官→植物体。

【详解】A. 植物细胞的液泡内含细胞液，细胞液中溶解有多种物质，如或甜味或辣味的物质、色素以及糖类、无机盐、蛋白质等营养物质。可见，切番茄时，流出大量汁液，这些汁液主要来自图甲中的①液泡，A 正确。

B. 番茄种子的胚根生长最快，首先突破种皮向地生长，并发育成根。可见，图丙中的②根是由种子中的胚根发育而来，B 正确。

C. 结合分析和题图可知，番茄植株的结构层次依次为：甲（细胞）→丁（组织）→乙（器官）→丙（植物体），C 正确。

D. 由不同的组织按照一定的次序结合在一起构成的行使一定功能的结构，叫做器官。人的心脏属于器官层次，而图丁属于组织层次，D 错误。

故选 D。

6. 进化论的建立者达尔文在仔细比较了人和现代类人猿的相似之处后，提出了人类和现代类人猿的共同祖先是（ ）

- A. 森林古猿 B. 猕猴 C. 大猩猩 D. 长臂猿

【答案】A

【解析】

【分析】达尔文，英国生物学家，进化论的奠基人，出版了《物种起源》，提出了生物进化论学说，在探究生物进化奥秘的过程中，具有重要贡献，认为人类和现代类人猿的共同祖先是森林古猿。

【详解】在距今 1200 多万年前，森林古猿广泛分布于非、亚、欧地区，尤其是非洲的热带丛林，森林古猿的一支是现代类人猿，以树栖生活为主，另一支却由于环境的改变慢慢的进化成了人类，可见人类和类人猿的关系最近，是近亲，它们有共同的原始祖先是森林古猿。故 A 正确，BCD 错误。

故选 A。

7. “离离原上草，一岁一枯荣。野火烧不尽，春风吹又生。”这是对植物生命周期的真实写照。被子植物的一生要经历种子的萌发、植株的生长、发育、繁殖、衰老和死亡的过程。下列有关被子植物一生的叙述，错误的是（ ）

- A. 一定的水分、适宜的温度和充足的空气是种子萌发所需要的环境条件
B. 植物生长过程中需要量最多的是含氮的、含磷的、含钾的无机盐
C. 植物吸收水分和无机盐的主要部位是根尖的伸长区和分生区
D. 黄瓜的花多半都不会结果，因为黄瓜花是单性花，雄花不结果

【答案】C

【解析】

【分析】（1）种子萌发的外界环境条件是充足的空气、适宜的温度和一定的水分。

（2）无机盐对植物的生长发育起着重要的作用，这些无机盐包括氮、磷、钾、钙、镁、硫、硼、锰、锌、钼等多种无机盐。

（3）根尖的结构包括根冠、分生区、伸长区和成熟区。

（4）根据雌蕊和雄蕊的有无，花可以分为两性花和单性花。

【详解】A. 种子萌发必需的环境条件是适宜的温度、一定的水分、充足的空气，同时种子的胚是完整

的，活的，未处于休眠期，故 A 正确。

B. 无机盐对植物的生长发育起着重要的作用，这些无机盐包括含氮、磷、钾、钙、镁、硫、硼、锰、锌、钼等的多种无机盐，其中植物生活中最多的无机盐是含氮、磷、钾的无机盐。含氮的无机盐能促进细胞的分裂和生长，使枝繁叶茂；含磷的无机盐可以促进幼苗的发育和花的开放，使果实、种子提早成熟；含钾的无机盐使植物茎秆健壮，促进淀粉的形成与运输，故 B 正确。

C. 成熟区在伸长区的上部，细胞停止伸长，开始分化，表皮细胞一部分向外突起形成根毛，根毛的存在增加了根的吸收面积，是吸收水分和无机盐的主要部位，故 C 错误。

D. 在一朵花中同时具有雄蕊和雌蕊的花叫做两性花；在一朵花中只有雌蕊或者只有雄蕊的花叫做单性花。在单性花中，只有雌蕊的花叫雌花，只有雄蕊的花叫雄花。黄瓜是单性花，雄花只有雄蕊，没有雌蕊，所以不能结出果实，故 D 正确。

故选 C。

8. 生物个体的寿命都是有限的，死亡意味着生命的结束。受精卵的形成，标志着新生命的开始。请问人类精子和卵细胞结合的场所是（ ）

- A. 卵巢 B. 子宫 C. 阴道 D. 输卵管

【答案】D

【解析】

【分析】女性的生殖系统主要包括卵巢、输卵管、子宫、阴道等。卵巢是女性的主要性器官，也是女性的性腺，能够产生卵细胞和分泌雌性激素；输卵管能输送卵细胞，是受精和胚胎初期发育的场所；子宫是胚胎和胎儿发育及产生月经的场所；阴道是精子进入和胎儿产出的通道。

【详解】人类含精子的精液进入阴道后，精子缓慢地通过子宫，在输卵管内与卵细胞相遇，有一个精子进入卵细胞，与卵细胞相融合，形成受精卵。可见，人类精子和卵细胞结合的场所是输卵管。故 D 正确，ABC 错误。

故选 D。

9. 某同学生了一场大病，几天吃不下食物，身体明显消瘦。这主要是因为贮存在体内的备用能源物质被大量消耗。请问人体内的备用能源物质是（ ）

- A. 糖类 B. 脂肪 C. 蛋白质 D. 维生素

【答案】B

【解析】

【分析】食物中营养物质分为能源物质（糖类、脂肪、蛋白质）和非能源物质（水、无机盐、维生素）。

【详解】A. 糖类是最主要的供能物质，人体进行各项生命活动所消耗的能量主要来自糖类的氧化分解，约占人体能量供应量的 70%，A 错误。

B. 人体内的大部分脂肪作为备用能源贮存在皮下等处，属于贮备能源物质。可见，该同学生身体明显消瘦，主要是因为脂肪被大量消耗，B 正确。

C. 蛋白质是构成人体细胞的基本物质，建造和修复身体的重要原料，人体的生长发育、组织的修复和更新都离不开蛋白质。此外，蛋白质还能被分解，为人的生理活动提供能量，C 错误。

D. 维生素不是构成细胞的主要原料，不为人体提供能量，人体每日对它们的需要量也很小。但是，维生素对人体的重要作用是其他营养物质所不能代替的。人体一旦缺乏维生素，就会影响正常的生长发育，甚至患病，D 错误。

故选 B。

10. 下表列出了四种食物可食用部分（各 100 克）营养物质的含量，下列说法错误的是（ ）

食物	糖类（克）	维生素 A（微克）	维生素 C（毫克）	钙（毫克）	铁（毫克）
甲	5.0	4972	20	6	22.6
乙	18	3	220	10	0.7
丙	51.7	141	4	676	1.2
丁	76.8	0	0	11	1.1

A. 食物丁中维生素 A 和维生素 C 含量为 0，应少食用或不食用

B. 多吃食物甲有利于预防夜盲症和贫血症

C. 食物乙适合坏血病患者食用

D. 佝偻病和骨质疏松症患者应多食用食物丙

【答案】A

【解析】

【分析】食物所含的六类营养物质中，能为人体提供能量的是糖类、脂肪和蛋白质，水、无机盐和维生素不能为人体提供能量。其中糖类是最主要的供能物质，脂肪是人体内重要的备用能源物质。

【详解】A. 食物丁含有的糖类最多，是主要的供能物质，故不能少食用或不食用，而且维生素 A 和维生素 C 可从其它食物（如食物甲和乙）中补充，A 错误。

B. 食物甲中含有的维生素 A、含铁最丰富，有利于防治夜盲症和贫血症，故 B 正确。

C. 食物乙中含有的维生素 C 最丰富，适合坏血病患者食用，故 C 正确。

D. 食物丙中含有的钙最丰富，适于佝偻病和骨质疏松症患者食用，故 D 正确。

故选 A。

11. 写流程图是生物学习过程中常用的方法，有利于我们对所学的知识进行整理和归纳。下列有关流程图叙述不正确的是（ ）

- A. 食物经过消化道的顺序：口腔→咽→食道→胃→小肠→大肠→肛门
 B. 人体肺循环的途径：右心室→肺动脉→肺部毛细血管→肺静脉→左心房
 C. 完成反射活动的过程：感受器→传入神经→神经中枢→传出神经→效应器
 D. 听觉形成的过程：外界声波→外耳道→耳蜗→听小骨→鼓膜→听觉中枢

【答案】D

【解析】

【分析】外界的声波经过外耳道传到鼓膜，鼓膜的振动通过听小骨传到内耳，刺激了耳蜗内对声波敏感的感觉细胞，这些细胞就将声音信息通过听觉神经传给大脑的一定区域（听觉中枢），人就产生了听觉。

【详解】A. 消化道自上而下依次是：口腔、咽、食道、胃、小肠、大肠和肛门。可见，食物经过消化道的顺序：口腔→咽→食道→胃→小肠→大肠→肛门，A 正确。

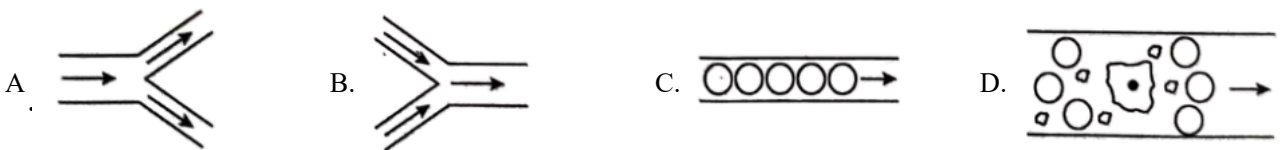
B. 人体肺循环的途径是：右心室→肺动脉→肺部毛细血管→肺静脉→左心房；经过肺循环，血液由静脉血变成了动脉血，B 正确。

C. 神经调节的基本方式是反射，完成反射的结构基础是反射弧，反射弧通常由感受器、传入神经、神经中枢、传出神经、效应器组成。兴奋（神经冲动）在反射弧上的传导是单向的，只能是：感受器→传入神经→神经中枢→传出神经→效应器，C 正确。

D. 结合分析可知，听觉的形成过程是：外界声波→外耳道→鼓膜（产生振动）→听小骨→耳蜗（听觉感受器）→听神经→大脑的听觉中枢（产生听觉），D 错误。

故选 D。

12. 下图是人体血管的图示，箭头为血流方向。请据图判断，表示毛细血管的是（ ）



【答案】C

【解析】

【分析】毛细血管在体内数量很多，分布很广；其管壁最薄，只有一层扁平上皮细胞构成；管的内径十分小，只允许红细胞单行通过；管内血流速度最慢；连通于最小的动脉和静脉。这些特点便于血液与组织细胞充分地进行物质交换。

【详解】A. 观图可知，从主干流向分支的血管是动脉，A 错误。

B. 观图可知，从分支流向主干的血管是静脉，B 错误。

C. 红细胞单行通过的是毛细血管，C 正确。

D. 观图可知，D 项表示血管中血液流动，不能得出毛细血管，D 错误。

故选 C。

13. 哺乳动物具有强大的运动能力，有利于其寻觅食物、躲避敌害、争夺栖息地和繁殖后代，以适应环境。下列有关动物的运动说法错误的是（ ）

A. 只要运动系统完好，动物就能正常运动

B. 哺乳动物的运动系统主要是由骨、关节和肌肉组成

C. 运动之前做一做热身活动，可以预防关节脱臼和肌肉拉伤

D. 学生在升旗仪式上向国旗敬礼时，肱二头肌收缩，肱三头肌舒张

【答案】A

【解析】

【分析】骨骼肌有受刺激而收缩的特性，当骨骼肌受神经传来的刺激收缩时，就会牵动着它所附着的骨，绕着关节活动，于是躯体就产生了运动。但骨骼肌只能收缩牵拉骨而不能将骨推开，因此一个动作的完成总是由至少两组肌肉相互配合活动，共同完成的。屈肘时，肱二头肌收缩，肱三头肌舒张；伸肘时，肱三头肌收缩，肱二头肌舒张；上肢自然下垂时，二者同时舒张；垂提重物时，二者同时收缩。

【详解】A. 运动并不是仅靠运动系统来完成的，还需要神经系统的调节。运动所需的能量，有赖于消化系统、呼吸系统、循环系统等系统的配合，A 错误。

B. 哺乳动物运动系统主要由骨骼与骨骼肌组成，骨骼包括骨与骨连接。骨连接有不活动的、半活动的和活动的三种形式，其中活动的骨连接叫关节。可见，哺乳动物的运动系统主要是由骨、关节和肌肉组成，B 正确。

C. 充分的热身活动能使关节囊分泌的滑液增加，同时，关节头和关节窝表面的关节软骨能更好地缓冲骨与骨之间的撞击，从而减少损伤。关节头从关节窝中滑脱的现象，称为脱臼。运动之前做一做热身活动，可以预防关节脱臼和肌肉拉伤，C 正确。

D. 结合分析可知，学生在升旗仪式上向国旗敬礼时，属于屈肘状态，此时肱二头肌收缩，肱三头肌舒张，D 正确。

故选 A。

14. 幽门螺旋杆菌是一种能够引起胃病的细菌，甚至可诱发胃癌。其与真菌相比，在细胞结构上的主要区别是（ ）

A. 没有细胞壁

B. 没有成形的细胞核

C. 没有细胞膜

D. 没有细胞结构

【答案】B

【解析】

【分析】细菌是单细胞个体，其细胞由细胞壁、细胞膜、细胞质等部分构成，但没有成形的细胞核，只有DNA集中的核区，这是细菌的基本结构，是所有细菌都具有的。

真菌的基本结构有细胞壁、细胞膜、细胞质、细胞核，没有叶绿体。

【详解】幽门螺旋杆菌属于细菌，其细胞结构由细胞壁、细胞膜、细胞质等部分构成，但没有成形的细胞核，只有DNA集中的核区，故B符合题意，ACD错误。

故选B。

15. 西渡湖之酒是衡阳县西渡镇特产，中国国家地理标志产品。湖之酒采用当地传统“贡米”“麻矮糯”为原料，经过复杂的工艺精制而成。与湖之酒酿造有关的主要微生物是（ ）

- A. 乳酸菌 B. 酵母菌 C. 醋酸菌 D. 青霉菌

【答案】B

【解析】

【分析】微生物的发酵技术在食品、药品的生产中具有广泛的应用，如制馒头或面包和酿酒要用到酵母菌，制酸奶和泡菜要用到乳酸菌，制作腐乳要用到多种霉菌，制醋要用到醋酸杆菌，制酱要用到曲霉，制味精要用到棒状杆菌，利用青霉可以提取出青霉素等。

【详解】酿酒要酵母菌，酵母菌在无氧的条件下，能把葡萄糖分解成酒精和二氧化碳。可见，与湖之酒酿造有关的主要微生物是酵母菌。故B正确，ACD错误。

故选B。

16. 生物学家将生物进行科学分类，是为了弄清不同类群之间的亲缘关系和进化关系。下列有关生物分类叙述错误的是（ ）

- A. 种是最基本的分类单位
B. 生物分类的主要依据是生物的形态结构和生理功能等方面的特征
C. 分类的单位由大到小依次是：界、纲、门、目、科、种、属
D. 分类单位越小，其中所包括的生物共同特征越多

【答案】C

【解析】

【分析】生物分类的依据是生物的形态结构和生理功能的差异程度和亲缘关系的远近。生物分类单位由大到小是界、门、纲、目、科、属、种。界是最大的分类单位，最基本的分类单位是种。分类单位越大，生物的相似程度越少，共同特征就越少，生物的亲缘关系就越远；分类单位越小，生物的相似程度越多，共同特征就越多，生物的亲缘关系就越近。解答此类题目的关键是理解生物分类单位之间的关系，根据图解可正确确立动物之间的亲缘关系。

【详解】AC. 生物分类单位由大到小是界、门、纲、目、科、属、种。界是最大的分类单位，最基本的分

以上内容仅为本文档的试下载部分，为可阅读页数的一半内容。如要下载或阅读全文，请访问：<https://d.book118.com/615142130333011110>