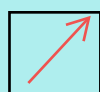







SOLD

@备考首选

通关无忧 轻松拿下考试

-  基础阶段—专业知识
-  刷题阶段—重点题库
-  冲刺阶段—押题点睛
-  考点覆盖—精编习题
-  紧扣考纲—直击考点
-  历年真题—押题抢分

本封面内容仅供参考，实际内容请认真预览本电子文本

祝您考试顺利

镇江市 2022 年初中学业水平

一、选择题

1. 史学家钱穆认为，中国的文化精神，是一种人文主义的道德精神，它兼顾家庭、社会、国家与天下。以下最能体现这一中国文化精神的是（ ）

- A. 儒家思想 B. 法家主张 C. 道教风骨 D. 佛教修为

2. 东汉班固评价汉武帝“雄才大略，不改文景之恭俭以济斯民”。北宋司马光评价汉武帝“穷奢极欲、使百姓疲敝，异于秦始皇者无几矣”。如今，对汉武帝的科学评价应该（ ）

- A. 坚信班固的旧观点 B. 采纳年代久远的看法
C. 赞同司马光的认识 D. 坚持客观辩证的立场

3. 下列两幅图片再现了北魏人民的经济生活状况。这些图片所反映的历史主题是（ ）



汉族妇女制作蒸馍胡饼砖画



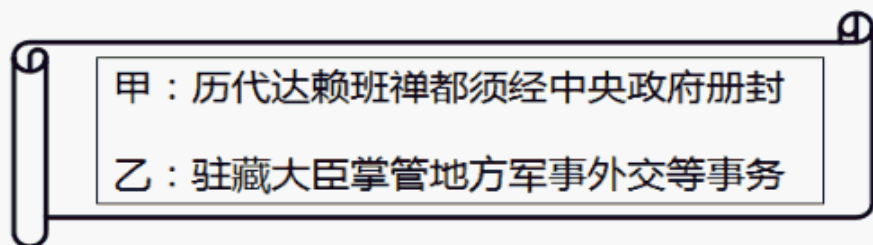
北方民族人民采桑图壁画

- A. 江南开发 B. 民族交融 C. 科举取士 D. 重文轻武

4. 据南宋蒋祈《陶记》记载，在他生活的那个时代，景德镇有 300 多处瓷窑，所制瓷器“洁白不疵”，卖到其他地方，皆有“饶玉”之称。据此可知，江西景德镇的制瓷业（ ）

- A. 只能生产白瓷 B. 拥有定窑汝窑 C. 反映手工业兴盛 D. 兴起于南宋

5. 如图所示书页，是历史老师归纳的某朝地方治理措施。采取这些措施的王朝是（ ）



- A. 唐朝 B. 元朝 C. 明朝 D. 清朝

6. 当英国获得“进出口货物的关税税率值百抽五，中国不能自由变更”的特权时，负责与英国交涉签约的清朝大臣却认为这是一个很大的外交成功。与此相关的条约是（ ）

- A. 《南京条约》 B. 《北京条约》 C. 《马关条约》 D. 《辛丑条约》

7. 梁启超主张：“中国欲保其海上权力，则必须推扩水师”。下列洋务派的主张中，与梁启超海权意识一致的是（ ）

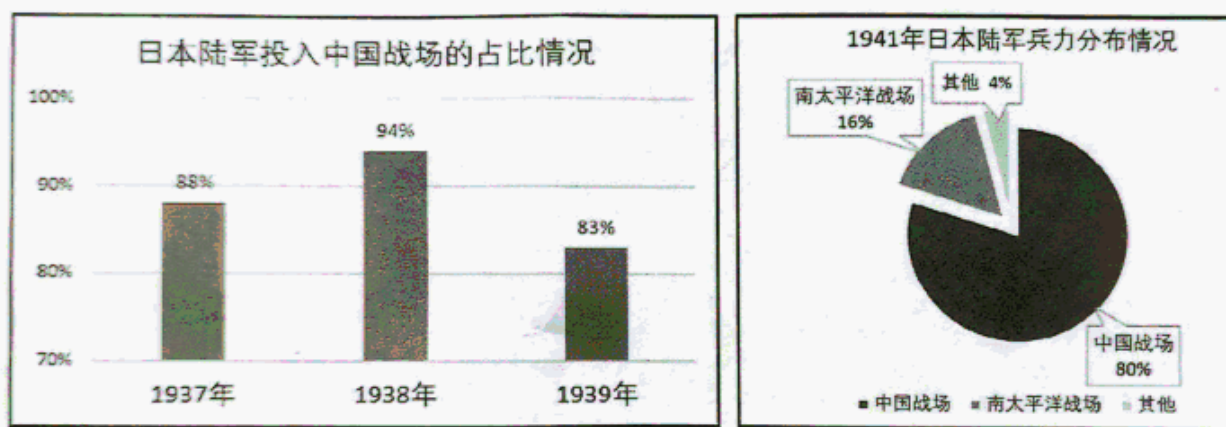
- A. 李鸿章：中国添练水师不容一时稍缓
- B. 曾国藩：火轮船必为中外官员通行之物
- C. 奕訢：请添设一馆，以教习天文算学
- D. 左宗棠：轮船成则漕政兴，海关之税旺

8. 1926年，湖南省农民协会的会员达到107万人，到1927年1月，会员又增加到200万人。湖北省农民协会会员在1926年7月是3万多人，到同年11月就增加到了20万人左右。

两湖地区农会组织迅速发展的主要原因是（ ）

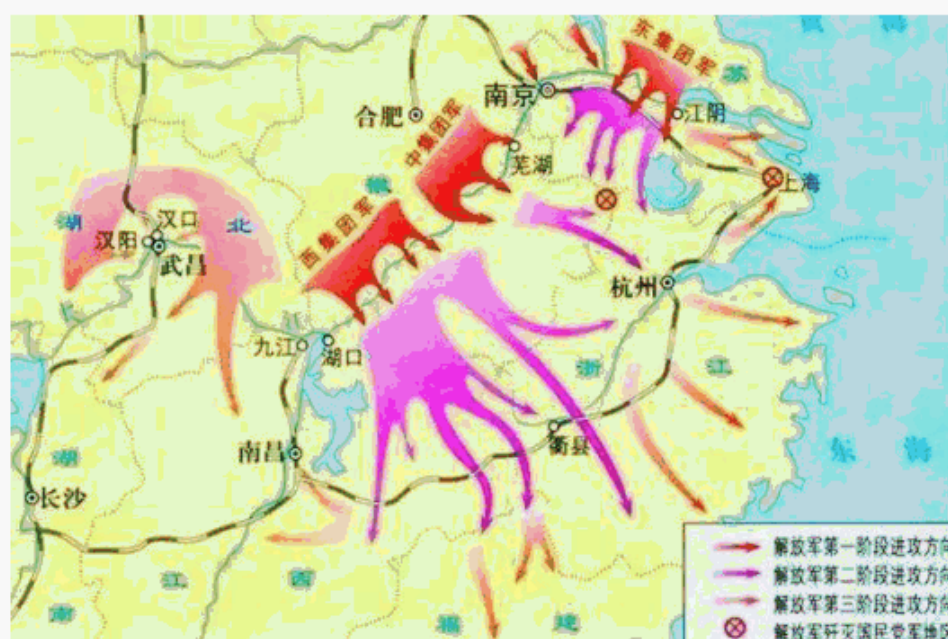
- A. 五四运动扩大
- B. 北伐胜利进军
- C. 红军战略转移
- D. 七七事变爆发

9. 如图是日本陆军在第二次世界大战期间的兵力投入统计。它们从一个侧面说明了（ ）



- A. 中国共产党高举抗日救亡的旗帜
- B. 日军侵华导致第二次世界大战全面爆发
- C. 正面战场与敌后战场的相互配合
- D. 中国是世界反法西斯战争的东方主战场

10. 如图所示战役的意义是（ ）



- A. 推动了工农革命运动的发展
- B. 开始武装反抗国民党的斗争
- C. 揭开解放军战略进攻的序幕
- D. 推翻了南京国民政府的统治

以上内容仅为本文档的试下载部分，为可阅读页数的一半内容。如要下载或阅读全文，请访问：<https://d.book118.com/615240002210011244>