



【若缺失公式、图片现象属于系统读取不成功，文档内容齐全完整，请放心下载。】

第6单元过关检测卷

一、填一填。(每空1分，共31分)

1. 计算 $38 - 30 + 6$ 时，先算()法，再算()法。
2. 计算 $65 - (21 + 9)$ 时，先算()法，再算()法，结果是()。
3. 78 比 50 多()，7 比 54 少()。

4. 在()里填上合适的数。

$$() + 45 = 50 \quad 72 - () = 32 \quad 36 + () = 56 - ()$$

$$60 + () > 65 \quad 20 + 40 > () \quad () - 5 < 32$$

5. 在 里填上 “>” “<” 或 “=”。

$$83 + 6 \quad \text{$$

$$58 - 9 \quad \text{$$

$$45 + 20 \quad \text{$$

$$74 + 6 \quad \text{$$

$$78 - 5 \quad \text{$$

$$35 + 40 \quad \text{$$

6. 40 连续减 4，写出每次减得的差。

$$40 \quad 36 \quad () \quad () \quad () \quad ()$$

7. 50 连续加 6，写出每次加得的和。

$$50 \quad 56 \quad () \quad () \quad () \quad ()$$

8.

用 22 根小棒可以拼成()个 ，还剩()根。

9. 3 束 ，每人分一个，()分给 15 个小朋友。(填“够”或“不够”)



二、辨一辨。(对的画“√”错的画“×”每题1分，共5分)

1. 7+6 的和的十位是5，那么 里填5。()

2. 35 连续减7，减5次，结果为0。()

3. 因为 $2+2+3=7$ ，所以 $20+20+30=70$ 。()

4. $67-2-4=67-(2+4)$ ()

5. $38-\square > 30$ ，里最大填2。()

三、算一算。(共24分)

1. 口算。(8分)

$20+45=$

$65-8=$

$80-7=$

$33+9=$

$26-8=$

$20+80=$

$34-6=$

$63-6=$

2. 算一算。(8分)

$23-5+20=$

$52+(15-9)=$

$37+3-8=$

$86-(68-8)=$

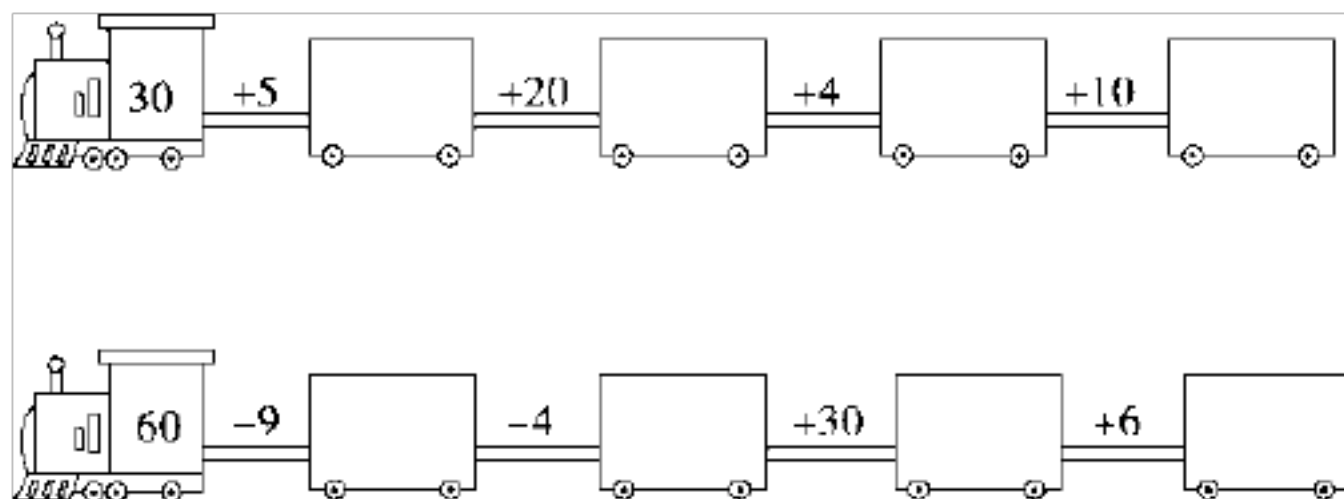
$43-(15+5)=$

$35+20-9=$

$40+(32-7)=$









$65-(12+8)=$

3. 开火车。(8分)






四、连一连。(8分)




 $63-40+5$	 $45+(17-9)$	 $73-(10+40)$	 $58-8-30$
			

五、解决问题。(共 32 分)

1. 一共有多少人参加独轮车表演？(4分)



2. 下面是妈妈昨天网购的三种物品的价格。(9分)

		
30 元	8 元	48 元

(1)鞋子比闹钟贵多少钱？

(2)闹钟比娃娃便宜多少钱？

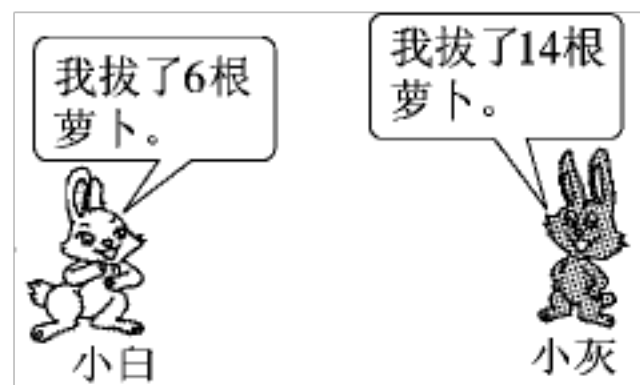


(3)你能再提一个数学问题并解答吗?

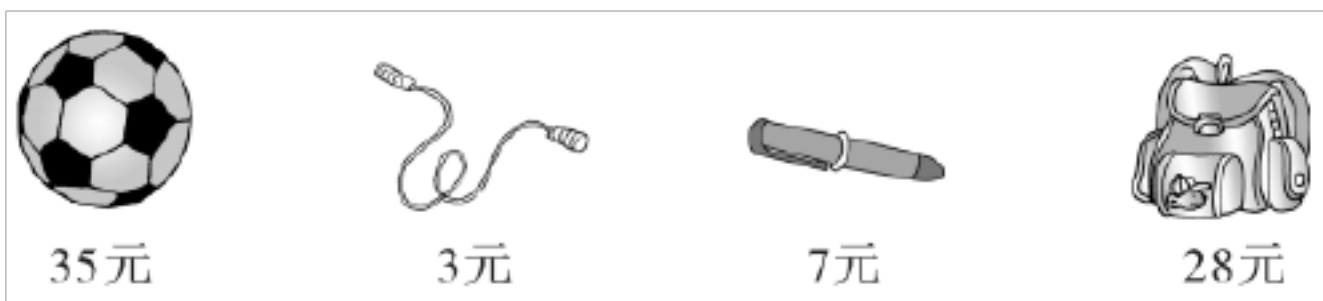
3. 这个房间一共要铺多少块地砖? (5分)



4. 地里一共长了 28 根萝卜。现在地里还剩多少根萝卜? (要求算式中有小括号) (5分)



5. 购物。(9分)



(1)买一个足球和一根跳绳共用多少钱？

(2)一个书包比一支钢笔贵多少钱？

(3)你能再提一个数学问题并解答吗？



答案

一、1. 减 加

2. 加 减 35

3. 28 47

4. 5 40 10 10 6 58 36

(后面五个空答案不唯一)

5. $>$ $<$ $>$ $>$ $>$ $=$

6. 32 28 24 20

7. 62 68 74 80

8. 4 2

9. 够









二、1. \times 2. \checkmark 3. \checkmark 4. \checkmark 5. \times

三、1. 65 57 73 42 18 100 28 57

2. 38 58 32 26 23 46 65 45

3. 35 55 59 69 51 47 77 83

四、

	$63-40+5$		$45+(17-9)$		$73-(10+40)$		$58-8-30$
							
	20	23	28	53			

五、1. $5+5+5+5+5=25$ (人)

2. (1) $30-8=22$ (元)

(2) $48-8=40$ (元)



(3)答案不唯一，如：一双鞋子和一个闹钟一共多少钱？

$$30+8=38(\text{元})$$

3. $36+9=45(\text{块})$

4. $28-(6+14)=8(\text{根})$

5. (1) $35+3=38(\text{元})$

(2) $28-7=21(\text{元})$

(3)答案不唯一，如：一个足球的价格比一根跳绳和一支钢笔的总价贵多少元？

$$35-(3+7)=25(\text{元})$$



【若缺失公式、图片现象属于系统读取不成功，文档内容齐全完整，请放心下载。】

第6单元评价测试卷

(时间:40分钟 满分:100分)

题号	一	二	三	四	五	六	七	总分
得分								

一、我会填。(22分)

1. 计算 $60 - (24 - 8)$ 时, 先算()再算()。

2. ()比20多47, 80比30多()。

3. 一个加数是72, 另一个加数是9, 和是()。

4. 被减数是59, 减数是40, 差是()。

5. 用80连续减8, 写出每次减得的差。

80, (), (), (), (), ()。

6. 在○里填上“>”“<”或“=”。

$58 + 2 \bigcirc 60$

$60 - 4 \bigcirc 55$

$57 - 8 \bigcirc 50$

$63 - 6 \bigcirc 57$

$25 + 10 \bigcirc 34$

$64 - 8 \bigcirc 46$

7. 在()里填上合适的数。

$20 + () = 32$

$54 - () = 9$


$() + 8 = 26$

$() - 20 = 70$

8. $68 \square > 60$, \square 里最大能填()。

二、我会算。(19分)

1. 把小刺猬要吃的果子圈起来。(12分)

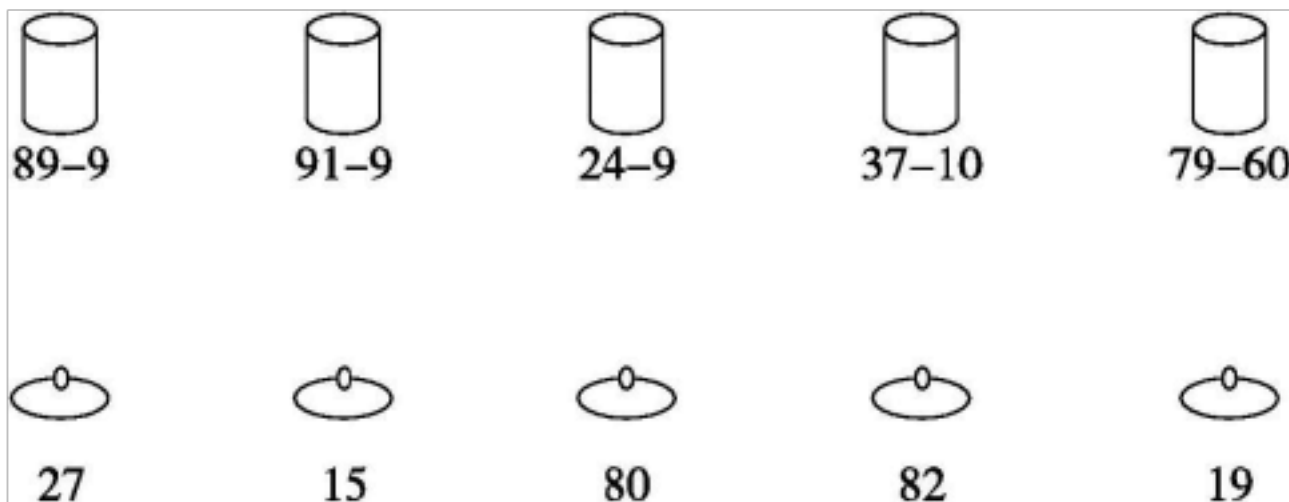


2. 列式计算。(7分)

(1) 34比7多多少?

(2) 68比17与3的和多多少?

三、我会连。(5分)



四、在○里填上“>”或“<”。(8分)

$78 \bigcirc 20 = 58$

$43 \bigcirc 9 = 52$

$82 \bigcirc 7 = 75$

$52 \bigcirc 5 = 47$

$8 \bigcirc 41 = 49$

$53 \bigcirc 7 = 60$



$35 \ominus 20 = 15$

$56 \ominus 8 = 48$

五、我会选(将正确答案的序号填在括号里)。(10分)

1. 数字 6 和 3 可以直接相加的算式是()。

① $65+3$

② $65+30$

③ $56+30$

2. 数字 4 和 2 可以直接相减的算式是()。

① $43-20$

② $43-2$

③ $34-20$

3. 小红和小明拥有的星星颗数分别是 3, 9, 54 这三个数中的一个。如果小红的星星比小明少很多, 小红和小明的星星总颗数又超过了 60。那么小红有()颗, 小明有()颗。

① 3

② 9

③ 54

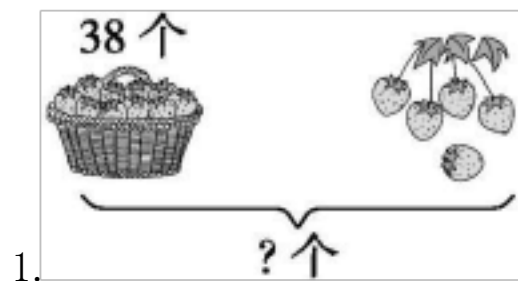
4. 下面三道算式中, 计算顺序与其他两道不同的是()。

① $18-6-2$

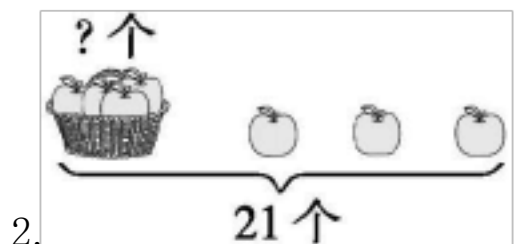
② $18-(6-2)$

③ $18-(6+2)$

六、我会看图列算式。(8分)




$\square \square \mp \square$ (个)



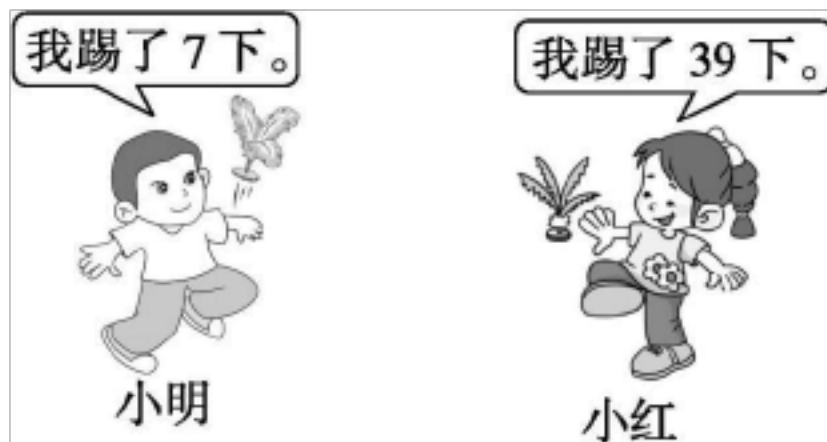
$\square \square \mp \square$ (个)

七、我会解答。(28分)



还差多少元?(4分)

2. (7分) (1) 他们一共踢了多少下?(3分)

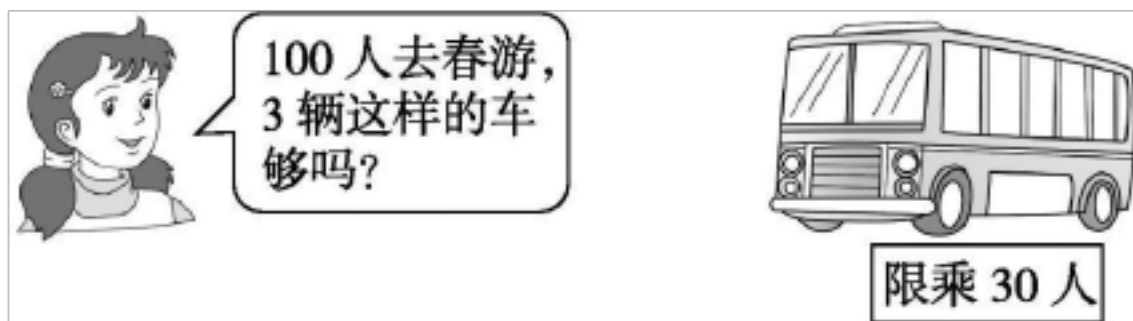


(2) 小明比小红少踢了多少下?(4分)

3. 同学们给幼儿园的小朋友折小红花, 一共要折 65 朵, 上午折了 30 朵, 下午折了 20 朵, 还缺几朵小红花?(5分)



(6)



5. 有36个皮球, 7个装一箱, 最多可以装满几个箱子?(6分)


答案:

一、1. $24-8=16$ $60-16=44$ 2. 67 50 3. 81

4. 19 5. 72 64 56 48 40

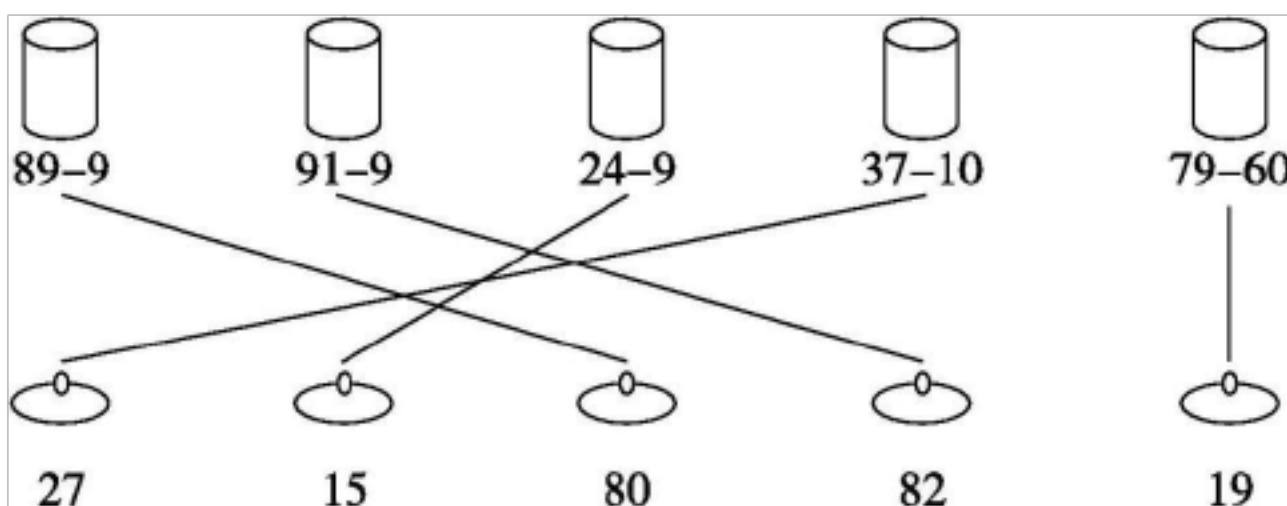
6. = > < = > >

7. 12 45 18 90 8. 7



二、1.

2. (1) 27 (2) 48



三、

四、- + - - + + - -

五、1. ② 2. ① 3. ② ③ 4. ①

六、1. $38 + 5 = 43$ 2. $21 - 3 = 18$

七、1. $36-8=28$ (元)

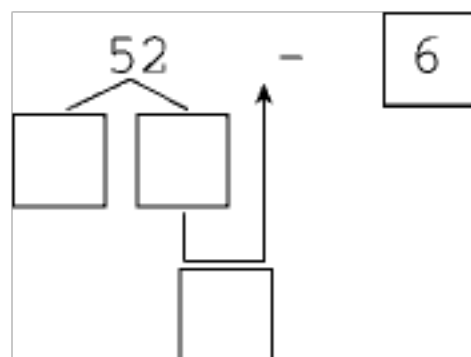
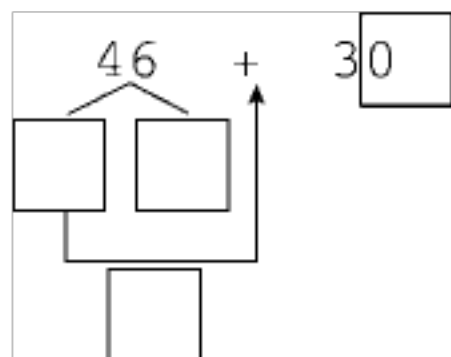
2. (1) $39+7=46$ (下) (2) $39-7=32$ (下)


3. $65-(30+20)=15$ (朵) 4. $30+30+30=90$ (人) $90 < 100$, 不够 5. 5个



单元跟踪检测卷

一、填一填。(1 4分, 其余每空1分, 共16分)



2. 在 $60 - (13 - 7)$ 中, 先算(), 再算()。
3. 在 $54 - 8 + 30$ 中, 先算(), 再算()。
4. 车上有 25 个座位, 已经坐了 10 人, 还空着()个座位。
5. 六一儿童节到了, 果果要折 48 只  送给同学, 已经折了 8 只, 还要折()只。
6. 40 比 74 小(), 63 比 8 大()。
7. $52 \xrightarrow{+8} \square \xrightarrow{-30} \square \xrightarrow{+9} \square \xrightarrow{+4} \square$

二、辨一辨。(对的画“√”, 错的画“×”) (每题2分, 共10分)

1. $45 + 20$ 的和与 $40 + 25$ 的和相等。 ()
2. 因为 $1 + 2 + 5 = 8$, 所以 $10 + 20 + 5 = 80$ 。 ()
3. $8 + 39$ 的和的十位上的数是 7。 ()
4. $65 - \square > 60$, \square 里最大能填 4。 ()
5. $78 - \square$ 的差的十位一定是 7。 ()

三、计算挑战。(共31分)

1. 看谁算得又对又快。(每题0.5分, 共7分)



$43 - 9 =$

$23 - 5 =$

$32 + 8 =$

$54 - 9 =$

$18 + 9 =$

$57 - 9 =$

$80 + 5 =$

$78 - 8 =$

$59 - 9 - 30 =$

$53 - 30 - 5 =$









$36 + 50 + 2 =$

$50 + (11 - 6) =$

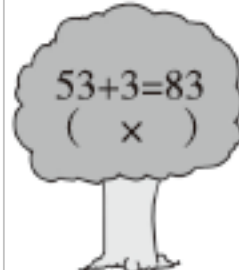

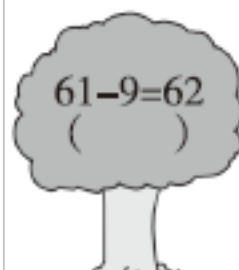

$42 - (17 - 9) =$

$61 - (9 + 11) =$

找玩具。() (每题 1 分, 共 4 分)

 $25 + 8 - 2$	 $25 + 8 + 2$	 $25 - (8 - 2)$	 $25 - (8 + 2)$
 35	 15	 31	 19

3. 森林医生。(照样子判断对错, 错的请改正) (每题 2 分, 共 8 分)

 $53 + 3 = 83$ (×) _____	 $64 - 4 = 24$ () _____
 $61 - 9 = 62$ () _____	 $35 + 8 = 33$ () _____

4. 算出每张卡片上两个数的和与差。(每空 1 分, 共 6 分)

$\begin{matrix} 56 \\ 30 \end{matrix}$	$\begin{matrix} 43 \\ 8 \end{matrix}$	$\begin{matrix} 64 \\ 6 \end{matrix}$
和: _____	和: _____	和: _____
差: _____	差: _____	差: _____

5. 在 里填上合适的数。(每题 1 分, 共 6 分)



$38 \square = 44$

$\square - 30 = 27$


$35 + \square = 35 - \square$


$20 + 30 > \square$

$\square - 9 < 39$

$\square + 8 > 25$

(4 分, 共 8 分)

1.  $\square \bigcirc \square = \square$ ()

2.  $\square \bigcirc \square = \square$ ()

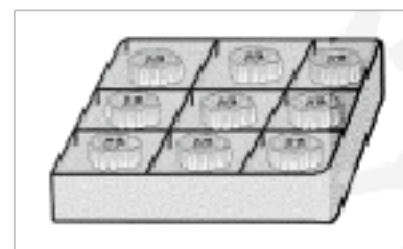
五、走进生活, 解决问题。(每题 7 分, 共 35 分)

1. 地里一共有 25 个萝卜。



地里还有多少个萝卜?

2. 把 28 个月饼装入右面的盒子里, 最多可以装满几盒?








4. 妈妈准备了3份苹果，每份7个，一共有多少个苹果？

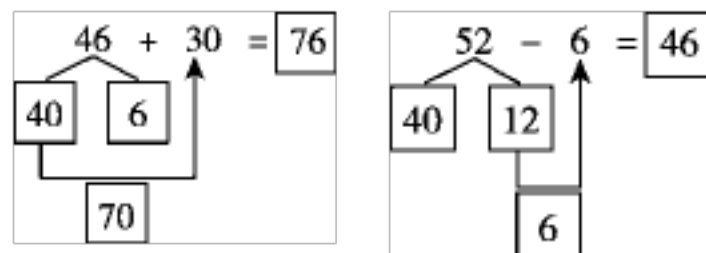


5.



(1) 买一本  和一台  ，一共要多少钱？

(2) 买一辆玩具  和一本  ，付70元，应找回多少钱？



2. $13 - 7 = 6$ $60 - 6 = 54$

3. $54 - 8 = 46$ $46 + 30 = 76$

4. 15

5. 40

6. 34 55

7. 60 30 39 43

二、1. \checkmark 2. \times 3. \times 4. \checkmark

5. \times [点拨] 如果个位不够减，那么差的十位是6。

三、1. 52 18 40 45 27 48 85 70

20 18 88 55 34 41

2.

3. $53 + 3 = 56$ \times $64 - 4 = 60$

\times $61 - 9 = 52$ \times $35 + 8 = 43$

以上内容仅为本文档的试下载部分，为可阅读页数的一半内容。如要下载或阅读全文，请访问：<https://d.book118.com/617013061110006036>