


# 2024 年中考历史预测模拟试卷 1

## 第一部分 选择题(共 30 分)

本部分共包括 15 小题，每小题 2 分。下列每小题只有一个最符合题目要求的选项。

1. 某同学为老子设计了如下人物名片，空白处应填入的内容是( )

	姓名	老子
	时代	春秋时期
	著作	《道德经》
	主要思想	
	身份	道家学派创始人

A. 仁者爱人      B. “无为而治”      C. 以法治国      D. “兼爱” “非攻”

2. 翦伯赞在《中国史十五讲》中写道：“华夏民族大一统的国家伟业到了汉武帝时代，完成了从地理空间到精神空间的整合与凝聚……”针对“精神空间”的整合与凝聚，汉武帝( )

A. 罢黜百家，尊崇儒术      B. 建立了刺史制度      C. 焚书坑儒      D. 实施了“推恩令”

3. 唐朝诗人刘禹锡有诗作：“礼闱新榜动长安，九陌人人走马看。一日声名遍天下，满城桃李属春官。自吟白雪论词赋，指示青云借羽翰。借问至公谁印可，支郎天眼定中观。”诗中描写的盛况是( )

A. 大运河的开通      B. 赵州桥的落成      C. 科举考试发榜      D. 长安的节日气氛

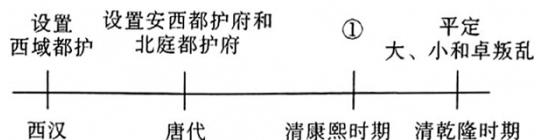
4. 小明在阅读《国史十六讲》一书时，先观其目录，再展开学习。在该书第十二讲，他可能阅读到的内容是( )

第十一讲	骑马民族驰骋的时代
第十二讲	明帝国的专制政治
第十三讲	朋党之争与文人社团
第十四讲	面向海洋的时代

A. 军机处的设立      B. 宣政院的设立      C. 锦衣卫的设立      D. 转运使的设置

5. 下面示意图呈现了中国古代王朝对某一地区加强管辖的历史脉络。其中①处应为( )

A. 发动雅克萨之战      B. 设置台湾府      C. 平定准噶尔部叛乱      D. 设立军机处



6. 历史事实是指对历史人物或事件的客观叙述，历史解释是对史实的分析或评判。下列选项属于历史解释的是( )

- A. 1839 年，林则徐在虎门海滩当众销毁收缴的鸦片
- B. 1840 年开始的鸦片战争成为中国近代史的开端
- C. 1860 年，英法联军在北京西北郊抢劫并烧毁圆明园

D. 1900年6月，英、美、俄、日等八国组织联军侵华

7. 浴火重生，新型人民军队在这里定型。下列有关下图所示会址与其对应的会议内容或意义的表述，正确的是（ ）

- A. 确立了思想建党、政治建军的原则
- B. 打出了“工农革命军”的旗帜
- C. 提出“政权是由枪杆子中取得的”著名论断
- D. 打响了武装反抗国民党反动派的第一枪



8. 中国共产党的百年历史，也是不断探索形成中国三农发展道路的历史。百年农政的光辉历程，波澜壮阔。右图反映的历史事件的意义是（ ）

- A. 保障了解放战争的胜利
- B. 摧毁了封建土地制度
- C. 实现了社会主义工业化
- D. 推动了农业合作化运动



《中华人民共和国土地改革法》  
受到广大农民的热烈拥护

9. 某校开展“党史我来讲”活动，下面是李明同学为宣讲内容所列的提纲。据此判断，他宣讲的主题是（ ）

主题：\_\_\_\_\_

第一部分：“三步走”战略

第二部分：发展才是硬道理

第三部分：社会主义市场经济

第四部分：科学发展观

- A. 中华人民共和国的成立
- B. 社会主义制度的建立
- C. 社会主义建设的曲折探索
- D. 中国特色社会主义道路

10. 下面是某学校历史社团举办讲座的宣传海报。据此可知，讲座的名称可能是（ ）

历史大讲堂

讲座名称：\_\_\_\_\_

关键词：封君封臣制、庄园生活、基督教传播、城市与大学兴起

主讲人：李明

地点：求知楼报告厅


时间：2024年3月25日 14:00

- A. 神秘的西欧中世纪
- B. 雅典民主政治的曙光
- C. 灿烂的拜占庭文化
- D. 亚历山大帝国的崛起

11. 17、18 世纪出台的一系列法律文献，既是对封建社会和殖民统治的批判与否定，也是资产阶级革命中的理论旗帜和纲领性文献，同时更是未来社会的基本蓝图。下列文献中主要矛头指向“封建国王”的是（ ）

- A. 《人权宣言》                      B. 1787 年宪法                      C. 《独立宣言》                      D. 《共产党宣言》

12. 对同类历史事件进行对比是学习历史的基本技能之一。下列图片中“宣读”的法律文献的共同之处是（ ）

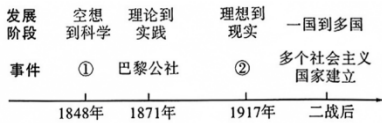


- A. 促进了资本主义发展                      B. 改变了国家性质                      C. 体现了民主平等原则                      D. 维护了国家统一

13. 20 世纪上半叶，亚非拉民族民主运动高涨。其中甘地领导的是（ ）

- A. 纳米比亚独立                      B. 埃及的华夫脱运动                      C. 印度的非暴力不合作运动                      D. 墨西哥的卡德纳斯改革

14. 下面是社会主义发展史时间轴(部分)，其中②处对应的事件是（ ）



- A. 《共产党宣言》发表                      B. 十月革命爆发                      C. 新经济政策的实施                      D. 苏联成立

15. 根据下面两幅图片可以总结出二战后欧洲的发展趋势是（ ）


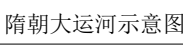


- A. 全球化                      B. 一体化                      C. 自由化                      D. 多极化

**第二部分 非选择题(共 40 分)**

本部分共包括 4 小题。

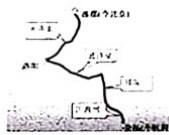
16. 某班要布置“古代中国·优秀传统文化”主题展板，并围绕该主题进行探究性学习，请你参与完成。(7

古代中国·优秀传统文化	
著作篇	A.《论语》 B.《资治通鉴》 C.《窦娥冤》 D.《三国演义》
建筑篇	 <p style="text-align: center;">八达岭长城</p>  <p style="text-align: center;">隋朝大运河示意图</p>
科技篇	在源远流长、辉煌灿烂的中华优秀传统文化中，古代科学技术对中华文明和人类文明作出了重要的贡献，产生了深远的影响。在相当长的历史时期内，我国古代科技处于世界领先水平，其中，知名度最高的当数四大发明。
传承篇	<p>习近平总书记指出：“中华文化延续着我们国家和民族的精神血脉，既需要薪火相传、代代守护，也需要与时俱进、推陈出新。”曾经火爆电视荧屏的《中国诗词大会》《经典咏流传》《如果国宝会说话》等，之所以受到人们特别是年轻人的追捧，就是因为实现了传播手段的创新，让传统文化变得时尚前卫，成为具有较强吸引力和活力的“潮”品。</p> <p style="text-align: right;">——张凤莲《挖掘中华优秀传统文化的宝藏》</p>

分)



都江堰



(1) 请按照示例，将“著作篇”中的书目进行归类，放入相应板块。(3分)

示例：板块一“儒学经典”：A； 板块二“小说佳作”：\_\_\_\_\_；

板块三“史学巨著”：\_\_\_\_\_； 板块四“戏曲名篇”：\_\_\_\_\_。

(2) 如果为“建筑篇”中的建筑申请世界物质文化遗产，请任选其中一个并陈述入选的理由。(多选多答只评第一个)(2分)

(3) 写出“科技篇”中提到的“四大发明”中的一项发明。通过“传承篇”的叙述，谈谈当代青年学生如何弘扬和传承中华优秀传统文化。(2分)

17. 红色文化蕴含着丰富的革命精神和厚重的历史内涵。根据图文信息，完成相关问题。(10分)

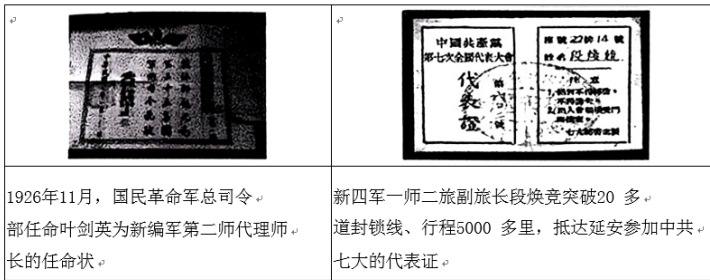
【红色文化·人】

(1) 下面人物为中国共产党的成立作出了样的贡献?(2分)



【红色文化·物】

(2) 写出下面文物对应的历史时期，并简述这两个时期国共两党合作正式建立的标志。(4分)



【红色文化·事】

秋收起义后，毛泽东率部队到达井冈山，开展土地革命，进行武装斗争，努力发展生产，最终探索出一条正确革命道路，指引中国革命取得最终胜利。

——摘编自《中国共产党的七十年》

(3) 材料中的“指引中国革命取得最终胜利”的正确革命道路是什么道路?(2分)

【红色文化·魂】

陈树湘，湖南长沙人，红三十四师师长。湘江战役中，担负掩护任务的红三十四师已不足1000人，成为一支身陷重围、无法过江的孤军。面对十几倍于己的强敌，师长陈树湘一身是胆、毫无惧色。他率领全师战士奋力抵抗，用血肉之躯筑起一道“城墙”，与敌人鏖战四天五夜，为红军渡过湘江赢得了宝贵时间。伤重被俘后，敌人将他抬去邀功途中，他醒了过来，自己绞断肠子，壮烈牺牲。	董存瑞，河北怀来人，1945年7月参加八路军，不久加入中国共产党。1948年5月25日，他参加隆化战斗，被选为爆破组长，率全班连续炸掉4座炮楼、5座碉堡，随即发起冲锋，突然遭到一座桥型暗堡中的机枪猛烈火力的封锁，部队突击受阻。他抱着炸药包冲到桥下，发现无处安置炸药，而总攻时间已到，于是毅然托起炸药包抵住桥身炸毁暗堡，壮烈牺牲，以自己的生命为部队开辟了前进道路。
--	---

(4) 写出上面两个红色故事中的人物体现出的革命精神。(2分)

18. 讲好中国故事，感悟中国力量。阅读下列材料，回答问题。(10分)

【开天辟地·救国】


材料一

一大开过了，似乎什么也没有发生，连报纸上也没有一点报道。但是，中国的伟大事变在实质上却开始了。

——党史专家胡乔木

(1) 根据材料一并结合所学知识回答，中共一大确定的党的中心工作是什么?(2分)

### 【改天换地·兴国】

	材料二 1956年，我国基本上完成了对农业、手工业和资本主义工商业在生产资料私有制方面的社会主义改造……七万户的私营工业企业已经变为公私合营企业……这是把几千年来生产资料私有制变为公有制的社会主义大革命。
开国大典	——周恩来《国务院政府工作报告》(1957年6月26日)

(2) 根据上面图片，结合所学知识回答“改天换地”的真实内涵。(2分)材料二中的“社会主义大革命”在当时对推动我国社会发展有何作用?(2分)

### 【翻天覆地·富国】

材料三 从今以后，只要不发生大规模的外敌入侵，现代化建设就是全党的中心工作。其他工作包括党的政治工作，都是围绕着这个中心工作，并为这个中心工作服务的；不能再搞任何离开这个中心工作，损害现代化建设的“政治运动”和“阶级斗争”了。

——《人民日报》1978年12月25日的社论

(3) 材料三中这一认识与哪一会议决议有关?(2分)举例说明该会议召开后贯彻落实“这个中心工作”采取的重大举措。(2分)

19. 某中学的同学们以“合作与冲突”为主题，展开项目化学习，下面是各小组承担的不同任务，请你参与完成。(13分)

#### 任务一 【解读图片——感受制度变迁】

(1) 一组同学收集了下面两幅历史场景图片，见证了不同国家制度更迭的重大历史时刻。请分别写出两幅图片反映的历史事件及其作用。(4分)



图1 威廉和玛丽加冕



图2 路易十六被处死

#### 任务二 【释读史料——见证政策调整】

材料一	材料二
-----	-----

<p>经历了数年战争的苏维埃俄国，满目疮痍，经济异常困难，社会矛盾加剧。列宁在调查后认为，只有改变战时共产主义政策，才能恢复和发展生产。</p> <p>——摘编自部编版《世界历史》九年级下册</p>	<p>我们最重大的首要任务，是使人民有工作可做。如果我们聪明而勇敢地予以对待，就没有解决不了的问题。由政府本身直接募工，可以部分地完成这一任务，政府对待这项任务就像对待战争的紧急状态一样。</p> <p>——1933年3月4日罗斯福就职演说</p>
---	--

(2) 针对材料一和材料二中的问题，两国政府分别采取了什么对策?产生的共同作用是什么?(3分)

**任务三 【阐述史事——感悟国际关系】**

(3) 从下面两个主题中任选其一，写一篇小论文。(要求：可以从相应主题下面的关键词中任选三个论证观点，要求运用史实，史论结合，条理清楚)(6分)

主题一：合作实现共赢

《联合国宣言》 万隆会议 欧共体 世界贸易组织 人类命运共同体

主题二：冲突威胁安全

萨拉热窝刺杀事件 偷袭珍珠港 杜鲁门主义 柏林危机 北约轰炸南联盟

**历史(卷一)参考答案**

1. B 【解析】根据人物名片主要内容并结合所学知识可知，老子是春秋时期道家学派的创始人，在政治上主张“无为而治”。故选 B。
2. A 【解析】本题考查汉武帝巩固大一统的措施。分析材料并结合所学知识可知，“针对‘精神空间’的整合与凝聚”指的是加强思想的控制，汉武帝接受“罢黜百家，尊崇儒术”建议和兴办太学都是加强思想控制的措施。A项符合题意。
3. C 【解析】依据材料“礼闈新榜动长安，九陌人人走马看”并结合所学知识可知，材料描述的是科举考试完放榜的情况，与科举制有关，C项正确。
4. C 【解析】根据材料“第十二讲 明帝国的专制政治”并结合所学知识可知，明朝设立锦衣卫、东厂的“厂卫”机构，监视官民，成为皇帝的耳目、爪牙，加强了明帝国的专制统治。故选 C。
5. C 【解析】依据材料并结合所学知识可知，示意图反映的是中国古代对新疆地区的管辖。康熙时期，天山北路的蒙古族准噶尔部首领噶尔丹发动叛乱，为维护国家的统一，康熙帝打败噶尔丹，平定了准噶尔部叛乱。故选 C。
6. B 【解析】本题主要考查什么是历史事实，什么是历史解释。注意掌握区别历史事实和历史解释的方法。A、C、D 三项是对当时的历史事件的客观描述，反映的是历史的真实情况，属于历史事实；B 项是对鸦片战争的看法，属于历史解释。故选 B。
7. A 【解析】依据题干的“浴火重生，新型人民军队在这里定型”和图中会址“古田会议永放光芒”的标语，结合所学知识可知，古田会议确立了思想建党、政治建军的原则，故选 A。
8. B 【解析】结合试题图片可知，1950年颁布的《中华人民共和国土地改革法》是百年农政的光辉历程中的重要一步，它规定废除地主阶级封建剥削的土地所有制，实行农民的土地所有制。故选 B。

9. D 【解析】根据所学知识可知，改革开放后，在 1987 年召开的中共十三大上提出了“三步走”发展战略。1992 年，邓小平在南方视察中提出了“发展才是硬道理”；在 1992 年召开的中共十四大上提出了要建立社会主义市场经济体制；在中共十七大上，胡锦涛提出推动科学发展，促进社会和谐。因此，材料体现了在改革开放的伟大实践和接力探索中，中国共产党开辟出的中国特色社会主义道路。故选 D。

10. A 【解析】根据所学知识可知，“封君封臣制、庄园生活、基督教传播、城市与大学兴起”属于中世纪西欧在政治、经济、思想、文化领域发生的变化。故选 A。

11. A

12. A 【解析】根据题干可知，图片中“宣读”的法律文献涉及俄国的废除农奴制法令和美国的《解放黑人奴隶宣言》，它们的共同之处是促进了资本主义发展。故选 A。

13. C 【解析】本题考查亚非拉民族民主运动。注意掌握相关的基础知识。印度非暴力不合作运动的领导者是甘地。故选 C。

14. B 【解析】依据示意图可知，这个时间轴(部分)的主题是社会主义发展史，其中②对应的时间是 1917 年，该时间节点在社会主义发展史中的显著特征是“理想到现实”，联系所学知识，十月革命胜利后，建立了世界上第一个无产阶级专政的国家，社会主义由理想变成现实。故选 B。

15. B 【解析】根据图示可知，欧盟的旗帜和 100 欧元纸币反映了欧洲一体化的发展历程。欧盟的成立和欧元的诞生，强化了欧洲各国之间的政治经济关系，增强了欧盟对外的竞争力，提高了国际地位。故选 B。

16. (1) 板块二 “小说佳作”：D

板块三 “史学巨著”：B

板块四 “戏曲名篇”：C

(2) 都江堰：都江堰是一座综合性的水利枢纽，使堤防、分洪、排沙、控流等功效合成为一个系统，发挥出防洪、灌溉、水运等多方面的作用。建成之后，成都平原成为沃野，被称为“天府之国”。2200 多年来，都江堰一直发挥着巨大的作用，这在世界水利史上绝无仅有，充分反映出我国人民的智慧。

隋朝大运河：大运河以洛阳为中心，北抵涿郡，南至余杭，全长 2700 多千米；大运河的开通，加强了南北地区政治、经济和文化交流。

八达岭长城：明长城东起鸭绿江边、西至嘉峪关。明代修筑长城的规模最大，历时最久，布局更合理，技术更先进，设施更为完善，工程质量更为优异，它被视为中华民族精神的象征。

(3) 造纸术、活字印刷术、指南针、火药。(写出一项即可)应该多学习传统文化知识，推陈出新，增加自身传统文化底蕴，传承和弘扬中华民族精神等。(言之有理即可)

17. (1) 宣传马克思主义，建立共产党早期组织，为中国共产党的成立奠定了思想基础和组织条件。

(2) 从左到右：国民革命(或大革命)时期；抗日战争时期。标志：1924 年 1 月，国民党一大的召开；1937 年 9 月，国民党中央通讯社公开发表了中共中央提交的国共合作宣言，蒋介石发表谈话，实际上承认了中国共产党在全国的合法地位。

(3) 农村包围城市、武装夺取政权的革命道路。



(4)有坚定的革命理想信念，不怕任何艰难险阻，敢于牺牲的精神；顾全大局、严守纪律、紧密团结的精神；一切为祖国和人民的精神等。（答出一点即可，其他答案只要符合题意要求，表述正确即可）

18. (1)领导和组织工人运动。

(2)中国真正成为独立自主的国家，中国人从此站立起来了。三大改造的基本完成，使中国实现了从生产资料私有制向社会主义公有制的转变。社会主义基本制度在我国建立起来，我国从此进入社会主义初级阶段。

(3)中共十一届三中全会。实行改革开放；推行家庭联产承包责任制；进行城市经济体制改革；建立经济特区等。（答出一点即可，其他答案只要符合题目要求，表述正确即可）

19. (1)“光荣革命”。有利于君主立宪制逐渐形成。法国大革命。摧毁了法国的君主统治。

(2)苏俄政府实行新经济政策，美国政府实行新政。缓解了危机，有利于经济的复苏和发展。

(3)[示例]

合作实现共赢

20世纪以来的国际关系错综复杂，面对各种危机与挑战，人类需要加强合作，实现共赢。第二次世界大战中，面对法西斯国家的大肆侵略，1942年，26个国家召开了华盛顿会议，签署了《联合国家宣言》，世界反法西斯同盟正式形成，为反法西斯战争胜利奠定了基础。二战后，民族解放运动空前高涨，亚非新独立的国家都面临巩固政权、发展经济的共同问题，1955年，在万隆召开了第一次亚非会议，周恩来在会上提出了“求同存异”的方针，促进了会议的圆满成功，也促进了中国同亚非各国的团结与合作，从此，发展中国家作为一支新兴独立的政治力量登上了国际舞台。二战后，西欧国家为振兴经济，并在美苏两极对抗中提高自己的国际地位，逐步走上了联合之路，1967年成立了欧共体，成员国间加强经济合作，并努力用一个声音在国际舞台上说话，促进了西欧国家经济的发展和国际地位的提高。人类命运休戚与共，面对发展过程中的危机与挑战，需要全世界共同努力，合作应对，从而促进互利共赢。

（评分说明：围绕主题，文章结构完整，层次分明，逻辑关系清晰，观点论述与其中3个事件及其影响建立联系，并紧扣文章主题进行解释和扩展可得6分。之后逐条减分）

## 2024 年中考历史预测模拟试卷 2

### 第一部分 选择题(共 30 分)

本部分共包括 15 小题，每小题 2 分。下列每小题只有一个最符合题目要求的选项。

1. 右图利簋是已发现的最早的西周青铜器之一。腹内铭文记述了周武王在牧野伐纣的时间，其重要的史料价值在于（ ）

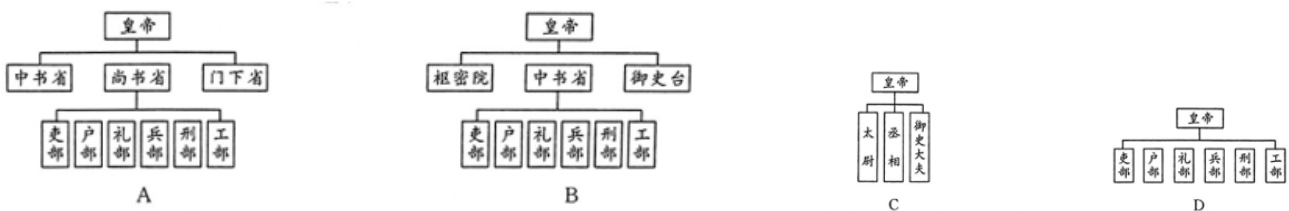
- A. 制作者是利
- B. 出土于陕西临潼
- C. 是一件祭祀用的青铜器
- D. 铭文内容证实了武王征商的历史



2. 战国时期各家学派的代表人物提出各自的政治主张和治国方略，希望用自己的学说解决社会问题。“要选贤能的人治理国家，提倡节俭”和“民为贵，社稷次之，君为轻”两个学术思想分别是哪个学派的（ ）

- A. 法家、道家
- B. 墨家、儒家
- C. 道家、儒家
- D. 墨家、法家

3. 秦始皇创立的君主专制中央集权政治制度，为汉朝以后历代中国封建王朝所承袭，奠定了我国统一的多民族国家的基础。以下属于秦朝的中央机构示意图的是（ ）



4. 依靠可信史料认识历史是学习历史应具备的重要能力。研究“淝水之战”可信度最高的材料是（ ）

- A. 淝水之战古战场遗址
- B. 《史记》
- C. “草木皆兵”的历史典故
- D. 大型舞台剧《淝水之战》

5. 唐朝妇女的处境开放自由，不似其他朝代受传统礼教的束缚。唐朝妇女不从属于男子，有单独公开的社交活动。民间妇女还有结社活动。敦煌所出文书中有不少立社条件、社约、入社和退社状等。这些现象都体现出唐朝（ ）



- A. 开放的社会风气                      B. 开明的民族政策                      C. 多彩的文学艺术                      D. 频繁的中外交流

6. 两宋时期，周边民族建立政权。对以下表格内容解读正确的是（ ）

民族	政权	重大事件
契丹	辽	澶渊之盟
党项	西夏	订立宋夏和约
女真	金	设立“榷场”

- A. 早期国家与社会变革                      B. 繁荣与开放的时代  
C. 民族政权并立和民族关系发展                      D. 统一多民族国家的巩固与发展

7. 中国古代科技取得突出成就，出现了一批具有代表性的著作。我们要了解明代手工业生产技术，需要查阅的科技著作是（ ）



- A 《本草纲目》                      B 《天工开物》                      C 《齐民要术》                      D 《梦溪笔谈》

8. 下列内容出自（ ）


凡分田照人口，不论男妇。算其家口多寡，人多则分多，人寡则分寡，杂以九等……凡天下田，天下人同耕，此处不足则迁彼处，彼处不足则迁此处。凡天下田，丰荒相通，此处荒，则移彼丰处以赈此荒处，彼处荒，则移此丰处以赈彼荒处。

- A. 《天朝田亩制度》                      B. 《资政新篇》                      C. 《明定国是》                      D. 《中国土地法大纲》

9. 历史解释是指以史料为依据，对历史事物进行理性分析和客观评判。下列属于历史解释的是（ ）

- A. 1911年10月，武昌城内新军工程营的革命党人首先起义，革命取得胜利  
B. “宋案”发生后，孙中山和黄兴等号召南方各省进行反袁，发动“二次革命”  
C. 孙中山联合兴中会、华兴会等革命团体的成员，在日本东京成立了中国同盟会  
D. 辛亥革命极大推动了中华民族的思想解放，打开了中国进步潮流的闸门

10. 下列图示介绍了张謇弃官从商的早期奋斗历程，由此体现了他的思想主张是（ ）



- A. 实业救国                      B. 民主共和                      C. 民主与科学                      D. 变法图强

11. 下列改革反映了（ ）

A. 希腊城邦的特点是“小国寡民”

B. 雅典民主政治发展的过程

C. 古代希腊在文化上取得辉煌成就

D. 雅典采取津贴制度，保证贫穷公民参政

公元前594年	梭伦改革
公元前509年	克利斯提尼改革
公元前5世纪中后期	伯里克利改革

12. 美国东方学家希提在《阿拉伯通史》中写道：“从来没有一位新宗教的传播者，作为他那个时代和民族的宗教领袖，像穆罕默德那样完美。”这里的“新宗教”指（ ）

- A. 佛教                      B. 基督教                      C. 道教                      D. 伊斯兰教

13. 一项帝国法令在日本宣布：“我们废藩，并置县以代之。”改革者沿用西方模式重新修订刑法。与这段材料相关的历史事件是（ ）

- A. 大化改新                      B. 1861 年改革                      C. 明治维新                      D. 戊戌变法

14. “旅行者号”机车(见下图)的发明，为人们的生产和生活带来了极大便利，同时，它给人类带来的消极影响是（ ）

- A. 形成东方落后的局面                      B. 人口激增                      C. 确立了资本主义                      D. 环境污染



15. 某同学对学过的知识进行梳理，据此判断，他复习的主题是（ ）






1688 年 英国发生政变——“光荣革命”
1776 年 大陆会议通过《独立宣言》
1783 年 英国被迫承认美国独立
1799 年 拿破仑·波拿巴发动政变，组成新政府

- A. 资本主义的萌芽                      B. 资本主义生产方式的确立  
C. 资本主义制度的初步确立                      D. 资本主义制度的扩展

### 第二部分 非选择题(共 40 分)

本部分共包括 4 小题。

16. 图片资料是我们了解历史的重要来源。请根据下列图片，回答问题。(10 分)

组 图 一	 <p>a.张骞拜别汉武帝出使西域图(敦煌壁画)</p>	 <p>b.玄奘西行求法(邮票)</p>	 <p>c.郑和像</p>
组 图 二	 <p>图 1 中国人民解放军驻港部队接管香港防务，受到香港人民的热烈欢迎</p>	 <p>图 2 澳门人民欢庆回归祖国</p>	

(1) 请你从组图一中选取一位历史人物，谈谈他的贡献及从其身上感受到的优秀品质。(4分)


(2) 请为组图一确定一个主题。(1分)

(3) 根据组图二指出香港、澳门回归分别是在哪一年。(2分) 明朝时哪一国家攫取了澳门的居住权?(1分)

(4) 组图二中这两个地区，目前实行的是什么政策?该政策是谁提出来的?(2分)

17. 请你运用不同的学习方法，完成下面任务。(10分)

【任务一：整理笔记】



(1) 请从下面提供的学习内容中选取四个，参照笔记一完成笔记一。(5分)

中法战争、重庆谈判、南京国民政府的建立、列强瓜分中国狂潮、《马关条约》的签订、解放区的土地改革、抗击八国联军、北伐战争、辽沈战役、南昌起义、中国工农红军长征、渡江战役

【任务二：整理表格】

时间	事件名称	意义
1937年9月	①	是全民族抗战爆发后中国军队主动对日作战取得的第一个重大胜利，粉碎了日军“不可战胜”的神话
1938年3月	台儿庄战役	③
1940年8月至次年1月	②	有力打击了日军的侵略气焰，提高了共产党和八路军的威望，振奋了全国军民争取抗战胜利的信心

(2) 根据所学知识完成表格中空白的部分。(①②各1分，有错别字不给分，③2分，共4分)

① \_\_\_\_\_ ② \_\_\_\_\_

③ \_\_\_\_\_

(3) 请结合所学知识，写出中国人民抗日战争开始的标志性事件。(1分)

18. 探寻经济发展规律，努力改善民生。阅读材料，回答问题。(10分)

材料一 司马迁说，商鞅变法后，“秦人富强，天子致昨于孝公，诸侯毕贺”。商鞅变法带给秦国的除政权的巩固和经济发展外，还有那支虎狼般勇猛和残忍的军队，因为杀敌立功、斩敌首级就意味着能够得到奖赏和晋爵，对普通百姓来说，至少也应该可以摆脱贫困。

——摘编自《看得见的中国史》

以上内容仅为本文档的试下载部分，为可阅读页数的一半内容。如要下载或阅读全文，请访问：<https://d.book118.com/617064060054006113>