

(拔高卷) 第五单元 数据处理 拔高卷--2024年六年级上册数学 (北师大版)

保密★启用前

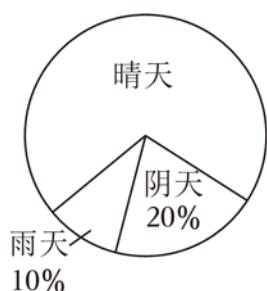
第五单元 数据处理 拔高卷

注意事项:

1. 答题前, 填写好自己的姓名、班级、考号等信息, 请写在答题卡规定的位置上。
2. 所有题目必须在答题卡上作答, 在试卷上作答无效。
3. 考试结束后将试卷和答题卡一并交回。

一. 填空题 (满分 20 分, 每小题 2 分)


1. (2 分) 佳佳调查她所在地区 4 月份的天气情况, 并分为晴天、阴天和雨天三类, 制成了扇形统计图 (如图)。晴天占这个月总天数的 _____%, 晴天有 _____天。



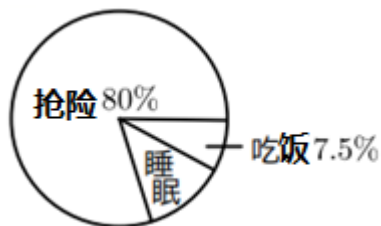
2. (2 分) 要反映 2021 年我国人口中每 10 万人受教育程度人数分布情况, 最好选用 _____统计图。要反映 2000 年至 2021 年我国人口中每 10 万人受教育程度为大学的人数变化情况, 最好选用 _____统计图。

3. (2 分) 人离不开水, 成年人每天体内 47% 的水靠喝水获得, 39% 来自食物所含的水, 14% 来自体内氧化时释放出来的水。以上调查结果用 _____统计图比较合适。


4. (2 分) 如图是“618”购物节期间, 某商场的空调线上销售情况, 其中 A 品牌销售了 560 台, 那么销售量最大的 C 品牌销售了 _____台。



5. (2 分) 九寨沟发生地震后, 解放军张叔叔随部队第一时间到达灾区, 他每天的时间分布如图所示, 张叔叔每天睡眠的时间约为 _____小时。

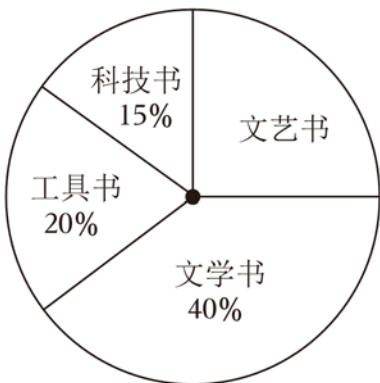


6. (2分) 如图是某电台“市民热线”栏目对上月热线电话统计后制作的扇形图，其中有关教育卫生的热线电话有60个，则有关环境保护的热线电话有 ____ 个。



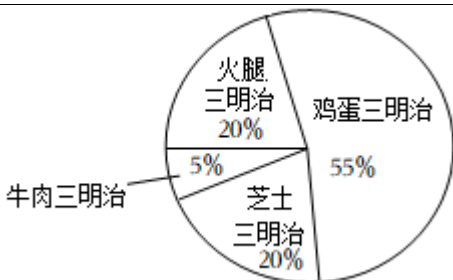
7. (2分) 如图为学校图书馆新进的一批图书的统计图。

- (1) 文艺书占这批图书总数的 ____ %。
- (2) 如果科技书有60本。这批图书共有 ____ 本。



8. (2分) 某便利店一天共销售各种三明治40个(具体百分比如图)，当天该店 ____ 三明治的销售总额最高，最高销售总额是 ____ 元。

类别	单价(元/个)
火腿三明治	10
牛肉三明治	24
芝士三明治	12
鸡蛋三明治	6



9. (2分) 六(1)班40名同学每人捐一本书建立班级图书角，捐书情况如图。其中科普书有

以上内容仅为本文档的试下载部分，为可阅读页数的一半内容。如要下载或阅读全文，请访问：<https://d.book118.com/618002073133007000>