

小学三年级数学应用题 50 道

一. 解答题(共 50 题, 共 313 分)

1. 星期六上午, 小明要做的事有: 去超市买东西、书店买书、医院看望奶奶。



① 写出小明两种行走路线。

② 计算一下最近的路线是多少米?

2. 买一个电饭煲和一台洗衣机一共花多少元?



296元

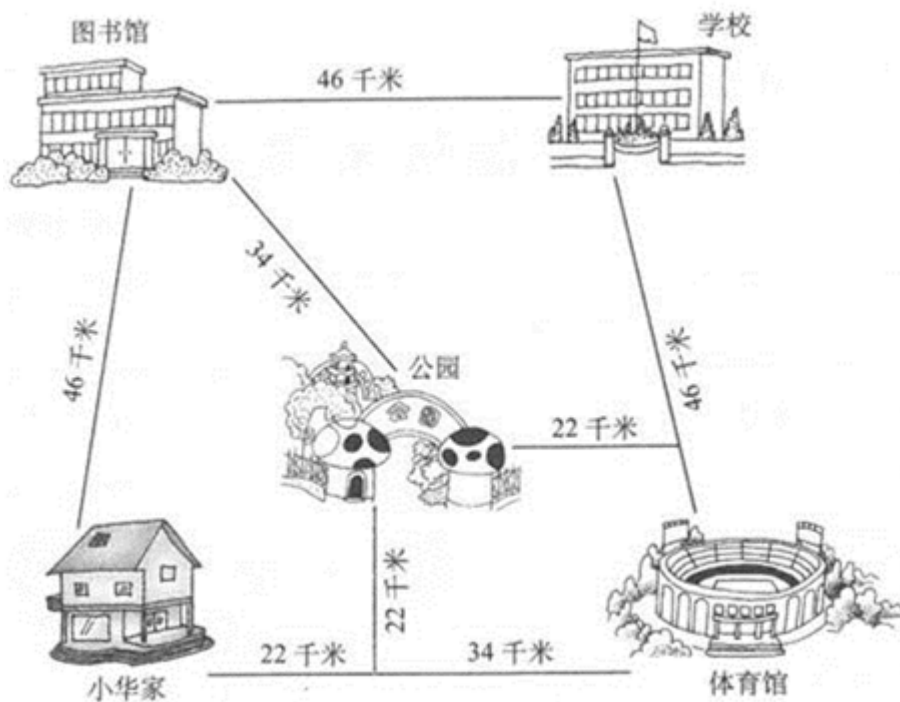


649元



527元

3. 看下图回答。



(1) 小华从家到体育馆比从学校到体育馆远多少千米?

(2) 小华从家到学校, 走哪条路最近? 是多少千米? 请在图上把它标出来。



玩具熊: 32 元

小汽车: 8 元

花皮球: ? 元

(1) 玩具熊的价钱是小汽车的几倍?

(2) 花皮球的价钱是小汽车的 3 倍, 花皮球有多少元?

5. 下面是文化小学冬游时间安排表。

时间	活动项目
8: 30	全体同学到校集合
8: 30-9: 00	乘车到郊野公园
9: 00-10: 10	登山比赛
10: 10-10: 40	休息
10: 40-11: 50	小队游戏
11: 50-12: 30	午饭时间
12: 30-下午1: 40	各小队自由活动
下午1: 40-下午2: 00	各班总结冬游活动
下午2: 00-下午2: 30	乘车返回学校

(1) 从学校乘车到郊野公园用了多长时间?

(2) 登山比赛用了多长时间?

(3) 同学们在郊野公园待了多长时间?



329 元/个



272 元/个



198 元/个

(1) 张阿姨三种球各买一个，共花多少元?

(2) 李阿姨有 1000 元，， 买一个篮球和一个足球，还剩多少元?

(3) 你还能提什么数学问题，并解答。

7. 看图回答。



(1) 今年妈妈的年龄是小红的几倍？

(2) 去年妈妈的年龄是小红的几倍？

8. 买电器。

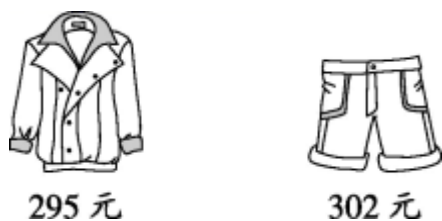


(1) 妈妈买一部手机和一部电话，共需支付多少元？

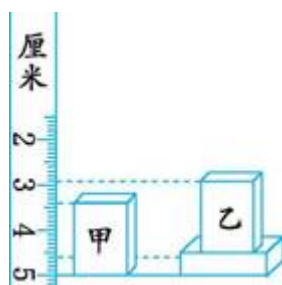
(2) 一台电视比一个电饭煲贵多少元？

(3) 用 1000 元可以购买哪些商品，还剩多少元钱？

9. 买一件上衣和一条裤子大约需要多少元？



10. 先判断甲、乙两个长方体哪个高一些,再观察厘米尺上的刻度,计算甲、乙两个长方体的高各为多少毫米?



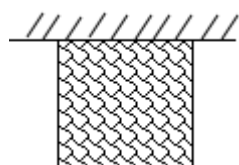
11. 光明小学作息时间表(上午)如下:

7:50	8:00—8:10	8:20—9:00	9:10—9:50	10:00—10:30	……
到校	早操	第一节课	第二节课	课间操	

(1) 做课间操用多长时间?

(2) 如果你在这所学校上学,从家到学校要走15分钟。为了保证不迟到,你最晚什么时候从家里出发?

12. 如图所示,李大伯有一块正方形菜地,菜地有一面靠墙,用24米长的篱笆正好将菜地围起来,菜地的边长是多少?



13.



鸡 480 只

鸭 159 只

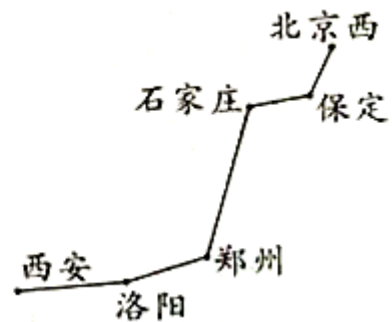
鹅 207 只

(1) 鸡和鸭一共有多少只？

(2) 鹅比鸡少多少只？

14. 下面是北京西站至各大火车站的里程表。

	里程(千米)
北京西—保定	146
北京西—石家庄	281
北京西—郑州	689
北京西—洛阳	813
北京西—西安	1200



(1) 石家庄到郑州有多少千米？

(2) 郑州到洛阳比洛阳到西安近多少千米？

15.



418元



206元

估一估：我有 650 元钱，够买这两样玩具吗？

16. 城南小学为贫困山区儿童捐书。



(1) 二年级捐书多少本?

(2) 一年级捐书多少本?

17. 看图回答



3000元

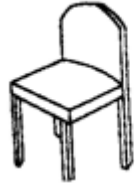


比摩托车便宜2600元

(1) 一辆自行车多少元?

(2) 一辆摩托车和一辆自行车一共要多少元?

18. 购物。



128 元

62 元

456 元

278 元

273 元

(1) 买一条裤子和一件上衣共花多少钱？

(2) 一部电话比一个凳子贵多少钱？

(3) 你还能提出什么问题？并列式计算。

19. 下面是明明星期天上午的时间安排表。

8: 00——9: 50	做作业
9: 50——10: 30	看书
10: 30——11: 10	看电视
11: 10——11: 40	玩游戏

(1) 明明看书用了多少时间？

(2) 明明 11: 00 在做什么？

(3) 你还能提出什么数学问题，并解答。

20. 小刚看的页数是小明的多少倍？



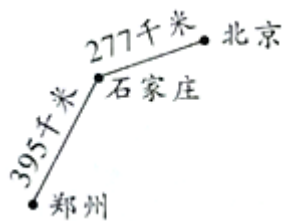
21. 乘车。



(1) 这6只动物能一起乘车吗？

(2) 哪些动物能一起乘坐这辆车？

22. “五一”期间，玲玲一家三口准备从郑州到北京旅游。你能帮玲玲算出从郑州到北京有多少千米吗？



23. 下面是实验小学去年物品的使用情况。

	扫帚	粉笔
上半年	364 把	483 盒
下半年	326 把	406 盒

(1) 去年用了多少盒粉笔？

(2) 去年上半年比下半年多用了多少把扫帚？

24.

			
滑梯	转椅	跷跷板	摇椅
605元	503元	293元	398元

(1) 买一副跷跷板和一个摇椅一共需要多少钱？

(2) 估一估，买一组滑梯和一组转椅一共需要多少钱？

(3) 红星幼儿园带了 800 元，买了两种器材后，还剩一些钱，你知道他们买的是哪两种器材吗？

25. 王老师和李老师周末带 24 名同学去划船。

小船	大船
限坐4人，租金24元	限坐6人，租金30元

(1) 如果全租大船，需要多少钱？

(2) 如果全租小船，需要多少钱？

26. 张老师要买一个书柜和一把单人沙发，1000 元够吗？

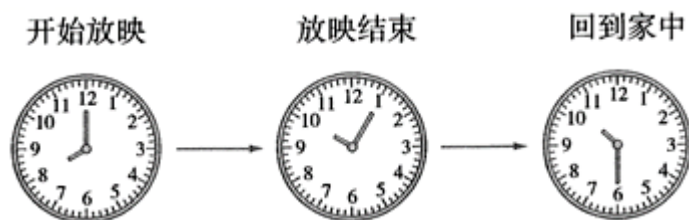


658元



325元

27. 周末，小丽跟妈妈去看电影。



(1) 电影放映了多长时间？

(2) 小丽看完电影回到家用了多长时间？

28. 一条彩带长 2 米，把它剪成长度一样的 5 段，每段长几分米？



29. 解决问题。

(1) 从 9:50 开始, 到 9:59 能录完吗?

以上内容仅为本文档的试下载部分, 为可阅读页数的一半内容。如要下载或阅读全文, 请访问:

<https://d.book118.com/627130143051006112>