

二〇二四年齐齐哈尔市初中学业考试

地理试卷

考生注意：

1. 全卷共两道大题，总分 100 分。

2. 使用答题卡的考生，请将答案填写在答题卡的指定位置。

一、选择题（每小题只有一个正确选项，每小题 2 分，共 40 分）

1. 地球是人类赖以生存的家园。这个家园的表面积约是（ ）

- A. 4 万平方千米 B. 6371 平方千米 C. 5.1 亿平方千米 D. 6137 平方千米

2. 2024 年夏季奥运会将于 7 月在法国首都巴黎举行，巴黎的经纬度大约是（49° N，2° E）。据此可推断出巴黎所处半球位置是（ ）

- A. 西半球、北半球 B. 东半球、南半球 C. 东半球、北半球 D. 西半球、南半球

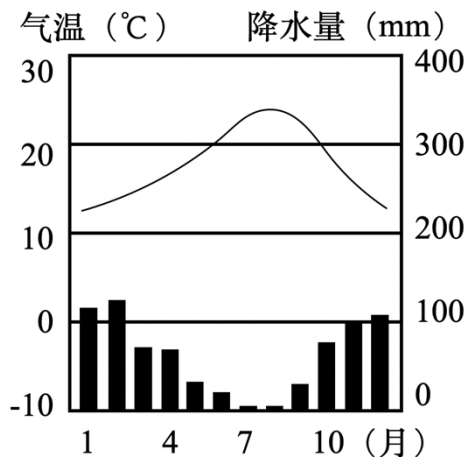
3. 我国科学工作者在喜马拉雅山考察时，发现岩石中含有鱼、海螺等海洋生物的化石，说明喜马拉雅山在地质时期是海洋。这种海陆变迁的主要原因是（ ）

- A. 地壳的变动 B. 海啸的作用 C. 人类的活动 D. 火山的喷发

4. 北京市某日天气预报：晴，气温 10℃-15℃，其中 15℃大概出现在一天中的（ ）

- A. 日出前后 B. 上午 10 时 C. 午后 2 时 D. 日落时分

5. 读某地气温曲线和降水量柱状图，总结此地的气候特点是（ ）



A. 夏季高温多雨，冬季温和少雨

B. 冬温夏凉，降水均匀

C. 冬季温和多雨，夏季炎热干燥

D. 全年高温多雨

6. 关于日本的叙述，正确的是（ ）

A. 气候复杂多样

B. 东西方兼容的文化

C. 地形以平原为主

D. 矿产资源丰富

7. 下列俄罗斯的工业部门中发展相对滞后的是（ ）

A. 钢铁工业

B. 军事工业

C. 航空航天工业

D. 消费品制造业

8. 中东是目前世界上输出石油最多的地区，波斯湾的石油外运航线 A 要绕行甲大洲南端的（ ）

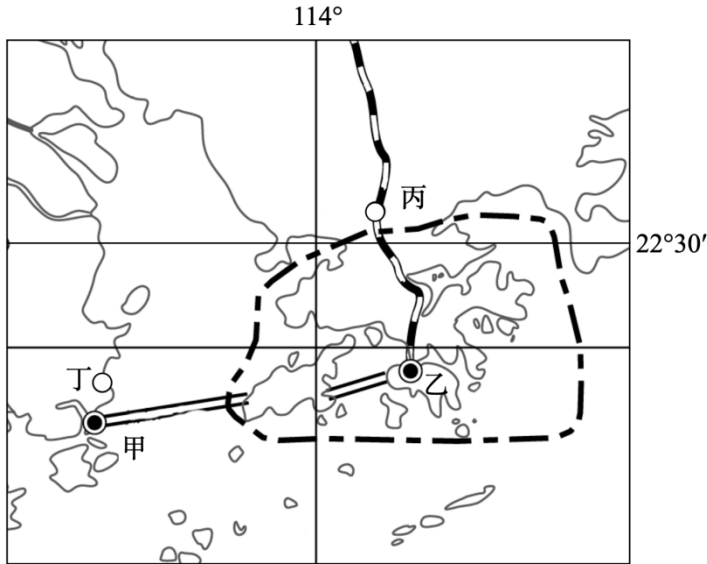
16. 北京中关村成为我国最大的高新技术产业开发区，其中最有利条件是（ ）

- A. 有众多的科技人才 B. 有便利的交通 C. 有众多的旅游资源 D. 有众多人口

17. 长江三角洲城市群的核心城市是（ ）

- A. 苏州 B. 杭州 C. 无锡 D. 上海

港澳回归以来，经济得到稳步发展，社会事业全面进步，对外交往更为活跃，为实现中华民族伟大复兴积极发挥着作用。完成下面小题。



18. 图中四个城市中，经济发展以博彩旅游业为支柱产业的是（ ）

- A. 甲 B. 乙 C. 丙 D. 丁

19. 港澳与祖国内地联系十分密切，在生产生活中主要由祖国内地供应港澳的是（ ）

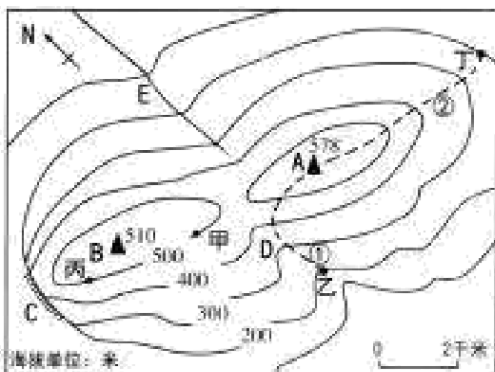
- A. 劳动力、管理 B. 信息、技术 C. 原料、资金 D. 燃料、淡水

20. 世界上最大的发展中国家是（ ）

- A. 巴西 B. 印度 C. 澳大利亚 D. 中国

二、非选择题（每空 1 分，共 60 分）

21. 读“某地等高线地形图”，回答问题。



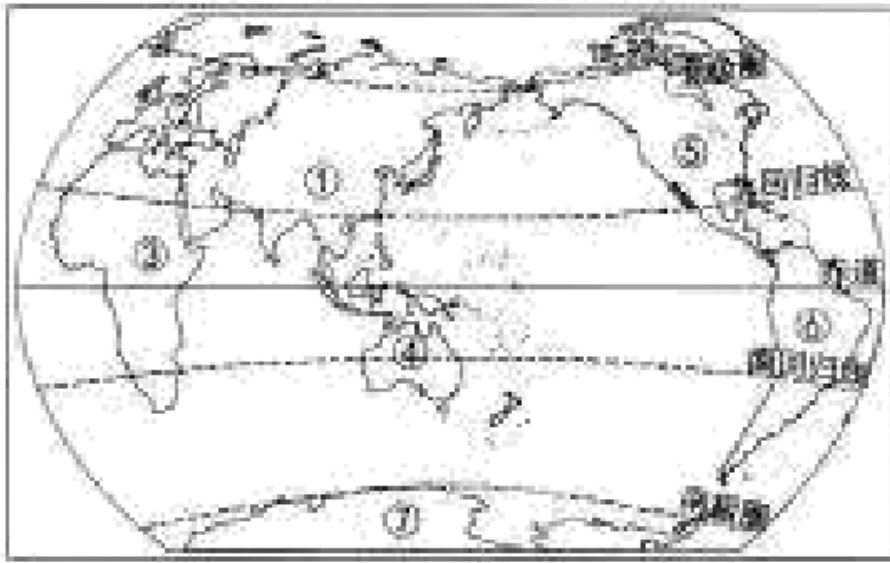
(1) 图中 A 山峰与 B 山峰的相对高度是____米。

(2) 写出字母所代表的地形部位的名称：C____D____。

(3) 图中河流 E 的大致流向是____。

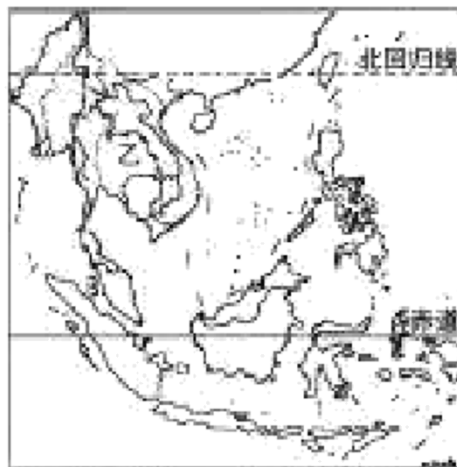
- (4) 通过测量，乙地气温是 9.8°C ，此刻甲地气温约是 $\underline{\hspace{2cm}}$ $^{\circ}\text{C}$ 。
- (5) 甲丙两地图上距离约是 1.5 厘米，则甲丙两地实地距离约是 $\underline{\hspace{2cm}}$ 米。
- (6) 从乙点和丁点出发，分别沿图中虚线①和②爬到 A 山峰，大多数人选择路线②的原因是： $\underline{\hspace{2cm}}$ 。

22. 我们的世界是由各具风采的大洲和大洋组成的。读“世界海陆分布图”，回答问题。



- (1) ⑤和⑥两大洲的分界线是 $\underline{\hspace{2cm}}$ 。
- (2) ②大洲的居民以 $\underline{\hspace{2cm}}$ 种人为主，
- (3) 世界上人口自然增长率最高的大洲是 $\underline{\hspace{2cm}}$ (填数字)。世界上纬度最高、跨经度最广的大洲是 $\underline{\hspace{2cm}}$ (填数字)
- (4) ④大洲居民主要使用的语言是 $\underline{\hspace{2cm}}$ 语。
- (5) 从发展水平看，①③⑥大洲中大部分国家属于 $\underline{\hspace{2cm}}$ 国家。
- (6) ①大洲气候复杂多样，其中 $\underline{\hspace{2cm}}$ 气候分布最广。该大洲河流众多，呈放射状流向周边海洋的主要原因是地势 $\underline{\hspace{2cm}}$ 。

23. 亚洲地域辽阔，每一个地区都有其独特的自然和人文特色。读“印度半岛图”和“东南亚地区图”，回答问题。



(一) 知位置晓概况

(1) 从北回归线与甲、乙两半岛相对位置可知，两半岛大部分都位于五带中的____带。

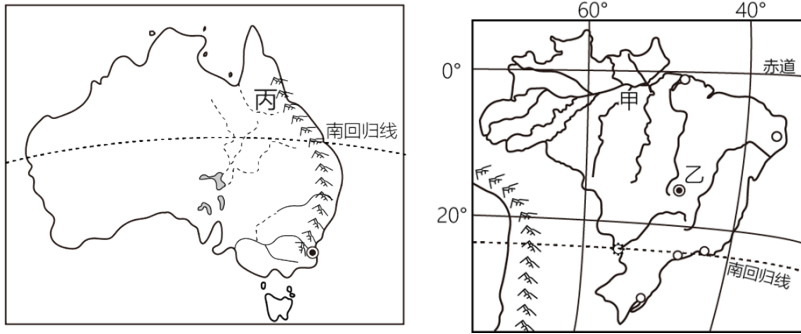
(2) 甲半岛西临 A____海。B____海峡是连接印度洋和____洋的重要海上通道。

(3) 乙是____半岛，半岛上山脉、大河大多由北向南延伸，具有____的特点。

(二) 明特点析原因

(4) 水稻是甲、乙两半岛的主要粮食作物，得利于两半岛均以____气候（气候类型）为主，水热条件优越。

24. 在不同国家之间比较分析，是整理知识的重要手段。读“澳大利亚图”和“巴西图”，回答问题。



(1) 甲是____平原，这里分布着世界上面积最大的____（植被），该植被具有巨大的环境效益和经济效益，受到世人关注。

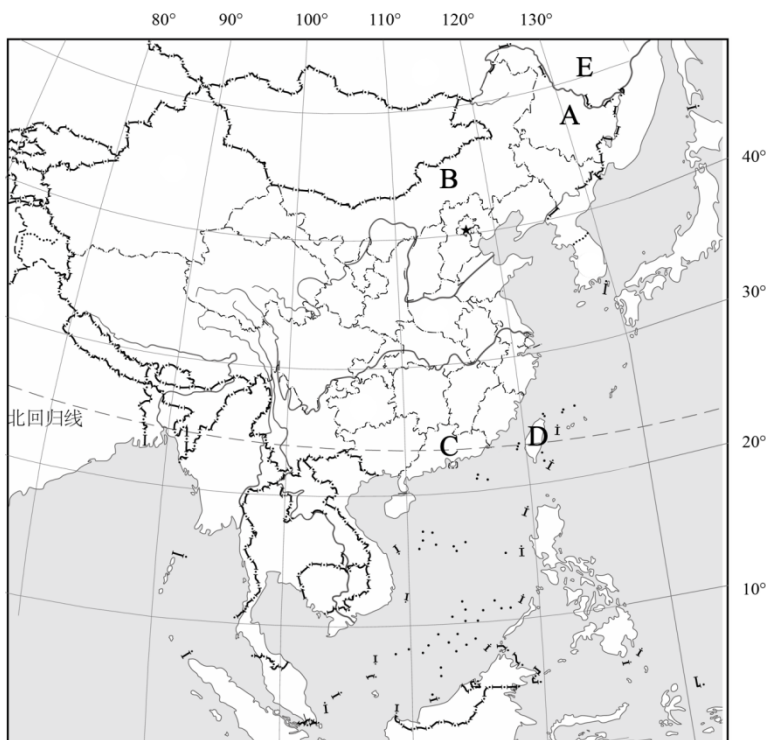
(2) 乙是巴西首都____，位于____高原。

(3) 丙是____（山脉）。

(4) 澳大利亚是世界上放养绵羊数量和出口羊毛最多的国家，因此被称为“____”。

(5) 一个国家要发展和进步，就要同其他国家开展合作和交流，相互取长补短，实现共同进步。巴西和澳大利亚两国之间的政治、经济商谈称为“____”。

25. 我们伟大的祖国，疆域辽阔，民族众多。在这片宽广的土地上，谱写了灿烂的时代篇章，读图回答问题。



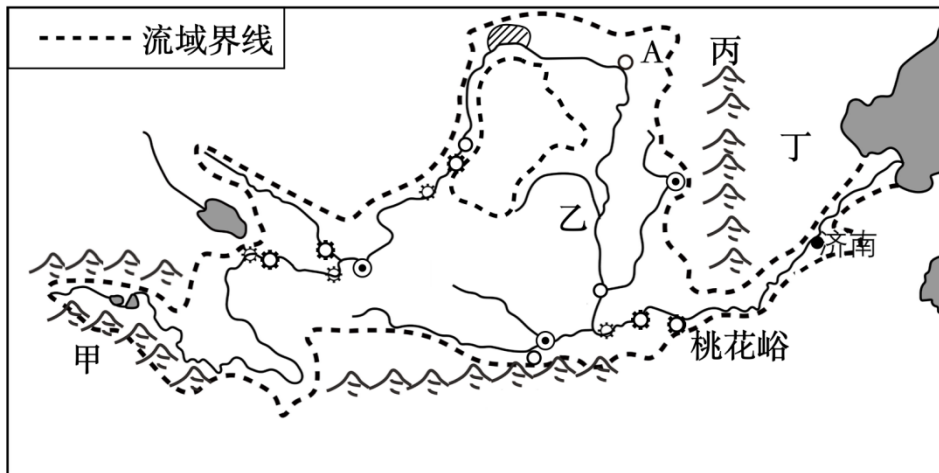
(1) 我国领土最北端所在的省级行政区域是____（填字母），邻国 E 是____。

(2) 主要聚居在 B 省级行政区域的少数民族是____族，其传统节日是____。

(3) D 是____岛，它和澎湖列岛、钓鱼岛等许多小岛都是祖国神圣不可分割的一部分。岛上的____山是我国东部最高峰。

(4) C 省级行政区域的简称是____，它所濒临的海洋是____海。

26. 河流是陆地与海洋的使者。读“黄河流域图”，回答问题。

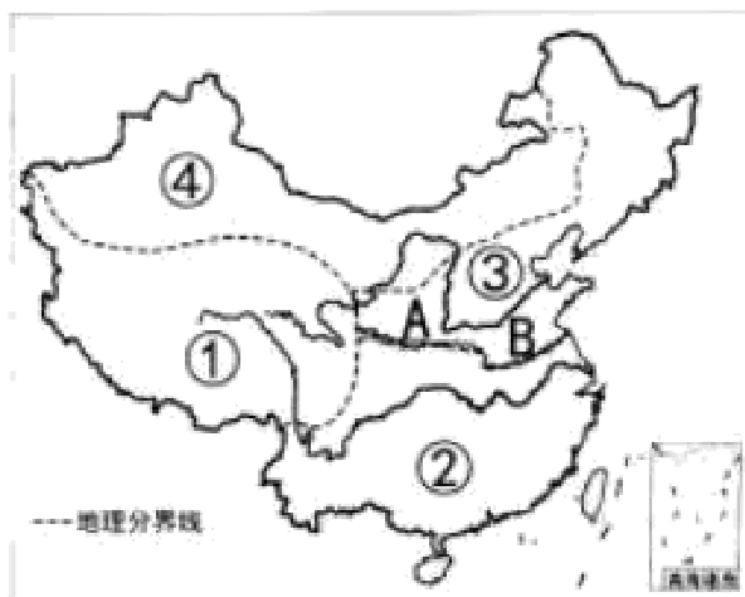


(1) 黄河发源于青藏高原上的甲____山。

(2) 黄河流经上、中游分界点 A____后，进入乙____高原。乙高原东起丙____山，在这里常见的传统民居是____。

(3) 黄河流经桃花峪后进入丁____平原，河道变宽，水流速度减慢，河水挟带的泥沙沉积下来，使河床逐渐抬高。人们被迫不断加高堤坝，黄河成为“____”。

27. 读我国“四大地理区域示意图”，回答问题。



(1) 诗句“北国风光，千里冰封，万里雪飘”是对我国区域____（填数字）冬季景观的真实写照。

(2) ①地区位于我国地势第____级阶梯，该地区被称为“高原之舟”的牲畜是____。

(3) ②、③地区的地理分界线大致与 A-B____-____一线接近。

(4) ②地区绝大部分位于我国温度带中的____带，主要耕地类型是____。

(5) ④地区是我国干旱面积最广的地区，试分析其形成的自然原因：_____。(答一条即可)

28. 东北三省积极发挥自身优势，迎来经济振兴。阅读材料回答问题。

材料一、东北三省是我国机械化程度最高，提供商品粮最多的粮食生产基地。2020年全国粮食稻谷总产量21186万吨，全国人均147.1千克。其中东北三省稻谷产量4008万吨，占全国18.9%，东北三省人均406.9千克，是全国人均粮食产量的2.76倍。

材料二、2024年元旦假期期间，黑龙江旅游人气火爆热度屡创新高。全省累计接待游客(昵称“小土豆”)661.9万人次，同比增长173.7%；旅游收入69.2亿元，同比增长364.7%。其中哈尔滨市累计接待游客304.7万人次，多项旅游数据突破历史之最，哈尔滨“冰雪大世界”大爆出圈。

材料三、“东北三省图”及“哈尔滨第25届冰雪大世界景观图”



(一) 辨地形说农业

(1) 由材料三中“东北三省图”可知，东北三省的山河大势是_____、_____。

(2) ①表示_____平原，农作物一年_____熟，这里曾经是沼泽遍地，人迹罕至的“北大荒”，现在是我国的“北大仓”。

(3) 由材料一可知，东北三省是我国机械化程度最高，提供商品粮最多的粮食生产基地。试分析其形成的自然原因是：_____。(答一条即可)

(二) 析交通谈发展

(4) 北京的游客乘火车到哈尔滨游“冰雪大世界”，需途经的铁路线A是_____线。

(5) 结合材料二及我们的冬季生活体验，从气候角度分析哈尔滨发展冰雪旅游项目的有利条件：_____。(答一条即可)

(6) 哈尔滨“冰雪大世界”火爆出圈，带动了全省的经济发展。请你为家乡齐齐哈尔增加知名度献策献计：_____。(答一条即可)

二〇二四年齐齐哈尔市初中学业考试

地理试卷

一、选择题（每小题只有一个正确选项，每小题 2 分，共 40 分）

1. 地球是人类赖以生存的家园。这个家园的表面积约是（ ）

- A. 4 万平方千米 B. 6371 平方千米 C. 5.1 亿平方千米 D. 6137 平方千米

【答案】C

【详解】地球的半径分为赤道半径和极半径，赤道半径为 6378 千米，极半径为 6356 千米，赤道半径略大于极半径，所以周长约为 4 万千米，表面积约为 5.1 亿平方千米，表面积不仅包括陆地还包括巨大的海洋，C 正确，ABD 排除，故选 C。

2. 2024 年夏季奥运会将于 7 月在法国首都巴黎举行，巴黎的经纬度大约是（ 49°N ， 2°E ）。据此可推断出巴黎所处半球位置是（ ）

- A. 西半球、北半球 B. 东半球、南半球 C. 东半球、北半球 D. 西半球、南半球

【答案】C

【详解】南北半球分界线为赤道，赤道以北的是北半球，赤道以南的是南半球。东西半球分界线为 160°E 与 20°W 围成的经线圈。 160°E 以东和 20°W 以西的范围为西半球， 160°E 以西和 20°W 以东的范围为东半球。巴黎的经纬度大约是（ 49°N ， 2°E ），可知，巴黎位于东半球、北半球；故选：C。

3. 我国科学工作者在喜马拉雅山考察时，发现岩石中含有鱼、海螺等海洋生物的化石，说明喜马拉雅山在地质时期是海洋。这种海陆变迁的主要原因是（ ）

- A. 地壳的变动 B. 海啸的作用 C. 人类的活动 D. 火山的喷发

【答案】A

【详解】海陆变迁的原因有地壳的变动、海平面的升降和人类活动。喜马拉雅山仍不停升高，且发现大量海洋生物化石说明这里曾经是海洋，使这一区域由原来的海洋变成高大的山脉的原因是地壳的变动。所以选 A。

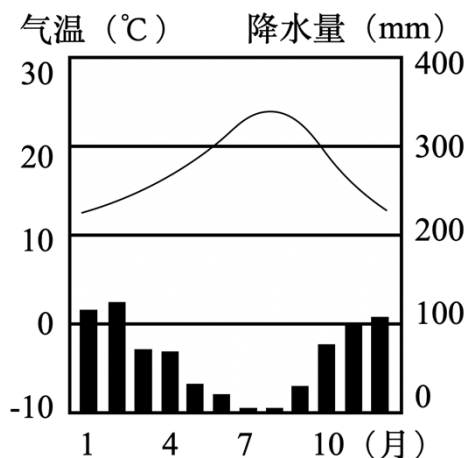
4. 北京市某日天气预报：晴，气温 10°C – 15°C ，其中 15°C 大概出现在一天中的（ ）

- A. 日出前后 B. 上午 10 时 C. 午后 2 时 D. 日落时分

【答案】C

【详解】根据所学知识可得，一般情况下，一天中气温最高值出现在午后 2 时左右，气温最低值出现在日出前后， 15°C 为该日气温最高值，因此，大概出现在午后 2 时；故排除 ABD 选项，故选 C。

5. 读某地气温曲线和降水量柱状图，总结此地的气候特点是（ ）



- A. 夏季高温多雨，冬季温和少雨
 B. 冬温夏凉，降水均匀
 C. 冬季温和多雨，夏季炎热干燥
 D. 全年高温多雨

【答案】C

【详解】读图可知，该地的气候特点是夏季炎热干燥，冬季温和湿润，为地中海气候；C符合题意。夏季高温多雨，冬季温和少雨属于亚热带季风气候的特点，A不符；冬温夏凉，降水均匀，属于温带海洋性气候，B不符；全年高温多雨是热带雨林气候的特点，D不符；ABD排除，故选C。

6. 关于日本的叙述，正确的是（ ）

- A. 气候复杂多样
 B. 东西方兼容的文化
 C. 地形以平原为主
 D. 矿产资源丰富

【答案】B

【详解】日本地形以山地、丘陵为主；矿产资源匮乏；文化东西方兼容；属于亚热带季风气候和温带季风气候，气候较为单一。综上所述，A、C、D三项说法错误，B说法正确，选B。

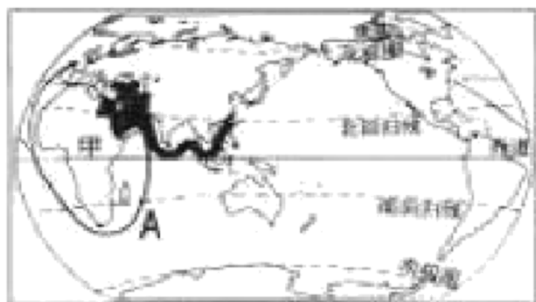
7. 下列俄罗斯的工业部门中发展相对滞后的是（ ）

- A. 钢铁工业
 B. 军事工业
 C. 航空航天工业
 D. 消费品制造业

【答案】D

【详解】俄罗斯工业发达，特别是重工业十分发达，而消费品制造业发展却相对滞后，需要进口，选项中钢铁工业、军事工业和航空航天工业发展较快，D符合题意，故选D。

8. 中东是目前世界上输出石油最多的地区，波斯湾的石油外运航线A要绕行甲大洲南端的（ ）



- A. 好望角
 B. 白令海峡
 C. 霍尔木兹海峡
 D. 苏伊士运河

【答案】A

以上内容仅为本文档的试下载部分，为可阅读页数的一半内容。如要下载或阅读全文，请访问：<https://d.book118.com/637036024051006126>