

学习及考试资料整理汇编

——备考冲刺篇——

（考点或配套习题突击训练专用）

昆明市区 2021—2022 学年下学期期末检测七年级地理试 题卷

(全卷两个大题, 共 36 个小题, 共 8 页, 满分 100 分, 考试用时 90 分钟)

注意事项:

1. 本卷为试题卷。考生必须在答题卡上解题作答。答案应书写在答题卡的相应位置上, 在试题卷、草稿纸上作答无效。

2. 考试结束后, 请将试题卷和答题卡一并交回。

一、选择题 (下面每小题只有一个正确答案, 请将正确答案填涂到答题卡相对应的答题栏中, 每小题 2 分, 共计 60 分)

读“亚洲示意图”, 完成下面小题。



1. 亚洲是世界上 ()

- ①面积最大的大洲 ②跨纬度最广的大洲 ③东西距离最长的大洲
④跨经度最广的大洲 ⑤人口最多的大洲 ⑥平均海拔最高的大洲

A. ①②③⑥

B. ②③④⑤

C. ①②③⑤

D.

①③④⑤

2. 下列关于亚洲的河流描述正确的是 ()

- A. 恒河发源于喜马拉雅山脉, 被印度称为母亲河
B. 叶尼塞河自南向北注入北冰洋, 航运发达
C. 丙河流是世界上流经国家最多的河流
D. 受地形地势的影响, 河流流向呈向心状

3. 下列关于亚洲地形地势的描述正确的是 ()

- A. 亚洲拥有世界最大的高原—青藏高原, 有“世界屋脊”之称
B. 亚洲地形复杂多样, 以高原、平原为主
C. 亚洲的地势特点是中间高, 四周低

D. 图中丁是世界最大的平原—西西伯利亚平原

4. 下列关于东南亚的叙述，不正确的是（ ）

A. 被称为东方“十字路口”，其十字路口的咽喉要道是图中 A 马六甲海峡

B. 由中南半岛和马来群岛两部分组成

C. 城市多分布 沿河平原及河口三角洲

D. 马来群岛主要以热带季风气候为主，中南半岛主要以热带雨林气候为主

【答案】 1. C 2. A 3. C 4. D

【解析】

【1 题详解】

亚洲是世界第一大洲，是世界面积最大的大洲，面积 4400 万平方公里；亚洲是跨纬度最广的大洲，纬度范围约是 10°S-80°N；是世界东西距离最长的大洲，东西距离最长约 18040 千米，亚洲是人口最多的大洲，人口超过 40 亿，①②③⑤正确。跨经度最广、平均海拔最高的大洲是南极洲，④⑥错误。C 正确，ABD 错误，故选 C。

【2 题详解】

恒河发源于喜马拉雅山脉，被印度称为母亲河，A 正确。叶尼塞河自南向北注入北冰洋，结冰期长，航运价值低，B 错误。丙河流是湄公河，世界上流经国家最多的河流是欧洲的多瑙河，C 错误。受亚洲地势中部高四周低的影响，河流呈放射状从中间流向四周，D 错误。故选 A。

【3 题详解】

亚洲拥有世界最高的高原—青藏高原，有“世界屋脊”之称，世界最大的高原是巴西高原，A 错误。亚洲地形复杂多样，以高原、山地为主，占 75%，B 错误。亚洲的地势特点是中间高，四周低，C 正确。图中丁是西西伯利亚平原，世界最大的平原是亚马孙平原，D 错误。故选 C。

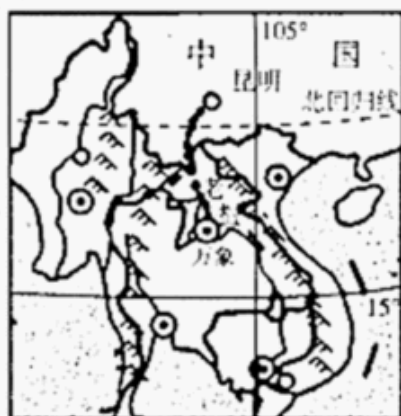
【4 题详解】

东南亚被称为东方“十字路口”，其十字路口的咽喉要道是图中 A 马六甲海峡，沟通了印度洋和太平洋，A 正确。东南亚由中南半岛和马来群岛两部分组成，B 正确。东南亚的城市多分布在沿河平原及河口三角洲，其主要原因是这里地形平坦、土壤肥沃，水源充足、气候湿润、交通便利，工农业发达等，C 正确。马来群岛主要以热带雨林气候为主，中南半岛主要以热带季风气候为主，D 错误。根据题意，故选 D。

【点睛】 亚洲的鄂毕河、叶尼塞河、勒拿河自南向北注入北冰洋，黄河、长江自西向东注入太平洋，西南部的印度河、恒河注入印度洋。亚洲的地势中部高、四周低。河流发源于中部的高原、山地，呈放射状流入四周的海洋。

2021 年 12 月中老（昆明—万象）铁路全线通车。该铁路是中国“一带一路”倡议与老挝变“陆锁国”为“陆联国”战略对接的重要项目。读中老铁路示意图，完成下面小

题。



5. 该条铁路运营后，驶向中国的火车上最有可能出现的商品是（ ）
- A. 蕉麻、小麦 B. 橡胶、椰子 C. 蔬菜、牛奶 D. 苹果、棕油
6. 中老铁路运营后，将带动沿线旅游业的发展。下列旅游景点属于沿线国家的是（ ）
- A. 万象塔銮 B. 婆罗浮屠塔 C. 大金塔 D. 吴哥窟
7. 你认为中老铁路修建时遇到的困难可能有（ ）
- ①夏季多暴雨 ②多地震、滑坡、泥石流等地质灾害
③地形以高原、平原为主，冻土广布 ④山河相间，地势起伏较大
- A. ①②③ B. ②③④ C. ①②④ D. ①③④

【答案】5. B 6. A 7. C

【解析】

【5题详解】

老挝位于东南亚中南半岛上。东南亚气候湿热，有利于水稻和热带经济作物生长，东南亚是世界上天然橡胶、棕榈油、椰子和蕉麻的最大产地，该条铁路运营后，驶向中国的火车上最有可能出现的商品是橡胶、椰子，B 正确。小麦和苹果属于温带作物，AD 错误。东南亚以种植业为主，不出口牛奶，D 错误。故选 B。

【6题详解】

中老铁路起点是中国的昆明市，终点是处于老挝境内的万象。万象塔銮位于中老铁路沿线，缅甸仰光的大金塔、印度尼西亚的婆罗浮屠、柬埔寨的吴哥窟都不位于中老铁路沿线。故选 A。

【7题详解】

中老铁路主要经过中南半岛。中南半岛地势北高南低，山脉自北向南延伸，地形崎岖。中老铁路修建过程中，自然方面遇到的困难有：夏季多暴雨；多地震、滑坡、泥石流等地质灾害；山河相间，地势起伏较大等；①②④正确。中老铁路沿线主要属于热带季风气候，无冻土分布，③错误。故选 C。

【点睛】东南亚气候湿热，有利于热带经济作物生长，东南亚是世界上天然橡胶、棕榈油、椰子和蕉麻的最大产地。世界最大的天然橡胶生产国是泰国，世界最大的棕油生产国

东被称为“三洲五海之地”，其中里海不是海，是世界上最大的湖泊，C 对；中东居民大多为白色人种，主要使用阿拉伯语，多信仰伊斯兰教，D 对。故选 B。

【9 题详解】

中东地区石油主要分布在波斯湾及其沿岸，经苏伊士运河把石油输送到欧洲西部和美国，故 A 错误；石油是不可再生资源，不是取之不尽用之不竭，故 B 错误；石油输送到欧洲西部时，经非洲南端的好望角航线是运输量最大，航程最长的航线，故 C 错误；中东地区的石油主要销往东亚、西欧和美国，故 D 正确。故选 D。

【10 题详解】

中东以热带沙漠气候为主，读图可判断图中 A 是全年高温多雨的热带雨林气候，B 是全年高温，分干湿两季的热带草原气候，C 是全年高温，分旱雨两季的热带季风气候，D 是全年高温少雨的热带沙漠气候，D 对，ABC 错。故选 D。

【点睛】中东地区是世界上石油储量最大、生产和输出石油最多的地区，因此被称为“世界石油宝库”。中东石油资源主要分布在波斯湾及其沿岸地区。

11. 读“非洲示意图”，下列关于撒哈拉以南的非洲，描述错误的是（ ）



非洲示意图

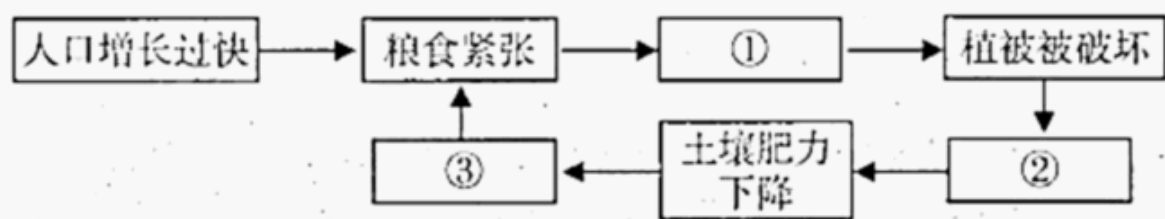
- A. 大部分位于南北回归线之间，被称为“热带大陆”
- B. 地势东南高，西北低。地形以高原为主，被称为“冰雪高原”
- C. 形成“单一商品经济”，经济发展水平较低
- D. 分布着世界上最广的热带草原气候，草原上动物资源丰富，被称为“天然野生动物园”

【答案】B

【解析】

【详解】撒哈拉以南的非洲大部分位于南北回归线之间，被称为“热带大陆”，形成“单一商品经济”，经济发展水平较低，分布着世界上最广的热带草原气候，草原上动物资源丰富，被称为“天然野生动物园”，ACD，不符合题意；地势东南高，西北低。地形以高原为主，被称为“高原大陆”，“冰雪高原”是指南极洲，B 符合题意，故选 B。

12. 撒哈拉以南的非洲人口、粮食与环境之间关系紧张，形成了人地关系的恶性循环，其中以下思维导图中①②③对应的内容依次是（ ）



- A 水土流失、土地荒漠化加剧 粮食产量下降 砍伐森林、开垦草地
 B. 砍伐森林、开垦草地 粮食产量下降 水土流失、土地荒漠化加剧
 C. 砍伐森林、开垦草地 水土流失、土地荒漠化加剧 粮食产量下降
 D. 粮食产量下降 砍伐森林、开垦草地 水土流失、土地荒漠化加剧

【答案】C

【解析】

【详解】非洲是人口自然增长率最高的大洲，人口的快速增长造成了粮食的极度短缺，为了满足粮食需求，人们不断的破坏生态环境，砍伐森林、开垦草地，以图靠耕地面积扩大来获得粮食总产量，结果由于植被破坏，加上非洲热带气候为主，干旱面积广，降水季节变化大，导致水土流失、土地荒漠化等生态问题，造成土壤肥力下降，导致粮食产量下降，又进一步加剧了粮食紧张问题，陷入了一个恶性循环，故 C 正确。故选 C。

13. 下列措施中，对解决非洲人口、粮食、环境之间的问题都能起显著作用的是（ ）

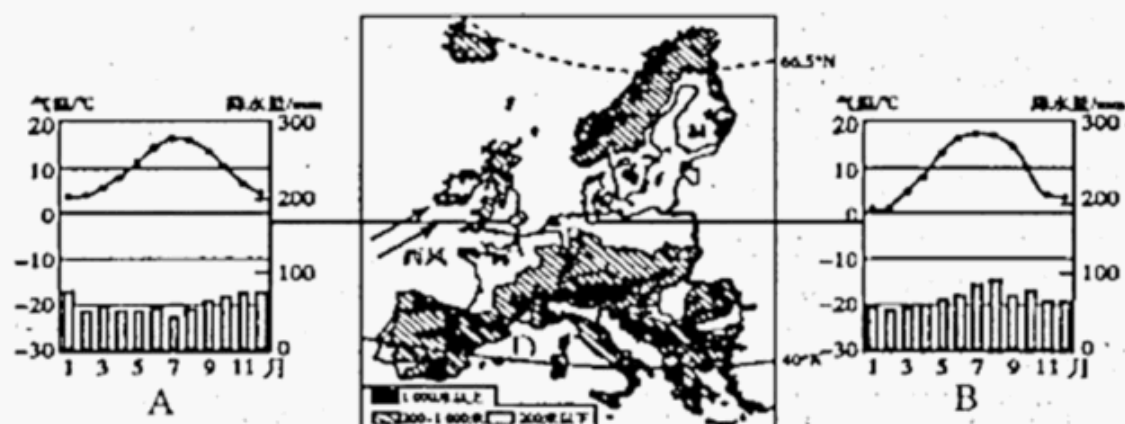
- A. 扩大耕地面积，增加粮食
 B. 大量出口矿产，换取粮食
 C. 加大劳务输出，换取外汇
 D. 控制人口，走科技兴国道路

【答案】D

【解析】

【详解】人们砍伐森林，开垦草原，以扩大耕地面积，导致了土地肥力下降和草原退化，使单位面积粮食产量降低，出现人口、粮食、资源、环境的恶性循环，A 错误；大量出口矿产，经济过分依赖初级农矿产品生产的情况，对经济发展不利，B 错误；加大劳务输出，换取外汇，不能显著解决非洲人口、粮食、环境之间的问题，C 错误；控制人口增长，走科技兴国道路，培养科技人才，提高民族文化素质，这些措施对解决非洲人口、粮食、环境之间的问题都能起显著作用，D 正确。故选 D。

读“欧洲西部地形示意图”及其“AB 两地气温曲线和降水量柱状图”，完成下面小题。



14. 下列关于欧洲西部 A、B 两地的描述, 正确的是 ()
- A. 地形都以平原为主, 有利于湿润西风的长驱直入
- B. 纬度较高, 河流冬季都有结冰期
- C. 河流流速平缓, 流量的季节变化大
- D. 当地居民很喜欢喝咖啡, 主要是因为当地盛产咖啡
15. A、B 两地农业以畜牧业为主, 其主要的社会经济原因是 ()
- A. 地形以平原为主, 草场广布,
- B. 气候温凉、潮湿, 适合多汁牧草的生长西经 0 东经
- C. 经济发达, 人口密集, 乳制品需求量大
- D. 气候多雨多雾, 不利于农作物的后期成熟城站

【答案】14. A 15. C

【解析】

【14 题详解】

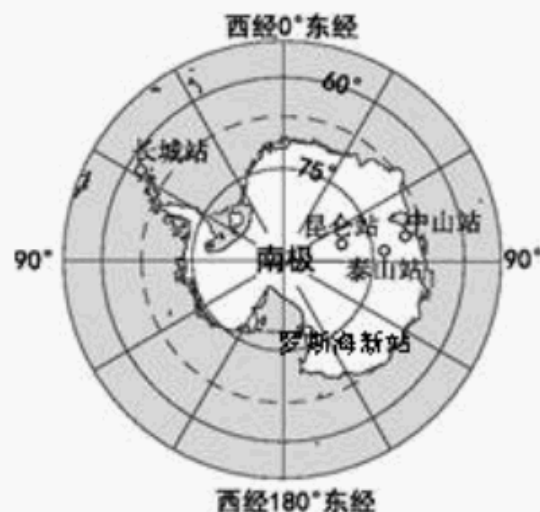
读图可知, 两地地形都以平原为主, 有利于湿润西风的长驱直入, 故 A 正确; 两地都以温带海洋性气候为主, 河流冬季没有结冰期, 流量季节变化小, 故 BC 错误; 咖啡属于热带经济作物, 当地居民很喜欢喝咖啡, 但当地不种植咖啡, 故 D 错误, 故选 A。

【15 题详解】

AB 两地位于欧洲西部, 欧洲西部气候以温带海洋性气候为主, 有利于多汁牧草的生长, 地形以平原为主, 草场广阔, 这是其畜牧业发达的自然原因, 这里经济发达, 人口密集, 乳制品需求量大, 这是其畜牧业发达社会原因, C 对, ABD 错。故选 C。

【点睛】欧洲西部北临北冰洋, 西临大西洋, 南临地中海。从经济发展水平看, 这些国家大多数属于发达国家。欧洲西部主要属于温带海洋性气候, 温带海洋性气候全年温和湿润, 适合发展畜牧业。

中国的第五个南极科考站——罗斯海新站预计于 2022 年建成, 读“南极地区示意图”, 完成下面小题。



16. 下列关于罗斯海新站的地理位置描述正确的是 ()
- A. 濒临太平洋

- B. 主要位于北寒带
C. 位于泰山站的西南方向
D. 是我国南极五个科考站中纬度位置最高的科考站

17. 罗斯海新站建设的最佳时间是 ()

- A. 3-5 月 B. 6-8 月 C. 9-11 月 D. 11 月-次年 2 月

18. 在南极科考时, 科学家会进行海冰变化的研究。下面关于海冰消融导致的问题, 叙述错误的是 ()

- A. 危及南极定居人类的生活 B. 危及企鹅等动物的栖息地
C. 全球淡水资源减少 D. 危及岛国以及沿海低地地区人类生活

【答案】16. A 17. D 18. A

【解析】

【16 题详解】

罗斯海新站濒临太平洋, A 正确; 地处高纬度地区, 位于西半球, 南寒带, B 错误; 位于泰山站的东南方向, C 错误; 我国南极五个科考站中纬度位置最高的科考站是昆仑站, D 错误。故选 A。

【17 题详解】

11 月-次年 2 月为南极地区的暖季, 又是极昼时期, 便于科考队员考察, 因此罗斯海新站建设的最佳时间是 11-次年 2 月。D 正确, ABC 错误, 故选 D。

【18 题详解】

南极地区没有定居的人类, A 表述错误; 冰川消融, 依赖海冰生存的南极磷虾减少, 以磷虾为生的动物大量减少, 危机南极特有动物企鹅等动物的栖息地, B 表述正确; 导致全球淡水资源减少, C 表述正确。南极地区海冰消融, 危机岛国以及沿海低地地区人类的生活, D 表述正确。故选 A。

【点睛】我国在南极地区的科学考察站有长城站、中山站、昆仑站和泰山站, 在北极地区的科学考察站有黄河站。南北半球季节相反, 南极洲的暖季是每年的 11 月至次年的 3 月, 该季节是去南极洲考察的最佳时间。

19. 南极地区比北极地区的平均气温低, 其原因有 ()

- ①南极地区以海洋为主, 北极地区以陆地为主
②南极地区终年被冰雪覆盖, 对阳光反射更强烈, 吸收的热量更少
③南极地区的纬度位置比北极地区更高
④南极地区的平均海拔比北极地区更高

- A. ①③ B. ②④ C. ②③ D. ①④

【答案】B

【解析】

【详解】南极地区以陆地为主，北极地区以海洋为主，排除①；南极地区终年被冰雪覆盖，对阳光反射更强烈，吸收的热量更少，②正确；南极地区的纬度位置与北极地区纬度位置相同，排除③；南极地区以陆地为主，北极地区以海洋为主，南极地区比北极地区的平均海拔高，④正确；②④正确，排除ACD，B正确，故选B。

20. 日本岐阜县森林茂密，冬季积雪深厚。“合掌造”是这里的传统民居，为木制建筑物，屋顶用稻草覆盖，又厚又陡（屋顶角度为 60° ），呈“人”字形，如同双手合十；因此得名，1995年被列入《世界遗产名录》。下图为“合掌造”。据此回答下题。



合掌造景观

“合掌造”的特点，反映了日本的自然环境特点，其中不正确的是（ ）

- A. 多地震，“人”字形结构稳定，木材质地轻，可减轻地震带来的危害
- B. “合掌造”为木制建筑物，当地森林茂密，便于就地取材
- C. 日本地形以山地、平原为主
- D. 冬季积雪深厚，屋顶坡度大利于积雪滑落

【答案】C

【解析】

【详解】日本“合掌造”村落位于冬季风迎风坡地区，冬季多暴雪，“合掌造”屋顶厚且坡度大，雪不易堆积，避免屋顶被雪压塌；日本位于环太平洋火山地震带，“合掌造”建筑结构支撑作用强，“人”字形结构稳定、不易倒塌；“合掌造”的建材是木材和茅草，发生地震对人员伤害较小，当地木材丰富，取材便利；日本的地形以山地、丘陵为主。综上所述，故C错误，符合题意。故选C。

21. 和服和“洋”服并存.和屋和“洋”房子并存，这反映了日本的文化特点是（ ）

- A. 民族构成复杂，大和民族占绝对优势
- B. 东西方文化兼容
- C. 岛国多火山、地震
- D. 受中国文化的影响小

【答案】B

【解析】

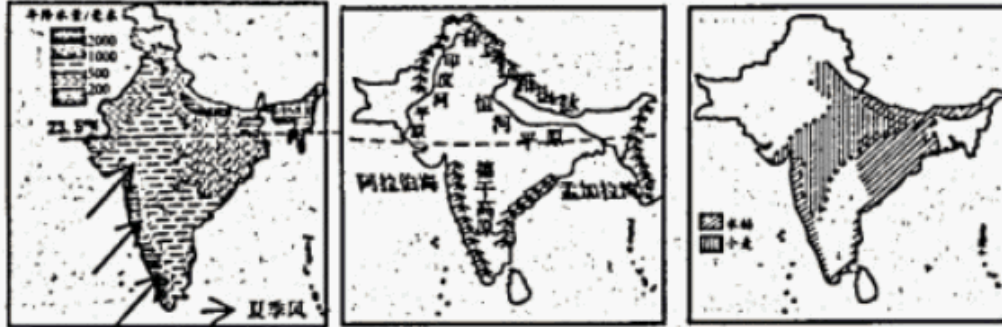
【分析】

【详解】日本文化具有浓厚的大和民族的传统色彩,古代受中国文化的影响,东方传统文化特色浓郁;近现代,又受到欧美科技和文学艺术等方面的广泛影响,和服和“洋”服并存、和食和“洋”快餐并存、和屋和“洋”房并存,是东西方文化兼容的典型,选项ACD叙述错误,B正确,

故选 B。

【点睛】

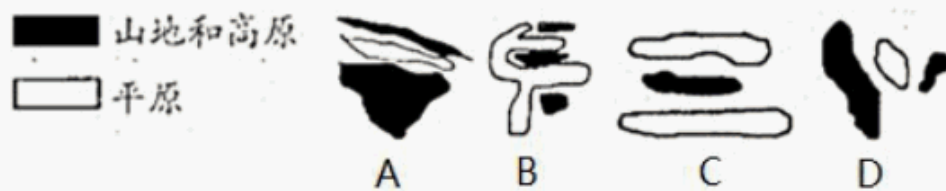
读“印度降水量分布图”“印度地形图”“印度粮食作物分布图”，完成下面小题。



22. 下列关于印度的描述正确的是 ()

- A. 主要以热带季风气候为主，东南季风不稳定，易发生旱涝灾害
- B. 历史悠久的文明古国，是佛教的发源地，佛教也是印度信仰人数最多的宗教
- C. 西临阿拉伯海，东临孟加拉湾，南临太平洋
- D. 南亚面积最大、人口最多的国家

23. 下列四幅图能正确反映印度地形分布的是 ()



- A. A
- B. B
- C. C
- D. D

24. 印度粮食生产与自然环境的关系叙述正确的是 ()

- A. 小麦主要分布在年降水量 1000 毫米以上的地区
- B. 水稻主要分布在年降水量 1000 毫米以下的地区
- C. 水稻主要分布在恒河中下游平原和半岛沿海平原
- D. 小麦主要分布在恒河下游平原和德干高原

【答案】 22. D 23. A 24. C

【解析】

【22 题详解】

印度以热带季风气候为主，西南季风强弱不稳定，使得印度旱涝灾害频繁，A 错；印度是历史悠久的文明古国，是佛教的发源地，印度教也是印度信仰人数最多的宗教，B 错；印度西临阿拉伯海，东临孟加拉湾，南临印度洋，C 错；印度是南亚面积最大、人口最多的国家，D 对。故选 D。

【23 题详解】

印度地形大致分为三部分，北部是高大的喜马拉雅山脉，中部是恒河平原，南部是德干高原，如图 A 所示。故选 A。

【24 题详解】

以上内容仅为本文档的试下载部分，为可阅读页数的一半内容。如要下载或阅读全文，请访问：<https://d.book118.com/646115233120011002>