

预览—收藏—关注

考点课堂 素材精粹

第十版

依据考试大纲 总结命题规律

辅导备考策略 历年考题详析

梳理考试要点 总结核心知识

筛选最新考点 拓展解题思路

精编典型习题 积累备考经验

全真模拟测试 预测考试趋势

注：下载前请仔细阅读资料，以实际预览内容为准

让学习为我们创造终生价值

2022.09 青少年软件编程（图形化）等级考试试卷（二级）

分数：100 题数：37

一、单选题(共 25 题，共 50 分)

1. 数列：1，2，3，4，6，9，13，19，28，... 的下一项是多少？（ ）

<input type="radio"/>	A.	37
<input type="radio"/>	B.	39
<input checked="" type="radio"/>	C.	41
<input type="radio"/>	D.	47

试题编号：20220429-h1h-02

试题类型：单选题

标准答案：C

试题难度：一般

试题解析：因为 $1+3=4$ $2+4=6$ $3+6=9$ $4+9=13$ $13+6=19$ $9+19=28$ 所以下一项为： $28+13=41$

考生答案：C

考生得分：2

是否评分：已评分

评价描述：

下图红框中填入下列) 哪个选项，能让角色在移动过程中碰到鼠标指针说“你挡着我了！”？（

2.

The image shows a Scratch script on a grid background. The script starts with a yellow '当被点击' (When clicked) block. This is followed by a blue '移到 x: -150 y: -22' (Move to x: -150 y: -22) block. Below that is an orange '重复执行' (Repeat) block. Inside the repeat block, there is a blue '移动 10 步' (Move 10 steps) block, followed by an orange '如果 那么' (If-then) block. Inside the '如果' block, there is a purple '说 你挡着我了! 2 秒' (Say '你挡着我了!' for 2 seconds) block. Finally, there is an orange '停止 全部脚本' (Stop all scripts) block. A red box highlights the '说' block.

<input type="radio"/>	A. 碰到颜色  ?
<input type="radio"/>	B. 颜色  碰到  ?
<input checked="" type="radio"/>	C. 碰到  ?
<input type="radio"/>	D. 按下鼠标?

试题编号：20220429-h1h-03

试题类型：单选题

标准答案：C

试题难度：一般

试题解析：

考生答案：C

考生得分：2

是否评分：已评分

评价描述：

3.) 运行下列程序，说法正确的是？（



- A. 在任何地方点击鼠标，角色都会移动到鼠标位置
- B. 当按下空格键后，执行角色大小增加 10，当角色充满屏幕时，大小不再增加
- C. 在没有任何操作的时候，角色会在舞台区乱走
- D. 当碰到红色，说“游戏结束” 2 秒，程序停止运行

试题编号：20220429-h1h-04

试题类型：单选题

标准答案：B

试题难度：一般

试题解析：从程序中可知，角色有三个判断条件，分别对应移到鼠标指针、角色大小增加 10，说“游戏结束” 2 秒三种动作，只要对应条件满足，则相应动作会执行。因此选项 B 可以实现，A 选项只有角色在碰到鼠标并且鼠标点击的时候才会移动到鼠标位置，C 选项由于判断条件外并没有移动的指令，所以错误，D 选项当碰到红色时会说“游戏结束” 2 秒，但是没有停止运行的指令，所以错误。


考生答案：B


考生得分：2


是否评分：已评分


评价描述：

小明想写一个程序实现如果用键盘输入的数字小于 60 就改变角色的特效，否则就使角色大小增加 60，应该选择下列哪个积木？（ ）

A. 

B. 

C. 

D. 

试题编号：20220429-h1h-05

试题类型：单选题

标准答案：B

试题难度：一般

试题解析：


考生答案：B

考生得分：2

是否评分：已评分

评价描述：

5. 下列数学运算中，结果为 60 的是？（ ）

A. 

<input type="radio"/>	60 除以 1 的余数
<input checked="" type="radio"/>	连接 30 和 30
<input type="radio"/>	绝对值 -60

试题编号：20220429-h1h-06

试题类型：单选题

标准答案：D

试题难度：一般

试题解析：A 选项运行结果为 61，B 选项运行结果为 0，C 选项运行结果为 3030 D 选项运行结果为 60 故答案为 D。

考生答案：C

考生得分：0

是否评分：已评分

评价描述：

）运行下列程序，输入 120，正确的显示效果是？（



6.

<input type="radio"/>	全票
<input type="radio"/>	半票
<input checked="" type="radio"/>	半票全票

以上内容仅为本文档的试下载部分，为可阅读页数的一半内容。如要下载或阅读全文，请访问：<https://d.book118.com/655222303110011111>