

# 小学三年级数学应用题大全

## 一. 解答题(共 50 题, 共 313 分)

1. 一辆轿车每小时行驶 100 千米, 10 小时行驶 1000 千米, 几小时行驶 10000 千米?



2. 根据下列表格回答问题,

二年级各班图书本数	
二(1)班	147本
二(2)班	176本
二(3)班	158本
二(4)班	189本

(1) 二(4)班的图书比二(1)班大约多多少本?

(2) 哪两个班的图书合起来最接近 300 本?

(3) 你还能提出什么数学问题? 并解决。

3. 购物。



5 元



18 元



45 元



现在特价 70 元

原价 80 元

(1) 明明带了 30 元钱可以买几个文具盒？

(2) 红红带了 120 元钱，买了一辆玩具汽车，剩下的钱还够买一个书包吗？

4. 看图表解决问题。

7: 40	到校
7: 50 - 8: 10	早操
8: 20 - 9: 00	第一节课
9: 10 - 9: 50	第二节课
10: 00 - 10: 05	眼保健操
10: 05 - 10: 45	第三节课
	第四节课

(1) 上午早操用多长时间？

(2) 上午 10: 30 同学们正在做什么？此时离下课铃响还有多少分钟？

(3) 如果你从家到学校要走 30 分钟，你最晚什么时候从家里出发？

5. 购物。



149元



288元



358元



365元



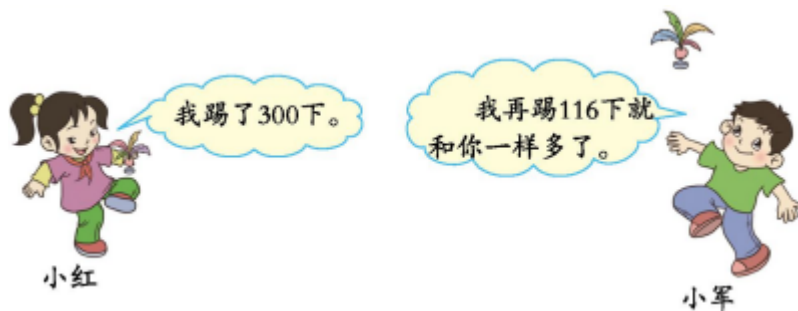
62元

(1) 自行车比电饭锅贵多少元？

(2) 李阿姨有 500 元钱，能买一块手表和一个录音机吗？

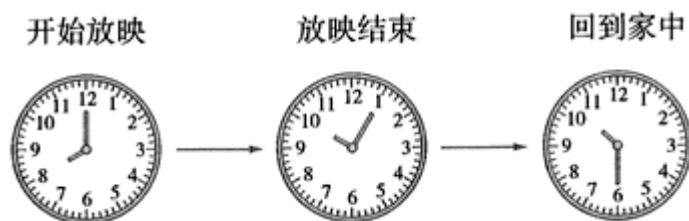
(3) 估算一下用 500 元最多能买哪几种商品？（只回答，不列式）

6. 踢毽子比赛。



小军踢了多少下？

7. 周末，小丽跟妈妈去看电影。



(1) 电影放映了多长时间？

(2) 小丽看完电影回到家用了多长时间？

8. 周末，小红一家去商场购物。



(1) 爸爸想买上面三种商品，应大约准备多少元钱？

(2) 买上面三种商品，收银员应该收多少元钱？

9. 小红比小黄多吃了多少只害虫？



10. 购物。



自行车：428 元      电饭煲：299 元

(1) 买一辆自行车和一个电饭煲大约要多少钱？


(2) 爸爸带 900 元买这两样够吗？

11.



从花店到药房一共 960 米。从面包房到服装店有多少米？

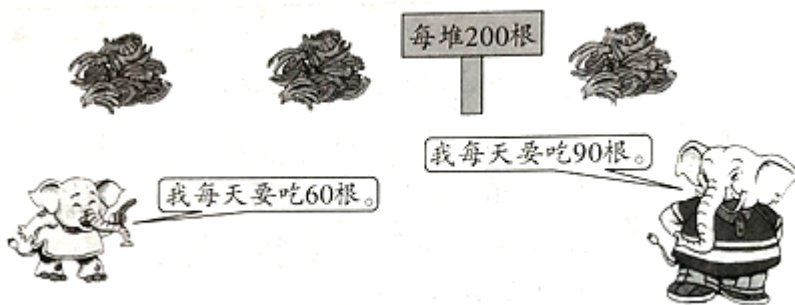
12. 王老师带了 600 元去买下面一套课桌椅。



(1) 这 600 元钱够不够？

(2) 如果不够，大约还差多少元？

13. 吃香蕉。



(1) 3 头小象吃一堆香蕉，够一天吃吗？

(2) 1 头大象一个星期要吃多少根香蕉？

14. 欣欣百货的一些商品。



198 元



208 元



28 元

(1) 买三种商品一共要付多少钱？

(2) 一双鞋比一件上衣大约贵多少元？

(3) 一双袜子比一双鞋便宜多少元？

(4) 请你提一个合理的数学问题并解答。

15. 下面是电影播放时间表。

电影：红猫蓝兔

第一场：上午 9: 30-11: 10

第二场：下午 1: 40-3: 20

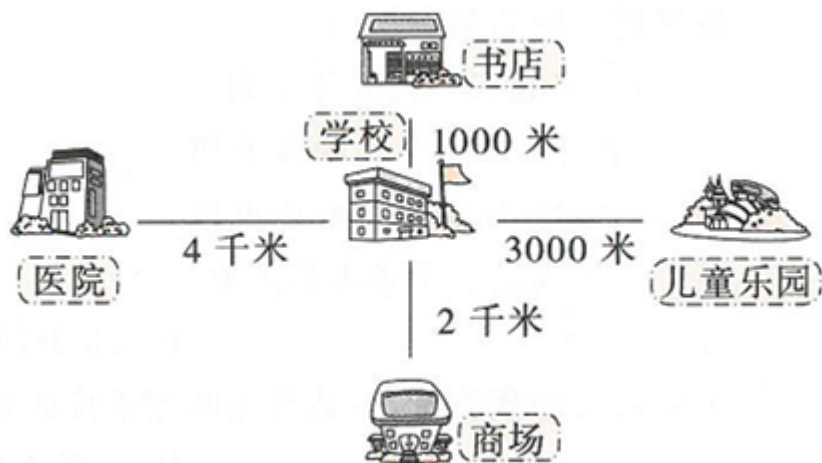
第三场：晚上 6: 30-8: 10

(1) 第一场电影共放映了 ( ) 小时 ( ) 分钟。

(2) 小陈到电影院的时间为当天下午 1:20, 他要看第 ( ) 场电影, 还要等 ( ) 分钟。

(3) 小陈从家到电影院需要 30 分钟, 现在为晚上 7:45, 他从家出发 (填“能”或“不能”) 看到第三场的电影, 因为他到电影院的时间为 ( ) 时 ( ) 分。

16. 星期日, 妈妈要去几个地方办事。




(1) 从医院到儿童乐园有多少千米?

(2) 从书店到商场有多少米?

(3) 你还能提出什么问题? 并解答。

17. 美美从什么时间开始画画的?



18.

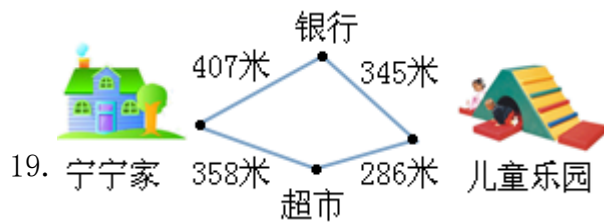
冰箱：3000 元

洗衣机：1960 元

烤炉：1000 元

(1) 买一台冰箱和一台烤箱，一共需要多少元钱？

(2) 妈妈带了 6000 元钱，想买这三件商品，够吗？



19.

(1) 从宁宁家去儿童乐园，走哪条路近一些？

(2) 从宁宁家到银行比从儿童乐园到银行远多少米？

20. 九寨沟位于四川省阿坝藏族羌族自治州九寨沟县漳扎镇，有“童话世界”之誉。下面是九寨沟门票的价格。



旺季（每年4月1日—11月15日）：门票220元  
 淡季（每年11月16日—次年3月31日）：门票80元

- (1) 夏季时，9人去九寨沟玩，买门票需要多少元？
- (2) 淡季时买5张门票比旺季时买5张门票少花多少元？

21. 乘车。



- (1) 这6只动物能一起乘车吗？
- (2) 哪些动物能一起乘坐这辆车？

22. 蔬菜公司将运来大批蔬菜，见记录表：

名称	茄子	扁豆	辣椒	南瓜	青菜	萝卜
重量（千克）	300	600	700	400	500	200

- (1) 如果需要1000千克蔬菜，该怎样选择？（写出三种）

(2) 一辆载重 3000 千克的货车能一次将这批蔬菜全部装下吗？

23. 下午来参观的学生有多少人？一天来参观的学生有多少人？



24. 一个三角形有两条边长都是  $\frac{4}{15}$  米，另一条边长  $\frac{7}{15}$  米，周长是多少米？

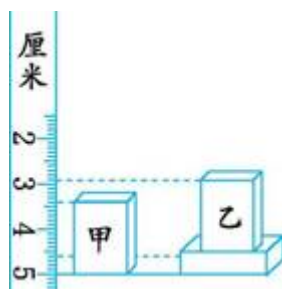
25. 下面是实验小学去年物品的使用情况。

	扫帚	粉笔
上半年	364 把	483 盒
下半年	326 把	406 盒

(1) 去年用了多少盒粉笔？

(2) 去年上半年比下半年多用了多少把扫帚？

26. 先判断甲、乙两个长方体哪个高一些，再观察厘米尺上的刻度，计算甲、乙两个长方体的高各为多少毫米？



以上内容仅为本文档的试下载部分，为可阅读页数的一半内容。如要下载或阅读全文，请访问：

<https://d.book118.com/657116003051006112>