

第1单元综合素质达标

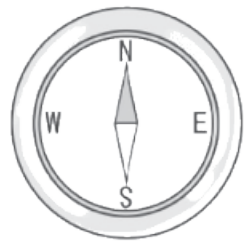


一、我聪明，我会填。(每空1分，共25分)

1. 成语“四面八方”中的“四面”指的是()、**东**)、**南**)、**西**)**北**四个方向，“八方”除了“四面”所说的四个方向外，还包括(**东北** **东南** **西北** **西南**)
2. “儿童散学归来早，忙趁东风放纸鸢(yuān)。”此时的风由(**东**)向(**西**)吹。

3. 根据生活常识填一填。

(1)



指南针涂色指针指向北面，白色指针指向（**南**）面。

(2)



树的年轮较疏的一侧向着南面，较密的一侧向着（**北**）面。

(3)



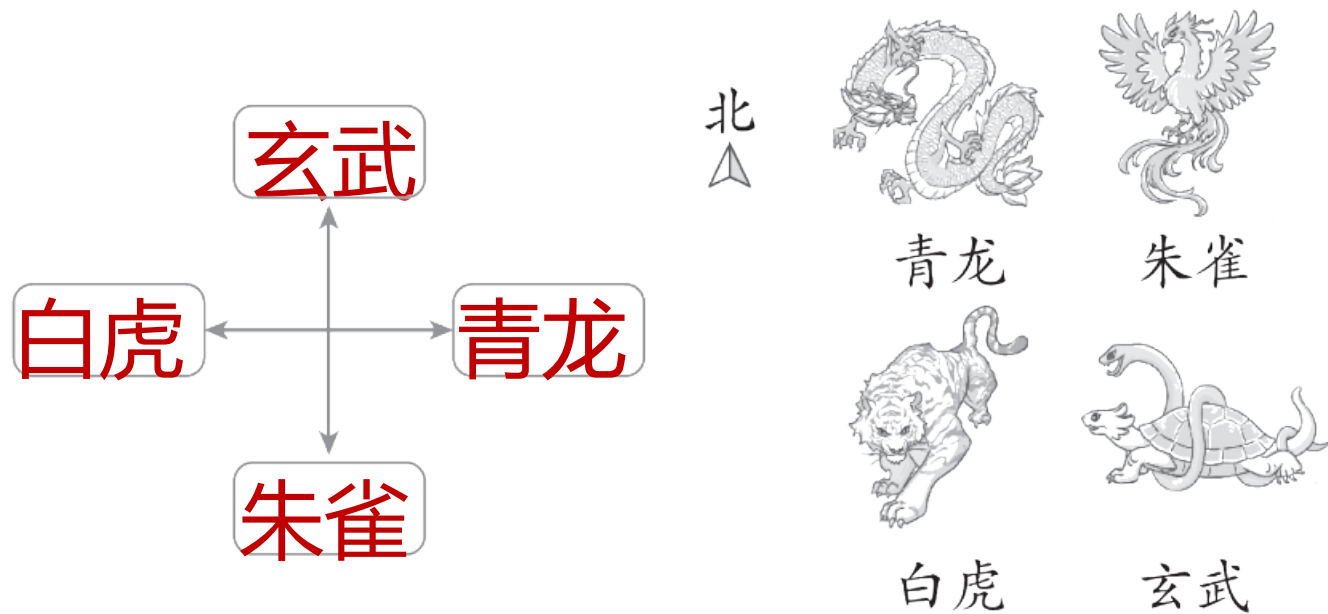
晚上面对北斗七星，左面是西面，右面是（**东**）面。

4. 傍晚，夕阳西下，你面对太阳，你的左面是（**南**）面，你的右面是（**北**）面。



5. 妈妈在贴地图时，不小心把地图上下贴反了。现在地图的上面是实际的(南)面，地图的左面是实际的(东)面。

6. 在中国古代，天空的恒星被划分成“三垣(yuán)”和“四象”七大星区，其中“四象”是指“东青龙、西白虎、南朱雀、北玄武”。请根据描述，填一填“四象”的位置。





7. 同同中午放学回家，先向北走到科技街，再向东北走到家。

下午上学时，同同应先向(**西南**)走到科技街，再向(**南**)走到学校。

8. 把手表平放在桌子上，“12”对着北方，这时“6”对着()方**南** 那么正对着东方的数字是()。 **3**



二、我自信，我会选。(把正确答案的序号填在括号里。
每题3分，共15分)

1. 下面的方位中，相对的一组是(A)。

A. 东南和西北

B. 西和南

C. 东北和西北

D. 西南和西北



2. 太阳快要下山时，面对太阳，你的影子在(**A**)面。

A. 东

B. 南

C. 西

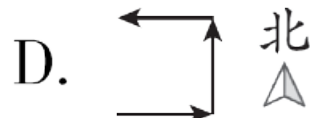
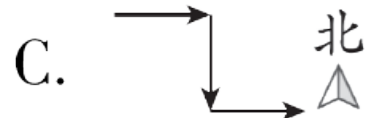
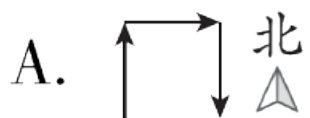
D. 北

【点拨】

东与西相对，则面对西面，影子在东面。



3. 蓝蓝去公园，她先向东走了一段路，又向北走了一段路，最后向西走到公园。蓝蓝走的路线是(**D**)。





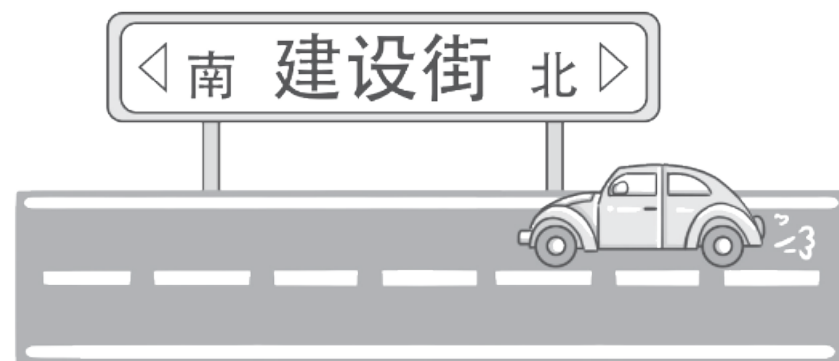
4. 如图，小汽车的行驶方向是(**D**)。

A. 由东向西

C. 由西向东

B. 由南向北

D. 由北向南



以上内容仅为本文档的试下载部分，为可阅读页数的一半内容。如要下载或阅读全文，请访问：
<https://d.book118.com/658026023040007007>