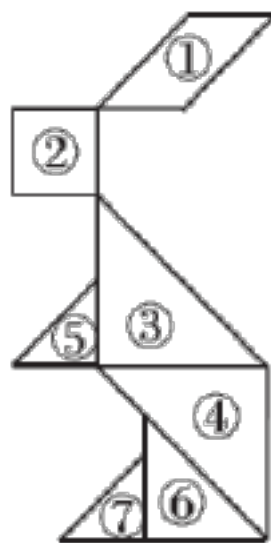


# 2023-2024 学年北师大版小学数学一升二开学摸底 考试测试卷及答案（一）

一、填一填。(每空 1 分，共 18 分)

1. 数 100，从右边起第一位是( )位，第二位是( )位，第三位是( )位。
2. 由 5 个一和 3 个十组成的数是( )。
3. 97 再添上( )个一，就是 100。
4. 与 59 相邻的两个数是( )和( )。
5. 15 比 8 大( )，7 比 16 少( )。

6. 右图中( )号是  
平行四边形，( )号  
和( )号拼成了平行四边形。



7. 找规律填数。

- (1) 50, 48, ( ), ( )。
- (2) 30, ( ), 50, ( ), 70。
- (3) 15, 20, ( ), ( )。

二、判一判。(对的画“√”，错的画“×”)(每题 1 分，共 5 分)

1. 一个三位数，最高位是百位。( )
2. 38 比 99 少得多。( )
3. 96 的个位是 9，十位是 6。( )
4. 长方形的四条边都相等。( )
5. 从不同的方向看球的形状是一样的。( )

三、选一选。(把正确答案的序号填在括号里)(每题 2 分, 共 10 分)

1. 用四个  不可能拼成下面的哪个图形? ( )

- ①长方形                      ②圆                      ③三角形

2. 爷爷的年龄比小明( )。

- ①大一些                      ②差不多                      ③大得多


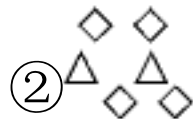
3. 四条边都相等的图形是( )。

- ①圆                      ②长方形                      ③正方形

4. 下列最接近 80 的数是( )。

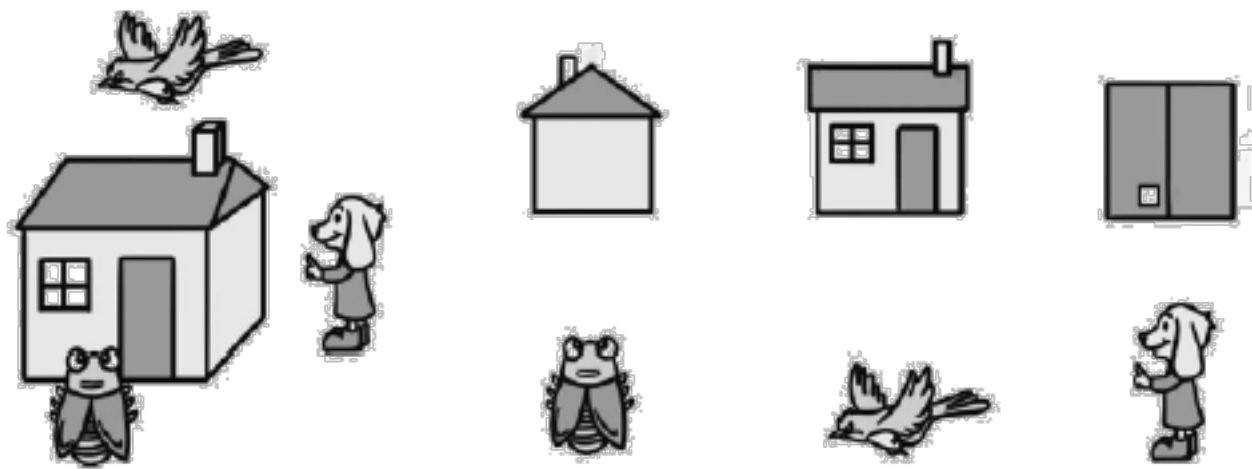
- ①79                      ②70                      ③90

5. 用  $\diamond$  表示 10, 用  $\triangle$  表示 1, 下面的图形表示的数比 30 小的是( )。

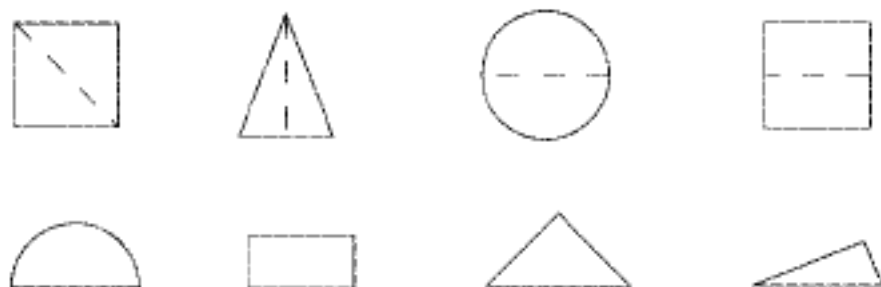


四、连一连。(1 题 6 分, 2 题 8 分, 共 14 分)

1. 它们分别看到的是什么?



2. 按虚线折起来是什么样子?



五、直接写得数。(12 分)

$12-5=$

$11-8=$

$7+5=$

$6+7=$

$13-4=$

$16-9=$

$15-7=$

$17-8=$

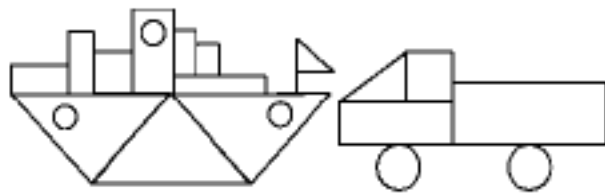
$5+8=$

$6+8=$

$8+8=$

$14-6=$

六、数一数，填一填。(每空 2 分，共 8 分)

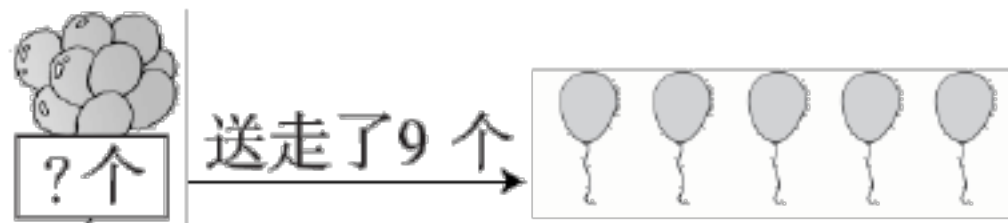


共有( )个，○ 共有( )个，

共有( )个，△ 共有( )个。

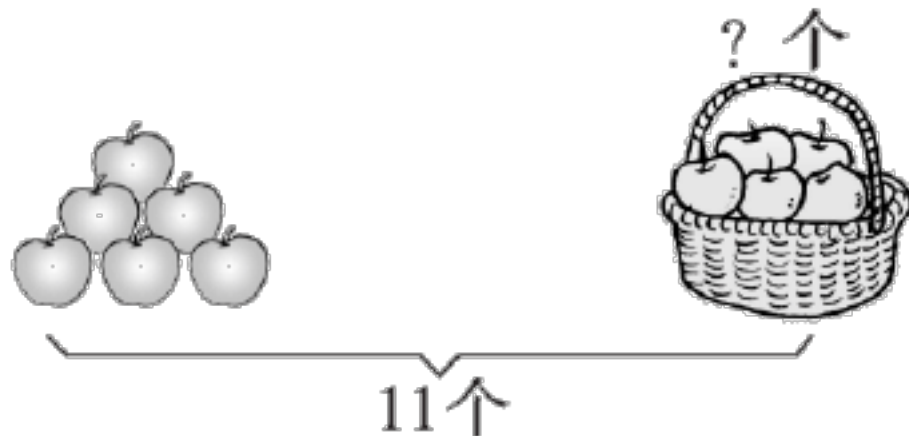
七、看图列式计算。(每题 3 分，共 6 分)

1.



$$\square \bigcirc \square = \square \text{ (个)}$$

2.



$$\square \bigcirc \square = \square \text{ (个)}$$

八、解决问题。(1 题 9 分，4 题 8 分，其余每题 5 分，共 27 分)

1. 回收废电池。



(1) 芳芳可能收集了多少节废电池？(在合适的答案下面画“√”)

11 节	32 节	8 节

(2) 乐乐收集了多少节？

$$\square \bigcirc \square = \square \text{ (节)}$$

(3) 芳芳和乐乐一共收集了多少节？

$$\square \bigcirc \square = \square \text{ (节)}$$

2. 小明还剩多少本书？

小明说：“我原来有16本书。”

小红说：“我借走了7本。”

$$\square \bigcirc \square = \square \text{ (本)}$$

3. 你能提出一个数学问题并解答吗？

小芳说：“我做对了15道题。”

小兰说：“我做对了8道题。”

4.

小熊说：“我跳的和你同样多，小猴跳的比我们俩的和少9下。”

小兔说：“我跳了8下。”

(1) 小兔和小熊一共跳了多少下？

$$\square \bigcirc \square = \square \text{ (下)}$$

(2) 小猴跳了多少下？

$$\square \bigcirc \square = \square \text{ (下)}$$

# 参考答案

一、1. 个 十 百 2. 35

3. 3 4. 58 60

5. 7 9 6. ① ③ ④

7. (1)46 44 (2)40 60 (3)25 30

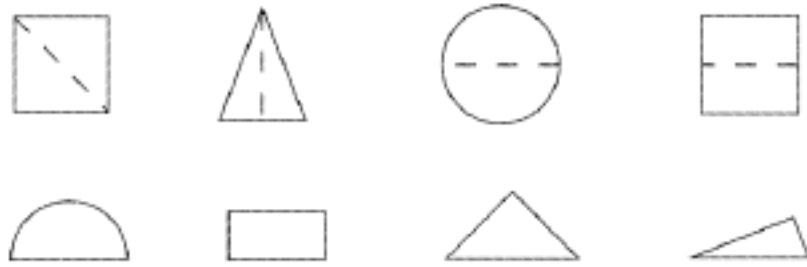
二、1.√ 2.√ 3.× 4.× 5.√

三、1.② 2.③ 3.③ 4.① 5.③

四、1.



2.



五、7 3 12 13 9 7 8 9 13 14 16 8

六、8 5 2 5

七、1.  $9+5=14$  2.  $11-6=5$

八、1.(1)

11 节	32 节	8 节
√		

(2)  $13-4=9$

(3)  $9+11=20$

2.  $16-7=9$

3. (答案不唯一)小芳比小兰多做对几道题?

$15-8=7$ (道) 答：小芳比小兰多做对 7 道题。

4. (1) $8+8=16$       (2) $16-9=7$

# 2023-2024 学年北师大版小学数学一升二开学摸底 考试测试卷及答案（二）

一、填一填。(每空 1 分，共 24 分)

1. 一个数个位上是 3，十位上是 6，这个数是(     )，读作(     )。

2. 87 里面有(     )个十，(     )个一。

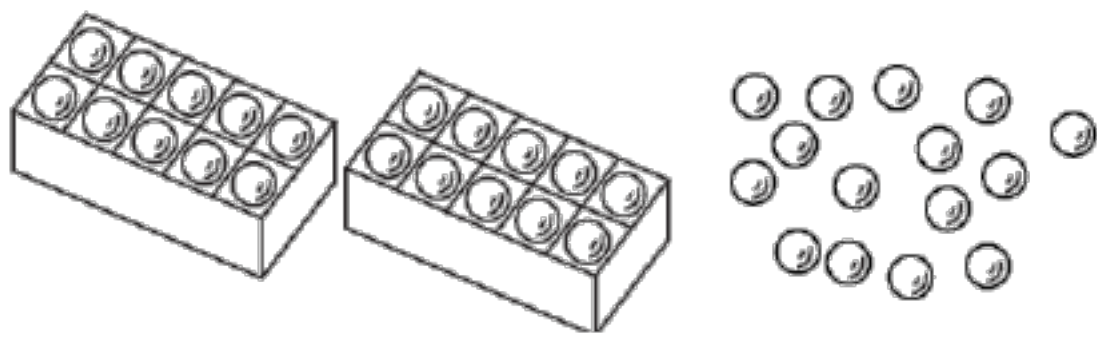
3. 72 比 38 多(     )，64 比 92 少(     )。

4. 找规律填数。

(1) 33, 36, (     ), 42, (     )。


(2) 70, 75, (     ), 85, (     )。

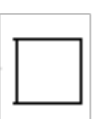
5. 数一数，共有(     )个 。





6.





(     ) 个 ,

(     ) 个 ,


(     ) 个 ,

(     ) 个 ,

7. 在  里填上“>”“<”或“=”。

$65 - 27$    $65 - 37$

$54 - 18$    $65 - 18$

$34 + 30$    $30 + 34$

$67 + 19$    $19 + 77$

8. 把下列算式按得数从小到大排列。



( ) < ( ) < ( ) < ( ) < ( )

二、算一算。(1题9分, 2题12分, 共21分)

1. 直接写得数。

$50+20=$        $82-7=$        $25+30=$

$27+5=$        $44+20=$        $32-4=$

$26+40=$        $78-9=$        $56-8=$

2. 用竖式计算。

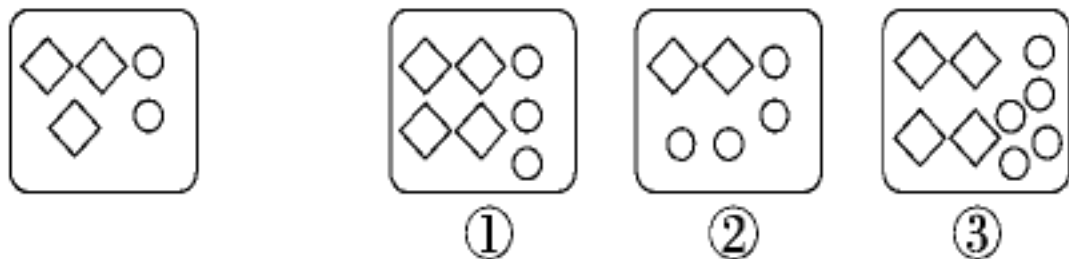
$42+19=$        $100-29=$        $63-36=$        $50-31=$

三、选一选。(把正确答案的序号填在括号里)(每题2分, 共8分)

1. 下面哪个算式的得数是五十多? ( )

- ①  $18+48$       ②  $44+9$       ③  $54-6$

2. 如果下面的图左边表示32, 右边的图表示45的是( )



3. 数学书的封面是( )。

- ①长方形      ②正方形      ③圆

4.





蜻(qīng)蜓(tíng)可能吃了( )只虫子。

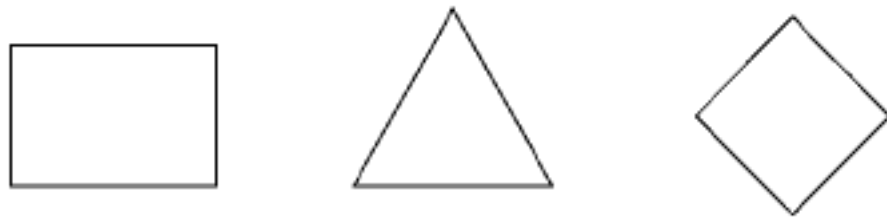
① 25

② 32


③ 74

四、动手操作。(每题 6 分, 共 12 分)

1. 画一条线把下面的图形分成大小相等的两部分。



2. 他们分别看到了什么? 连一连。



五、解决问题。(3 题 8 分, 5 题 9 分, 其余每题 6 分, 共 35 分)

1. 还缺多少把椅子?



2. 乐乐有 70 元, 够买哪两样?





(1) 两个班一共有多少人?

$$\square \bigcirc \square = \square \text{ (人)}$$

(2) 如果给每人发一支铅笔, 80 支够吗?

4. 他们选哪两辆车最合适?



5. 下面是 2016 年里约奥运会金牌榜。(单位: 枚)

美国	英国	中国	俄罗斯
46	27	26	19

以上内容仅为本文档的试下载部分，为可阅读页数的一半内容。如要下载或阅读全文，请访问：<https://d.book118.com/666153231240010111>