

# 2021-2022 学年度第一学期高二合格性

## 综合练习二历史试卷

### 一、单项选择题

1. 2019年7月6日，在联合国教科文组织世界遗产委员会第43届会议上，中国良渚古城遗址成功申报世界文化遗产。与良渚文化同时存在的中国北方原始文化类型是

- A. 河姆渡文化                      B. 红山文化                      C. 大汶口文化                      D. 仰韶文化

2. 《诗经·小雅》中记载：“普天之下，莫非王土；率土之滨，莫非王臣。”这段话描述的政治制度是

- A. 分封制                      B. 宗法制                      C. 礼乐制                      D. 郡县制

3. 有学者认为，中华大地从东北到西南，从草原到岭南，凡是中央王朝统治所及之地，无不渐染儒风，最终都成为儒学的教化之地。这种现象始于

- A. 秦代                      B. 汉代                      C. 唐代                      D. 宋代

4. 《贾谊·治安策》载：“欲天下之治安，莫若众建诸侯而少其力，国小则亡邪心。”贾谊这一主张后来被汉武帝继承，实行了

- A. 郡县制                      B. 推恩令                      C. 行省制                      D. 分封制

5. 《后汉书》卷七十八《宦者列传》记载：“伦乃造意，用树肤、麻头及敝布、渔网以为纸。元兴元年奏上之，帝善其能，自是莫不从用焉，故天下咸称蔡侯纸。”由此可知，蔡侯纸

- A. 发轫中国造纸历史                      B. 原料来源得以扩大  
C. 制造工艺更加复杂                      D. 生产遍布全国各地

6. 东汉光武帝于尚书台设尚书令、尚书仆射、六曹尚书各一人，分掌各项政务，所有一切政令都由尚书台直接禀陈皇帝，由皇帝裁决，形成了“虽置三公，事归台阁”“天下事皆上尚书，与人主参决，乃下三（公）府”的政治格局。这一变化说明光武帝

- A. 沿袭西汉中朝制度                      B. 吸取王莽改制教训  
C. 加紧对地方的掌控                      D. 强化专制主义皇权

7. 有学者说：“魏碑书法，笔划严谨，字形规整，上可窥汉秦旧范，下能察隋唐习风。”据此判断魏碑字体属于

- A. 小篆                      B. 草书                      C. 楷书                      D. 行书

8. 唐朝是一个诗的国度，诗也见证了社会变迁。如“十里长街市井连”、“入蜀经蛮远别离”、“夜市千灯照碧云”。从这些诗中反映了唐朝

- ①商人远行贩运                      ②夜市繁荣                      ③商帮形成                      ④草市绵延不绝

- A. ①②                      B. ③④                      C. ①③                      D. ②④

9.2 世纪 3 年代,罗斯福经常通过自己的团队迅速起草制订各种他认为必要的法律,然后提交国会批准,过去那种仅由总统建议、国会立法的方式被完全替代。这反映出当时美国

- A. 立法主体的变化
- B. 行政权力的扩张
- C. 联邦体制的危机
- D. 分权体制的质变

10. 在宋朝,使“朝为田舍郎,暮登天子堂”成为现实的选官制度是

- A. 军功爵制
- B. 察举制
- C. 九品中正制
- D. 科举制

11. 唐律规定“奴婢比之资财”,“律比畜产”,地位低下。宋代除少数官奴婢外,私奴往往订立契约,约以时限,付以雇值,又称“女使”。这反映了宋代

- A. 宗法等级观念淡薄
- B. 人身依附关系弱化
- C. 女性政治地位提高
- D. 雇佣劳动开始出现

12.2 世纪 年代,美国前国务卿杜勒斯攻击不结盟是“一种不道德的近视的概念”,苏联也预言这个运动“像走钢丝一样长不了”。这些现象说明了不结盟运动

- A. 形成了与美苏抗衡的军事政治集团
- B. 改变了超级大国对世界事务的控制
- C. 是国际政治舞台上的一支重要力量
- D. 缺乏明确而坚定的基本原则和宗旨

13. 独具时代特色的历史信息在风云流转的时空中,是社会发展的一个个指示性坐标。下表所列信息,按朝代(周、秦、唐、元)先后排列正确的是

①	“微子受封”、“妇功”、“市井”、“司南”
②	政事堂、越窑、夜市、“士大夫画”
③	“腹里”、木活字、北曲、“赵体”
④	象郡、“直道”、灵渠、小篆

- A. ①②④③
- B. ①④②③
- C. ③②①④
- D. ④②①③

14. 毛泽东在《在新政治协商会议筹备会上的讲话》向全世界声明:“我们所反对的只是帝国主义制度及其反对中国人民的阴谋计划。任何外国政府,只要它愿意断绝对于中国反动派的关系,不再勾结或援助中国反动派,并向人民的中国采取真正的而不是虚伪的友好态度,我们就愿意同它在平等、互利和互相尊重领土主权的原则的基础之上,谈判建立外交关系的问题。”下列外交政策中最能体现这一思想的是

- A. 打扫干净屋子再请客
- B. 另起炉灶
- C. 和平共处五项原则
- D. 求同存异

15. 1953 年,《人民日报》出现了 12 次“共同富裕”,主要集中在“向农民宣传总路线”专栏,鼓励“大家联合起来,用大规模生产和新的农具、农业机器,使大家能够共同富裕”。这

- A. 体现了人民公社运动的成果
- B. 推动了土地改革完成

C. 适应了社会主义改造的需要

D. 解决了绝对贫困问题

16. 下表是 1952 年主要工业产品与 1949 年产量比较表，促成下述变化的原因包括

产品名称	单位	1949 年	1952 年
原煤	亿吨	51.6	106.5
原油	万吨	37.5	137.5
发电量	亿度	71.7	121.7
钢	万吨	17.1	146.3

A. 党和政府致力于国民经济的恢复工作

B. 土地改革运动的基本结束

C. 社会主义改造运动的基本结束

D. 社会主义市场经济体制的基本建立

17. 评弹是一种盛行于江南地区的曲艺门类，在新中国成立前曾广为流传。1951 年 3 月后评弹书目一度停演。

20 世纪 50 年代末 60 年代初，评弹再次焕发了新春，许多传统书目被保存、整理和传承，同时大量新的评弹书目不断推出。评弹艺术的再度发展主要得益于

A. 社会民众强烈需求

B. “双百”方针提出

C. 国民经济恢复发展

D. 社会主义制度确立

18. 中国某个时期报纸上多次出现亩地小麦面产几万斤的消息，类似的报道屡见不鲜，这反映了当时的中国

A. 经济建设突飞猛进

B. 人民生产热情高涨

C. 出现了“左”倾错误

D. 改革开放成效显著

19. 在《存天的故事》里有这样几句歌词：“1979 年，那是一个春天，有位老人在中国的南海边画了一个圈。”这个圈是指

A. 实行民族区域自治

B. 建立经济特区

C. 开发上海浦东

D. 收回香港、澳门

20. 建设有中国特色社会主义理论是邓小平同志集全党全国人民智慧创立的科学体系。这一理论在 1978 ~ 1992 年我国经济领域的体现是

A. 提出“一国两制”的构想

B. 阐述社会主义本质问题

C. 变革传统的农业经济体制

D. 建立社会主义市场经济体制

21. “三面环水、港湾众多的地理特征造成了大批城邦的诞生与发展。”这段话描述的古文明是

A. 古希腊文明

B. 罗马帝国文明

C. 古中国文明

D. 古埃及文明

22. 下表是雅典城邦民主政治顶峰时期人口居民构成表，该表反映出的信息是

居民构成	奴隶	妇女	外邦人	雅典成年男性公民
人数（城用人口总数约 40 万人）	20 万	4.2 万	3.2 万	4.2 万

- A. 雅典民主是直接民主  
B. 雅典民主是代议制民主  
C. 雅典民主是少数人的民主  
D. 雅典民主是多数人的民主

23. 1348 年，黑死病传遍欧洲，给整个欧洲毁灭性打击。佛罗伦萨如地狱一般，无计可施的市民只能举行盛大游行，向上帝忏悔，结果更多的人感染了瘟疫，无路可走的人们开始酗酒玩乐、日夜狂欢，用纵情享乐忘记身边的痛苦。这一变化

- A. 使罗马教会对欧洲的控制动摇  
B. 促使人文主义思想的加速到来  
C. 体现了人民救助瘟疫能力有限  
D. 导致了欧洲商路中心向西转移

24. 世界上第一部成文宪法，有序言和本文 7 条，全文不过 7000 字，其重要特点之一是只列基本原则。两百多年来，除增加一些修正案外，至今仍然使用。这部宪法是

- A. 英国《权利法案》  
B. 美国 1787 年宪法  
C. 法兰西第三共和国宪法  
D. 《德意志帝国宪法》

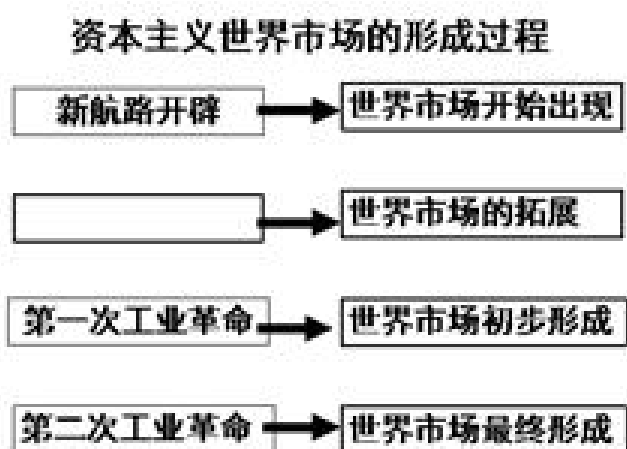
25. 在现代英国政治生活中，处于权力中心地位的是

- A. 国王  
B. 首相  
C. 内阁  
D. 议会

26. 18 世纪末英国公共卫生专家称，“就穷人拥挤在令人作呕、黑暗潮湿、狭小不堪的住宅（这是繁殖疾病的非常肥沃的土壤）的稠密情况而言，曼彻斯特不幸也赶得上，甚至超过了伦敦”。这反映了当时英国

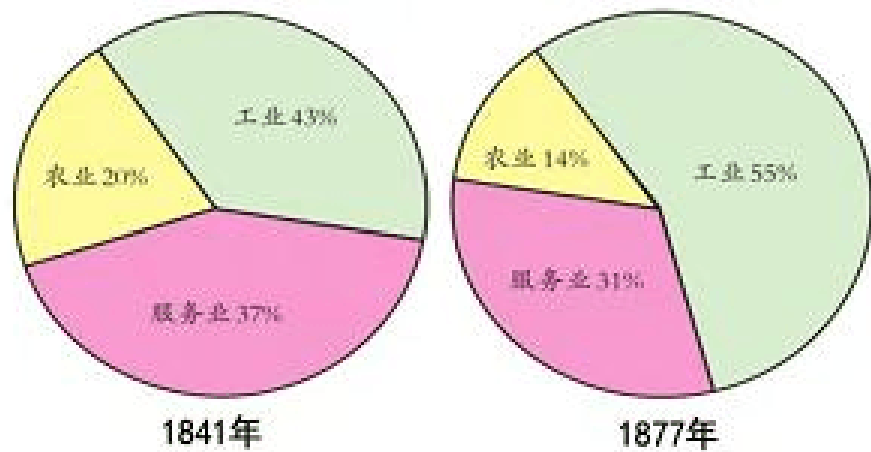
- A. 政府关注社会问题  
B. 阶级矛盾异常尖锐复杂  
C. 城市化问题凸现  
D. 伦敦经济地位受到冲击

27. 如图是某同学整理的知识结构示意图，空格中应该填写的是



- A. 人类史上的首次环球航行  
B. 西方列强的早期殖民扩张  
C. 德国卡尔·本茨发明汽车  
D. 美国莱特兄弟制成了飞机

28. 如图是《英国就业人口结构的变化》示意图，据此可知这一时期英国



- A. 工业发展迅速      B. 农业经济衰退      C. 贫富差距缩小      D. 服务业占主体

29. 有学者将国际社会主义运动在 20 世纪 20 年代之前的发展特点简要地归纳为“由空想到科学，由理论到实践，由理想到现实。”实现“由理想到现实”的标志是

- A. 《共产党宣言》的发表      B. 巴黎公社的建立  
C. 中国共产党的诞生      D. 十月革命的胜利

30. 1935 年 8 月，美国国会通过的《社会保险法》明确规定，达到退休年纪的劳动人员，依据他们自身的不同工资情况，每月能够获得 10—85 美元的养老金。据此可知，该法案的实施

- A. 缓和了社会矛盾      B. 促进了经济快速发展  
C. 增加了就业机会      D. 提高了工人生活水平

31. 1968 年 7 月，欧共体六国实现了农产品的统一价格。1969 年，共同体内部完全取消主要农产品关税，对外征收差价税。欧共体的做法

- A. 促进了成员国对外贸易额增加      B. 加速了世界范围内农产品的流通  
C. 推动了成员国统一市场的发展      D. 巩固了成员国政治经济一体化成果

32. 1960 年 10 月，伦敦黄金市场价格猛涨到每盎司 41.5 美元，超过官价 18.57%，为此，美国联合英国、法国、西德等八个国家于 1961 年建立黄金总库，共拿出 2.7 亿美元黄金，负责维持黄金价格，并采取手段阻止外国政府持美元向美国兑换黄金。这表明

- A. 布雷顿森林体系已经瓦解      B. 世界经济多极化加速发展  
C. 美国的经济进入滞胀阶段      D. 美元的收支状况不断恶化

33. 1917 年的俄国革命经历了明显的四个阶段，其中空白处应填

二月革命	推翻沙皇
	指明方向
七月事件	改变方针
十月革命	建立政权

- A. 《土地法令》
- B. 《和平法令》
- C. 《告工人、士兵和农民书》
- D. 《四月提纲》

4.下列情景有可能出现在 1920 年苏俄社会的是

- A. 集体农庄大量建立
- B. 因出售粮食被逮捕
- C. 农民缴纳固定的粮食税
- D. 允许资本家经营中小企业

5.第二次世界大战后，亚非拉国家为维护国家主权、争取民族独立进行了坚决的斗争，掀起了民族独立运动的高潮。属于二战后拉丁美洲人民维护国家权益的斗争是

- A. 万隆会议的召开
- B. 拉丁美洲独立运动
- C. 纳米比亚独立
- D. 巴拿马收回运河区主权

如图是 1947 年华君武画的一幅漫画，它讽刺的是美国的



- A. 冷战政策
- B. 杜鲁门主义
- C. “北约”的建立
- D. 马歇尔计划

7.从 1947 年开始，法国政府先后实施了 11 个经济发展计划，重点发展的汽车、航空、原子能等产业也主要以国家投资为主。同样，从 20 世纪 50 年代中期开始，日本政府也积极制定了一系列经济发展计划。法国和日本的这些措施

- A. 加强了国家对经济的干预
- B. 缓解了“滞胀”现象
- C. 仍然坚守自由放任的政策
- D. 彻底粉碎了军国主义

苏联总统戈尔巴乔夫在 1991 年 12 月 25 日辞职演讲中说：“我们什么都多：土地、石油和天然气、其他自然资源；智慧和才能也都不错。我们的生活却比发达国家差得多，越来越落在他们的后面。”造成苏联“比发达国家差得多”的最主要原因应该是

- A. 经济建设模式的弊端重重
- B. 资本主义阵营的经济封锁
- C. 军备竞赛活动的负担沉重
- D. 现代信息技术的发展滞后

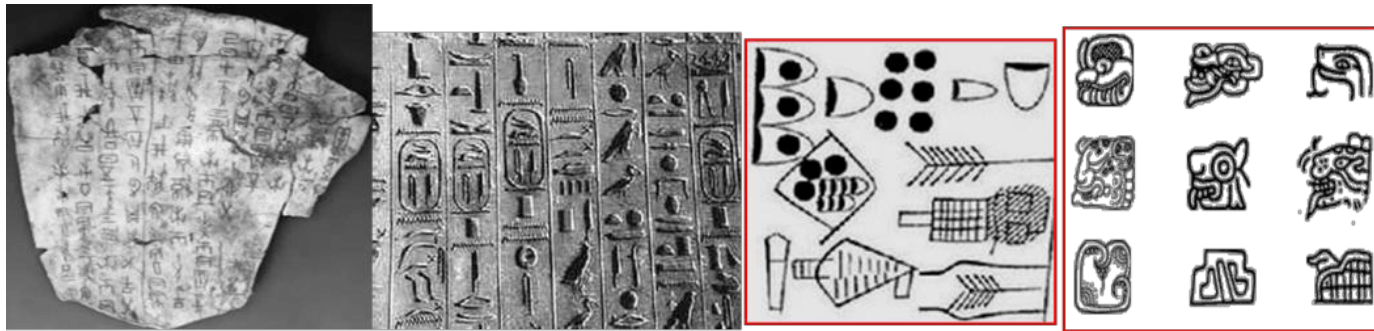


3. 二战后初期三大经济支柱的形成, 是世界经济朝着体系化和制度化方向发展的反映。在此基础上, 战后资本主义经济体系形成。这“三大经济支柱”的是

①国际货币基金组织 ②国际复兴开发银行 ③亚太经济合作组织 ④“关贸总协定”

- A. ①②③                      B. ②③④                      C. ①②④                      D. ①③④

观察下列图片, 对图片解读正确的是



出土的甲骨文                      圣书字                      楔形文字                      玛雅文字

- A. 反映了世界文化的多样性特征                      B. 所代表的区域文明均来自于大河流域  
C. 所代表的区域文字具有同源性                      D. 反映了世界各地文明发展是一脉相承

## 二、非选择题

1. 从某种意义上来说, 近现代史就是一部现代化的发展史, 而现代化的核心是人的现代化, 也就是人通过努力逐渐解除各种束缚而获得自身解放的历史。阅读材料, 回答问题

材料一 文明 所以 , 其 一 , 而 自 , 其总 也, 所以有 , 世 时, 古学复兴, 会 , 一 界 性。

梁启超 非所以

材料二近代法国史学 薛纽伯 说: “ 时的法律是 的, 人 成一些 的阶级 现在 社会是 ( 主) 的, 使一 人在法律 。”

自 法 薛纽伯 现代文明史

材料三 “机器人革命”是第三次工业革命的有机组成部 。如 说第二次工业革命 现了机器对人的 体力 的 代, “机器人革命” 了机器对人的 力 的 。 于机器的 和对人的 代, 一生产 中对人的 相对下 : 着机器复 度的 , 际.上对产业工人在多 域的 和 、系 方 的 出了 。

自人 第三次工业革命的 和

请回答:

- (1) 材料一中的“古学复兴”指什么? 梁启超认为其意义是什么?
- (2) 材料二中薛纽伯认为“现在社会”法律对人的意义是什么? 并以资产阶级革命时代的美、法两国颁布的法律文献及其内容予以说明(任举一例)。
- (3) 根据材料三, 指出第二次工业革命是如何使人得到解放的? “机器人革命”对人产生了哪些影响?

## 2 中日文化交流史上的“一级历史资料”

2 年 2 日 一方日本遣唐使墓志 京 日本 。这方墓志 于  
3 上 有 11 被视为中日文化交流史上的“一级历史资料”。

是墓志 :

公墓志文 公 日本。 上 。  
。 学 开元 年  
日 于 。

请回答:

- (1) “开元”是什么纪年方法?为何这方墓志被视为中日文化交流史上的“一级历史资料”?
- (2) 简述唐文化对日本的影响。
- (3) 从墓志文中你获取哪些关于这位日本遣唐使的信息?



## 2021/2022 学年度第一学期高二合格性

### 综合练习二历史试卷 答案

#### 一、单项选择题

1 2019年7月6日，在联合国教科文组织世界遗产委员会第43届会议上，中国良渚古城遗址成功申报世界文化遗产。与良渚文化同时存在的中国北方原始文化类型是

河姆渡文化

红山文化

大汶口文化

仰韶文化

【答案】

【解析】

【详解】根据所学知识可知，良渚文化是我国长江下游地区的新石器时代文化，分布地点在长江下游的太湖地区，距今约为3000年至4200年。红山文化属于我国北方地区的新石器时代文化，距今约8000年左右，符合题意要求，所以正确；河姆渡文化，是指中国长江流域下游以南地区古老而多姿的新石器时代文化，距今约7000年前，不符合题意要求，所以错误；大汶口文化是分布于鲁中南及东南丘陵地区和江苏淮北一代，年代自公元前4300年至前2400年左右，不符合题意要求，所以错误；仰韶文化，是指黄河中游地区一种重要的新石器时代彩陶文化，其持续时间大约在公元前5000年至前3000年，不符合题意要求，所以错误。

2 《诗经·小雅》中记载：“普天之下，莫非王土；率土之滨，莫非王臣。”这段话描述的政治制度是

分封制

宗法制

礼乐制

郡县制

【答案】

【解析】

【详解】结合所学内容可知，“普天之下，莫非王土；率土之滨，莫非王臣”体现的是分封制，A项正确；材料体现的是分封制，不是宗法制、礼乐制和郡县制，排除B、C、D项。故选A项。

3 有学者认为，中华大地从东北到西南，从草原到岭南，凡是中央王朝统治所及之地，无不渐染儒风，最终都成为儒学的教化之地。这种现象始于

秦代

汉代

唐代

宋代

【答案】

【解析】

【详解】根据材料可知，反映了儒学在全国范围内广泛传播的现象，结合所学知识，可知这一现象开始于西汉时期汉武帝“罢黜百家，独尊儒术”，确立了儒学的正统思想地位，A项正确；秦代实行“焚书坑儒”政策，儒学受到严重压制，排除B项；西汉时期儒学正统地位已经确立，唐代、宋代均晚于汉代，排除C、D项。故选A项。

.《贾谊·治安策》载：“欲天下之治安，莫若众建诸侯而少其力，国小则亡邪心。”贾谊这一主张后来被汉武帝继承，实行了

- A. 郡县制                      B. 推恩令                      C. 行省制                      D. 分封制

【答案】B

【解析】

【分析】

【详解】根据所学，汉武帝采纳主父偃的建议，实行推恩令，下诏允许诸侯王除以嫡长子继承王位外，可将封地再次分封给其他子弟作为侯国，由皇帝制定封号；武帝又找各种借口削爵、夺地甚至除国，严厉镇压他们的叛乱。加强了中央集权。B项正确；A项是秦朝已经推行的，排除A项；C项是元朝，D项是西周，排除CD项。故选B项。

【点睛】

.《后汉书》卷七十八《宦者列传》记载：“伦乃造意，用树肤、麻头及敝布、渔网以为纸。元兴元年奏上之，帝善其能，自是莫不从用焉，故天下咸称蔡侯纸。”由此可知，蔡侯纸

- A. 发轫中国造纸历史                      B. 原料来源得以扩大  
C. 制造工艺更加复杂                      D. 生产遍布全国各地

【答案】B

【解析】

【详解】根据材料“伦乃造意，用树肤、麻头及敝布、渔网以为纸。元兴元年奏上之，帝善其能，自是莫不从用焉，故天下咸称蔡侯纸”可知，蔡伦用树皮、麻头、破布、旧渔网造纸，说明蔡侯纸原料来源得到扩大，B项正确；根据所学知识可知，西汉时期已经有书写用纸，因此蔡侯纸不是我国造纸历史的发轫，排除A项；材料内容主要体现了蔡侯纸原料来源，没有体现制造工艺的问题，无法得出制造工艺更加复杂的结论，排除C项；材料内容主要体现了蔡伦用树皮、麻头、破布、旧渔网造纸，说明蔡侯纸原料来源得到扩大，没有体现蔡侯纸生产的分布，排除D项；故选B项。

.东汉光武帝于尚书台设尚书令、尚书仆射、六曹尚书各一人，分掌各项政务，所有一切政令都由尚书台直接禀陈皇帝，由皇帝裁决，形成了“虽置三公，事归台阁”“天下事皆上尚书，与人主参决，乃下三（公）府”的政治格局。这一变化说明光武帝

- A. 沿袭西汉中朝制度                      B. 吸取王莽改制教训  
C. 加紧对地方的掌控                      D. 强化专制主义皇权

【答案】D

【解析】

【详解】结合所学可知，封建皇帝为了加强专制，总是采取措施削弱相权 所有一切政令都由尚书台直接禀

陈皇帝，由皇帝裁决”置三公，事归台阁”天下事皆上尚书，与人主参决，乃下三（公）府”正是光武帝通过尚书台削弱相权的措施，这有利于加强皇权，故 D 项正确；材料强调的是尚书台并非中朝，排除 A 项；王莽改制失败的原因是措施不符合时代潮流，这和材料无关，排除 B 项；光武帝通过尚书台削弱的是相权，加强的君主专制，排除 C 项。故选 D 项。

.有学者说：“魏碑书法，笔划严谨，字形规整，上可窥汉秦旧范，下能察隋唐习风。”据此判断魏碑字体属于

- A. 小篆                      B. 草书                      C. 楷书                      D. 行书

**【答案】** C

**【解析】**

**【详解】**“笔划严谨，字形规整”，这是楷书的特点，C 项正确；小篆、草书、行书与题干描述的字体特征不符，排除 A、B、D 项。故选 C 项。

.唐朝是一个诗的国度，诗也见证了社会变迁。如“十里长街市井连”、“入蜀经蛮远别离”、“夜市千灯照碧云”。从这些诗中反映了唐朝

- ①商人远行贩运              ②夜市繁荣              ③商帮形成              ④草市绵延不绝
- A. ①②                      B. ③④                      C. ①③                      D. ②④

**【答案】** A

**【解析】**

**【分析】**

**【详解】**“入蜀经蛮远别离”体现了商人远行贩运，“夜市千灯照碧云”体现了夜市繁荣，商帮形成是在明朝，草市绵延不绝是民间集市，不符合“十里长街市井连”。由此可知，①②正确，③④错误。A 项正确，排除 BCD 项。故选 A 项。

. 世纪 年代，罗斯福经常通过自己的团队迅速起草制订各种他认为必要的法律，然后提交国会批准，过去那种仅由总统建议、国会立法的方式被完全替代。这反映出当时美国

- A. 立法主体的变化                      B. 行政权力的扩张
- C. 联邦体制的危机                      D. 分权体制的质变

**【答案】** B

**【解析】**

**【详解】**根据材料“罗斯福经常通过自己的团队迅速起草制订各种他认为必要的法律”“过去那种仅由总统建议、国会立法的方式被完全替代”等信息可知，面对空前严重的经济危机，罗斯福在实行新政时期动用宪法赋予总统的紧急处理权，经常通过自己的团队迅速起草制订各种他认为必要的法律，说明这时期美国新政权有所扩大，B 项正确；美国立法主体是国会，没有发生变化，并且材料内容没有体现立法主体的变

化，A 项错误；这时期为摆脱经济危机，罗斯福在实行新政时期动用宪法赋予总统的紧急处理权，行政权有所扩大，但不代表联邦体制出现危机，相反材料所述措施推动美国摆脱经济危机，C 项错误；罗斯福新政时期罗斯福通过自己的团队迅速起草制订各种他认为必要的法律符合美国宪法的规定，分权体制没有发生质变，D 项错误。

在宋朝，使“朝为田舍郎，暮登天子堂”成为现实的选官制度是

- A. 军功爵制                      B. 察举制                      C. 九品中正制                      D. 科举制

【答案】D

【解析】

【分析】

【详解】“朝为田舍郎，暮登天子堂”反映的是科举中榜后的情景，D 项正确；ABC 项错误。故选 D 项。

【点睛】

唐律规定“奴婢比之资财”，“律比畜产”，地位低下。宋代除少数官奴婢外，私奴往往订立契约，约以时限，付以雇值，又称“女使”。这反映了宋代

- A. 宗法等级观念淡薄                      B. 人身依附关系弱化  
C. 女性政治地位提高                      D. 雇佣劳动开始出现

【答案】B

【解析】

【详解】材料“私奴往往订立契约，约以时限，付以雇值”体现的是宋朝对于下人之间的关系相对唐朝来说，更侧重于契约关系，说明的是当时人身依附关系的弱化，B 正确；材料未涉及宗法血缘关系，A 排除；女性在封建社会属于男权的附庸，C 排除；雇佣劳动早在秦朝时期就已经出现，如《史记》中记载陈涉与人佣耕，D 排除。故选 B。

20 世纪 60 年代，美国前国务卿杜勒斯攻击不结盟是“一种不道德的近视的概念”，苏联也预言这个运动“像走钢丝一样长不了”。这些现象说明了不结盟运动

- A. 形成了与美苏抗衡的军事政治集团                      B. 改变了超级大国对世界事务的控制  
C. 是国际政治舞台上的一支重要力量                      D. 缺乏明确而坚定的基本原则和宗旨

【答案】C

【解析】

【分析】试题分析：不结盟运动。广大亚非拉国家为了摆脱苏美的控制和维护自身的独立，主张团结起来，不结盟运动的兴起，标志着广大发展中国家所构成的政治力量登上了国际政治舞台，在一定程度上冲击了两级格局。故 C 项正确。

以上内容仅为本文档的试下载部分，为可阅读页数的一半内容。如要下载或阅读全文，请访问：<https://d.book118.com/667122021065006032>