

2024 年普通高等学校招生全国统一考试

文科综合能力测试（北京卷）

本试卷共 16 页，共 300 分，考试时长 150 分钟。考生务必将答案答在答题卡上，在试卷上作答无效。考试结束后，将本试卷和答题卡一并交回。

第一局部（选择题共 140 分）

本局部共 35 小题，每题 4 分，共 140 分。在每题列出的四个选项中，选出最符合题目要求的一项。

2024 年 4 月，川藏铁路成都至雅安段开始铺轨。读图 1，答复第 1-3 题。



图 1 川藏铁路沿线区域简图

1. 与成都相比，拉萨
 - A. 日出早白昼长
 - B. 正午太阳高度角小
 - C. 海拔高，日照强
 - D. 大气逆辐射强
2. 图示区域
 - A. 地处板块的生长边界
 - B. 河流的流向自西向东
 - C. 自然景观为高寒荒漠
 - D. 跨地势第一、二级阶梯
3. 川藏铁路开通后，能够
 - ①缓解青藏铁路运输压力
 - ②改善西藏物资供应
 - ③消除区域内灾害的影响

④促进地域文化交流

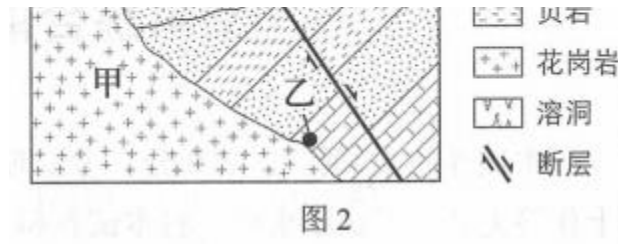
A. ①②③

B. ①②④

C. ①③④

D. ②③④

图 2 为地的地质平面示意图，读图，答复第 4 题。



4. 图中

- A. 甲处的物质主要来源于地壳
- B. 断层发生在花岗岩形成之后
- C. 岩浆侵入可能导致乙处岩石变质
- D. 丙处的溶洞景观由岩浆活动造成

读图 3，答复第 5 题。


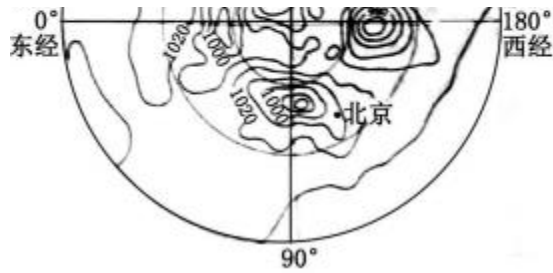


图3 四个大洲不同海拔面积比例及纬度范围

5. 四个大洲中，

- A. 甲地形复杂多样，中低产田多，农业生产技术落后
- B. 乙平原广，高纬地区受寒流影响强，港口封冻期长
- C. 丙纬度跨度大，地形中部高四周低，是水稻主产区
- D. 丁为高原大陆，人口自然增长率低，城市化水平高

图 4 为北半球某日 02 时海平面气压分布图〔单位:百帕〕，读图，答复第 6、7 题。



6. 据图推断

- A. 北京风速大，风向偏东南
- B. 甲地可能出现强降水天气
- C. 极地气温低，气压值最高
- D. 热带太平洋洋面生成台风

7. 依据气压分布，该日最接近

- A. 冬至
- B. 小满
- C. 夏至
- D. 立秋

随着汽车等工业产品的废弃量增加，主要利用废钢冶炼的电炉炼钢技术日渐普及。图 5 示意国外某流

域的钢铁厂分布，读图，答复第 8 题。

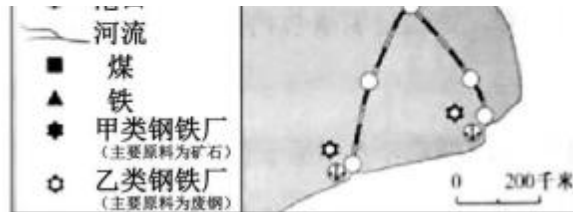


图5

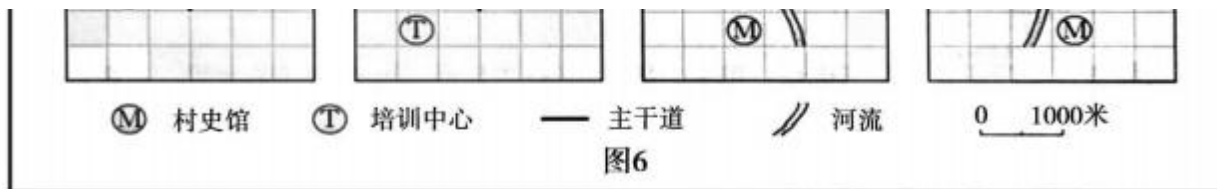
8. 甲、乙两类钢铁厂在区位选择上均靠近

- ①铁矿
- ②大城市
- ③交通线路
- ④钢铁消费量

- A. ①②
- B. ③④
- C. ①③
- D. ②④

在乡村振兴方案中某行政村拟修建的村史馆和培训中心分别位于该村西南部和东北部。该村东西宽 2

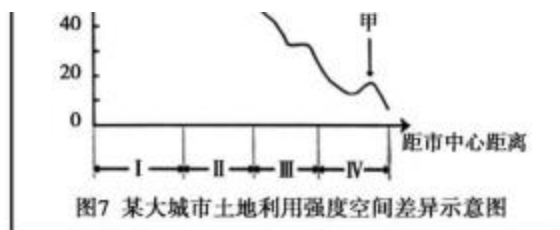
千米，南北长 1 千米，主干道从南向北穿过河流自东向西流经该村。读图 6，答复第 9 题。



9. 与上述信息相符的是

- A. 甲 B. 乙 C. 丙 D. 丁

城市某区域土地利用强度，可以用建设用地面积占该区域土地面积的比值表示。读图 7，答复第 10、11 题。



10. 该城市

- A. I 区高档写字楼密度大 B. II 区适宜建垃圾填埋场
C. III 区商业网点最为密集 D. IV 区城市热岛效应最强

11. 甲处土地利用强度增大，最可能的原因是

- A. 建设民俗博物馆 B. 划定耕地保护区 C. 增加种植业投入 D. 扩大卫星城规模

12. “王”字在甲骨文中是一把斧头的形象，象征军事首领的征伐权利，战国时期，孟子认为，“以力假仁者霸……以德行仁者王”，他的观点

- A. 与甲骨文“王”字的本义一致
B. 是“无为而治”的理论依据

- C. 表达出儒家强调教化的政治理念
- D. 奠定了宗法制度的思想根底

13. 南宋年初“中原士民、扶携南渡，不知其几千万人”，南方地区小麦价格暴涨，“农获其利，倍于种稻”，小麦在南方大规模种植，南稻北麦的粮食作物分布格局被打破，对此认识正确的选项是

- ①南迁的北方人民对面食的需求推动小麦种植
- ②《农政全书》的刊刻推广了先进的种植技术
- ③稻麦兼种技术的开展为小麦种植提供了条件
- ④曲辕犁开始从北方引入，促进生产效率提高

A. ①② B. ①③ C. ①④ D. ②③

14. 乾隆继位之初，曾裁撤军机处，但第二年又下旨：“目前两路军务尚未全竣，且联日理万机，亦间有特召交出之事，仍须就近承办”，将其恢复，此后军机处“军国大计，罔不总揽”“内阁宰辅名存而已”。

这说明

- A. 清朝内阁权利得到加强
- B. 清朝中央集权遭到削弱
- C. 军机大臣获得宰相职位
- D. 军机处有助于加强皇权

15. 明中叶以来，松江府（今上海一带）所辖市镇数量如下表所示，据此表可以得

时间	松江市镇数量
1550 年以前	59
1551—1722 年	113
1723—1861 年	167
1862 年	369

- ①市镇数量增长体现出商人地位上升
- ②明清时期松江地区工商业开展较快
- ③市镇增多与近代开放通商口岸有关
- ④清政府与民国政府都重视商业开展

A. ①④ B. ②③ C. ②④ D. ①③

16. 1903 年，林舒编译的《伊索寓言》出版，书中有一那么故事：狮王与群兽立约，羊由狼管辖，兔子由狗管辖，彼此友好，和平共处。兔子感慨说，我期待这一天很久了，但真能实现吗？故事后的按语说：“今有盛强之国，以吞灭为性，一旦忽言弭兵，亦王狮之约众耳！弱者国于其旁，果如兔之先见耶”林舒

意在

- A. 提醒中国人警惕被侵略瓜分的危险
- B. 颂扬人类社会弱肉强食的生存法那么

C. 呼吁世界列强承担保护弱国的责任

D. 煽动中国民众推翻清政府残暴统治

17. 国民革命失败后，苏共领导人曾认为，中国红军不可能在农村有所作为，只能等待时机配合城市工人

暴动。但是，毛泽东成功探索出一条中国革命的独持道路。对这一探索历程表述准确的是

A. 南昌起义→遵义会议→“星星之火，可以燎原”

B. 中共“七大” →“工农武装割据” →敌后游击战

C. 秋收起义→“工农武装割据” →中共“七大”

D. 遵义会议→井冈山道路→“论持久战”

18. 图 8 取材于 1945 年一幅名为“端赖合作”的漫画，该漫画反映出



A. 国共联合进行淞沪会战，抵抗日军进攻

B. “双十协定”是重庆政治协商会议的成果

C. 重庆谈判后抗日民族统一战线得以建立

D. 抗战胜利前后国人对和平前景充满期盼

19. 抗美援朝战争进入对峙阶段后，1951 年 6 月，苏联提议，五大国（苏联、法国、英国、美国、中华人民共和国）缔结和平公约，新中国政府也表示，如今国际上任何重大问题，如果没有苏联和新中国参加都无法解决。随后，美国同意和谈。这说明

A. 抗美援朝极大地提高了新中国的国际地位

B. 社会主义阵营放弃与西方国家的冷战对峙

- C. 上述五大国在联合国中开始发挥决定作用
- D. 五大国缔结和约，实现了朝鲜半岛的统一

20. 民主选举是古代雅典政治的特色。为确保参政时机均等，有些职位甚至通过抽签产生但对于三列桨战舰舰长和许多公共文化活动主管等职位，那么指定由最富有阶层的人轮流担任，且自己负担全部费用，雅典的这些举措
- A. 引发了贫富之间的对立
 - B. 说明其文化事业不兴旺
 - C. 有助于社会及政治稳定
 - D. 实现了绝对平等的理念
21. 明治维新前，日本只有贵族和武士才有姓，19世纪70年代，为便于征兵、征税和编制户籍，明治政府规定“凡国民，必须取姓”，这样做的主要目的是
- A. 推动国民平等，加强对百姓的管理
 - B. 引进西方生活方式，促进文明开化
 - C. 实行废藩置县，强化中央集权
 - D. 鼓励殖产兴业，实现富国强兵
22. 读图9，以下选项能够正确反映美国政府财政盈亏及其原因的是

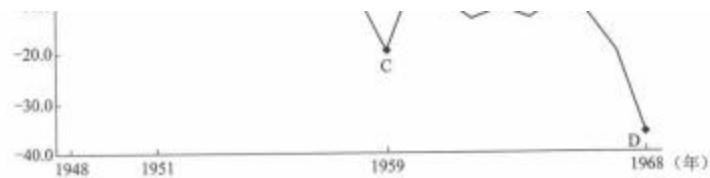


图9 1948—1968年美国政府财政盈亏示意图 (单位: 10亿美元)

- A. “马歇尔方案”从欧洲吸引援助使美国财政盈余
 - B. 古巴导弹危机的紧张局势给美国财政造成赤字
 - C. 美国人首次登上月球，给美国财政带来了盈余
 - D. 美国深陷越南战争的泥潭，给政府造成了赤字
23. 1956年7月，印度、埃及和南斯拉夫共同发表宣言，反对“把世界分为强有力的国家集团”，该宣言
- A. 成为亚太经合组织的指导方针
 - B. 奠定了不结盟运动的政治根底

- C. 推动了北大西洋公约组织的成立
- D. 促成了国际货币基金组织的建立

24. 每年三四月间，居庸关长城附近山花盛放。市郊铁路 S2 线列车穿行于花海中，被称为“开往春大的列车”，吸引了大量踏青的游客，游客的涌入给森林消防和轨道交通带来了平安隐患，当地政府采取封山禁入措施，但效果不理想，于是转变思路，变堵为疏，着手规划建设花海列车观景平台。这一做法



图 10

- ①履行了政府的市场监管职能，有利于建立良好市场秩序
- ②自觉运用矛盾观点，创造条件，将风险点转化为共赢点
- ③有利于满足人们的精神文化需求，带动当地旅游业开展
- ④有利于开发该线路的经济价值，说明文化的力量来自于经济

A. ①③

B. ①④

C. ②③

D. ②④

25. 山脊上，代表中华悠久文化的长城蜿蜒曲折；山腰间，詹天佑创造性设计的“人”字形铁路折回而上；地表下，运用当代中国先进技术建造的京张高铁穿行向前。为防止破坏沿线文物和环境，京张高铁建设者采用“精准微爆破”等技术，在地下 100 多米建造隧道，做到施工地表零沉降，实现了高铁与环境和谐共存。以下分析正确的选项是

- A. 京张高铁与“人”字形铁路是新旧事物的关系
- B. 工程设计与施工水平的提高说明实践活动具有社会历史性
- C. 建设者的创新意识是高铁成功建设的首要前提
- D. 高铁与环境和谐共存表达了矛盾同一性是推动事物开展的动力

26. 万古奔腾的长江，孕育着源远流长的中华文明，为全面展示新时代长江的自然风貌和文化景观，多位艺术家深入长江流域采风，创作了巨幅长卷《长江万里图》，该作品雄浑磅礴、风光万千，画出了一条中国人心中砥砺奋进的文化长河，《长江万里图》的创作



图 11 《长江万里图》局部

①表达了自然性与人文性的统一

以上内容仅为本文档的试下载部分，为可阅读页数的一半内容。如要下载或阅读全文，请访问：<https://d.book118.com/696101120002010111>