

# 广西柳州市 2024 科目一模拟考试 100 题含答案版

1、机动车登记证书丢失后应及时补办，避免被不法分子利用。

A、正确

B、错误

正确答案：A

分析：机动车登记证书丢失后应尽快补办，是正确的。

2、下列属于机动车驾驶证审验内容的是哪项？

A、驾驶车辆累计行驶里程

B、机动车检验情况

C、记分周期满 12 分

D、身体条件情况

正确答案：D

分析：《机动车驾驶证申领和使用规定》第七十三条 机动车驾驶证审验内容包括：（一）道路交通安全违法行为、交通事故处理情况；（二）身体条件情况；（三）道路交通安全违法行为记分及记满 12 分后参加学习和考试情况。

3、在隧道内行车时，如果前方发生突发情况，与前车保持足够的安全车距可以让驾驶人有足够的反应时间和避让空间。


A、正确

B、错误

正确答案：A

分析：隧道内行车尽量保持低速匀速行驶，保持合理的安全距离和车速。安全车距是指后方车辆为了避免与前方车辆发生意外碰撞而在行驶中与前车所保持的必要间隔距离。保持安全车距可以让驾驶员有足够的反应时间和避让空间，是防止追尾事故最直接、最有效、最广泛和最根本的方法。

4、路中两条双黄色虚线是什么标线？



- A、单向分道线
- B、可跨越分道线
- C、潮汐车道线
- D、双向分道线

正确答案：C

分析：“潮汐车道”是指根据早晚交通流量不同情况，对有条件的道路，试点开辟潮汐车道，通过车道灯的指示方向变化，控制主干道车道行驶方向，来调整车道数，提高车道使用效率。

5、在高速公路上遇分流交通管制时，可不驶出高速公路，就地靠边停靠等待管制结束后继续前行。

- A、正确
- B、错误

正确答案：B

分析：高速公路的分流交通管制就是指在高速公路上遇到紧急情况时，将后续来车在匝道口进行管制通行，避免次生事故和交通拥堵，亦或是有紧急交通勤务警卫，需要提前封闭道路，故提前分流车辆。

6、在这条车道行驶的最低车速是多少？



- A、60 公里/小时
- B、90 公里/小时
- C、100 公里/小时
- D、110 公里/小时

正确答案：C

分析：同方向有 2 条车道的，左侧车道的最低车速为每小时 100 公里；同方向有 3 条以上车道的，最左侧车道的最低车速为每小时 110 公里，中间车道的最低车速为每小时 90 公里。

7、机动车驾驶证遗失的，机动车驾驶人应当向哪里的车辆管理所申请补发？

- A、核发地
- B、暂住地
- C、居住地
- D、户籍地

正确答案：A

分析：驾驶证遗失、损毁无法辨认时驾驶员应当向驾驶证核发地车辆管理所申请补发。

8、车辆在下坡行驶时，可充分利用空挡滑行。

- A、正确
- B、错误

正确答案：B

分析：危险动作，下坡时，不准熄火或用空挡。如果下坡空挡滑行，只靠刹车来控制车速，

遇到连续下坡的时候可能会造成刹车负担过重，刹车片过热而失灵。

9、有这种信号灯的路口允许机动车如何行驶？



- A、向左转弯
- B、直行通过
- C、向右转弯
- D、停车等待

正确答案：C

分析：只有右转的灯是绿灯，所以可以向右转弯。

10、驾驶机动车在高速公路上行驶，遇有雾、雨、雪、沙尘、冰雹等低能见度气象条件下，能见度在 100 米以下时，车速不得超过每小时多少公里，与同车道前车至少保持多少米的距离？

- A、40，50
- B、40，40
- C、50，40
- D、50，30

正确答案：A

分析：能见度小于 200 米时，开启雾灯、近光灯、示廓灯和前后位灯，车速不得超过每小时 60 公里，与同车道前车保持 100 米以上的距离；能见度小于 100 米时，开启雾灯、近光灯、示廓灯、前后位灯和危险报警闪光灯，车速不得超过每小时 40 公里，与同车道前车保持 50 米以上的距离；能见度小于 50 米时，开启雾灯、近光灯、示廓灯、前后位灯和危险报警闪光灯，车速不得超过每小时 20 公里，并从最近的出口尽快驶离高速公路。

11、机动车仪表板上（如图所示）亮时，表示什么？



- A、迎面吹风
- B、空气外循环
- C、空气内循环
- D、风窗玻璃除霜

正确答案：C

分析：此为空气内循环，当箭头是从车外进来的就是空气外循环。

12、遇到这种情形时要停车避让行人。



- A、正确
- B、错误

正确答案：A

分析：答题以人为本，此题正确。

13、机动车驾驶人申请学法减分时，一个记分周期内，累计最高扣减几分？

- A、12分
- B、4分
- C、6分
- D、3分

正确答案：C

分析：《道路交通安全违法行为记分管理办法》规定：机动车驾驶人处理完交通违法行为记录后累积记分未满12分，参加公安机关交通管理部门组织的交通安全教育并达到规定要求的，可以申请在机动车驾驶人现有累积记分分值中扣减记分。在一个记分周期内累计最高扣减6分。

14、这个标志是何含义？



A、注意野生动物

B、注意牲畜

C、动物公园

D、开放的牧区

正确答案：A

分析：黄底是警告；牛是牲畜，鹿是野生动物。

15、驾驶机动车发生以下交通事故，哪种情况适用自行协商解决？

A、对方饮酒的

B、对事实及成因有争议的

C、未造成人身伤亡，对事实及成因无争议的

D、造成人身伤亡的

正确答案：C

分析：《中华人民共和国道路交通安全法实施条例》第八十六条规定：机动车与机动车、机动车与非机动车在道路上发生未造成人身伤亡的交通事故，当事人对事实及成因无争议的，在记录交通事故的时间、地点、对方当事人的姓名和联系方式、机动车牌号、驾驶证号、保险凭证号、碰撞部位，并共同签名后，撤离现场，自行协商损害赔偿事宜。当事人对交通事

故事实及成因有争议的，应当迅速报警。”

16、打开后雾灯开关，(如图所示)亮起。



A、正确

B、错误

正确答案：B

分析：前雾灯是朝左的，后雾灯是朝右的。

17、驾驶机动车进入环岛路口应按顺时针方向适时汇入车流，必要时减速或停车让行。

A、正确

B、错误

正确答案：B

分析：按顺时针方向行驶做法错误。因为环岛是交通事故多发地点，通过时应在距环岛 50-100 米处减速慢行，适时控制车速，以逆时针方向进入环岛。驶近环岛时，注意观察左侧已在环岛内行驶车辆的动态，适时汇入车流，必要时减速或停车让行。

18、驾驶纯电动汽车出行前，应确保电池电量充足，提前规划合适的路线，了解途中充电站或者充电桩的位置。

A、正确

B、错误

正确答案：A

分析：纯电动汽车的主要动力来源是电池，因此在出行前一定要查看剩余电量，确保出行电量充足，并了解途中的充电桩或者充电站位置，做到有备无患，以免途中发生电量不足导致无法行驶的情况。

19、在这种情形中前车怎样行驶？



- A、正常行驶
- B、及时让行
- C、开启危险报警闪光灯
- D、报不得变更车道

正确答案：B

分析：警察叔叔在执行公务，我们应该礼让。

20、这个标志是何含义？



- A、公交线路专用车道
- B、大型客车专用车道
- C、快速公交系统专用车道
- D、多乘员车辆专用车道

正确答案：A

分析：此为公交线路专用车道，与快速公交系统专用车道的区别是少了“快速公交”四个字。



21、车辆前轮胎爆裂，危险较大，方向会立刻向爆胎车轮一侧跑偏，直接影响驾驶人对转向盘的控制。

A、正确

B、错误

正确答案：A

分析：如果车速过快，很有可能造成事故。碰到这种情况的时候，切忌不要慌张，不要向相反的方向猛打方向盘，要尽量保持车子直线行驶，同时降低车速，切记不可急刹车，要缓慢降低车速，还有打开安全警告灯，注意后方来车，条件允许的话，把车子驶离行车道，靠右边车道停车。碰到这种情况，切记不要慌，首要的就是先稳住车辆。

22、如图所示，右前方 A 车若想左转，以下做法正确的是什么？



A、直行通过，重新选择行驶路线

B、从直行车道左转

C、直接变更到左转车道

D、向右转弯，重新选择行驶路线

正确答案：A

分析：A 车若想左转，应该行驶在左转弯车道，但从图中可以看出，A 车在直行车道，且左边是白色实线，此时不可以变更到左转车道，因此 A 车只能直行通过当前路口，重新选择行驶路线。

23、上道路行驶的机动车故意遮挡、污损、不按规定安装机动车号牌的一次记几分？

A、12分

B、6分

C、3分

D、2分

正确答案：A

分析：2013年最新规定：上道路行驶的机动车故意遮挡、污损、不按规定安装机动车号牌的一次记12分

24、B2表示哪种准驾车型？

A、大型货车

B、中型客车

C、大型客车

D、重型牵引挂车

正确答案：A

分析：A2为重型牵引挂车；B1为中型客车；B2为大型货车；A1为大型客车。

25、这个标志的含义是提醒车辆驾驶人前方是非机动车道。



A、正确

B、错误

正确答案：B

分析：警告标志注意非机动车。用以提醒车辆驾驶人注意慢行。设在经常有非机动车横穿、出入的地点前适当位置。


26、驾驶机动车前，以下说法错误的是什么？

- A、调整驾驶座椅，保证踩踏踏板舒适
- B、调整安全带的松紧与高低
- C、调整适合驾驶的方向盘位置
- D、调整安全头枕高度，使头枕正对驾驶人的颈椎

正确答案：D

分析：驾驶机动车前，需要：调整驾驶座椅，保证踩踏踏板舒适；调整安全带的松紧与高低；调整适合驾驶的方向盘位置。

27、遇到图中所示的情况，应怎样行驶？



- A、如果已经越过停止线就可以加速向右转弯
- B、只要不影响左侧车辆直行就可以右转弯
- C、不用考虑左侧车辆直接向右转弯
- D、等待左侧车辆直行通过后再向右转弯

正确答案：D

分析：车辆行驶过程中，转弯车辆让行直行车辆。右转让左转，左转让直行。

28、车辆临时靠边停车后准备起步时，应先怎样做？

- A、加油起步

B、鸣喇叭

C、观察周围交通情况

D、提高发动机转速

正确答案：C

分析：要是车边刚好有一脾气不好的牛，但你没有先观察到，一鸣喇叭，它一角给你的车顶上，不就麻烦了吗？所以先观察，后喇叭是对的。

29、下列做法是否正确？



A、正确

B、错误

正确答案：B

分析：图中的小型客车是在高速公路上充当牵引车，两车应该在最右侧车道上行驶。

30、驾驶人有下列哪种违法行为一次记12分？

A、驾驶货车运载爆炸物品，未按指定的时间、路线行驶的

B、驾驶机动车运载超限的不可解体的物品，未按指定时间、路线行驶的

C、代替实际机动车驾驶人接受交通违法行为处罚和记分牟取经济利益的

D、驾驶小型客车在高速公路上行驶超过规定时速百分之二十以上未达到百分之五十的

正确答案：C

分析：《道路交通安全违法行为记分管理办法》规定，机动车驾驶人有下列交通违法行为之一，一次记12分：（一）饮酒后驾驶机动车的；（二）造成致人轻伤以上或者死亡的交通事故后逃逸，尚不构成犯罪的；（三）使用伪造、变造的机动车号牌、行驶证、驾驶证、校

车标牌或者使用其他机动车号牌、行驶证的；（四）驾驶校车、公路客运汽车、旅游客运汽车载人超过核定人数百分之二十以上，或者驾驶其他载客汽车载人超过核定人数百分之百以上的；（五）驾驶校车、中型以上载客载货汽车、危险物品运输车辆在高速公路、城市快速路上行驶超过规定时速百分之二十以上，或者驾驶其他机动车在高速公路、城市快速路上行驶超过规定时速百分之五十以上的；（六）驾驶机动车在高速公路、城市快速路上倒车、逆行、穿越中央分隔带掉头的；（七）代替实际机动车驾驶人接受交通违法行为处罚和记分牟取经济利益的。

31、小型载客汽车驾驶人在一个记分周期内参加满分教育的次数每增加一次或者累积记分每增加 12 分，道路交通安全法律、法规和相关知识的学习时间增加七天，每次满分学习的天数最多六十天。

A、正确

B、错误

正确答案：A

分析：《道路交通安全违法行为记分管理办法》规定，机动车驾驶人在一个记分周期内参加满分教育的次数每增加一次或者累积记分每增加 12 分，道路交通安全法律、法规和相关知识的学习时间增加七天，每次满分学习的天数最多六十天。其中，大型客车、重型牵引挂车、城市公交车、中型客车、大型货车驾驶人在一个记分周期内参加满分教育的次数每增加一次或者累积记分每增加 12 分，道路交通安全法律、法规和相关知识的学习时间增加三十天，每次满分学习的天数最多一百二十天。

32、以下选项中，车身电子稳定控制系统的英文缩写是什么？

A、GPS

B、ESP

C、LDW

D、ACC

正确答案：B

分析：车身电子稳定系统（ESP），是对旨在提升车辆的操控表现的同时、有效地防止汽车达到其动态极限时失控的系统或程序的通称。电子稳定程序能提升车辆的安全性和操控性。

33、驾驶机动车在没有中心线的道路上遇相对方向来车时怎样行驶？

A、减速靠右行驶

B、借非机动车道行驶

C、紧靠路边行驶

D、靠路中心行驶

正确答案：A

分析：我们国家都是靠右行驶的，所以要尽快靠右避让

34、摩托车科目二考试内容包括：桩考、坡道定点停车和起步、通过单边桥。

A、正确

B、错误

正确答案：A

分析：《机动车驾驶证申领和使用规定》规定，科目二考试内容包括：（一）大型客车、重型牵引挂车、城市公交车、中型客车、大型货车考试桩考、坡道定点停车和起步、侧方停车、通过单边桥、曲线行驶、直角转弯、通过限宽门、窄路掉头，以及模拟高速公路、连续急弯山区路、隧道、雨（雾）天、湿滑路、紧急情况处置；（二）小型汽车、低速载货汽车考试倒车入库、坡道定点停车和起步、侧方停车、曲线行驶、直角转弯；（三）小型自动挡汽车、残疾人专用小型自动挡载客汽车考试倒车入库、侧方停车、曲线行驶、直角转弯；（四）轻型牵引挂车考试桩考、曲线行驶、直角转弯；（五）三轮汽车、普通三轮摩托车、普通二轮摩托车和轻便摩托车考试桩考、坡道定点停车和起步、通过单边桥；（六）轮式专用机械车、无轨电车、有轨电车的考试内容由省级公安机关交通管理部门确定。对第一款第一项至第三项规定的准驾车型，省级公安机关交通管理部门可以根据实际增加考试内容。

35、怎样通过这样的路口？



A、不减速通过

B、加速尽快通过

C、紧随前车通过

D、减速或停车观察

正确答案：D

分析：右侧为无人看守的铁路标志，既然是无人看守，您就得悠着点，减速或停车观察一下吧。

36、对驾驶过程中接打手持电话的看法正确的是？

- A、开车需要接打电话时，应该先找到安全的地方停车再操作
- B、根据驾龄和驾车技术，经验丰富的驾驶人可以在驾驶过程中接打手持电话
- C、在车流量不大的道路上驾驶时，短时接听手持电话是可以的
- D、开车过程中不主动打电话，但是有重要电话打进来是可以边开车边接听手持电话的

正确答案：A

分析：《道路交通安全法实施条例》规定：驾驶机动车不得有拨打接听手持电话的行为。

37、车辆驶近停在车站的公交车辆时，为预防公交车突然起步或行人从车前穿出，应怎样做？

- A、减速，保持足够间距，随时准备停车
- B、保持正常车速行驶
- C、随时准备紧急制动
- D、鸣喇叭提醒，加速通过

正确答案：A

分析：安全第一，以人为本。

38、驾驶人在实习期内单独驾驶机动车上高速公路行驶，会受到什么处罚？

- A、二十元以上二百元以下罚款
- B、记3分
- C、记6分
- D、吊销驾驶证

正确答案：A

分析：驾驶人在实习期内单独上高速行驶会处二十元以上二百元以下罚款。

39、关于醉酒驾驶机动车的处罚，以下说法错误的是什么？

A、公安机关交通管理部门约束至酒醒

B、吊销驾驶证

C、五年内不得重新取得机动车驾驶证

D、记6分

正确答案：D

分析：醉酒驾驶机动车的，由公安机关交通管理部门约束至酒醒，吊销机动车驾驶证，依法追究刑事责任；五年内不得重新取得机动车驾驶证。

40、驾驶机动车在人行横道上临时停车属于违法行为。

A、正确

B、错误

正确答案：A

分析：本题答案：正确，在人行横道上临时停车属于违法行为。

41、在这种环境里行车使用近光灯



A、正确

B、错误

正确答案：A

分析：注意看题，是这种环境，不是路口，近光灯不会影响人家的视线。



42、这个标志是何含义？



- A、禁止驶入
- B、禁止通行
- C、减速行驶
- D、限时进入

正确答案：B

分析：这个就是禁止通行呢，红圈圈。其他的禁止标志都是里面加辆车，然后是禁止 xx 通行。这应该好记！

43、如图所示，在超车过程中，遇对向有来车时要放弃超车是因为什么？



- A、如继续超车，易与对面机动车发生刮擦、相撞
- B、前车车速快
- C、对向来车车速快
- D、我方车辆提速太慢

正确答案：A

分析：对面来车了，此时不能超车，不然跟对向车撞起来了。

44、同一机动车所有人名下两辆机动车的号牌号码互换，以下说法正确的是什么？

A、同一机动车一年内可以多次互换变更机动车号牌号码

B、申请前两车无未处理的道路交通安全违法和交通事故记录

C、两辆机动车在不同辖区车辆管理所登记可以申请互换

D、两辆机动车使用性质为营运可以申请互换

正确答案：B

分析：《机动车登记规定》规定，同一机动车所有人名下机动车的号牌号码需要互换，符合以下情形的，可以向登记地车辆管理所申请变更登记：（一）两辆机动车在同一辖区车辆管理所登记；（二）两辆机动车属于同一号牌种类；（三）两辆机动车使用性质为非营运。机动车所有人应当确认申请信息，提交机动车所有人身份证明、两辆机动车的登记证书、行驶证、号牌。申请前，应当将两车的道路交通安全违法行为和交通事故处理完毕。车辆管理所应当自受理之日起一日内，审查提交的证明、凭证，在机动车登记证书上签注变更事项，收回两车的号牌、行驶证，重新核发号牌、行驶证和检验合格标志。同一机动车一年内可以互换变更一次机动车号牌号码。

45、办理残疾人专用小型自动挡载客汽车驾驶证业务时，身体条件证明自出具之日起多长时间之内有效？

A、3个月

B、6个月

C、1年

D、1个月

正确答案：B

分析：《机动车驾驶证申领和使用规定》规定：办理残疾人专用小型自动挡载客汽车驾驶证业务时，提交的身体条件证明应当由经省级卫生健康行政部门认定的专门医疗机构出具。办理其他机动车驾驶证业务时，提交的身体条件证明应当由县级、部队团级以上医疗机构，或者经地市级以上卫生健康行政部门认定的具有健康体检资质的二级以上医院、乡镇卫生院、社区卫生服务中心、健康体检中心等医疗机构出具。身体条件证明自出具之日起六个月内有效。公安机关交通管理部门应当会同卫生健康行政部门在办公场所和互联网公示辖区内

可以出具有关身体条件证明的医疗机构名称、地址及联系方式。

46、图中这个标志提示前方道路是向右急转弯。



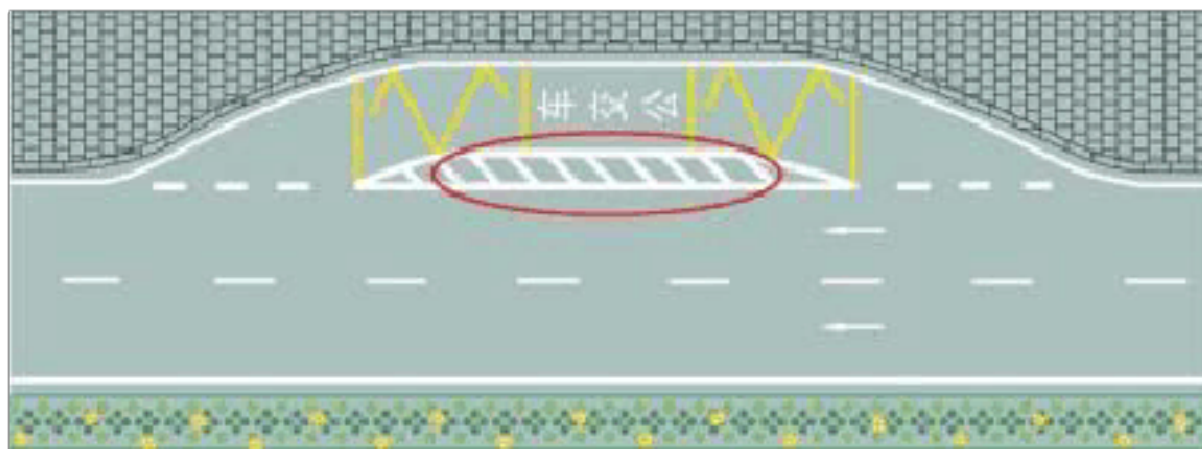
A、正确

B、错误

正确答案：B

分析：警示标志，图中标志表示前方路口向左急转弯。

47、红色圆圈内标线含义是什么？



A、临时停靠站

B、大客车停靠站

C、公交车停靠站

D、应急停车带

正确答案：C

分析：都写了公交站了，不许选错了

48、路面上导向箭头是何含义？



- A、提示前方有左弯或需向左合流
- B、提示前方有右弯或需向右合流
- C、提示前方有障碍需向左合流
- D、提示前方有左弯或需向左绕行

正确答案：B

分析：提示前方有右弯或需向右合流

49、电动汽车发生起火，应立即切断电源，火势较大无法控制时，要远离车辆，立即报警。

- A、正确
- B、错误

正确答案：A

分析：电动汽车的电池着火非常危险，如果火势刚起，在能够断电的情况下，一定要立马断电。火势较大没办法控制时，要立即远离车辆并拨打报警电话。

以上内容仅为本文档的试下载部分，为可阅读页数的一半内容。如要下载或阅读全文，请访问：<https://d.book118.com/70500322300012004>