

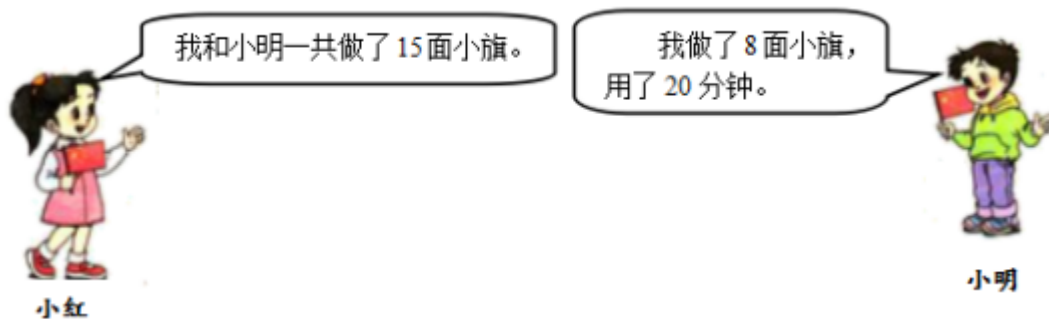
一年级下册数学解决问题 100 道

一. 解答题(共 100 题, 共 548 分)

1. 圆珠笔每支 2 元, 钢笔每支 4 元, 墨水每瓶 3 元, 尺子每把 1.9 元。用 10 元钱买东西:

- (1) 可以买 () 支圆珠笔.
- (2) 可买 3 支钢笔还少 () 元.
- (3) 买 2 瓶墨水可以找回 () 元.
- (4) 请你估计一下, 大约可以买 () 把尺子.
- (5) 1 支钢笔的价钱比买 2 把尺子的钱多 () 角.

2. 小红做了多少面小旗?



3. 上车的人数比下车的人数少多少人?



4. 停车场上的汽车先开来 18 辆, 又开走了 9 辆, 现在有多少辆?
5. 鱼缸里有 13 条金鱼, 黑的有 7 条, 红的有多少条?
6. 小军要买一本书, 要付 4 元 5 角钱, 他只有 4 元, 还差多少钱?
7. 东东拍了几下?



$$\square \circ \square = \square \quad (\quad)$$

8. 全班一共有多少人？



9. 小红和小田一起踢毽子，小红踢了5下，小田踢了13下，小田比小红多踢了多少下？
10. 18个同学排队做操，明明的右边有10人，他的左边有几个？
11. 盘子里原有20块蛋糕，吃了7块，送给别人8块，还剩下几块？
12. 小红看一本书，已经看了50页，还剩下6页没有看。这本书一共有多少页？
13. 妈妈拿80元，买了一双鞋，还剩20元，这双鞋多少元？
14. 小明家养了母鸡15只，公鸡8只，小明家的公鸡比母鸡少几只？
15. 爸爸买水果用去了13元钱，买菜用去了7元钱。爸爸买水果比买菜多用了多少钱？
16. 小明家有15只鸡和4只鸭。公鸡有9只，母鸡有几只？
17. 小敏有4个硬币，共计1元7角，猜猜他有哪些硬币。
18. 逛商店。



17元



2元



9元



34元

(1) 一个熊猫玩具比一个文具盒贵多少钱？

(2) 小明有 35 元，买一个热水壶和一个键子够吗？

19. 考试有一道难题，小华做这道题花了 11 分钟，小红花了 8 分钟，小丽花了 7 分钟。

(1) 小华比小红多花几分钟？

(2) 小丽比小华少花几分钟？

20. 一副乒乓球拍 32 元，王老师买一副这样的球拍，可以怎样付钱？



21. 一支笔 3 元 5 角，一个橡皮擦 1 元，小明要买这两样东西，请问带 5 元够不够？

22. 王老师做了些花奖励给明明和冬冬，明明得到 16 朵，冬冬得到的是明明的一半，王老师一共做了多少朵花？

23. 丽丽家里来客人了，妈妈拿出 12 个碗，9 双筷子。勤快的丽丽帮妈妈摆放这些碗筷，一个碗上放一双筷子，还差多少双筷子？

24. 车上原有 39 人，到站后上车 5 人，现在有多少人？

25. 跳绳比赛。

小华	小花	小桃
19 个	9 个	30 个

(1) 小华比小花多跳几个？

(2) 小花和小桃一共跳了多少个？

(3) 你还能提出什么问题？

问题：

算式：

26. 幼儿园小班有 20 辆玩具车，幼儿园中班有 30 辆玩具车，幼儿园大班有 52 辆玩具车。

(1) 幼儿园大班和小班一共有多少辆玩具车？

(2) 幼儿园小班几辆玩具车就和大班一样多？



大客车比小轿车多坐多少位乘客？

28. 小玉想买一个 12 元的笔记本，还差 3 元，她已经有多少钱？

29. 两个同学比赛跳绳，小红 1 分钟跳了 86 下，小玉比小红多跳了 9 下，小玉跳了多少下？

30. 芳芳比亮亮多拍了几下？

老师让我们每天练习拍球，
今天我已经拍了12下。



芳芳

今天我已经拍了9下。



亮亮


$$\square \bigcirc \square = \square \quad (\quad)$$

31. 草地上有 12 只绵羊和 8 只山羊，山羊比绵羊少几只？

32. 妈妈买了 14 个苹果，小明吃了 2 个，请问还剩下几个？

33. 停车场原来停车 13 辆，开走了 7 辆，停车场还剩下多少辆车？

34. 有 100 名学生参加运动会，每人分一瓶矿泉水。每箱有 12 瓶，8 箱够分吗？



(1) 大生有 50 元钱，可以买哪三件玩具？把这三件玩具圈起来。

(2) 一把手枪比一个洋娃娃便宜多少钱？

(3) 大明买一辆汽车，售货员找回 5 元，大明付了多少钱？

(4) 小军的钱正好买一辆汽车，你猜猜，他最多有 () 张 10 元的。

36. 爷爷在河边钓鱼，上午钓了 12 条，下午只钓了 9 条。爷爷上午比下午多钓了多少条鱼？

37. 看图回答问题。



$$\square \bigcirc \square = \square \text{ (张)}$$

答：我们一共要擦（ ）张课桌。

38. 小小营业员。



25 元



5 元



40 元

(1) 买一个玩具熊比一个皮球多花多少元？

$$\square \bigcirc \square = \square \text{ ()}$$

(2) 购买这三样物品共需多少元？

$$\square \bigcirc \square \bigcirc \square = \square \quad (\quad)$$

(3) 小亮买一辆汽车和一个足球，给售货员 50 元，应找回多少钱？

$$\square \bigcirc \square \bigcirc \square = \square \quad (\quad)$$

(4) 你还能提出什么问题并解答？

39. 王叔叔收了一批鸭蛋，前 3 天卖出 30 个，还剩 8 个。他一共收了多少个鸭蛋？

40. 图书馆有 13 本《数学大王》，已经借走了 5 本。还有多少本？

41.

每箱牛奶有 20 瓶，3 箱牛奶一共有多少瓶？

42. 蝴蝶和鸽子一共有多少只？



22 只



9 只

$$\square \bigcirc \square = \square \quad (\text{只})$$

答：蝴蝶和鸽子一共有 () 只。

43. 一 (2) 班同学共折花 58 朵，男生折 30 朵，女生折多少朵？

44. 看图作答。



45. 小华有 16 块钱，请你列算式解答下面问题。



8 元



7 元

- (1) 买一个玩具猴还剩下多少钱？
- (2) 买一个玩具火车和玩具猴还剩下多少钱？

46. 小华用彩纸折“幸运星”，昨天和今天一共折了 15 颗，今天折了 8 颗，昨天折了多少颗？

47. 有一筐苹果，吃了 5 个，还剩 48 个，原来有多少个苹果？

48. 4 个大人带 13 个小朋友去公园玩，小男孩儿有 7 人，小女孩儿有几人？

49. 书架上有 23 本漫画书，连环画比漫画书少 5 本。谁多谁少？有多少本连环画？

50. 宠物店里有 12 只小狗，卖掉 3 只，宠物店里还剩几只小狗？



$$\square \bigcirc \square = \square \text{ (个)}$$

52. 看图回答。



11 元



30 元



8 元 6 角



5 元 8 角

(1) 小红买一个不倒翁和一把雨伞一共花 () 钱。

(2) 明明买一个足球和一桶茶叶一共花 () 钱。

(3) 你能自己提出几个数学问题并解答吗?

53. 小明有 35 本书, 小丽有 20 本书。

(1) 小明比小丽少多少本书?

(2) 小丽比小明多多少本书?

(3) 两人一共有多少本书?

54. 三位同学一共浇 26 棵树, 小刚浇了 8 棵, 小明浇了 12 棵, 小强浇了多少棵?

55. 湖边现有 24 只船, 划走了 8 只后, 湖边还有几只船?

56. 有 20 名运动员和 6 名教练, 一箱矿泉水共有 24, 每人 1 瓶, 够吗?

57. 小朋友们在植树节集体去种树, 一共要种 15 棵树, 已经种了 6 棵。还需要种多少棵树?



58. 拔萝卜。





拔了 7 根

拔了 6 根

(1) 两只小兔一共拔了多少根？


(2) 他们吃了 8 根，还剩多少根？

59. 阿姨拿了 16 个 ，分给小朋友 8 个，阿姨还剩多少个 ？

60. 动物园里有 13 只狮子，老虎比狮子少 4 只。谁多谁少？有几只老虎？

61. 有 12 朵花，插在 2 个花瓶里。一个花瓶里插 5 朵，另一个花瓶里插几朵？

62. 3 路公共汽车上有 42 人，停靠一个站后下去 10 人，又上来 8 人。公共汽车上现在有多少人？

63. 停车场有 20 辆 ，开走了 5 辆，还剩多少辆？

64. 松树有 26 棵，柳树比松树少 8 棵。柳树有多少棵。

65. 一年级三班有男生 30 人，女生和男生的人数相同，这个班一共有多少人？

66. 猜猜我有几个松果？

以上内容仅为本文档的试下载部分，为可阅读页数的一半内容。如要下载或阅读全文，请访问：

<https://d.book118.com/748064110126006070>