



(北师大版) 数学二年级上册寒假作业应用题“天天练”习题卡

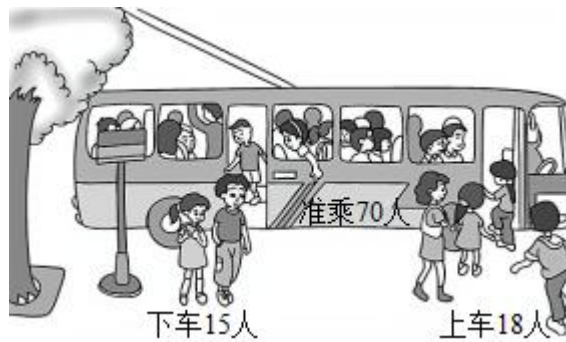
年级	二年__班	姓名	内容	训练 1	评价
1. 买 5 个这样的玩具汽车，付出 100 元，应找回多少元？					
 9元					
2. 36 个小朋友打乒乓球，每 4 人一组，可以分成多少组？					
3. 二年（1）班有 33 人参加学校运动会，二年（2）班参加的人数比二年（1）班多 5 人，两个班一共有多少人参加？					
4. 购物。					
					
(1) 玩具小汽车在特价期间，比原价便宜了多少钱？					
(2) 王老师买了 6 个铅笔盒和一个玩具熊，一共花了多少元？					
(3) 乐乐用 35 元买两个足球，够吗？					
5. 明兴小学用盆景装饰一个正方形花坛，花坛的每条边上放 8 盆，四个角各放 1 盆。学校一共要准备多少盆盆景？（先画图，再列式计算）					

年级	二年__班	姓名		内容	训练 2	评价	
----	-------	----	--	----	------	----	--

1. 兔妈妈和 7 个兔宝宝一起采蘑菇，一共采了 56 个蘑菇，平均每只兔采了多少个蘑菇？

2. 动物园的门票成人票每张 25 元，儿童票每张 8 元。二年级的乐乐同学和爸爸、妈妈星期天去动物园玩，购票一共要多少钱？

3. 原来车上有乘客 34 人，现在车上有多少人？



4. 买花。



荷花
每枝 2 元



菊花
每枝 5 元



玉兰花
每枝 6 元



月季花
每枝 4 元

(1) 买 5 枝玉兰花需要多少元？

(2) 24 元钱能买几枝月季花？


(3) 贝贝买了一种花，正好用完 12 元，她可能买了哪种花？买了几枝？

5. 把一根木头锯成 5 段，要锯几次？如果每锯一次用 3 分钟，一共要用多少分钟？

年级	二年__班	姓名	内容	训练3	评价
----	-------	----	----	-----	----

1. 一件衣服上有 5 颗纽扣，5 件衣服上有多少颗纽扣？

2. 一共有 36 根跳绳，平均分给 4 个小组。每个小组分得多少根？平均每人分得多少根？



3. 一根彩带长 50 米，第一次用去 15 米，第二次用去 20 米。这根彩带还剩下多少米？


4. 购物。





(1) 买一辆遥控汽车的价钱正好可以买 6 根跳绳，一根跳绳多少元？

(2) 乐乐买了 8 个羽毛球和一辆遥控汽车，一共花了多少元？

5. 白雪公主和 7 个小矮人一起采蘑菇，平均每人采 8 个蘑菇。一共采了多少个蘑菇？




年级	二年__班	姓名		内容	训练 4	评价	
<p>1. 同学们一共种了多少棵树?</p> <div style="display: flex; justify-content: space-around; align-items: center;"> <div style="text-align: center;">  <p>每排4棵。</p> </div> <div style="text-align: center;">  <p>一共种4排。</p> </div> </div>							
<p>2. 妈妈买了 6 个苹果和 12 个梨。</p> <p>(1) 妈妈一共买了多少个水果?</p> <p>(2) 乐乐平均每天吃 3 个水果, 这些水果他可以吃多少天?</p>							
<p>3. 爸爸买了 1 个足球和 4 个皮球, 一共用了 90 元。1 个皮球 6 元, 那么 1 个足球多少钱?</p>							
<p>4. 超市里的橡皮有每包 6 元的, 也有每包 8 元的。</p> <p>(1) 每包 6 元的买 1 包, 每包 8 元的买 4 包, 一共要花多少钱?</p> <p>(2) 如果买每包 6 元的, 买 9 包, 一共要花多少钱?</p> <p>(3) 如果买每包 8 元的, 56 元能买几包?</p>							
<p>5. 有一个三角形花坛, 每边放 6 盆盆景, 三个角都放, 一共放多少盆盆景? (动手画一画, 再列式计算)</p>							

年级	二年__班	姓名		内容	训练5	评价	
----	-------	----	--	----	-----	----	--

1. 一本故事书每天看 6 页, 3 天一共能看多少页?

2. 学校在举行环保知识竞赛, 小凡、小力、小刚进入了最后的决赛。



●小凡和小刚分别答对多少题?

3. (1) 小猴子的苹果多少天吃完?



(2) 小兔子每天吃几个苹果?

(3) 小猴子每天比小兔子多吃几个苹果?

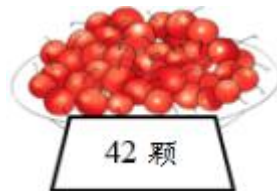
4. 装 6 辆这样的小汽车, 还多 3 个车轮, 一共有多少个车轮?

5. 壮壮在计算 48 加一个两位数时, 把这个两位数十位和个位上的数字颠倒了, 结果是 89。正确的结果应该是多少呢?

年级	二年__班	姓名	内容	训练 6	评价
----	-------	----	----	------	----

1. 每盆花售价 9 元，王阿姨想买 6 盆，她应付多少元？

2. 琦琦一个星期吃完盘子里的山楂，她平均每天吃多少颗？



3. 乐乐家离学校 76 米。一次上学，他走了 12 米后想起忘记带文具盒了，马上回家取。他这次上学共走了多少米？



4. 购物。



6元



15元



3元

(1) 买 5 个铅笔盒和一支钢笔，共需要多少钱？ (2) 东东带了 56 元钱，可以买几个文具盒？

(3) 东东用 56 元钱买了 9 个练习本，剩下的钱买一支钢笔，够吗？

(4) 你还能提出哪些数学问题？并解答。

5. 李师傅把一根水管锯成 3 段。现在有 4 根这样的水管。已知李师傅锯一次需要 3 分钟，李师傅一共需要多少分钟？

年级	二年__班	姓名		内容	训练 7	评价	
----	-------	----	--	----	------	----	--

1. 一架玩具风车要 8 元, 72 元能买几架这样的小风车?

2. 一本书有 40 页, 乐乐每天看 7 页, 看了 3 天, 还有几页没看?

3. 北极熊妈妈捕了许多鱼, 她给小白 27 条, 给小灰 34 条。小白和小灰共吃了 16 条。小白和小灰现在还有几条鱼?

4. 妈妈去花店买花。



(1) 买这样的一束花需要多少元钱?

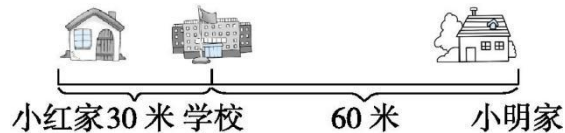
(2) 妈妈买了 36 枝花, 每个花瓶能插 9 枝花。需要多少个这样的花瓶?

5. 丽丽今年 7 岁, 妈妈的年龄比丽丽多 35 岁, 3 年后, 妈妈多少岁?

年级	二年__班	姓名		内容	训练 8	评价	
----	-------	----	--	----	------	----	--

1. 用小棒摆正六边形 \hexagon ，摆 3 个这样的图形需要多少根小棒？48 根小棒能摆几个这样的图形？

2.



(1) 小红家离小明家有多少米？ (2) 小红从家到学校比小明从家到学校近多少米？

3. 星期天，乐乐和 5 个好朋友去公园玩，公园的儿童票是每张 5 元，他们一共花了多少元？

4. 购物。



5 元



18 元



? 元

(1) 一辆玩具汽车的价格相当于 5 个布娃娃的价格，一辆玩具汽车多少钱？

(2) 玩具手枪比玩具汽车便宜多少钱？

5. 在一条长 15 米的人行道的一边，从头开始每隔 3 米摆一盆花，一共摆了多少盆花？





年级	二年__班	姓名		内容	训练9	评价	
----	-------	----	--	----	-----	----	--

1. 小明和伙伴们租船去游玩，租了4条船，每条可以坐5人，一共有多少人？

2. 乐乐用一根长1米的竹竿测量水池的深度，将竹竿直立在水池的底部，水面的竹竿还有20厘米长，池水深多少厘米？

3. 小红有24张邮票，小明比小红少4张，比小兰多6张，小兰有多少张邮票？

4.

			
3元	2元	6元	4元

(1) 5辆  多少元？

(2) 6架  和 1盒  多少元？

(3) 你还能提出用乘法计算的问题吗？请解答。

5. 琦琦家搬新家了。这座楼有9层，每层高3米，这楼有多高？琦琦家住9楼，她家离地面有多高？



年级	二年__班	姓名		内容	训练 10	评价	
----	-------	----	--	----	-------	----	--

1. 一根跳绳长 5 米，48 米长的绳子能做几根这样的跳绳？



2. 小明从湖这边跑到湖那边要 9 分钟，跑 2 个来回要多少分钟？

3. 一条裤子 46 元，一件上衣比一条裤子贵 38 元，购买这套衣服要多少元？

4. 购物。



(1) 买 9 个皮球要多少钱？

(2) 买 3 本笔记本和一个面包共要多少钱？

(3) 你还能提出其他用乘法解决的问题并解答吗？

5. 圆形花坛上放了 8 盆花，每两盆花之间相距 2 米，花坛一周长多少米？



年级	二年__班	姓名		内容	训练 11	评价	
----	-------	----	--	----	-------	----	--

1. 把一根彩带对折再对折后长 5 厘米，这根彩带原来长多少厘米？

2. 一条毛巾 6 元，一个杯子 8 元，妈妈买了 3 条毛巾和一个杯子一共花去多少元？

3. 一张课桌 68 元，比一张椅子贵 40 元，买这样的一套桌椅要多少钱？

4. 购物。









(1) 赵星买 7 支钢笔，一共要用多少元？

(2) 李华买 6 个文具盒，一共用去 54 元，每个文具盒多少元？

(3) 张明买 4 本笔记本，准备 30 元够不够？

5. 把一根 18 米长的绳子剪成同样长的 6 段，每段长多少米？需要剪几次？

年级	二年__班	姓名	内容	训练 12	评价
1. 张大叔计划种 55 棵树，他每天种 9 棵，6 天能种完吗？					
2. 二年级一班同学做操，每排站 9 人，可以站成 4 排。这个班一共有多少人？如果每排站 6 人，可以站成几排？					
3. 商店里有 91 千克西瓜，卖出一些西瓜后，还剩下 35 千克。卖出的西瓜比剩下的西瓜多多少千克？					
4. 购物。					
					
<div style="display: flex; justify-content: space-around; align-items: center;"> <div style="text-align: center;">3元</div> <div style="text-align: center;">5元</div> <div style="text-align: center;">8元</div> </div>					
<div style="display: flex; justify-content: space-between;"> <div style="width: 45%;">(1) 买 7 根跳绳需要多少钱？</div> <div style="width: 45%;">(2) 48 元可以买几个文具盒？</div> </div> <div style="margin-top: 20px;">(3) 买 3 个茶杯和一个文具盒需要多少钱？</div>					
5. 哥哥有 36 张邮票，弟弟有 20 张邮票。哥哥给弟弟几张后，两人就同样多？					

年级	二年__班	姓名		内容	训练 13	评价	
1. 汉字“木”的笔画是4画。汉字“森”的笔画是几画？词语“森林”的笔画一共是几画？							
2. 买1支钢笔的钱可以买6支圆珠笔。 (1) 妈妈带的钱正好可以买4支钢笔，如果买圆珠笔，最多可以买多少支？ (2) 如果每支圆珠笔3元，每支钢笔多少元？ (3) 如果一支钢笔12元，每支圆珠笔多少元？							
3. 妈妈今年40岁，小东今年15岁。当妈妈54岁时，小东多少岁？							
4. 玩具商店。 <div style="display: flex; justify-content: space-around; align-items: center; text-align: center;"> <div> 9元</div> <div> 20元</div> <div> 8元</div> <div> 7元</div> <div> 6元</div> </div> (1) 买一辆玩具汽车和一只玩具熊猫，需要多少钱？ (2) 买8只玩具兔子，需要多少钱？ (3) 小丽买了4只玩具狗和一部玩具电话，共需要多少钱？ (4) 你还能提出其他用乘法解决的问题吗？解答出来。							
5. 奶奶回家上楼，奶奶上一层楼要用2分，奶奶回到8楼的家中一共需要多少分？							

年级	二年__班	姓名		内容	训练 14	评价	
----	-------	----	--	----	-------	----	--

1. 乐乐和他的 5 个同学每人栽 5 棵树，一共栽了多少棵树？

2. 小明今年 7 岁，爷爷今年 63 岁。

(1) 爷爷的岁数是小明的几倍？

(2) 明年爷爷的岁数是小明的几倍？

3. 水果店一共运进 50 箱苹果，第一天卖出 35 箱，第二天又进了 18 箱，现在水果店有多少箱苹果？

4.



42 元



28 元



7 元






33 元

(1) 买书包、铅笔、铅笔盒，一共需要多少钱？

(2) 选择你喜欢的三样文具，计算出它们一共多少钱？

(3) 用 80 元买其中两样文具，最多剩多少元？最少剩多少元？

5. 乐乐有 46 张邮票，他给琦琦 4 张后，两人的邮票同样多，琦琦原来有几张邮票？

年级	二年__班	姓名		内容	训练 15	评价	
1. 一种治疗感冒的药，每天吃 3 次，每次 4 片，一天吃几片？							
2. 每盒儿童牙膏 9 元，妈妈买了 8 盒。她付给营业员 100 元，应找回多少元？							
3. 二年（1）班有男生 23 人，女生 22 人。他们做早操时排成 5 行，平均每行有几人？							
4. 购物。							
							
6 元		8 元		18 元			
(1) 乐乐买 3 个足球要多少钱？				(2) 李老师买 8 个文具盒要多少钱？			
(3) 琦琦有 72 元，能买几只玩具熊？							
5. 小华做减法题时，把被减数 80 错看成 30，这样算出来的结果是 14。正确的差应该是多少？							

年级	二年__班	姓名		内容	训练 16	评价	
----	-------	----	--	----	-------	----	--

1. 一盒牛奶可以倒满 6 杯，29 个小朋友每人分一杯，5 盒牛奶够吗？

2. 星期天同学们去郊外秋游，大家先分成 4 个大组，每个大组分成 2 个小组，每个小组有 5 人，一共有多少人？

3. 明兴小区停车场周五早上停了 78 辆车，中午开走 39 辆，又开进了 47 辆，现在停车场有多少辆车？






4.



(1) 小明买了一个魔方，找回 4 元，他付了多少元？

(2) 20 元钱买 3 个文具盒，够吗？ (3) 买一个魔方的钱可以买几本日记本？

5. 做一道加法题时，小马虎把一个加数的个位数字 5 看做 8，结果和是 85。问正确答案应是多少？

年级	二年__班	姓名		内容	训练 17	评价	
<p>1. 一年级有 3 个小组参加跳绳比赛，每个小组有 9 人，一年级一共有多少人参加跳绳比赛？</p>							
<p>2. 有 6 辆独轮车，每辆独轮车最多能载 5 名杂技演员。现在每辆独轮车上各载了 3 人。6 辆独轮车上还能载几人？</p>							
<p>3. 停车场有面包车 35 辆，轿车 24 辆，自行车 25 辆。</p> <p>(1) 汽车一共有多少辆？ (2) 开走多少辆汽车后就和自行车一样多了？</p>							
<p>4. 购物。</p> <div style="display: flex; justify-content: space-around; align-items: center; text-align: center;"> <div data-bbox="336 1122 427 1223"></div> <div data-bbox="528 1140 619 1223"></div> <div data-bbox="730 1144 839 1223"></div> <div data-bbox="935 1133 1034 1223"></div> <div data-bbox="1134 1128 1230 1223"></div> </div> <div style="display: flex; justify-content: space-around; align-items: center; text-align: center; margin-top: 5px;"> 7元 3元 9元 5元 8元 </div> <p>(1) 买 5 个茶杯和 2 个皮球一共要用多少元钱？</p> <p>(2) 买一个文具盒的钱能买几个毽球？</p> <p>(3) 乐乐有 40 元钱，买什么能正好花完？买了多少件商品？</p>							
<p>5. 工程队要挖总长 81 米的水沟，已经挖好了 27 米。剩下的要用 6 天挖完，平均每天挖多少米？</p>							

以上内容仅为本文档的试下载部分，为可阅读页数的一半内容。如要下载或阅读全文，请访问：<https://d.book118.com/755040342112011110>