

河北省唐山市迁安市2025届九年级上学期11月期中考试历史试卷

学校：_____ 姓名：_____ 班级：_____ 考号：_____

一、选择题

1. 亚非四大文明古国兴起的共同原因是()

- A.交通便利，适宜发展商业 B.城市国家兴起较早
C.地处大河流域，土地肥沃 D.都很擅长军事远征

2. 2007年3月，中央电视台《早间新闻》报道了这样一件事情：某国一对来自不同种族的青年情侣被村里人吊死。警方表示，几乎全村老少都反对这对青年男女不同种族之间的婚姻，认为这是大逆不道，为此导致双方家庭采取了过激行为。以上新闻很可能来自于下列哪一个国家()。

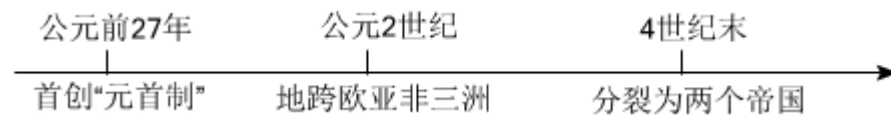
- A.埃及 B.美国 C.印度 D.法国

3. 如下图塑像所示人物是欧洲历史上最伟大的军事统帅之一，曾师从古希腊著名学者亚里士多德，以其雄才大略先后统一希腊，占领埃及，荡平波斯帝国，直至印度河流域。他创建的帝国拥有世界四大文明古国中的三个，大大促进了东西方文化的交汇。他是()



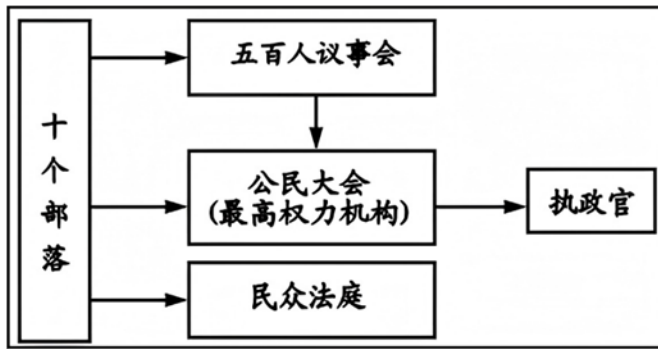
- A.伯里克利 B.凯撒 C.屋大维 D.亚历山大

4. 如图是某个帝国发展的时空定位。据此判断这个帝国是()



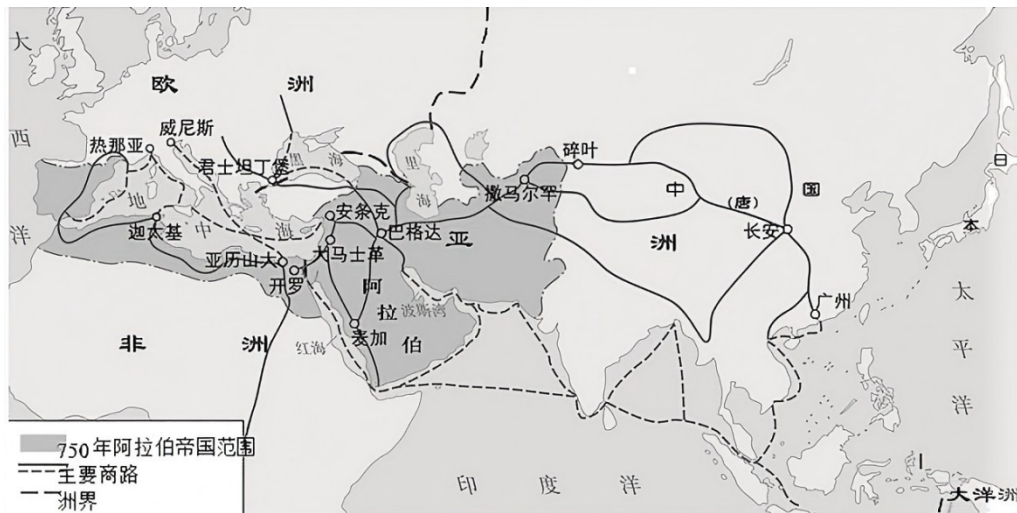
- A.亚历山大帝国 B.罗马帝国
C.拜占庭帝国 D.阿拉伯帝国

5. 下图所示的权力机构组织形式出现在()



- A. 古埃及 B. 古印度 C. 古中国 D. 希腊雅典

6. 下列关于阿拉伯帝国的叙述正确的是()



- ①与中国唐朝有贸易往来
 ②阿拉伯人改造了古印度人从0到9的计数方法
 ③版图横跨欧、亚、非三大洲
 ④实行了以土地的封赐为纽带的封建制度

- A. ①②③ B. ①②④ C. ①③④ D. ②③④

7. “双方都有相应的权利和义务；关系的结成有一套仪式；在这梯级关系中，一般只承认直接的主仆关系。”“双方”指的是()

- A. 奴隶主与奴隶 B. 国王与市民 C. 领主与佃户 D. 封君与封臣

8. 某同学要撰写一篇历史小论文，在他搜集的资料中，有帕特农神庙遗址、《荷马史诗》罗马大竞技场遗址、《十二铜表法》。据此判断，该论文研究的主题是()

- A. 雅典的民主政治 B. 罗马成文法的起源
 C. 罗马帝国的兴衰 D. 希腊罗马古典文化

9. 下列各项中，史实与结论对应正确的是()

	史实	结论
A	上古历史终结，世界进入中古时代	西罗马帝国灭亡
B	庄园法庭由领主或他的管家主持	庄园在经济上实现自给自足
C	阿拉伯帝国的“智慧宫”收藏了大量希腊、波斯、印度的古典文献	阿拉伯帝国在保护古代文化方面起了重要作用
D	日本以唐朝制度为蓝本，实施改革	形成武士和武士阶层

A.A

B.B

C.C

D.D

10. 阅读材料，判断下列关于自由和自治城市的说法，正确的是()

一些比较富裕的城市，就用赎买的办法摆脱领主的统治；有的城市则采用武装斗争的手段；另一些城市则通过谈判的方式，从领主那里争得自治权。城市有自己的法庭和武装，有权宣战、媾和。城市通过选举产生市政机构，有权制定政策、法令和铸造货币。

- ①城市争取自由和自治的唯一手段是武力斗争
- ②部分城市有权选举市长
- ③在完全自治的城市里，领主不得向市民任意征税
- ④威尼斯、巴黎都享有完全的自治权

A.①③④

B.②③

C.①②④

D.③④

11. 以下关于大化改新的说法，正确的是()

- ①国家把土地卖给农民耕种
- ②改革后天皇制度被废除
- ③特点是仿效唐朝典章制度
- ④使日本成为中央集权制的封建国家

A.①②

B.③④

C.①③

D.②④

12. 自给自足的庄园经济曾在西欧封建社会盛行一时。下列关于中世纪西欧庄园生活的描述，正确的是()

- A.庄园中的自营地的收入全部归领主所有
- B.庄园中的共用地佃户不可以共同使用
- C.庄园法庭有固定的工作人员和开庭地点
- D.庄园中的人口只占据欧洲人口的小部分

13. 下图是佛罗伦萨著名建筑师布鲁内莱斯基设计的圣母百花大教堂（建于

1433），有人评价此建筑完全不同于中世纪大教堂的样式，利用古典立柱、圆形拱门和平顶镶嵌板的天花板，营造出一种适合人而不是神的体积空间，能给人以慰藉。该设计的意图是()



罗马建筑样式的特色：
穹顶、圆形拱门

- A.彰显神权至上 B.复制古典文化 C.凸显人文关怀 D.抨击教会腐化

14. 伏尔泰说：“这无疑是我们地球上的头等大事，因为在这以前，地球的一半对另一半一直是一无所知，迄今为止任何伟大业绩在这一新的创举面前都相形见绌。”对这件“头等大事”表述错误的是()

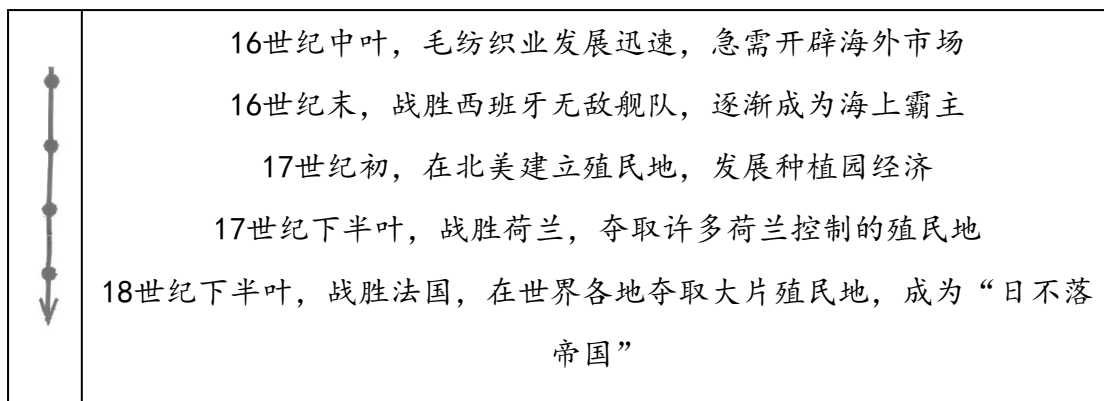
- A.宋朝发明的指南针为其提供了条件 B.伴随着殖民掠夺和侵略
C.哥伦布发现了通往印度的新航路 D.资本主义世界市场开始形成

15. 对下图所反映的史实，理解正确的是()



- A.证明了地圆学说的正确 B.开辟了通往东方的新航路
C.宣告了北美13个殖民地的独立 D.为欧洲带来了巨额的利润

16. 根据时间轴梳理，你推断这个国家是()



- A.葡萄牙 B.英国 C.美国 D.德国

17. 抓住关键词是学习历史的重要方法之一。从“手工工场的出现”“人文主义”“发现新大陆”等关键信息中,可以确定研究的主题是()

- A.资产阶级制度的确立 B.世界市场的形成
C.文明的传播与发展 D.资本主义时代的曙光

18. 马克思说：“美洲金银产地的被发现，土著居民的被剿灭、被奴役和被埋葬于矿井，对东印度开始进行的征服和掠夺，非洲变成商业性的猎获黑人的场所；这一切都标志着资本主义生产时代的曙光……资本来到世间，从头到脚每个毛孔都滴着血和肮脏的东西。”这反映了马克思()

- ①肯定殖民掠夺在客观上具有进步作用
②抨击殖民掠夺给殖民地带来巨大灾难
③肯定殖民掠夺促进欧洲资本主义发展
④认为殖民掠夺对殖民地具有双重影响
- A.①② B.③④ C.②③ D.②④

19. 小明同学在接到老师布置的思考题后，自主学习时用手机查询攻占巴士底狱、处死路易十六、《人权宣言》等资料，由此可以判断他正在探究学习()

- A.英国资产阶级革命 B.美国独立战争
C.法国大革命 D.美国南北战争

20. 下表是某同学设计的一个大事年表，若添加一个题目，合适的是()

时间	1640—1688年	1775—1783年	1789—1815年
事件	英国革命	北美独立战争	法国大革命和拿破仑战争

- A.封建时代的欧洲 B.走向近代
C.资本主义制度的初步确立 D.殖民地人民的反抗斗争

21. 1895年，一位中国外交官对当时四个欧美国家的政体分别作了如下评述，其中对美国的评述是()

- A.“举国听于议院，势太偏重”
- B.“君主能以事下会议而不能独断”
- C.“议院主议法，政府主行法，察院主断法”
- D.“上议院主用世爵，参以选举，君权仍重”

22. 关于《权利法案》、《独立宣言》、《人权宣言》这三部资本主义国家的重要文献，下列表述正确的是()

- A.分别是英、法、美三国的历史文献
- B.都体现了资产阶级的自由、平等的思想
- C.都使本国确立了君主立宪制度
- D.都是在反对本国封建统治的斗争中颁布的

23. “自由、平等”是社会主义核心价值观的基本内容。被马克思称为人类历史上“第一个人权宣言”的是()

- A.《独立宣言》
- B.《人权宣言》
- C.《共产党宣言》
- D.《解放黑人奴隶宣言》

24. 美国1787年宪法规定“国会可以以三分之二多数通过总统否决的法律”；英国《权利法案》规定“不经议会批准，国王既不能随意废除法律，也不能停止法律的执行”。

上述条文所体现的共同目的是()

- A.加强中央集权
- B.防范个人独裁
- C.建立共和制
- D.打击封建势力

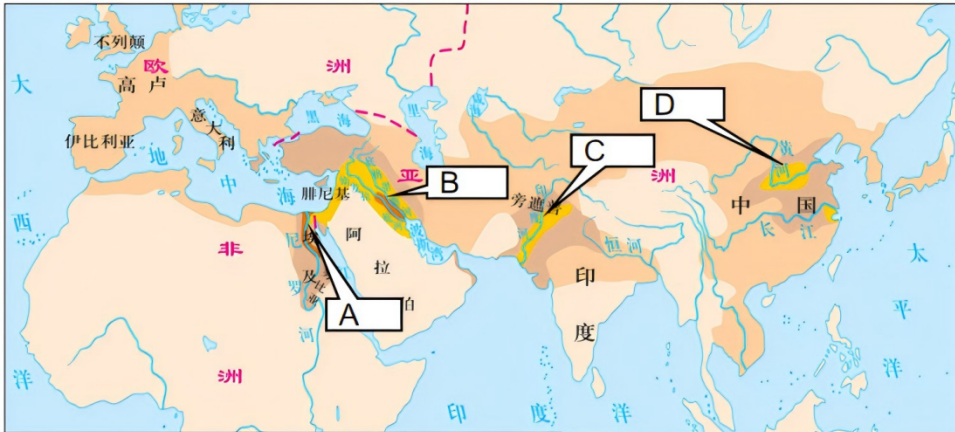
25. “在1750年，中国与西方的差距并不大，到了1850年，双方的差距不啻天壤之别。这不仅是中国与西方的差距，也是东西方的差距。到19世纪中期，印度完全沦为殖民地，地跨欧亚非的奥斯曼帝国风雨飘摇，伊朗横遭列强干涉。”西方能够超越东方的主要原因是()

- A.文艺复兴和新航路开辟的影响
- B.资产阶级革命和工业革命的爆发
- C.西方的专制统治不如东方根深蒂固
- D.西方国家有得天独厚的地理优势

二、材料题

26. 阅读材料，回答问题。

材料一：



亚非古代文明发源地

材料二：在数千年发展历程中，亚洲人民创造了辉煌的文明成果。《诗经》、《论语》、《塔木德》、《一千零一夜》、《梨俱吠陀》、《源氏物语》等名篇经典，楔形文字、地图、玻璃、阿拉伯数字、造纸术、印刷术等发明创造，长城、麦加大清真寺、泰姬陵、吴哥窟等恢宏建筑……都是人类文明的宝贵财富。各种文明在这片土地上交相辉映，谱写了亚洲文明发展史诗。

——习近平在亚洲文明对话大会开幕式上的主旨演讲

材料三：璀璨的亚洲文明为世界文明发展史书写了浓墨重彩的篇章……文明因多样而交流，因交流而互鉴，因互鉴而发展。

——习近平在亚洲文明对话大会开幕式上的主旨演讲

(1) 写出材料一中A、B、C、D四个文明古国的文明成果代表各一例。

A: _____; B: _____; C: _____; D: _____。

(2) 根据材料二，概括亚洲文明成果的特点。

(3) 请用史实说明世界古代历史上不同文明因“互鉴而发展”。

(4) 根据上述材料并结合所学，概括文明间交流的主要方式和对世界不同区域的文明应该持什么样的态度。

27. 法制建设是社会发展的体现和推动力。

材料一：



这部刻在黑色石柱上的法典规定：盗窃神庙或王宫财产的人，必须处死；侵犯别人住处的人，必须就地处死；拐带别人奴隶的人要处死刑；奴隶打自由人的嘴巴，或者对主人说一声：“你不是我的主人”，要被割掉耳朵；毁伤别人奴隶的眼睛，只要赔给奴隶的主人这个奴隶买价的一半；打死别人的奴隶，只要赔给奴隶主人一个奴隶的平均价格。

(1) 依据材料写出这部法典的名称,并指出法典主要维护哪一阶级的利益。

材料二：

法律名称	内容摘要
1689年①_____	非经议会同意，国王不能停止任何法律和征收任何新税
1689年《叛乱法案》	国王在和平时期征集和维持军队必须经过议会的同意
1694年《三年法案》	每三年必须召开一次议会，每届议会任期不得超过三年

(2) 将材料补充完整。依据材料，概括英国实现民主政治的主要途径。

材料三：美国建国之初，中央政府无权向各州征税，各州各自为政，合众国也没有统一的货币。1787年，宪法对联邦中央的权力作了列举：联邦（中央）政府享有补充立法权、军事权、外交权、课税与币制权等。由于宪法赋予联邦政府上述权力，才使其成为真正的中央政府，使美国成为真正统一的国家。统一国家的建成促进了国内统一市场的形成和经济高速发展。

——摘编自杨鹏飞《美国宪法与美国的发展》

(3) 依据材料三，概括1787年前后美国中央政府权力的变化，并分析其作用。

材料四

：①《拿破仑法典》包含了法国大革命的成果，其原则与理念为欧洲提供了基本原则，启动了欧洲的民主化进程。②《拿破仑法典》在欧洲大部分地区施行，建立起统一的市场规范与秩序，加快了大陆各国工业化和市场化的步伐。③当今欧洲大陆国家的民法大都不同程度地受到《拿破仑法典》的影响，这对欧洲大陆民法的统一有积极意义。

——摘编自张士昌《〈拿破仑法典〉与近代欧洲一体化进程》

(4) 将材料四的内容与以下观点相对应。(写序号)

A. 《拿破仑法典》促进了欧洲资本主义经济发展：_____；

B. 《拿破仑法典》有利于欧洲形成区域性国际法：_____；

C. 《拿破仑法典》推动了欧洲的政治进步：_____。


28. 工业时代是发明创新的时代，改变了人们的生活，也改变了整个世界。阅读材料，回答问题。

材料一：1851年，英国在伦敦举办了世界博览会。耗费巨资专门修建了一座大型展厅“水晶宫”。展厅之中，英国陈列几乎是清一色的工业品，其他国家陈列的绝大多数是农产品和手工业品。这次博览会英国以一种特别的方式宣告了自己是这个世界的经济中心。

——钱乘旦、许洁明《英国通史》

(1) 根据材料一，指出本次博览会表明英国获得了怎样的世界地位。结合所学知识分析英国的展品不同于其他国家的主要原因。

材料二：



1851年第一届世博会中的英国陈列馆

(2) 依据材料并结合所学知识指出当时在英国陈列馆中这些机器使用的动力机器是什么？这种动力机器的发明将人类带入了什么时代？

材料三：机器时代的“享受”



19世纪后期，英国的有钱人以乘坐汽船游览泰晤士河为时尚。汽船在河中冒着呛人的浓烟；岸边的工厂排放的污水，也使河水变得污浊不堪。

(3) 根据材料三，简评机器时代的“享受”。

材料四：工人阶级创造了巨大的社会财富，但他们相对日益贫困。工人变成赤贫者，贫困比人口和财富的增长还要快。……无产阶级要获得自身的彻底解放，单靠一个国家无产阶级的团结仍然是不行的，还需要全世界无产阶级联合起来。用暴力推翻资产阶级统治，进行无产阶级革命。

——《共产党宣言》

(4) 材料四中描述了工业革命后的现状，为摆脱这一现状作者提出了怎样的路径？在此思想指导下法国人民开展了哪一革命实践？

(5) 中国作为世界制造业中心，能够从工业革命的历史中获得什么启示？

以上内容仅为本文档的试下载部分，为可阅读页数的一半内容。如要下载或阅读全文，请访问：<https://d.book118.com/758110044055007006>