


【备考 2023 年】广东省汕尾市公务员省考 行政职业能力测验真题(含答案)

学校:_____ 班级:_____ 姓名:_____ 考号:_____

一、图形推理(6 题)

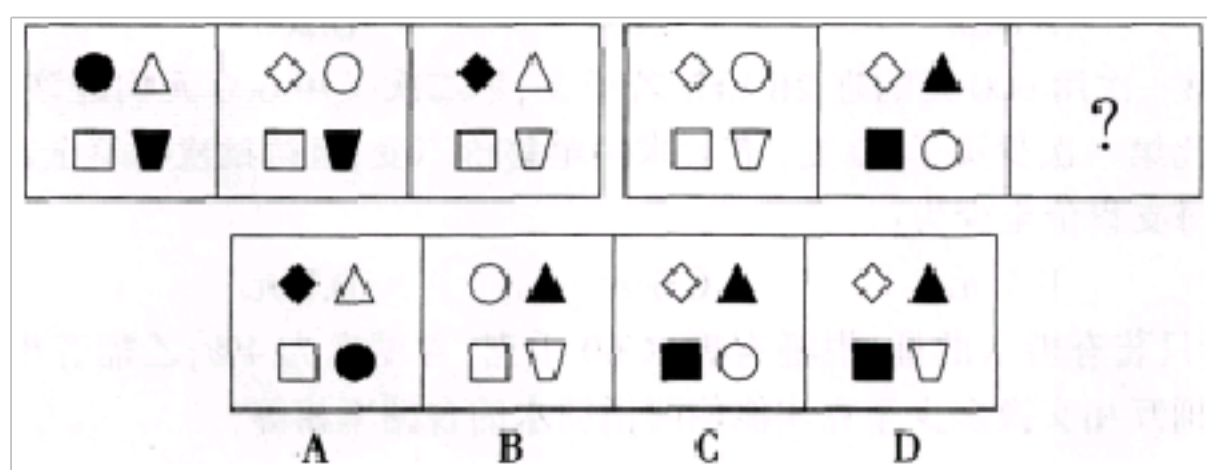
1.从所给的四个选项中, 选择最合适的一个填入问号处, 使之呈现一定的规律性:




ABCD

A.如上图所示 B.如上图示 C.如上图 D.如图所示


2.从所给的四个选项中, 选择最合适的一个填入问号处, 使之呈现一定的规律性:



3.从所给的四个选项中, 选择最合适的一个填入问号处, 使之呈现一定的规律性。

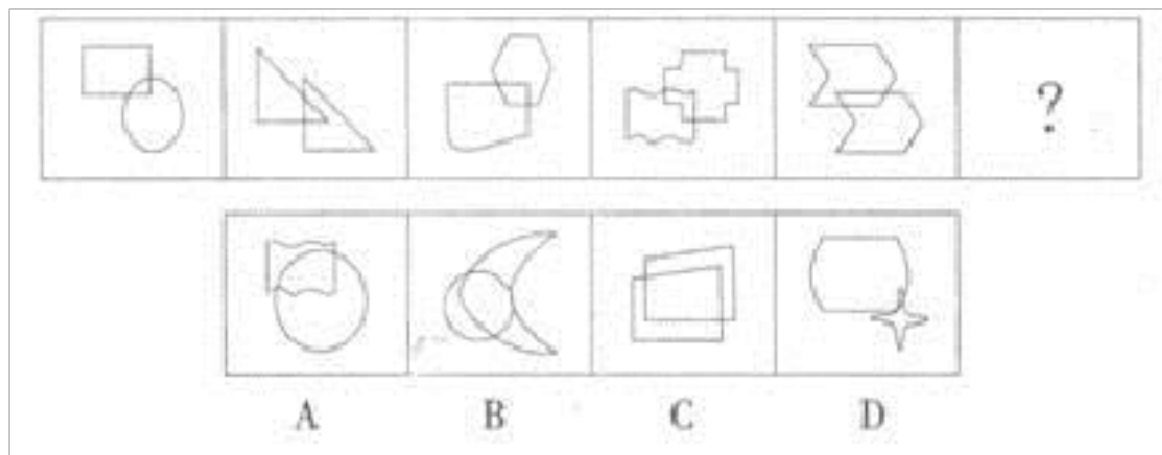


4. 从所给的四个选项中，选择最合适的一个填入问号处，使之呈现一定的规律性：



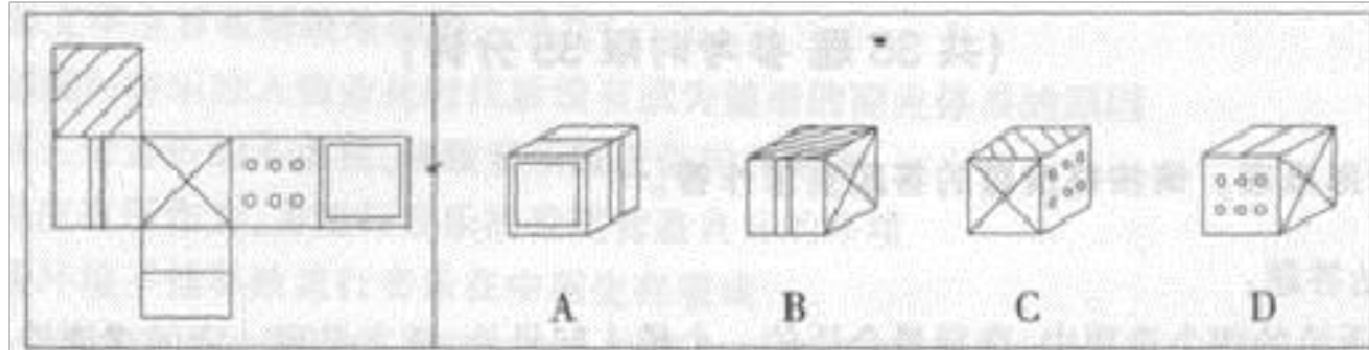
A. ①③⑤, ②④⑥ B. ①②⑤, ③④⑥ C. ①③④, ②⑤⑥ D. ①④⑥, ②③⑤

5. 从所给的四个选项中，选择最合适的一个填入问号处，使之呈现一定的规律性。



6.

左边给定的是纸盒的外表面。下面哪一项不能由它折叠而成？



二、定义判断(10 题)

7.反哺是指某些动物长大后把觅到的食物给予其父母的行为。在生活中而由此引申出的行为称为反哺效应。

下列选项没有体现反哺效应的是（ ）。

A.李某外出打工三年，收入高出村里其他人三倍多，很多家长便学着让孩子辍学外出打工

B.王某在外创业多年开了个服装公司，之后在家乡办了个服装加工厂，让家乡的人实现了不出远门就能上班的愿望

C.某农民歌手一举成名后，出资为家乡修建了柏油马路

D.现在大多数孩子都会利用互联网发微博、搜索信息等，他们常常教自己的父母使用互联网

8.诱发地震是地震的一种，是指在特定的地区因某种地壳外界因素诱发而引起的地震。诱发地震可造成人员伤亡、建筑物和工程设施的破坏、

引起水患等。根据上述定义，下列不属于诱发地震的是：

- A.印度的柯依纳水库发生 6.5 级地震，该水库自开始蓄水后已经发生数百次地震
- B.叠溪大地震时形成的堰塞湖因受到余震影响发生溃决，造成两岸建筑全部毁坏
- C.朝鲜在地下进行核试验引发了震级为 4.5 级的地震。震源距离延边仅 180 公里
- D.太空陨石进入兰州地区后在 13km 的高空发生爆炸解体，坠落地面，引起地震

9.广告活动是指为了商业目的，由商品经营者或服务提供者承担费用，通过一定媒介或者一定形式，如通过报刊、电视、路牌、橱窗等，直接或间接地对自己推销的商品或者所提供的服务进行的公开的宣传。根据上述定义，下列各项属于广告活动的是（ ）。

- A.木材厂厂长为了扩大木材的销售量，提出向某包工队的队长给予回扣
- B.某县要求各超市只能销售本县生产的啤酒
- C.某企业为了扩大企业影响力，不惜花重金举办商业汇演
- D.某运动服装品牌赞助大运会，其提供的服装为中国运动员指定服装，取得了良好的社会效益和经济效益

10. 投射法，也称投射测试，在心理学上的解释，是指个人把自己的思想、态度、愿望、情绪或特征等，不自觉地反应于外界的事物或他人的

一种心理作用。具体说来，就是让被试者通过一定的媒介，建立起自己的想象世界，在无拘束的情景中，显露出其个性特征的一种个性测试方法。

根据上述定义，下列属于投射法的是（ ）。

- A.给被试者呈现一个故事的开头，让他任意来编故事的结尾，通过其回答和反应来了解其个性
- B.通过升学考试中语文试卷的作文内容，来了解不同考生的思想特征
- C.对拟测量的个性特征编制若干考题，让被试者逐项给出书面答案，依据其答案来衡量评价某项个性特征
- D.浩明最近郁郁寡欢，班主任通过与浩明亲近的几个同学的谈话，了解到浩明最近是失恋了，从而分析浩明现在处于一种回避的心理状态

11.复种指数指的是一年内农作物总播种面积与耕地面积之比，一般用百分数表示。复种指数的高低受当地日照、土壤、水利、肥料、劳力和科学技术水平等条件的制约。日照条件好、无霜期长、水分充足、合理套种等是提高复种指数的基础。

根据上述定义，下列关于复种指数的叙述哪项是正确的？

- A.我国由南向北，地区复种指数逐渐增高
- B.复种指数和地区所处的经度有密切的关系
- C.春季和秋季的复种指数要高于夏季和冬季
- D.较高的农业科技水平可使复种指数超过百分之百

12. 产品改良策略也称为“产品再推出”策略，即将产品的某一部分给予显著变革，以便吸引新顾客。维持老顾客的营销策略。

根据上述定义。下列不属于产品改良策略的是（ ）。

- A.某电视台为提高收视率改变了某节目的主持风格
- B.某电子表制造商将电子表机芯装在项链上变为项链电子表
- C.某时尚杂志社根据读者要求将杂志由季刊改为月刊
- D.某品牌家电厂推出空调以旧换新的活动

13. 行为经济学认为，互惠行为是一种条件合作行为，是对善意和助人的行为进行回报。互惠行为通过实施报答的形式而使对方获得利益，这种报答往往通过降低或损害自我利益而实现。根据上述定义，下列属于互惠行为的是（ ）

- A.企业家刘志刚每年捐款资助癌症患者，获得社会各界的赞誉
- B.为了感谢同事救了自己落水的孩子，李玲让出了自己升职加薪的机会
- C.小王利用空余时间帮助新来的大学生熟悉业务，自己也因此得到锻炼
- D.为了长期的共同合作，总经理给供货商提供了很多优厚条件

14. 信息共享是指不同人员、不同部门、不同层次之间，利用网络平台 对相关信息进行系统连接，使信息资源得到充分的开发利用。下列不属于信息共享的是：

- A.大学毕业生李红在 QQ 上建了一个群，同班同学都加入了

- B.某县所有党政机关都建立了 OA 系统，实现了无纸化办公
- C.某研究所将全部项目研究资料刻录成光盘，职工人手一套
- D.校团委在校园网 BBS 论坛上成功组织了校长与新生的对话

15.020 营销模式又称离线商务模式，是指线上营销、线上购买带动线下经营和线下消费。

020 通过打折、提供信息、服务预订等方式，把线下商店的消息推送给互联网用户，从而将他们转换为自己的线下客户。

根据上述定义，下列属于 020 营销模式的是：

- A.七夕节前夕，小王早早地在网上团购了电影票，准备到时带女朋友去看场电影
- B.每年天猫商城都会举行大规模的双十一促销活动，吸引了不少消费者前来购买
- C.某商城开业大酬宾，在附近广发传单，由于打折力度较大，不少居民前往购物
- D.小郑和久未见面的同学在 QQ 上聊天，两人约定周末一起出来吃饭并在饭后去 K 歌

16. 选择性注意是指在外界诸多刺激中，人们仅仅注意到某些刺激或刺激的某些方面，而忽略了其他刺激。

根据上述定义，下列属于选择性注意的一项是（ ）。

- A.志愿者小张在奥运会期间，每天忙于奥运赛场的服务，无暇观看奥运

比赛

B.奥运结束后，一些学生仍对奥运精彩纷呈的赛事感到意犹未尽，无法投入到新学期的学习生活中

C.意大利小伙子马克观看完北京奥运会开幕式后，对中国文化产生了浓厚兴趣，于是留在北京学习汉语

D.北京奥运会期间，原本闹离婚的夫妻俩。由于一起收看奥运会节目，交流增多，关系缓和，不再闹离婚了

三、常识判断(10 题)

17.第 20 题 对县级以上的地方各级人民政府工作部门的具体行政行为不服申请的复议，由本级人民政府或者上一级主管部门管辖。但是，法律规定，对有些具体部门的行政复议，须向其上一级主管部门申请。这些部门为下列哪项？（ ）

- A. 海关、金融、国税、外汇管理以及国家安全机关
- B. 工商管理、环境保护
- C. 司法行政、审计监察
- D. 价格管理、质量技术监督

18.

全国人大常委会与全国人民代表大会之间是（ ）

A.指导关系 B.监督关系 C.平行关系 D.隶属关系

19.第 85 题 单位对新录用人员进行的培训称为（ ）。

- A. 初任培训
- B. 任职培训
- C. 专门业务培训
- D. 在职培训

20. 2013 年中央一号文件《中共中央国务院关于加快发展现代农业进一步增强农村发展活力的若干意见》中指出，为全面建成小康社会，我们必须始终把解决好农业农村农民问题作为全党工作重中之重，把（ ）作为解决“三农”问题的根本途径。

- A.促进农民增收
- B.城乡发展一体化
- C.城乡改革一体化
- D.城乡协调发展

21. 在我国解放初期，中国人民志愿军远赴朝鲜，与朝鲜人民并肩作战，进行了一场艰苦卓绝的抗美援朝的战争。中国人民志愿军赴朝作战的主要原因是（ ）。

- A.我国要充分显示自己在国际上的伟大
- B.美帝国主义企图以朝鲜为跳板，威胁我国边境，我国人民要奋起保家卫国
- C.我国武器先进，军事力量强大
- D.我国要发扬无产阶级的国际主义精神

22. 张某 14 岁智力超群，大学二年级学生，张某因为有某项发明而与王某达成转让该发明的协议，该转让协议的效力如何？（ ）

- A.该转让协议有效
- B.该转让协议效力未定
- C.该转让协议无效
- D.该转

让协议可撤销

23.在所附条件不成就时，附解除条件的民事法律行为（ ）

A.自动解除 B.自始无效 C.继续有效 D.不生效

24.某食品加工厂因技术创新使得该厂的生产率大幅提高，减少了预付资本数量，这使得该厂的资本构成发生了变化，所变化的资本构成是（ ）。

A. 资本有机构成

B. 资本价值构成

C. 资本技术构成

D. 不变资本构成

25.

计划和市场之所以能够结合，是因为（ ）。

A.二者的范围具有一致性 B.二者调节的领域具有一致性 C.二者的形式具有一致性 D.二者所要达到的目的具有一致性

26.下列关于医学常识的表述，正确的是：

A.“口蹄疫”病毒所感染的对象包括鸡、鸭等家禽

B.流感疫苗用于预防流行性感冒，适用于任何人群

C.色盲是 X 染色体伴性遗传，而且是隐性遗传，通常女多于男

D.鉴定亲子关系目前用得最多的是 DNA 鉴定，肯定亲子关系的准确率几近 100%

四、数量关系(10 题)

27. 18, -27, 36, (), 54

A.45 B.44 C.-45 D.-44

28.92 . 已知一列货运火车通过 500 米的隧道用了 28 秒, 接着通过 374 米的隧道用了 22 秒, 这列货运火车与另一列长 96 米的客运火车相对而过, 用了 4 秒钟, 问这列客运火车的速度是多少?

A . 21 米 / 秒

B . 25 米 / 秒

C . 36 米 / 秒

D . 46 米 / 秒

29.第 60 题 $\frac{1}{2^{10}} + \frac{1}{2^{11}} + \frac{1}{2^{12}}$ 的值为 ()。

A. $\frac{1}{2^{13}}$

B. $\frac{3}{4} \times \frac{1}{2^{10}}$

C. $\frac{5}{4} \times \frac{1}{2^{10}}$

D. $\frac{7}{4} \times \frac{1}{2^{10}}$

30.第 113 题 有一只钟，每小时慢 3 分钟，早晨 4 点 30 分的时候，把钟对准了标准时间，则钟走到当天上午 10 点 50 分的时候，标准时间是多少？（ ）。

- A. 11点整
- B. 11点5分
- C. 11点10分
- D. 11点15分

31.第 24 题 有红、黄、蓝三种颜色的气球，红气球和黄气球合在一起共 27 个，黄气球和蓝气球合在一起共 32 个，红气球和蓝气球合在一起共 29 个，问三种颜色的球中数量相差最大的是多少个？（ ）

- A.2个
- B.3个
- C.4个
- D.5个

32.出版物的合格标准是每万字错误不超过一处。某人对一部 20 万字的书稿进行最终校对，每千字报酬 4 元。样书如出现错误，每处错误倒扣 8 元。若错误数量超出国家规定的出版物合格标准，超出的每个错误多扣 50%。他最终得 528 元报酬，则其漏掉了多少个错误？

- A.34 B.30 C.22 D.16

33. 某城市有 A、B、C、D、E 五个彩票投注点，

A 点投注金额占全市总投注额的 $\frac{4}{17}$ ，B 点投

注金额是 A 点的 $\frac{3}{4}$ ，C 点投注金额是 D、E 的 $\frac{5}{8}$ 。A 点比 C 点投注金额多 30 万。如果单笔投注

奖金最高为 500 万，同样的号码至少要投多少注能把奖金(总投注金额)

以上内容仅为本文档的试下载部分，为可阅读页数的一半内容。如要下载或阅读全文，请访问：<https://d.book118.com/766121035210010035>