

小学二年级上册数学应用题 100 道

一. 解答题(共 100 题, 共 623 分)

1. 有 24 条红金鱼、10 条黑金鱼和 6 条黄金鱼。再放多少条黄金鱼, 就和红金鱼同样多?
2. 一共有多少人乘车?



$$\square \bigcirc \square = \square \text{ (人)}$$

3. 一、二年级有 6 个班, 每个班有 4 人参加舞蹈组, 一共有多少人? 后来, 舞蹈组增加了 10 人, 现在舞蹈组有多少人?
4. 买一本《格林童话》, 小红给售货员 50 元, 售货员找给她 9 元。一本《格林童话》多少钱?
5. 每个茶杯 6 元, 茶壶的价钱是 1 个茶杯价钱的 5 倍。买下图这样一套茶具, 一共要用多少钱?



6. 食堂里一共有 83 个鸡蛋, 李阿姨做菜用去了 18 个鸡蛋, 还剩下多少个鸡蛋?
7. 一枝蜡笔用去 5 厘米, 还剩下 7 厘米, 这枝蜡笔原来长多少厘米?
8. 看图回答。



45元




28元



10元

(1) 洋洋买了一件上衣和一条裙子，一共花了多少钱？

(2) 妈妈买了一件上衣和一顶帽子，付给售货员 100 元，应找回多少钱？

9. 第一小组 6 个同学，每人做 4 面 ，共做多少面？第二小组比他们少做 6 面，做了多少面？

10. 做一件衣服用 5 米布，做 7 件同样的衣服用多少米布？

11. 红光小学一年级同学排成一排去动物园。帅帅的前面有 19 名同学，后面有 25 名同学。这个班一共有多少名同学？

12. 马上就要过年了，同学们开始剪窗花，有 5 个同学一起剪，每人剪 7 朵，还有 5 朵没有剪，一共要剪多少朵窗花。

13. 看图计算。



5 元




1 元



3 元

(1) 买了 3 个  要多少元钱？

(2) 12 元买 4 个  够吗？

14. 电脑城周一卖了 26 台电脑，周二卖了 28 台，周三卖了 16 台。电脑城周一和周二两天一共卖了多少台电脑？

15. 食堂买进 24 袋大米，4 袋面粉。大米的袋数是面粉的几倍？

16. 足球有 45 只，篮球比足球多 12 只，排球比足球多 27 只，问：

(1) 篮球有多少只？

(2) 排球有多少只？

17. 解答题。

(1) 有 2 瓶花，一瓶 6 朵，另一瓶 4 朵，一共有多少朵？

(2) 有 6 瓶花，每瓶 4 朵，一共有多少朵？

18. 一枝钢笔 5 元，一个皮球 4 元。(1) 买 3 支笔要用多少元？(2) 买 5 个皮球要用多少元？

19. 一本故事书共 46 页，从前往后数第 20 页是智力闯关游戏，如果倒过来数，这个游戏在第几页？

20. 商店里上星期卖出圆珠笔 42 支，比卖出的钢笔多 24 支，卖出钢笔多少支？卖出的圆珠笔和钢笔一共多少支？

21. 购物。



6 元



8 元



18 元



原价 75 元

特价 68 元



24 元

(1) 玩具小汽车在特价期间，优惠了多少元？




(2) 王老师买了 6 个文具盒和一个玩具熊，一共多少钱？



(3) 乐乐买了一个书包和一个足球，付给售货员 50 元，应找回多少钱？



(4) 你还能提出一个用乘法解决的问题并解答吗？



22. 爸爸差 3 岁就 40 岁了，奶奶比爸爸大 25 岁，爷爷再过 17 年就 80 岁了。奶奶和爷爷今年分别多少岁？

23. 妈妈买的水果。

水果			
个数	34 个	20 个	29 个

(1)  和  共几个？

(2)  比  少几个？

(3)  比  少几个？

24. 明明借了一本故事书，借期是一星期。他计划每天看 6 页，能按期还书吗？



25. 小明有 6 本故事书，连环画的本数是故事书的 8 倍，连环画一共有多少本？

26. 学校跳远队有 16 人，长跑队比跳远队多 9 人。长跑队有多少人？

27. 小华拍了多少下？



小红



小华

28. 超市里原来有 42 箱苹果，卖出 26 箱，又运来 28 箱。现在超市里有多少箱苹果？
29. 小华拍球，第一次拍了 30 下，_____，两次共拍了多少下？（先补上缺失的条件，再列式计算）
30. 有 46 人来开会，房间里有 30 张桌子，8 把椅子，还要再搬多少张桌子？多少把椅子
31. 25 人乘船去游玩，每船限乘 4 人，至少需要几条船？
32. 70 人乘车返回学校，车上有 62 人，还有多少人没上车？
33. 兰兰有 23 本连环画，借给同学一些后，还剩 8 本。借给同学多少本？
34. 明明有 25 个练习本，芳芳有 15 个练习本，明明再给芳芳几个练习本，他们俩的练习本数就同样多？
35. 把一根木头锯成 4 段，每锯一次所需要的时间为 2 分钟，一共需要多少分钟？
36. 一条绳子对折一次后，又对折了一次，这时每折长 8m，这根绳子原来长多少米？
37. 同学们在收废电池，小丽收了 35 节，小亮收了 20 节，小娟收了 16 节。他们 3 人一共收了多少节废电池？
38. 买一个书包要 6 元钱，王老师买了 7 个书包，共花了几元。王老师给售货员 100 元，还应找回几元？
39. 保龄球馆的架子上有 10 盒保龄球的瓶柱。小丁丁在数瓶柱：2 盒有几个瓶柱？4 盒呢？8 盒呢？



40. 小明写大字，每天写 3 篇，5 天共写多少篇？
41. 回答问题。



()元



15元



23元



20元

(1) 妈妈给小明买了一件衬衫和一条裤子，一共花多少元？

(2) 王宁买一顶帽子，给售货员 20 元，找回 8 元，一顶帽子多少元？

(3) 李阳买了一双鞋后，还剩 10 元。李阳带了多少元？

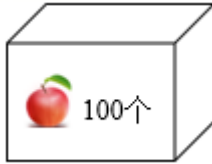
42. 摘苹果。



(1) 男生比女生多摘了多少个？

$$\square \bigcirc \square \bigcirc \square = \square \quad (\quad)$$

(2) 他们三人摘的苹果能装满这个箱子吗？



$$\square \circ \square \circ \square = \square \quad (\quad)$$

43. 商店里有笔记本、钢笔、文具盒和铅笔，每本笔记本 5 元，每支钢笔 14 元，每个文具盒 8 元，每支铅笔 3 元。请你列综合算式解答下列问题。

- (1) 买 5 本笔记本和一个文具盒，应付多少元？
- (2) 买 1 支钢笔和 4 支铅笔，应付多少元？
- (3) 买 2 支钢笔，付出 100 元，应找回多少元？

44. 解答题。



- (1) 买一辆小汽车比买一架小飞机可以少花多少元？

$$\underline{\quad\quad} \quad \underline{\quad\quad} \quad \underline{\quad\quad} = \underline{\quad\quad} (\quad)$$

- (2) 一架小飞机比一艘小轮船贵多少元？

$$\underline{\quad\quad} \quad \underline{\quad\quad} \quad \underline{\quad\quad} = \underline{\quad\quad} (\quad)$$

(3) 小明有 100 元，打算买一架小飞机和一艘小轮船够吗？若够，还剩多少元？

45. 挑战题。小云的爸爸今年 36 岁，妈妈比爸爸小 4 岁，妈妈比小云大 28 岁。小云多少岁？

46. 学校合唱队有 20 名男生，8 名女生，合唱队一共有多少名学生？

47. 小明买一个足球，付给售货员 20 元，找回 14 元，一个足球多少元？

48. 干农活

(1) 米奇拔萝卜，已经拔了 16 个，地里还剩下 48 个。地里原来有多少个？

$$\square \bigcirc \square = \square \text{ (个)}$$

(2) 米奇和小猪摘香蕉。米奇摘了 48 个，小猪比米奇多摘了 12 个。小猪摘了多少个？

$$\square \bigcirc \square = \square \text{ (个)}$$

(3) 米奇和小猪摘茄子。米奇摘了 20 个，小猪摘了 34 个。一共摘了多少个？送给宝宝餐厅 50 个，还剩多少个？

$$\square \bigcirc \square = \square \text{ (个)}$$

$$\square \bigcirc \square = \square \text{ (个)}$$

49. 小红一家 4 口去公园游玩，成人票每张 7 元，爸爸妈妈各买一张；儿童票每张 5 元，小红和姐姐各买一张。一共要花多少元钱？

50. 每个花瓶插 8 枝菊花，6 个花瓶可以插多少枝菊花？

51. 服装厂估了 20 件上衣，43 条裤子，还要做多少件上衣能和裤子配成套？

52. 1 只小兔拔 2 个萝卜，7 只小兔拔多少个萝卜？



加法算式：_____

乘法算式：_____

口答：7 只小兔拔（_____）个萝卜。

53. 商店里。



19 元



27 元



46 元



13 元

我买了一辆小汽车和一个皮球。

我买了一个洋娃娃和一个小熊。



明明



凤凤

(1) 明明付了多少钱？

(2) 凤凤付了多少钱？

54. 体育室借走了 6 个足球，还有 14 个足球。体育室原来有多少个足球？

55. 小明的妈妈到商店准备买下列物品：



12 元



18 元



13 元



5 元



46 元



27 元

(1) 买学习用品需要花多少钱？

(2) 买体育用品需要花多少钱?

(3) 除过买学习用品和体育用品外, 还准备买什么? 需要花多少钱?

(4) 如果她只买了文具盒、乒乓球拍和足球, 那么 100 元钱够不够?

56. 西岳华山位于陕西省华阴市, 南峰海拔约 2155 米。标出 2155 的大致位置。



57. 超市的玻璃杯, 每盒有 4 个, 有 6 盒。_____? (提出一个问题并列式解答) 列式: _____

58. 一棵果树上有许多果子, 小明摘下 42 个后, 还剩 29 个。这棵果树上原来有多少个果子?

59. 算一算。



(1) 买这三种学具共花了多少元?

(2) 拿 30 元钱买词典和文具盒, 够吗?

60. 小洋种了 26 株向日葵, 小红比小洋少种了 8 株向日葵, 小洋和小红一共种了多少株向日葵?

61. 小明买了一个计算器, 他给售货员阿姨 50 元钱, 找回了 5 元, 这个计算器多少钱?

62. 第一小组有 9 个同学，每人浇 6 棵树。

以上内容仅为本文档的试下载部分，为可阅读页数的一半内容。如要下载或阅读全文，请访问：

<https://d.book118.com/797143023134006121>