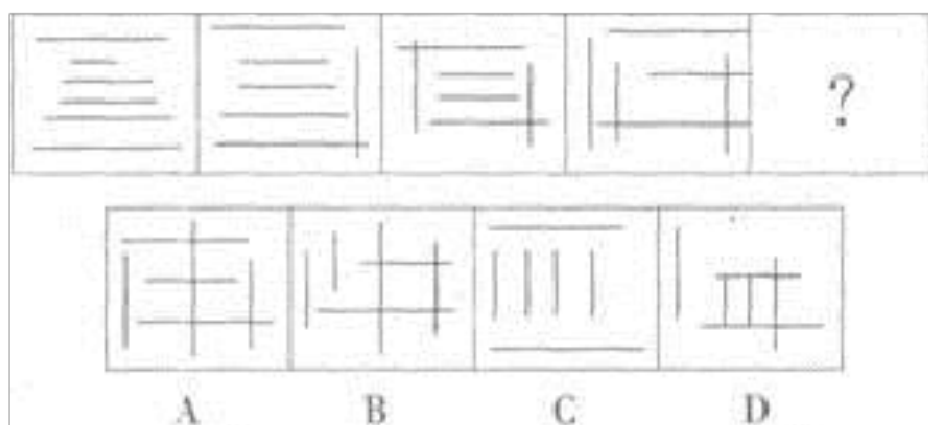


(备考 2023 年) 江西省上饶市公务员省考 行政职业能力测验真题(含答案)

学校:_____ 班级:_____ 姓名:_____ 考号:_____

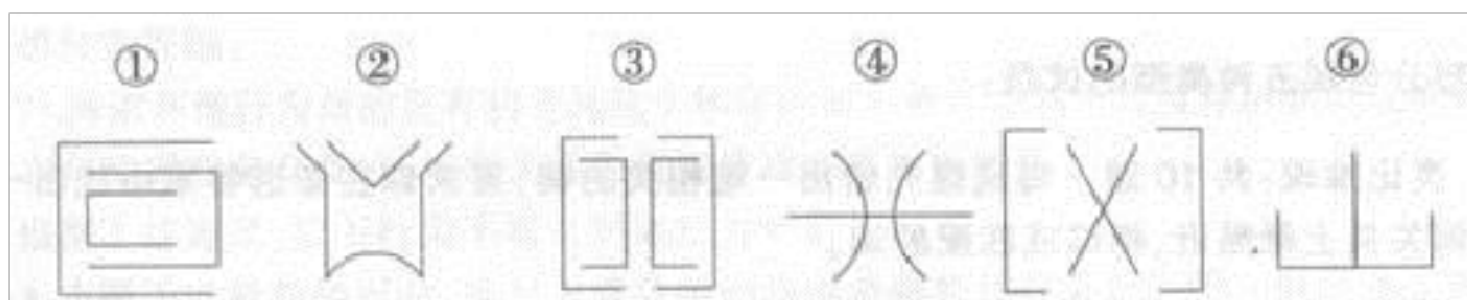
一、图形推理(6 题)

1.从所给的四个选项中, 选择最合适的一个填入问号处, 使之呈现一定的规律性:



A.①②③, ④⑤⑥ B.①②④, ③⑤⑥ C.①④⑥, ②③⑤ D.①③⑥,
②④⑤

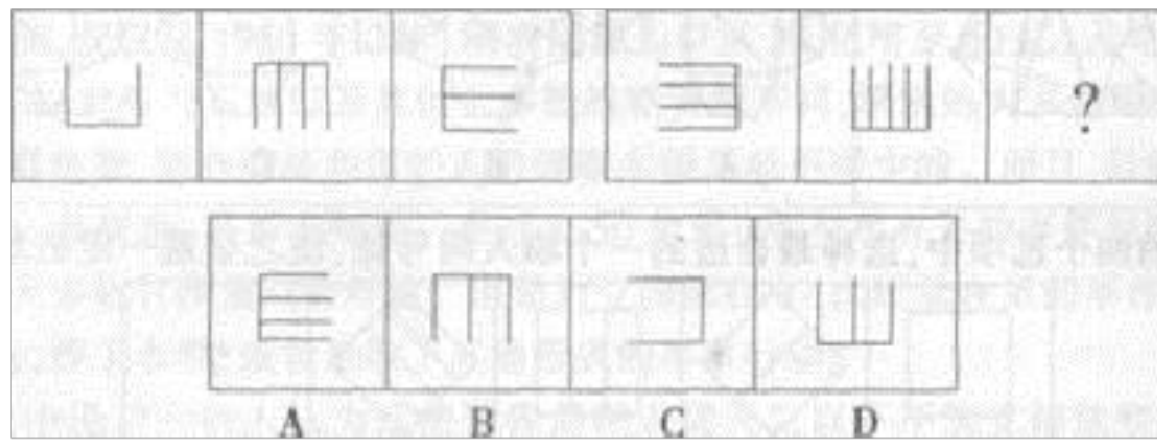
2. 把下面的六个图形分为两类, 使每一类图形都有各自的共同特征或规律, 分类正确的一项是:



A.①②⑤, ③④⑥ B.①④⑤, ②③⑥ C.①②⑥, ③④⑤ D.①③⑤,
②④⑥

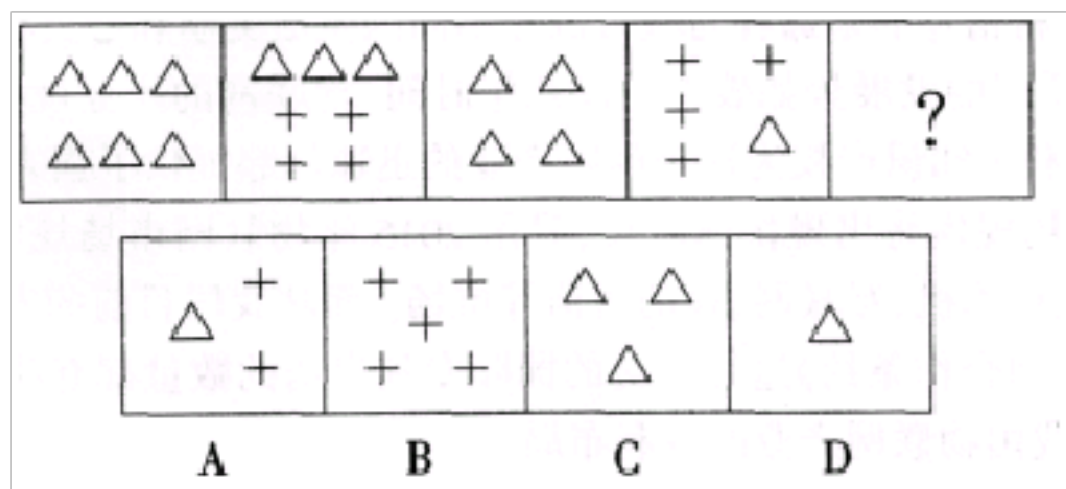
3. 从所给的四个选项中, 选择最合适的一个填入问号处, 使之呈现一

定的规律性：

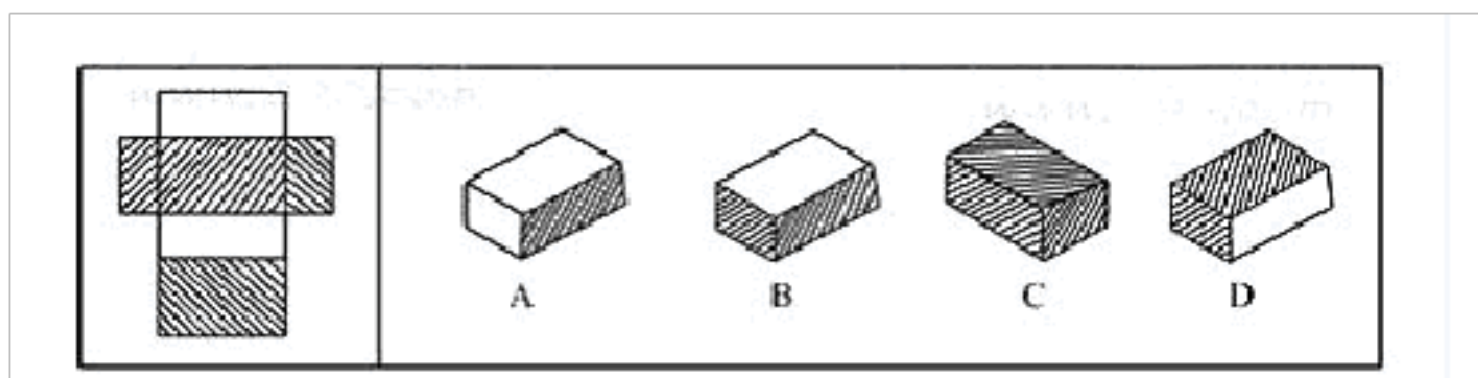


- A. ①②⑤, ③④⑥ B. ①④⑤, ②③⑥ C. ①②⑥, ③④⑤ D. ①③⑤, ②④⑥

4. 从所给的四个选项中，选择最合适的一个填入问号处，使之呈现一定的规律性：

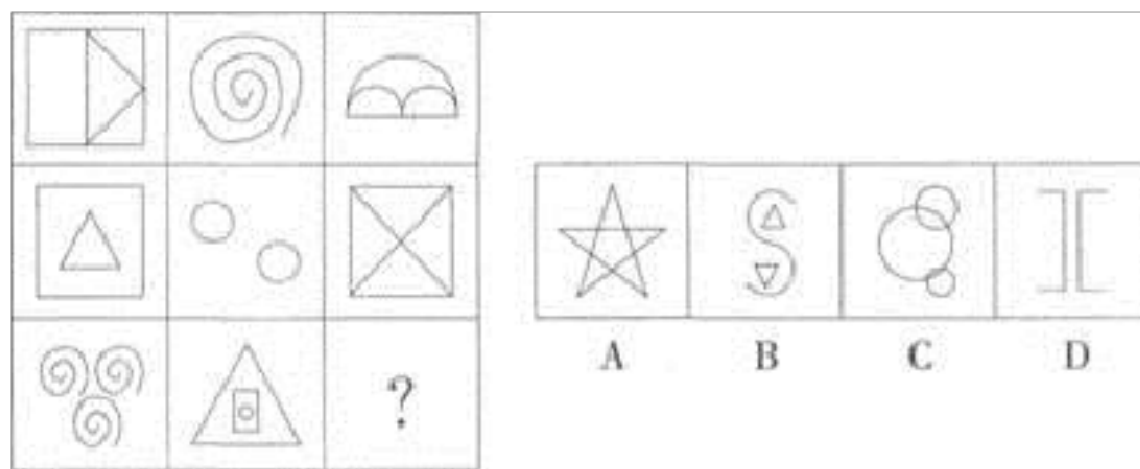


5.



6. 从所给的四个选项中。选择最合适的一个填入问号处，使之呈现一

定的规律性。()



二、定义判断(10 题)

7. 中国刑法规定了单位犯罪。单位犯罪的主体是单位, 包括公司、企业、事业单位、机关、团体。

依据上述规定, 下列说法错误的是 ()。

- A. 某市自来水公司是公用企业, 因而不能成为单位犯罪中的企业
- B. 某市工商行政管理局能够成为单位犯罪中的机关
- C. 某市共青团委能够成为单位犯罪中的团体
- D. 某市第一中学能够成为单位犯罪中的事业单位

8. 鲁迅先生曾在《无声的中国》中写道:“中国人的性情总是喜欢调和、折中的, 譬如你说, 这屋子太暗, 说在这里开一个天窗, 大家一定是不允许的。但如果你主张拆掉屋顶, 他们就会来调和, 愿意开天窗了。”这种先提出很大的要求来, 接着提出较小、较少的要求, 在心理学上被称为“拆屋效应”。

根据上述定义, 下列不属于“拆屋效应”的一项是:

A.老师在布置作业的时候先给学生比平时多的题目。等学生有所反应的时候，再说可以选做里面的一些题目

B.书店里，萧红首先要求爸爸买一套价值近千元的诗集，爸爸不同意，转而要求买另外两本较便宜的书，最终如愿以偿

C.请各家家庭主妇在一份呼吁安全驾驶的请愿书上签名。两周后，问这些主妇能否在她们的前院立一块写着“谨慎驾驶”的告示牌。结果，先前签过名的 55%以上都会同意。而没有签名的只有不足 17%的接受这一要求

D.谈判桌上，为了使对方接受自己的 500 万的赔偿要求，小张在此之前先提出一个 800 万的赔偿数额，最终使其接受该要求

9. 低碳生活是指在正常的生活作息时所耗用的能量要尽量减少，从而降低碳，特别是二氧化碳的排放。下列行为不属于低碳生活的是：

A.小王每次出门购物都自带购物袋，从不使用免费或收费的塑料袋

B.小李因为身体胖，最近开始调整饮食习惯，每天多吃素菜

C.小张把自家的灯泡全部更换成了节能灯泡

D.小红喜欢在网上买衣服，可有的衣服买回来觉得不好看，就闲置在衣柜中

10.映衬是把两个相对或相反的事物，或同一事物的两个方面放在一起，让它们互相衬托，相得益彰的修辞手法。映衬分为正衬和反衬。

利用事物的相似条件来衬托就是正衬；利用事物的对立条件来衬托就是反衬。根据上述定义，下列属于正衬的一项是：（ ）。

A.去年今日此门中，人面桃花相映红。人面不知何处去，桃花依旧笑春风

B.时候既是深冬，渐近故乡时，天气又阴晦了，冷风吹进船舱里，呜呜地响，从缝隙向外一望，苍黄的天底下，远近横着几个萧索的荒村，没有一些活气，我的心禁不住悲凉起来了

C.他只能在雪白地上去找黑塔似的虎妞

D.已是悬崖百丈冰，犹有花枝俏

11. 共同犯罪：是指两人以上共同故意犯罪。共同犯罪必须具备以下要件：第一，犯罪主体必须是两人以上达到刑事责任年龄并且具有刑事责任能力的人；第二，有共同的故意犯罪；第三，有共同的犯罪行为。

据此定义，下列属于共同犯罪的行为是（ ）。

A.某人对社会不满，一次进入超市，趁人不备，在装食品的货柜里放了毒药，恰巧被旁边过路人看见，此人并未吭声

B.乙公司是甲公司最大的客户，甲公司为了与乙公司续签合同，甲公司的两位正副老总商议从公司账上取走 30 万元，私下送给乙公司项目负责人

C.两个初中学生，一个 13 岁，一个 14 岁，经常在路边抢幼低年级的学生

D.某人一天夜里潜进一户人家，盗走价值几万元的首饰。为了安全起见，

他把首饰托放到哥哥家，其哥哥并不知情

12. 移民即人口迁移，指那些由一个国家或区域，移动到并长期居留于另外一个国家或区域，在移居地从事生计性的经济活动，并被课以当地社会义务的个人或人群。

根据上述定义，下列选项属于移民的是（ ）。

- A.甲因家乡修建水库而搬到邻省居住，政府为其安排了住房，解决了工作问题，后其在邻省成家生子
- B.乙因工作需要每年需在日本居住半年，此种情况持续了 10 年
- C.丙是一位动物学家，她在巴西的亚马逊原始森林居住了 15 年，观察当地的野生猩猩的活动规律
- D.90 年代，丁的父母到美国投奔亲友，后在美国生下丁，丁便在美国上学并工作

13. 行政处理，是行政主体为了实现相应法律、法规和规章确定的行政管理目标和任务，应行政相对人申请或依职权处理涉及特定行政相对人特定权利义务事项的具体行政行为。所谓行政相对人是指在行政法律关系中与行政主体相对应的另一方当事人。

根据上述定义，下列行为属于行政处理的是（ ）。

- A.中央做出开发西部的战略计划
- B.全国人大提出修改《婚姻法》
- C.行政机关主持的对特定纠纷进行的诉讼外调解

D.公安机关逮捕犯罪人员

14.生态经济是指不破坏环境、不污染环境的经济，不以不可再生资源为基础的经济。根据上述定义，下列属于生态经济的是()

A.某地利用开山伐树筹集来的资金修建成马路后，极大地方便了村民的出行

B.某市在发展煤炭经济时注重改进技术、提高资源利用率，以保护并修复环境

C.某村利用家畜—沼气—经济作物的沼气工程发展当地经济

D.某乡运用新型肥料和农药发展鱼藕混养模式，农民收成再创新高

15. 会计欺诈是会计主体在会计活动中，故意形成虚假会计信息，或者故意披露虚假会计信息的不法行为。

根据上述定义，下列属于会计欺诈的是 ()。

A.某会计甲由于业务生疏，将应计入制造费用的车间管理人员差旅费计入了管理费用

B.某出纳乙为图省事，没有按要求逐日登记现金日记账，而是将几天的业务合并填列

C.某出纳丙因父亲得病急需医药费，借管理现金之便挪用资金 5 万元，2 年后才还回

D.某企业为虚夸利润，粉饰其业绩骗取上市资格，授意会计丁虚列收入，人为少计费用

16. 行政成本是指政府为了社会的公共管理和为公众提供公共服务付出的代价，包括直接行政成本和间接行政成本。下列没有涉及行政成本的一项是()

- A.某政府部门为了提高工作效率合并机构、精简工作人员
- B.某区政府为应对私家车增多的问题，新建了两个地下公共停车场
- C.某商业银行为方便广大用户处理业务，耗费巨资开通了手机银行业务
- D.某公安局招聘交通协管员协助交警维护交通秩序

三、常识判断(10 题)

17.

下列犯罪构成要件中，属于犯罪构成必不可少的要件即必备要件是()。

- A.犯罪目的 B.犯罪对象 C.危害行为 D.犯罪时间

18. 4G 是第四代移动通信及其技术的简称，是集 3G 与 WLAN 于一体并能够传输高质量视频

图像并且图像传输质量与高清晰度电视不相上下的技术产品。下列由我国主导的 4G 国际标准是 ()。

- A.TD—SCDMA B.TD—LTE C.WiMAX D.WirelessMAN—Advanced

19.下列对应关系正确的是：

- A.白令海峡—沟通太平洋和大西洋—北美洲和亚洲的分界线
- B.德雷克海峡—沟通太平洋和北冰洋—南美洲和南极洲的分界线

- C.丹麦海峡—沟通北冰洋和大西洋—欧洲和北美洲的分界线
- D.直布罗陀海峡—沟通大西洋和地中海—欧洲和亚洲的分界线

20. 我国《刑法》规定：“法律明文规定为犯罪行为的，依照法律定罪判刑，法律没有明文规定为犯罪行为的，不得定罪处刑。”这是刑法的（ ）。

- A.刑法定罪原则 B.平等适用刑法原则 C.普遍保护原则 D.罪刑法定原则

21.

儒家思想从西汉武帝到近代五四运动一直处于统治思想地位，儒学在历史变迁面前也几经演变，其中说法正确的是：

- A.董仲舒把儒学发展为新儒学
- B.唐朝出现用老庄思想解释儒学易经的玄学
- C.王阳明用儒学的天命论和封建纲常来反对佛教，维护封建统治
- D.李贽强调经世致用的实际学问，批判理学，反对君主专制政治

22.

法律的系统化就是对已经制定颁布的规范性法律文件，按照一定的原则，采取一定的方式，进行归类、整理或修改，使其集中起来作有系统的排列，以达到便于使用的目的的活动。下列哪种方法不属于法律的系统化的基本方式？（ ）

- A.法律(法规)整理 B.法律汇编 C.法律编纂 D.法律编辑

23. 科学发展观的核心和基本要求分别是：

A.以人为本全面协调可持续 B.发展全面协调可持续 C.以人为本统筹兼顾 D.发展统筹兼顾

24. 判断社会进步的最根本标准是()

A.生产力的发展 B.民主程度的提高 C.自然环境改变 D.社会秩序的稳定

25.第 100 题 今年，全球华人都以不同的方式纪念孔子，孔子思想的核心是 ()。

A.仁 B.义 C.孝 D.信

26.第 92 题 下列各项中，不具有行政主体资格的是：

A.乡镇人民政府 B.公安派出所 C.街道办事处 D.国务院办公厅

四、数量关系(10 题)

27.

15, 7, 12, 11, 9, 15, ()。

A.6 B.8 C.18 D.19

28.92 . A、B 两地相距 540 千米 . 甲、乙两车同时从 A 地出发，往返行驶于 A、B 两地之间，都是到达之后立即返回，乙车较甲车快 . 设两辆车同时从 A 地出发后第一次和第二次相遇都在途中 P 地 . 那么到两车第三次相遇为止，乙车共走了多少千米？

A . 1080

B . 1620

C . 1890

D . 2160

29.根据天气预报，未来 4 天中每天下雨的概率均为 0 . 6，则未来 4 天中仅有 1 天下雨的概率 P 为 ()。

A. $0 . 03 < p < 0 . 05$

B. $0 . 06 < p < 0 . 09$

C. $0 . 13 < p < 0 . 16$

D. $0 . 16 < p < 0 . 36$

30. $2, -\frac{3}{4}, \frac{10}{9}, -\frac{15}{16}, (\quad),$
A. $\frac{6}{5}$ B. $\frac{26}{25}$ C. $\frac{2}{3}$ D. $\frac{3}{2}$

31. 已知: $\sqrt{x} = \sqrt{a} - \frac{1}{\sqrt{a}}$, 则 $x+2+\sqrt{x^2+4x} = (\quad)$.

A. $1/a$

B. a

C. $2a$

D. $2/a$

32.

某科室共有 8 人，现在需要抽出两个 2 人小组到不同的下级单位检查工

以上内容仅为本文档的试下载部分，为可阅读页数的一半内容。如要下载或阅读全文，请访问：<https://d.book118.com/807022134064006032>