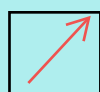







SOLD

@备考首选

## 通关无忧 轻松拿下考试

-  基础阶段—专业知识
-  刷题阶段—重点题库
-  冲刺阶段—押题点睛
-  考点覆盖—精编习题
-  紧扣考纲—直击考点
-  历年真题—押题抢分

本封面内容仅供参考，实际内容请认真预览本电子文本

祝您考试顺利

2023 年度卫生专业技术资格考试

康复医学治疗技术

初级(士)专业实践力气

一、以下每一道考题下面有A、B、C、D、E 五个备选答案。请从中选择一个最正确答案，并在答题卡上将相应题号的相应字母所属的方涂黑。

1.局部按摩的禁忌症是(1 分)

A.局部开放伤口未愈合

B.下腰背苦痛

C.肢体痉挛

D.头痛

E.关节挛缩

参考答案:A

2 关于电疗安全操作的表达,正确的(1 分)

A.植有心脏起搏器者可以进展高频电疗

B.移动 无需远离高频电疗仪

C.仪器有故障时可以坚持治疗

D.电疗时可以让患者任凭翻身

E.操作者的皮肤和衣服应保持枯燥

参考答案:E

3 一般轮椅的根本构造不包括(1 分)

A.坐垫

B.车轮和刹车

C.扶手和手柄

D.电动装置

E.靠背和脚踏板

参考答案:D

4.以下属于陶艺作业的是(1 分)

A.黏土塑性

B.锯木

C.刨木

D.锤钉

E.挖土

参考答案:A

5 红外线照耀头面时,最重要保护的是(1 分)

A.防止头晕

B.保护皮肤

C.保护眼睛

D.保护耳朵

E.防止皮肤脱皮

参考答案:C

6 磁疗适用于(1 分)

A.孕妇下腹部

B.重危患者(如急性心梗,急腹症,大出血等)

C.瘢痕,硬结处

D.心脏起搏器者

E.金属异物处金属异物处

参考答案:C

7 关于脑损伤后平衡训练的表达,错误的选项是(1

A.肌肉力气影响平衡力气

B.本体感觉影响平衡力气

C.姿势把握影响平衡力气

D.获得坐位平衡,就获得了站立平衡

E.强调躯干的旋转运动

参考答案:D

8. 抗阻的斜面磨砂板练习属于(1 分)

- A. 抗阻等长训练
- B. 抗阻等张训练
- C. 主动等长训练
- D. 主动等张训练
- E. 被动牵拉训练

参考答案:B

9 肌张力评定记录中,错误的选项是

- A. 是否存在反射特别
- B. 是否存在影响评定的外在因素
- C. 痉挛分布的部位
- D. 无需注明测试的体位
- E. 对患者 ADL 等功能活动的影响

参考答案:D

10 用于信息存储的记忆关心物不包括(1 分)

- A. 日历本
- B. 备忘录
- C. 时间表或日程表
- D. 口头提示
- E. 明显的标

参考答案:D

11. 患者屈髋肌力缺乏,假设先在仰卧位屈髋,然后在治疗师的帮助下完成全髋关节范围的屈曲运动,这一运动属于(1 分)

- A. 主动运动
- B. 被动运动
- C. 抗阻运动
- D. 关心运动
- E. 等速运动

以上内容仅为本文档的试下载部分，为可阅读页数的一半内容。如要下载或阅读全文，请访问：<https://d.book118.com/807042031106006134>