

# 重庆市重庆市璧山区 2023-2024 科目一模拟考试 100 题（精品附答案）

1、机动车行驶中，车上少年儿童可不使用安全带。

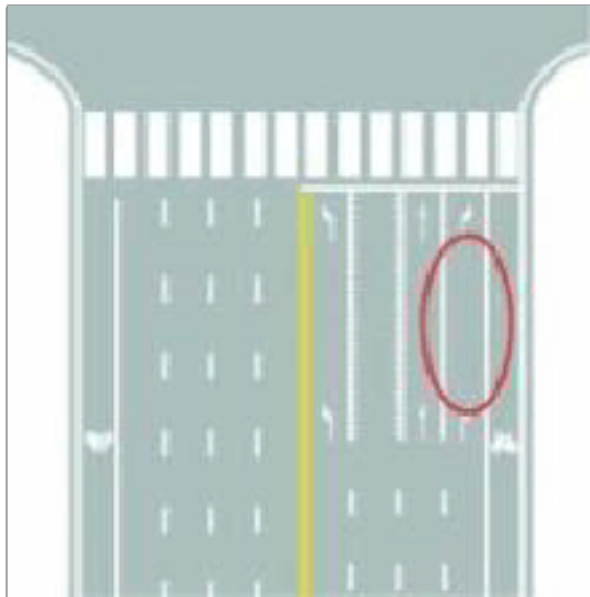
A、正确

B、错误

正确答案：B

分析：当然不是，儿童的体格比我们大人差远了所以儿童更应该使用安全带，有孩子的朋友一定要买儿童安全座椅，不然出事哭都来不及。

2、图中圈内白色实线是什么标线？



A、可变导向车道线

B、导向车道线

C、方向引导线

D、单向行驶线

正确答案：B

分析：具有固定行驶方向的导向车道线

3、前方车辆开启转向灯表示要如何行驶？



- A、超越前方车辆
- B、准备向左转弯
- C、前方有障碍物
- D、准备向左变道

正确答案：D

分析：如图所示，图中看到车辆开启左转向灯，准备向左变道。

4、将机动车交由未取得机动车驾驶证的人驾驶的，由公安交通管理部门处二百元以上二千元以下罚款，可以并处以下哪种处罚？

- A、15 日以下拘留
- B、吊销驾驶证
- C、扣留车辆
- D、5 年不得重新取得新驾驶证

正确答案：B

分析：将机动车交由未取得机动车驾驶证的人驾驶的，由公安交通管理部门处二百元以上二千元以下罚款，并处以吊销驾驶证的处罚。


5、驾驶载货汽车载物超过最大允许总质量未达到 30% ，一次记 1 分。

- A、正确
- B、错误

正确答案：A

分析：《道路交通安全法实施条例》规定，机动车驾驶人有下列交通违法行为之一，一次记1分：（一）驾驶校车、中型以上载客载货汽车、危险物品运输车辆在高速公路、城市快速路以外的道路上行驶超过规定时速百分之十以上未达到百分之二十的；（二）驾驶机动车不按规定会车，或者在高速公路、城市快速路以外的道路上不按规定倒车、掉头的；（三）驾驶机动车不按规定使用灯光的；（四）驾驶机动车违反禁令标志、禁止标线指示的；（五）驾驶机动车载货长度、宽度、高度超过规定的；（六）驾驶载货汽车载物超过最大允许总质量未达到百分之三十的；（七）驾驶未按规定定期进行安全技术检验的公路客运汽车、旅游客运汽车、危险物品运输车辆以外的机动车上道路行驶的；（八）驾驶擅自改变已登记的结构、构造或者特征的载货汽车上道路行驶的；（九）驾驶机动车在道路上行驶时，机动车驾驶人未按规定系安全带的；（十）驾驶摩托车，不戴安全头盔的。

6、机动车仪表板上（如图所示）亮，提示发电机向蓄电池充电。



A、正确

B、错误

正确答案：B

分析：蓄电池放电，指示灯才亮。发动机向蓄电池充电时，指示灯熄灭。

7、机动车仪表板上（如图所示）亮时，提醒发动机需要加注机油。



A、正确

B、错误

正确答案：B

分析：这个是提醒发动机冷却液可能不足。

8、驾驶机动车在下列哪种情形下不能超越前车？

A、前车减速让行

B、前车正在左转弯

C、前车靠边停车

D、前车正在右转弯

正确答案：B

分析：因为要从左侧超车正好他左转那不撞上了，所以前车正在左转弯的时候不能超车。

9、机动车驾驶人处理完交通违法行为记录后累积记分未满 12 分，参加公安机关交通管理部门组织的交通安全教育并达到规定要求的，可以申请在机动车驾驶人现有累积记分分值中扣减记分。在一个记分周期内累计最高可扣减几分？

A、3 分

B、6 分

C、9 分

D、12 分

正确答案：B

分析：《道路交通安全违法行为记分管理办法》规定：机动车驾驶人处理完交通违法行为记录后累积记分未满 12 分，参加公安机关交通管理部门组织的交通安全教育并达到规定要求的，可以申请在机动车驾驶人现有累积记分分值中扣减记分。在一个记分周期内累计最高可扣减 6 分。

10、驾驶机动车行经人行横道，不按规定减速、停车避让行人的，一次记多少分？

A、1 分

B、2 分

C、3 分

D、6 分

正确答案：C

分析：《道路交通安全违法行为记分分值》中规定 机动车驾驶人有下列违法行为之一，一次记 3 分：驾驶机动车在高速公路上行驶低于规定最低时速的；驾驶禁止驶入高速公路的机动车驶入高速公路的；驾驶机动车在高速公路或者城市快速路上不按规定车道行驶的；驾驶机动车行经人行横道，不按规定减速、停车、避让行人的；驾驶机动车违反禁令标志、禁止标线指示的；驾驶机动车不按规定超车、让行的，或者逆向行驶的；

11、机动车驾驶人在一个记分周期内累积记分满 24 分未满 36 分的，在道路交通安全法律、法规和相关知识考试合格后，应当按照规定预约参加场地驾驶技能考试。

A、正确

B、错误

正确答案：B

分析：《道路交通安全违法行为记分管理办法》规定：机动车驾驶人在一个记分周期内二次累积记分满 12 分或者累积记分满 24 分未满 36 分的，应当在道路交通安全法律、法规和相关知识考试合格后，按照《机动车驾驶证申领和使用规定》第四十四条的规定预约参加道路驾驶技能考试。考试不合格的，十日后预约重新考试。

12、驾驶机动车通过交叉路口要遵守交通信号。

A、正确

B、错误

正确答案：A

分析：这个最基本的，没什么解释的。

13、警告标线的作用是促使道路使用者了解道路上的特殊情况，提高警觉准备应变防范措施。

A、正确

B、错误

正确答案：A

分析：道路交通标线按功能可分为三类：1) 指示标线：指示车行道、行车方向、路面边缘、人行道等的标线；2) 禁止标线：告示道路交通的遵行、禁止、限制等特殊规定的标线；3) 警告标线：促使道路使用者了解道路上的特殊情况，提高警觉，准备防范或应变措施的标线。

14、年满 70 岁的驾驶人发生责任交通事故造成人员重伤或者死亡的，应当在本记分周期结束后三十日内到公安机关交通管理部门接受审验。

A、正确

B、错误

正确答案：A

分析：《机动车驾驶证申领和使用规定》规定：机动车驾驶人应当按照法律、行政法规的规定，定期到公安机关交通管理部门接受审验。机动车驾驶人按照本规定第六十三条、第六十四条换领机动车驾驶证时，应当接受公安机关交通管理部门的审验。持有大型客车、重型牵引挂车、城市公交车、中型客车、大型货车驾驶证的驾驶人，应当在每个记分周期结束后三十日内到公安机关交通管理部门接受审验。但在一个记分周期内没有记分记录的，免予本记分周期审验。持有第三款规定以外准驾车型驾驶证的驾驶人，发生交通事故造成人员死亡承担同等以上责任未被吊销机动车驾驶证的，应当在本记分周期结束后三十日内到公安机关交通管理部门接受审验。年龄在70周岁以上的机动车驾驶人发生责任交通事故造成人员重伤或者死亡的，应当在本记分周期结束后三十日内到公安机关交通管理部门接受审验。机动车驾驶人可以在机动车驾驶证核发地或者核发地以外的地方参加审验、提交身体条件证明。

15、在这个路口怎样左转弯？



A、靠路口中心点右侧转弯

B、靠路口中心点左侧转弯

C、不能左转弯

D、骑路口中心点转弯

正确答案：B

分析：左转转大弯，右转转小弯；选右转的话还用靠近中心点吗？！直接转不就行了。所以选左转才是对的呀

16、车辆驶近停在车站的公交车辆时，为预防公交车突然起步或行人从车前穿出，应怎样做？

A、减速，保持足够间距，随时准备停车

B、保持正常车速行驶

C、随时准备紧急制动

D、鸣喇叭提醒，加速通过

正确答案：A

分析：安全第一，以人为本。

17、以下哪个标志为最低限速标志？



A、图 1

B、图 2

C、图 3

D、图 4

正确答案：B

分析：记住就可以了，其他图标是什么？去“交通标志”里学习一遍吧。

18、下长坡时，控制车速除了刹车制动以外还有什么有效的辅助方法？

A、挂入空挡滑行

B、利用发动机制动

C、踏下离合器滑行

D、关闭发动机熄火滑行

正确答案：B

分析：发动机制动就是挂低档，让车利用低档位的惯性制动，你可以试一下，你在3挡的速度，直接挂1挡，记住不要踩刹车，直接挂档，你看效果如何，车身会震一下，速度下降的很快

19、道路上划设这种标线的车道内允许下列哪类车辆通行？



- A、出租车
- B、公务用车
- C、公交车
- D、私家车

正确答案：C

分析：看见路上的大字没，公交专用车道，你不选C，你选谁。

20、准驾车型为小型自动挡汽车的，可以驾驶低速载货汽车。

- A、正确
- B、错误

正确答案：B

分析：小型自动挡汽车（C2）准驾车型：小型、微型自动挡载客汽车以及轻型、微型自动挡载货汽车



21、如图所示，通过有这个标志的路口时无需减速。



A、正确

B、错误

正确答案：B

分析：这个标志是减速让行的意思，所以要减速哦，不然将咖啡色大叔撞飞了。

22、这样在路边临时停放机动车有什么违法行为？



A、在非机动车道停车

B、在人行横道上停车

C、距离路边超过 30 厘米

D、在有禁停标线路段停车

正确答案：B

分析：图中车停在人行横道。规定是：在设有禁停标志、标线的路段，在机动车道与非机动车道、人行道之间设有隔离设施的路段以及人行横道、施工地段，不得停车；

23、驾驶校车在高速公路上行驶超过规定时速未达 20% 的，对驾驶人处以罚款 200 元、驾驶证记 6 分的处罚。

A、正确

B、错误

正确答案：A

分析：驾驶校车、中型以上载客载货汽车、危险物品运输车辆在高速公路、城市快速路上行驶超过规定时速未达到 20%，一次记 6 分，罚款 200 元；超过规定时速 20% 的，一次记 12 分，罚款 200 元。

24、以下哪个指示灯亮时，表示发动机机油压力过低？



A、图 1

B、图 2

C、图 3

D、图 4

正确答案：A

分析：记住就可以了，其他图标是什么？去“交通标志”里学习一遍吧。

25、驾驶人进入驾驶室前，首先要观察机动车周围情况，确认安全后再上车。

A、正确

B、错误

正确答案：A

分析：注意“进入驾驶室前”，也就是上车前。上车前，要从驾驶室车门外开始，逆时针绕车

一周，检查车辆及周边情况，查看车底，车后有无异常情况，如玩耍的小孩，确认安全后再上车。因此本题做法正确。

26、驾驶机动车有拨打、接听手持电话行为的，一次记多少分？

A、2分

B、3分

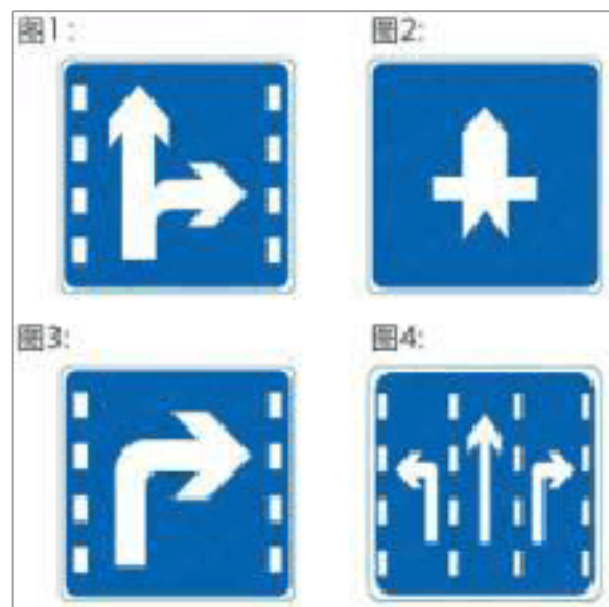
C、6分

D、12分

正确答案：A

分析：驾驶机动车时有拨打、接听手持电话、观看电视等妨碍安全驾驶的行为的，一次应记2分。判断开车打电话主要依据是“手持电话”，即手离开了方向盘。在驾车过程中，一定不要接打电话，这是遵守交通法规的行为，也是避免事故的表现，更是为自己、为他人生命安全负责的一种态度和担当。

27、以下哪个标志，指示车辆直行和右转合用车道？



A、图1

B、图2

C、图3

D、图4

正确答案：A

分析：记住就可以了，其他图标是什么？去“交通标志”里学习一遍吧。

28、大雾天行车，多鸣喇叭是为了什么？

A、引起对方注意，避免发生危险

B、催促前车提速，避免发生追尾

C、准备超越前车

D、催促前车让行

正确答案：A

分析：大雾天视线不好，多鸣笛引起对方车辆注意，安全。

29、驾驶机动车在铁路道口、桥梁、陡坡、隧道或者容易发生危险的路段不能掉头。

A、正确

B、错误

正确答案：A

分析：《中华人民共和国道路交通安全法实施条例》第四十九条第一款 机动车在有禁止掉头或者禁止左转弯标志、标线的地点以及在铁路道口、人行横道、桥梁、急弯、陡坡、隧道或者容易发生危险的路段,不得掉头。”

30、驾驶机动车在交叉路口前变更车道时，应在进入实线区后，开启转向灯，变更车道。

A、正确

B、错误

正确答案：B

分析：在虚线区就要完成车道变更选择而变更车道要提前开启转向灯的，实线区才开转向灯就不能做到提前开启转向灯的要求了，而且实线区禁止变更车道。

31、交叉路口不得倒车的原因是什么？

A、交通情况复杂，容易造成交通堵塞甚至引发事故

B、交通监控设备多

C、交通警察多

D、车道数量少

正确答案：A

分析：当然是选 A，交叉路口情况复杂，倒车容易引发危险。

32、这个标志的含义是提醒前方道路变为不分离双向行驶路段。



A、正确

B、错误

正确答案：A

分析：警告标志注意双向交通。用以提醒车辆驾驶人注意会车。设在由双向分离行驶，因某种原因出现临时性或永久性的不分离双向行驶路段，或由单向行驶进入双向行驶路段以前适当位置。

33、驾驶车辆时，长时间左臂搭在车门窗上，或者长时间右手抓住变速器操纵杆，是一种驾驶陋习。

A、正确

B、错误

正确答案：A

分析：这是一种陋习，但还算不上是违法。因为这样久了，会导致血脉不通，手臂麻木，容易出事！

34、在车门、车厢没有关好时不要驾驶机动车起步。

A、正确

B、错误

正确答案：A

分析：安全第一。

35、车辆发生故障而无法移动时，首先应在车辆后方 50-150 米处放置危险警告标志，防止后车追尾。

A、正确

B、错误

正确答案：B

分析：应该先开启危险警报闪光灯，并在车后 50-150 米以内放置警告标志。PS：在高速公路上，危险警报标志应放在车后 150 米外的地方。

36、驾驶机动车不按规定会车的，将被一次记多少分？

A、1 分

B、2 分

C、3 分

D、4 分

正确答案：A

分析：机动车驾驶人有下列违法行为之一，一次记 1 分：（一）不按规定使用灯光的；（二）不按规定会车的；（三）不按规定倒车的；（四）上道路行驶的机动车未放置保险标志，未随车携带行驶证、机动车驾驶证的；（五）驾驶机动车没有关好车门、车厢的。

37、申请人患有癫痫病的，可以申领机动车驾驶证，但是驾驶时必须有人陪同。

A、正确

B、错误

正确答案：B

分析：申请人患有癫痫病的，不可以申领机动车驾驶证。

38、伪造、变造机动车驾驶证构成犯罪的将被依法追究刑事责任。

A、正确

B、错误

正确答案：A

分析：常识题，题目“犯罪”，肯定是“刑事责任”！

39、将点火开关转到 ACC 位置起动机工作



A、正确

B、错误

正确答案：B

分析：点火锁开关档位设置方式。其含义是：LOCK：切断电源，锁定方向盘；ACC：接通附件电源（比如收音机等附件）ON：接通除起动机外的全车全部电源；START：接通起动机电源，启动发动机。（启动后松手钥匙，会自动弹回 ON 档位）供你参考。

40、在路口遇有交通信号灯和交通警察指挥不一致时，按照交通信号灯通行。

A、正确

B、错误

正确答案：B

分析：灯是死的，人是活的嘛。

41、进入左侧道路超车，无法保证与正常行驶前车的横向安全间距时，应怎样做？

A、加速超越

B、并行一段距离后再超越

C、放弃超车

D、谨慎超越

正确答案：C

分析：亲，那就别超了，安全第一嘛。

42、在驾驶技能准考证证明的有效期内，科目二和科目三道路驾驶技巧考试预约次数不得超过多少次？

A、3次

B、4次

C、5次

D、6次

正确答案：C

分析：正确答案：C 科目二和科目三道路驾驶技能考试预约次数超过5次，重新考科目一，有效期3年，新交规规定。

43、驾驶机动车上路行驶，驾驶员应当随车携带驾驶证与行驶证，否则会被扣留车辆。

A、正确

B、错误

正确答案：A

分析：《道路交通安全法》第九十五条规定：上道路行驶的机动车未悬挂机动车号牌，未放置检验合格标志、保险标志，或者未随车携带行驶证、驾驶证的，公安机关交通管理部门应当扣留机动车。因此本题说法正确。

44、驾驶7座以下载客汽车超过核定载客人数50%以上未达100%的，一次记多少分？

A、3分

B、9分

C、6分



D、12分

正确答案：C

分析：《道路交通安全违法行为记分管理办法》规定，机动车驾驶人有下列交通违法行为之一，一次记6分：（一）驾驶校车、公路客运汽车、旅游客运汽车载人超过核定人数未达到百分之二十，或者驾驶7座以上载客汽车载人超过核定人数百分之二十以上未达到百分之五十，或者驾驶其他载客汽车载人超过核定人数百分之五十以上未达到百分之百的；（二）驾驶校车、中型以上载客载货汽车、危险物品运输车辆在高速公路、城市快速路上行驶超过规定时速未达到百分之二十，或者在高速公路、城市快速路以外的道路上行驶超过规定时速百分之二十以上未达到百分之五十的；（三）驾驶校车、中型以上载客载货汽车、危险物品运输车辆以外的机动车在高速公路、城市快速路上行驶超过规定时速百分之二十以上未达到百分之五十，或者在高速公路、城市快速路以外的道路上行驶超过规定时速百分之五十以上的；（四）驾驶载货汽车载物超过最大允许总质量百分之五十以上的；（五）驾驶机动车载运爆炸物品、易燃易爆化学物品以及剧毒、放射性等危险物品，未按指定的时间、路线、速度行驶或者未悬挂警示标志并采取必要的安全措施的；（六）驾驶机动车运载超限的不可解体的物品，未按指定的时间、路线、速度行驶或者未悬挂警示标志的；（七）驾驶机动车运输危险化学品，未经批准进入危险化学品运输车辆限制通行的区域的；（八）驾驶机动车不按交通信号灯指示通行的；（九）机动车驾驶证被暂扣或者扣留期间驾驶机动车的；（十）造成致人轻微伤或者财产损失的交通事故后逃逸，尚不构成犯罪的；（十一）驾驶机动车在高速公路或者城市快速路上违法占用应急车道行驶的。

45、雾天行车，不能使用什么？

A、喇叭

B、近光灯

C、远光灯

D、危险报警闪光灯

正确答案：C

分析：雾天行车不能使用远光灯。因为汽车远光灯的灯光是照向前上方的，射出的光线被雾气反射后，会在车前形成白茫茫一片，这不但不能起到照明作用还会严重阻挡驾驶人视线、视野，当后面车辆使用远光灯时也会严重影响前车驾驶人观察后方情况，因此雾天行车，不能使用远光灯。

46、驾驶机动车闯红灯一次扣6分。

A、正确

B、错误

正确答案：A

分析：新交规中规定：驾驶机动车违反道路交通信号灯通行的，一次记6分。

47、驾驶图中这辆机动车能否进入高速公路行驶？



- A、在高速公路收费人员许可的前提下通过收费口进入
- B、在持该车型驾驶证3年以上的驾驶人陪同下允许进入
- C、有取得该车型驾驶证驾驶人随车指导可以进入
- D、取得准驾该车型驾驶证的驾驶人可以独立驾驶进入

正确答案：B

分析：实习期上高速公路，要有取得持该车型驾驶证3年以上驾驶人陪同允许进入。

48、发生交通事故时，下列哪种情况下当事人应当保护现场并立即报警？

- A、未造成人员伤亡的
- B、未发生财产损失事故
- C、未损害公共设施及建筑物的
- D、驾驶人有酒后驾驶嫌疑的

正确答案：D

分析：酒后驾驶属违法行为，应及时报警。

49、这个开关控制机动车哪个部位？



A、风窗玻璃除雾器

B、风窗玻璃刮水器

C、危险报警闪光灯

D、照明灯，信号灯

正确答案：B

分析：这个控制风窗玻璃刮水器的，木问题。风窗玻璃除雾器和危险报警闪光灯都是按钮形式的，照明、信号装置在你的左手边。

50、遇到这种情况下可以从右侧超车。



A、正确

B、错误

正确答案：B

分析：超车只能从左侧超车。

以上内容仅为本文档的试下载部分，为可阅读页数的一半内容。如要下载或阅读全文，请访问：<https://d.book118.com/815310314001012004>