


第三单元测试卷 (1)

(时间:60 分钟 分数:_____)

一、填一填。(14 分)

- 用竖式计算加减法时,相同()对齐,从()位算起。
- 比 325 多 400 的数是();比 754 少 263 的数是()。
- 最大的三位数与最小的三位数的和是(),差是()。
- 用()加减数等于被减数和被减数减()等于减数的方法来验算减法。
- 在括号里填上合适的数。
 $() + 136 = 270$ $() - 342 = 283$ $571 - () = 318$
- 用 3、2、7 三个数字能组成()个不同的三位数,其中最大的三位数与最小的三位数的和是(),差约是()。

二、估一估,连一连。(9 分)



三、算一算。(15 分)

$62-39=$	$420-170=$	$68-20=$	$624-400=$	$72-39=$
$1500-600=$	$480+165=$	$730-420=$	$80-47=$	$56-23=$
$39+18=$	$48+34=$	$273+302=$	$698-212=$	$853-422=$

四、算一算,填一填。(12 分)

加数	324		142
加数	138	89	
和		329	651

被减数	857	319	
减数	434		236
差		125	173

五、用竖式计算,带※的要验算。(20分)

$337+519=$ $840-270=$ $317+246=$ $\text{※}826-463=$

$807-325=$ $700-510=$ $546+145=$ $\text{※}776+119=$

六、解决问题。(30分)

1.(6分)



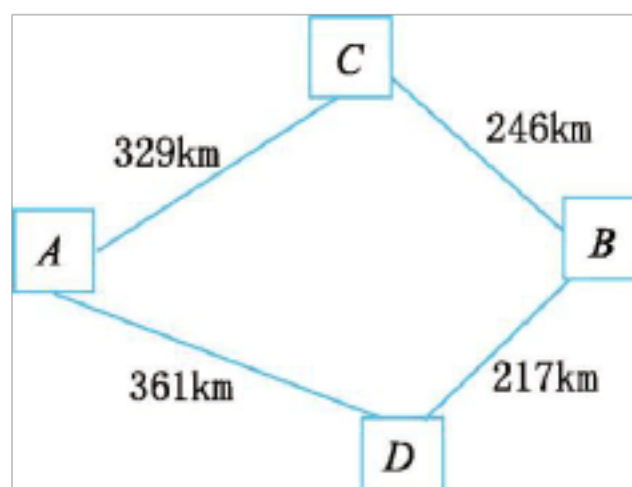
90元 115元

拿200元钱，能买到这两样物品吗？

The image shows a backpack on the left and a blue polo shirt in the middle. To the right is a cartoon girl with a speech bubble containing the text '拿200元钱，能买到这两样物品吗？'. Below the backpack is the price '90元' and below the shirt is '115元'.

2.草地上有长颈鹿 422 只,梅花鹿 278 只,跑了 142 只长颈鹿后,还剩多少只长颈鹿?(6分)

3.救援队要把救援车从A地开到B地,请你帮助救援队设计一下,走哪条路比较近。(6分)



4.天天鲜水果店上周水果销售数量如下表:(12分)

名称	苹果	香蕉	橘子	西瓜
数量(千克)	252	350	278	426

(1)卖出的苹果和香蕉一共有多少千克?

(2)卖出的橘子和西瓜大约有多少千克?

(3)你还能提出什么数学问题?试着解答出来。

参考答案

一、1. 数位 个 2. 725 491 3. 1099 899 4. 差

差 5. 134 625 253 6. 6 969 500

二、略

三、23 250 48 224 33 900 645 310 33 33

57 82 575 486 431

四、462 240 509 423 194 409

五、856 570 563 363(验算略) 482 190

691 895(验算略)

六、1. $90+115=205$ (元) $200<205$ 不能

2. $422-142=280$ (只)

3. $329+246=575$ (km) $361+217=578$ (km)

$575<578$ 走经过 C 地的那条路比较近。

4.(1) $252+350=602$ (千克)

(2) $278+426\approx 700$ (千克)

(3) 答案不唯一,如:西瓜比香蕉多卖多少千克? $426-350=76$ (千克)

第三单元测试卷(2)

时间:60分钟 满分:100分 分数:_____

一、填空。(38分)

1. 75个十减去61个十是()个十,是()。

2. 估一估,下面各数分别接近几百。

508() 690() 598()

210() 305() 699()

3. 验算 $756-427=329$ 时,可以用()加(),看是否等于();或用()减(),看是否等于()。

4. 在 \bigcirc 里填上“>”“<”或“=”。

$800-600$ \bigcirc $500-300$ $320+110$ \bigcirc $600-330$

$290+200$ \bigcirc $140+135$ $145+330$ \bigcirc $450+110$

5. 工人叔叔修一条长98米的路,已经修了45米,还剩下()米没修。

二、选择。(把正确答案的选项填在括号里)(10分)

1. 得数比500大的算式是()。

A. $820-640$ B. $492+132$ C. $278+202$

2. 在减法算式中,被减数等于()。

A. 减数 B. 差 C. 差+减数

3. 笔算加法和减法时都要把()。

A. 数位对齐 B. 相同数位对齐 C. 怎样写都可以

4. $508+235$ 的和()。

- A. 小于 700 B. 等于 700 C. 大于 700

5. 一只空杯子重 150 克,倒满橙汁后重 370 克,倒入的橙汁重()。

- A. 370 克 B. 200 克 C. 220 克

三、计算。(26 分)

1. 直接写出得数。(4 分)

$74+25=$ $132+58=$ $500+40=$ $21+18=$
 $59+512=$ $86-34=$ $600-400=$ $160-133=$

2. 估一估,连一连。(14 分)

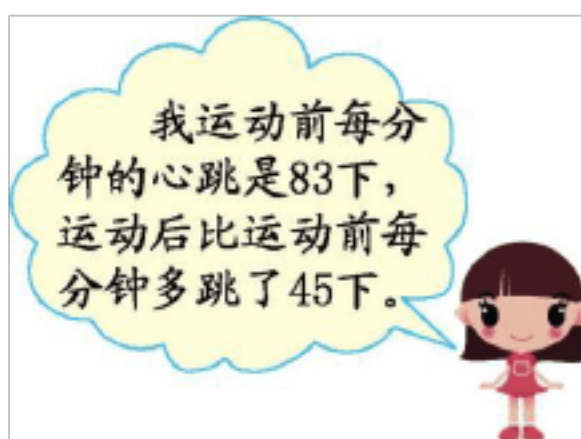
400~500 750~820

$636-201$ $833-432$ $672+124$ $500-30$
 $137+622$ $330+149$ $988-206$

3. 先用竖式计算,再验算。(8 分)

$294+320=$ 验算: $459-186=$ 验算:

四、解决问题。(26 分)



1. 小红运动后每分钟的心跳是多少下?(5 分)

2. 水果店原有多少千克苹果?(5 分)



3. 购物。(16 分)



(1) 妈妈买一台电风扇和一辆自行车需要花多少元钱?(5 分)

(2) 李阿姨带了 500 元钱, 想买一个电饭煲和一台电风扇, 钱够吗?(6 分)

(3)买一辆自行车比买一个电饭煲多花多少元钱?(5分)

参考答案

一、1. 14 140

2. 500 700 600 200 300 700

3. 427 329 756 756 329 427

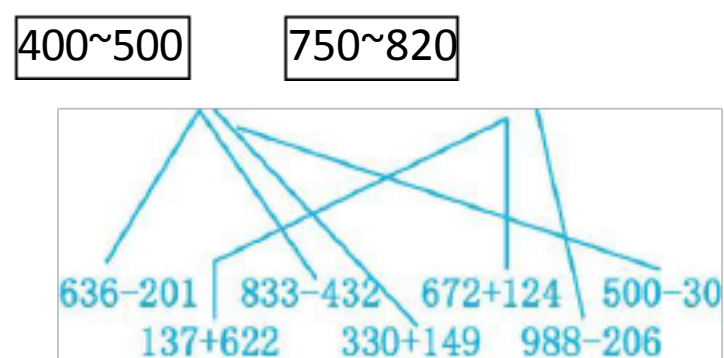
4. = > > <

5. 53

二、1. B 2. C 3. B 4. C 5. C

三、1. 99 190 540 39 571 52 200 27

2. 连线如下:



3. $294+320=614$

$459-186=273$

竖式略

四、1. $83+45=128$ (下)

答:小红运动后每分钟的心跳是 128 下。

2. $276+318=594$ (千克)

答:水果店原有 594 千克苹果。

3. (1) $180+445=625$ (元)

答:妈妈买一台电风扇和一辆自行车需要花 625 元钱。

(2) $180+152=332$ (元) $332 \text{ 元} < 500 \text{ 元}$

答:钱够。

=

(3) $445-152=293$ (元)

答:买一辆自行车比买一个电饭煲多花 293 元。

3.1 两位数加、减两位数的口算

1. 计算。

$41+33=$ $32+24=$ $58+11=$

$65-34=$ $72-51=$ $89-63=$

2. 连一连。

$46+53$ $38-17$ $52+16$

60 68 15 99 21 24

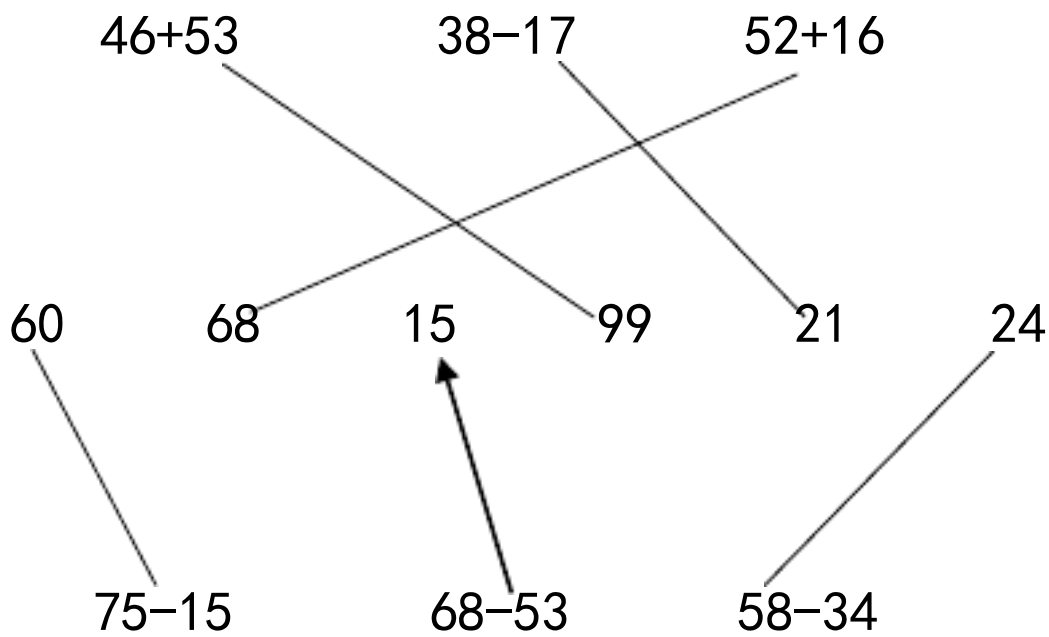
$75-15$ $68-53$ $58-34$

- 小玲和子辰跳绳，小玲跳了 35 下，子辰比小玲多跳了 13 下，子辰跳了多少下？
- 从北岸游来 33 只鹅，从南岸游来 27 只鸭子，鹅和鸭子一共有多少只？鹅比鸭子多多少只？
- 一个玩具火车 26 元，一个玩具飞机 32 元，爸爸有 50 元，买这两个玩具还差多少元？

答案提示

1. 74 56 69 31 21 26

2.



3. $35+13=48$ (下) 答：子辰跳了 48 下。

4. $33+27=60$ (只) $33-27=6$ (只)

答：鹅和鸭子一共有 60 只，鹅比鸭子多 6 只。

5. $26+32=58$ (元) $58-50=8$ (元) 答：买这两个玩具还差 8 元。

3.2 几百几十数加减几百几十数的笔算

6. 用竖式计算。

$270+510=$ $590-170=$ $370-140=$ $460+110=$

7. 在圆圈里填上“>”“<”或“=”。

$260+160$ ○ 360

$320+270$ ○ 600

$340-130$ ○ 530

$560+130$ ○ $570+120$

$630-120$ ○ $730-120$

$480+210$ ○ $560+130$

以上内容仅为本文档的试下载部分，为可阅读页数的一半内容。如要下载或阅读全文，请访问：<https://d.book118.com/835241330124011113>