

七年级上册地理期末模拟试卷及答案人教版

一、选择题(50分)

1. (2016·期末·天津天津市红桥区) 雾霾, 是雾和霾的组合词, 下列天气符号中, 表示雾的是 ()

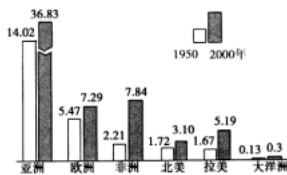
- A.  B.  C.  D. 

2. (2019·专项) 下列亚洲国家中, 人口没有超过 1 亿的是

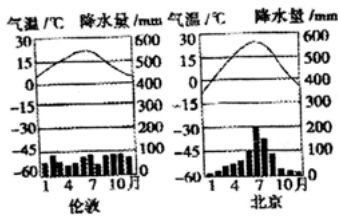
- A. 中国 B. 朝鲜 C. 印度 D. 日本

3. (2018·期中·广东深圳市宝安区) 下图为 1950 年—2000 年

世界各大洲或地区人口数量的增长图, 以下说法正确的是_____



- A. 人口增长速度最快的是亚洲
 B. 人口增长速度最慢的是欧洲
 C. 大洋洲的人口已经停止增长
 D. 经济发达地区人口增长速度快于经济欠发达地区
4. (2016·期末·天津天津市红桥区) 读伦敦、北京两地气候数据图, 对两地气候描述正确的是 ()




- A. 两地气温年较差较大的是伦敦
 B. 北京夏季降水多
 C. 两地降水都集中在夏季
 D. 伦敦全年少雨
5. (2020·模拟·北京北京市房山区) 地球仪是我们学习地理的重要工具。铠铠借助不同的地球仪学习时_____



- A. 在“普通地球仪”上可以观察到海陆分布状况
 B. 利用“经纬网格地球仪”可以演示地球上存在昼夜之分
 C. 在“磁悬浮地球仪”上可以找到地轴

D. 三个地球仪都能准确地反映地球真实形状和大小

6. (2019·学业·天津天津市和平区) 在去水上公园的路上, 同学拍下了远处的烟囱, 从照片可知当日的天气_____



- A.  B.  C.  D. 

7. (2018·期末·广东深圳市福田区) 海尔洗衣机品牌全球销量第一, 张裕葡萄酒是融合中、美、意、葡多国资本与技术共同打造的, 日本地震使美国汽车商面临零件短缺之苦, 这些实例说明 ()

- A. 国际合作与经济全球化
B. 国际商业竞争越来越激烈
C. 国家之间和平共处
D. 国家之间的经济发展独成一体

8. (2019·期中·天津天津市) 下列天津著名建筑中与基督教文化相关的是

- A.  B.  C.  D. 



9. (2017·期中·天津天津市红桥区) 由于地球自转造成的自然现象是 ()

- A. 天气变化现象
B. 季节变化现象
C. 昼夜长短的变化现象
D. 昼夜更替现象

10. (2017·期中·天津天津市红桥区) 20世纪80年代至今, 日本在美国投资已达1万亿美元, 雇佣了近7万美国人, 涉及到钢铁、汽车、电力及电子等工业部门. 对日本采取这种发展方式原因的描述, 不正确的是 ()


- A. 日本国内资源贫乏
B. 日本土地供应紧张, 国内需求减少
C. 日本人口老龄化严重, 劳动力短缺
D. 美国劳动力资源丰富, 价格低廉

11. (2020·单元测试·广东广州市) 以乌拉尔山-乌拉尔河-里海-大高加索山-黑海-土耳其海峡为界划分的两洲是 ()

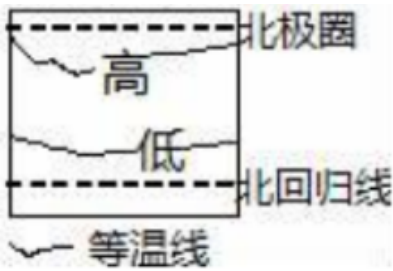
- A. 亚洲、欧洲
B. 南美洲、北美洲
C. 亚洲、非洲
D. 亚洲、北美洲

12. (2019·模拟·云南昆明市) 2018年5月18

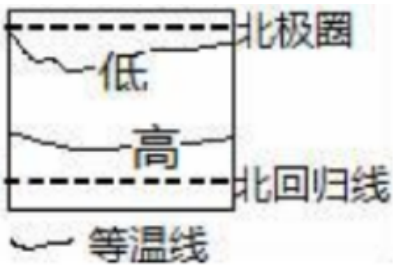
日, 强沙尘暴袭击新疆南部的阿拉尔市, 给当地生产生活带来严重影响. 下列天气符号中, 表示沙尘暴的是

- A.  B.  C.  D. 

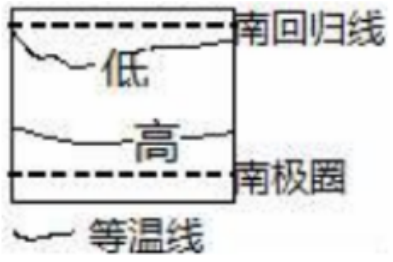
13. (2020·同步练习) 人口自然增长率在世界各大洲中居首位的大洲是 ()
 A. 亚洲 B. 欧洲 C. 北美洲 D. 非洲
14. (2018·模拟·云南昆明市盘龙区) 下列关于世界气温分布图示正确的是



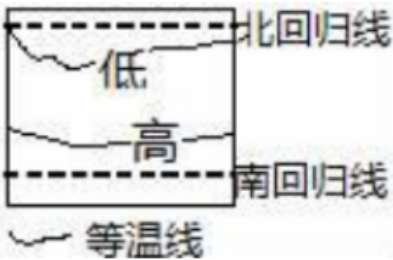
A.



B.




C.

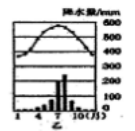


D.


15. (2018·模拟·云南昆明市西山区) 聚落的形成深受自然环境和人文环境的影响, 在发展过程中形成了不同的建筑风格。中东地区“厚墙加小窗”的特色民居主要分布在下列哪一种气候区内




A.



B.

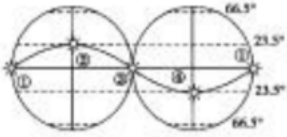


C.




D.

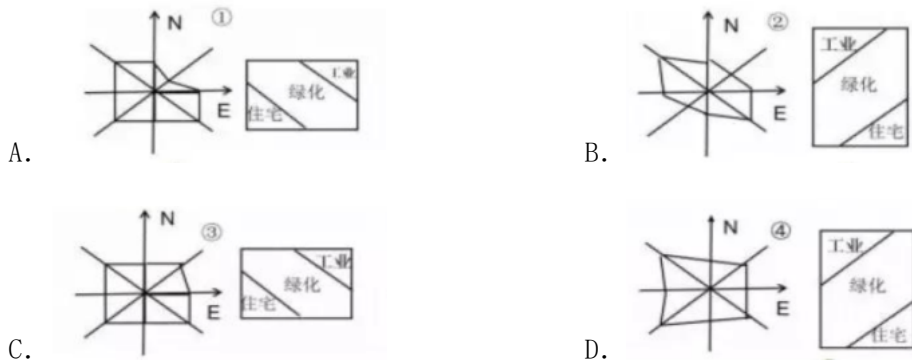
16. (2019·单元测试·天津天津市南开区) 中国共产党第十九次全国代表大会于 2017 年 10 月 18 日至 10 月 24 日在北京召开。读太阳直射点在南北回归线之间往返路径示意图, 完成本题。党的十九召开期间, 太阳直射点运行至_____




- A. ①~②之间 B. ②~③之间 C. ③~④之间
D. ④~①之间
17. (2019·模拟·云南昆明市) 如图为某气候类型分布示意图及该气候区某地的典型传统建筑。据图推断阴影区域最可能是_____



- A. 热带季风气候 B. 热带雨林气候 C. 热带沙漠气候
D. 热带草原气候
18. (2019·模拟·云南昆明市) 下列有关世界人口、语言与宗教的叙述, 正确的是
- A. 青藏地区的人口分布较为稀疏 B. 美洲的印第安人属于白色人种
C. 阿拉伯语是印度的通用语言 D. 基督教主要分布在西亚地区
19. (2019·真题) 以下地区风向频率和城市分布合理的是

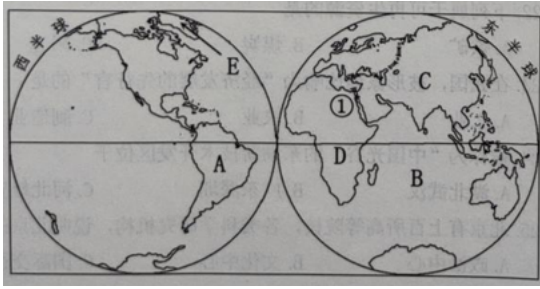


20. (2018·期末·广东深圳市罗湖区) 下面四幅景观图片中, 属于城市聚落的是 ()



二、复合题 (48分)

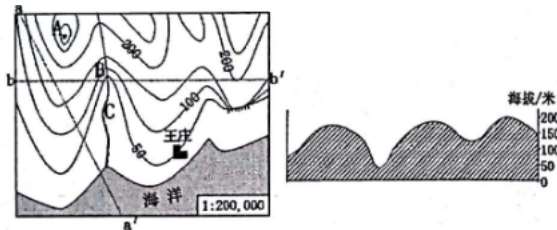
21. (2020·真题·黑龙江绥化市) 读大洲和大洋的分布图, 回答下列问题。



- (1) 世界海陆分布很不均匀，根据计算，陆地仅占地球表面____（填 29% 或 71%）
- (2) 北美洲和 A____
洲主要分布在西半球。
- (3) 全部位于东半球的大洋 B 是_
洋。
- (4) C 大洲与 D 大洲的分界线①是____运河。
- (5) 世界上面积最大的岛屿 E 是_
岛。

22. （2017·期末·天津天津市和平区）

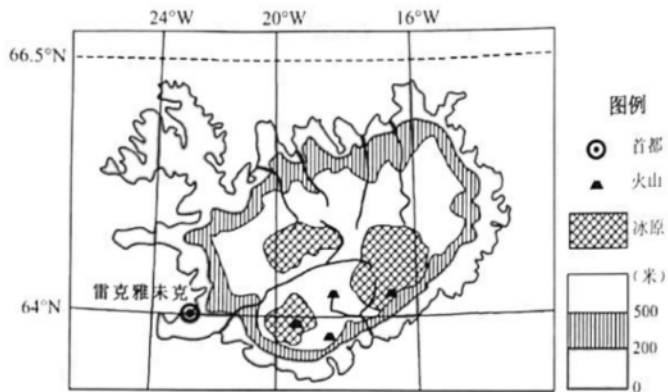
如图为某区域等高线地形图，和某同学绘制的地形剖面图。读图完成下列各题。



- (1) 地形部位名称：A 是____，B 是____。图中王庄的海拔为____米。
- (2) A 地位于王庄的____方向；若两地图上直线距离为 4 厘米，则实地水平距离为____千米。
- (3) 剖面图是沿左图中 bb' 剖面线绘制而成的，可以看出沿线地势____
（起伏较大/平坦）。
- (4) B、C 两处河段，流速较快的是____，判断理由是____。

23. （2020·真题·广东广州市）阅读图文材料，完成下列问题。

冰岛境内冰川和火山大范围并存，温泉广布，85%的人口利用地热取暖，被称为“冰与火之国”。如图是冰岛地形示意图。



- (1) 冰岛地处五带中的____带；____（经线）穿过，地跨东西半球。
- (2) 冰岛因____高，气温低，____广布。
- (3) 冰岛位于板块张裂地带，多火山、温泉，____（能源）丰富。
- (4) 冰岛是欧洲人口密度最小的国家之一，分析其原因。____。
- (5) 与热带海岛相比，分析冰岛旅游的特色。

答案

一、选择题

1. 【答案】C

【解析】【分析】在天气预报图上，我们可以看到一些符号，这些符号都是用来表示天气状况的，他们都有特定的含义。我们只有认识各种天气符号，才能看懂天气预报，才能为我们的生活和生产服务。

【解析】解：读图可知：A表示的天气是雨夹雪，B表示的天气是多云，C表示的天气是雾，D表示的天气是霾。

故选：C。

【点评】本题主要考查常用的天气预报符号的解读，牢记即可。

【知识点】常用的天气符号

2. 【答案】B

【知识点】世界人口的分布特点、亚洲的位置与范围

3. 【答案】A

【解析】由图可知，人口增长速度最快的是非洲；人口增长速度最慢的是欧洲；大洋洲的人口仍然还在增长；经济发达地区人口增长速度慢于经济欠发达地区，故选 A。

【知识点】人口统计图表的判读

4. 【答案】B

【解析】【分析】在气温和降水量变化示意图中，横坐标轴表示月份，纵坐标轴左侧表示气温，右侧表示降水量，气温年变化用平滑的曲线表示，降水年变化用长方形柱状表示。观察气温曲线图，可以知道气温最高月和气温最低月，气温最高值和气温最低值，观察降水柱状图，可以知道降水集中的月份和各月降水量。

【解析】解：气温年较差是一年中最高月平均气温减去一年中最冷月平均气温，读图可得，两地气温年较差较大的是北京，故A错误；

图中所示北京夏季降水较多，故B正确；

伦敦终年湿润，故CD错误；

故选：B。

【点评】本题考查气候资料图的判读，读图解答即可。

【知识点】降水量及其柱状图的判读、绘制、气温变化曲线图的判读和绘制

5. 【答案】A

【解析】在“普通地球仪”上，能用不同的颜色来观察到海陆分布状况，故 A 正确；“经纬网格地球仪”只标有经度和纬度，是透明的，不能演示地球上存在昼夜之分，故 B 错；在“磁悬浮地球仪”上不能够找到地轴，故 C 错；三个地球仪都不能准确地反映地球的真实形状和大小，故 D 错；所以该题的答案选 A。

【知识点】地球表面海陆分布概况、地球的模式-地球仪

6. 【答案】B

【知识点】常用的天气符号

7. 【答案】A

【解析】【分析】随着知识经济和信息时代的来临，国家与国家之间各成体系、相对封闭的经济格局已被打破。资源、技术、人才、信息等逐渐成为全球共享的财富，各国各地区的经济联系越来越紧密，产品生产的分工协作越来越显著。大量跨国公司和全球性的经济贸易组织的出现，使各国的经济更加相互依赖，相互融合，并朝着经济全球化的方向发展。

【解析】解：根据题意正是说明了资源、技术、人才、信息等逐渐成为全球共享的财富，各国间的经济联系越来越紧密，产品生产的分工协作越来越显著。

使各国的经济呈现更加相互依赖，相互融合，并朝着经济全球化的方向发展。

故选：A。

【点评】此题考查的属于基础性的知识，对于此类型的题目就要多结合教材熟练记忆。

【知识点】国际经济合作的原因

8. **【答案】**A

【解析】基督教的宗教建筑是教堂，伊斯兰教的宗教建筑是清真寺，佛教的宗教建筑是寺庙，由图可知，图中 A 是天津望海楼教堂，属于与基督教文化相关的建筑，故选 A。

【知识点】三大宗教的建筑景观

9. **【答案】**D

【解析】【分析】地球绕着地轴不停地旋转叫地球自转，地球自转的方向为自西向东，地球自转产生的地理现象是昼夜交替和时间差异。

【解析】解：天气变化与地球自转关系不大，季节变化现象、昼夜长短的变化现象都是地球公转造成的自然现象，而昼夜更替现象是地球自转造成的自然现象。

故选：D。

【点评】本题主要考查地球自转产生的现象。日月星辰东升西落也是地球自转产生的现象。

【知识点】昼夜长短的变化规律

10. **【答案】**D

【解析】【分析】美国是世界上的农业大国，是世界上主要的农产品生产国和出口国，并且实现了农业生产专门化，机械化水平高，效率高，产量大。美国工农业生产总值居世界首位，是世界上第一经济强国。

【解析】解：日本的工业多面向国际市场，很多工业分布在美国等国家，主要原因是日本国内资源缺乏、土地面积狭小，国内市场小，且日本的人口老龄化严重，劳动力缺乏，美国是世界上最发达的国家，劳动力资源比较丰富，但价格比较高。

故选：D。

【点评】本题考查日本和美国的经济，理解解答即可。

【知识点】国家和地区的差异及其关系

11. **【答案】**A

【解析】【分析】大洲之间往往以山脉、河流、湖泊、运河、海峡等地理事物为分界线。亚洲与欧洲分界线是乌拉尔山脉、乌拉尔河、里海、大高加索山脉、黑海、土耳其海峡。

【解析】解：亚洲与欧洲分界线是乌拉尔山脉、乌拉尔河、里海、大高加索山脉、黑海、土耳其海峡。

故选：A。

【点评】本题考查知识点简单，牢记即可。

【知识点】大洲分界线

12. 【答案】D

【知识点】常用的天气符号

13. 【答案】D
【解析】【分析】人口自然增长率与经济发展水平有密切关系。一般来说，经济发展水平高的国家和地区，人口的自然增长较慢；经济发展水平低的国家和地区，人口的自然增长率较高。
【解析】解：非洲、亚洲和拉丁美洲人口的自然增长较快。其中，非洲是世界上人口自然增长率最高的大洲。
故选：D。
【点评】本题考查了世界人口增长的知识点。这是一道基础性题目。
【知识点】人口问题
14. 【答案】B
【解析】世界气温的分布规律是：从低纬度向高纬度逐渐降低，在北半球气温从南往北逐渐降低；南半球正好相反。读图可知，ACD 所示气温分布规律错误，故 B 符合题意。
【知识点】世界年平均气温的分布规律
15. 【答案】D
【知识点】气候统计图的判读方法
16. 【答案】C
【知识点】太阳直射点的移动规律
17. 【答案】B
【知识点】世界气候类型的分布
18. 【答案】A
【知识点】世界的主要语言及其分布、世界三大宗教及其特点、世界的人种及其分布
19. 【答案】A
【知识点】风向和风级的判读
20. 【答案】B
【解析】【分析】人们集中地居住在一起，就形成了聚落。从规模上看，聚落有大有小，大到人口上千万的巨型都市，小到只有几十个人的村庄。聚落的主要形式包括城市和乡村，它们具有不同的景观特色。
【解析】解：城市是人口达到一定规模，主要从事非农业生产活动的居民聚居地。城市和乡村景观有明显的差别，城市自然景观变化快，道路纵横，网线密集，人口密度大，商店学校较多，读图可得，B图所示的是城市聚落，其楼房林立，交通线密集。
故选：B。
【点评】本题考查城市与乡村聚落，读图理解解答即可
【知识点】乡村聚落与城市聚落的区别

二、复合题

21. 【答案】
(1) 29%；
(2) 南美；
(3) 印度；
(4) 苏伊士；
(5) 格陵兰；
【知识点】大洲分界线、东西半球和南北半球的划分、世界之最、地球表面海陆分布概况、大洲大洋名称、位置、轮廓
22. 【答案】

- (1) 山峰；山谷；50；
- (2) 西北；8；
- (3) 起伏较大；
- (4) B；B 处坡度较 C 处陡，水流急；

【知识点】山体地形部位的判读、地形剖面图的读取和应用、坡度大小的判断、一般定向法、海拔和相对高度及其计算

23. 【答案】

- (1) 北温；北极圈；
- (2) 纬度；冰川；
- (3) 地热；
- (4) 气候寒冷
- (5)

位于（美洲板块和亚欧板块）生长边界，火山地貌广布，温泉众多；纬度高，气温低，且降水量大，冰川地貌广布。

【解析】

(1)

冰岛共和国，简称冰岛，是北大西洋中的一个岛国；读“冰岛地形示意图”可知，冰岛的经纬度范围约为： $14^{\circ} W-26^{\circ} W$ 、 $64^{\circ} N-$

$66^{\circ} 34'$ 。可判定，其跨东西半球、地处北温带，北极圈穿过领土北部。

(2) 冰岛纬度较高，海拔较高，气温低，冰川广布，所以冰岛被称为“冰火之国”。

(3) 冰岛位于板块张裂地带，多火山、温泉，地热丰富。

(4)

冰岛因纬度较高，气候寒冷，人口密度小，城市集中分布在岛屿边缘的沿海地带。

(5)

由于冰岛纬度高，降水丰富，冰川地貌广布；另一方面主要由于位于（美洲板块和亚欧板块）生长边界，火山地貌广布，温泉众多。

【知识点】影响人口分布的主要因素、影响气温的因素、板块运动及产生的现象、特殊的纬线、地图上的图例、五带的划分及特点、地方文化特色对旅游业的影响

一、选择题(60分)

24. (2019·学业·天津天津市东丽区) 下列选项中可以说明地球的形状为球体的是 ()

①月食②卫星照片③欲穷千里目，更上一层楼

④流星现象⑤昼夜更替⑥环太平洋地带多火山地震

A. ③④⑤

B. ②③⑥

C. ①②⑥

D. ①②③

25. (2017·期末·上海上海市) 描述气候特征的基本要素是

A. 降水和温度

B. 气温和降水

C. 气压和气温

D. 湿度和气压

26. (2020·真题·上海上海市) 连接地中海和大西洋的海峡是

A. 土耳其海峡

B. 直布罗陀海峡

C. 马六甲海峡

D. 英吉利海峡

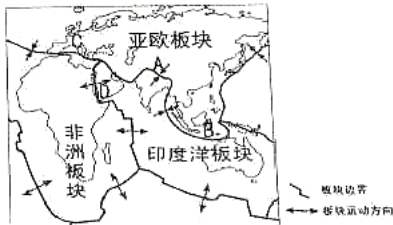
27. (2020·真题·黑龙江双鸭山市) 某一地点位于东半球、北半球、中纬度，则该地是

- A. 20°N 120°E
- B. 40°N 165°E
- C. 30°N 90°E
- D. 50°N 15°W

28. (2019·学业·天津天津市和平区) 老师组织学生使用手机的电子地图去水上公园实践。电子地图的好处是

- A. 可以改变比例尺大小
- B. 可以改变图幅大小
- C. 不需要图例和注记
- D. 无需确定方向

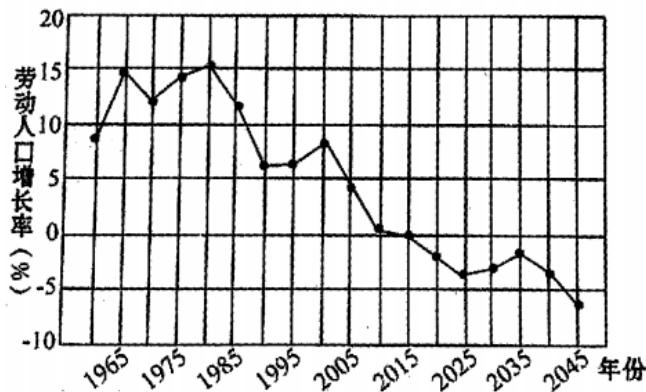
29. (2019·期中·云南昆明市官渡区) 如图关于板块运动, 说法正确的是_____



- A. A 高原的形成是亚欧板块与非洲板块的挤压
- B. B 处多火山地震的原因是位于板块交界地带
- C. C 山脉的形成是亚欧板块与非洲板块的张裂
- D. D 海域缩小是非洲板块与印度洋板块的挤压

30. (2019·模拟·云南昆明市) 读“我国 1960—2045

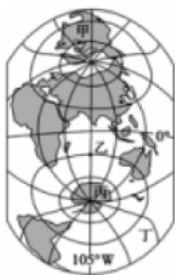
年劳动人口增长率变化图(含预测)”, 根据目前劳动人口增长率的变化趋势, 下列说法正确的是_____



- A. 目前我国人口基数比较大, 未来不会出现劳动力短缺的问题
- B. 2045 年我国可以从国外引进大量的劳动力
- C. 我国可以鼓励劳动人口到国外就业, 缓解国内就业压力
- D. 当前我国应继续实施“二孩政策”

31. (2019·模拟·云南昆明市) 竖版世界地图是由中科院武汉测量与地球物理研究所的

研究员赫晓光绘制的, 于 2013 年 9 月以地势图的形式出版了第一张竖版地图(即南半球版)。这幅在寻常人眼中极其“另类”的地图, 在航空航天、科学考察、军事等领域却有着至关重要的作用。读“竖版世界地图”, 判断下列说法正确的是_____



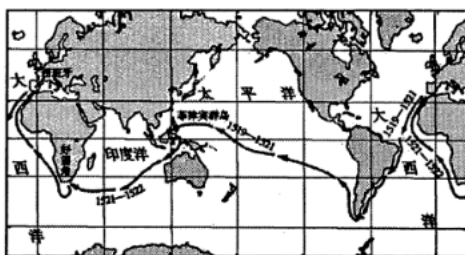
- A. 甲位于亚洲 B. 乙位于大西洋 C. 丙位于南美洲
D. 丁位于太平洋
32. (2018·模拟·云南昆明市五华区) 成语“南辕北辙”，指要到南方去，却驾着车往北走，比喻行动和目的相反，最后不能到达目的地。如果“东辕西辙”理论上可以到达目的地，解释其原因正确的是_____
- ①经线等长，纬线不等长
②经线指示南北方向，纬线指示东西方向
③经线是圆，纬线是半圆
④经线是半圆，纬线是圆
- A. ②③ B. ①④ C. ②④ D. ①③
33. (2020·真题·广西贵港市) 2019年4月25日至27日，中国在北京主办第二届“一带一路”国际高峰论坛。在论坛筹备进程中和举办期间，与会各方达成了283项务实成果，签署了总额640多亿美元的项目合作协议。这个实例体现的意义是
- A. 不利于各国经济的独立发展 B. 国家之间的和平共处
C. 国家之间经济发展极不平衡 D. 国际合作和经济全球化
34. (2020·真题·贵州铜仁市) 气候的两大基本要素是
- A. 湿度、风力 B. 气温、降水 C. 气压、风力
D. 风力、降水
35. (2019·单元测试·天津天津市南开区) 如图为“地球仪上的经纬网图”，图中既位于北半球又位于东半球的点是_____



- A. 甲 B. 乙 C. 丙 D. 丁
36. (2019·单元测试·天津天津市南开区) 下列有关地球自转方向的图示，正确的是

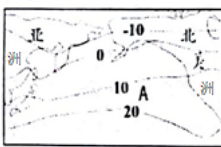


37. (2018·模拟·云南昆明市西山区) 1519年9月麦哲伦率领船队从西班牙出发开始环球航行，于1522年9月回到欧洲，首次完成了人类环球航行的壮举。图为麦哲伦环球航行线路图。麦哲伦



船队的这次航行证明了_____

- A. 天圆地方
B. 天如斗笠，地如棋盘
C. 陆地是中心，大海是陆地的边缘
D. 地球是个球体
38. (2017·期末·天津天津市红桥区) 关于此区域年平均气温分布图，所述正确的是 ()



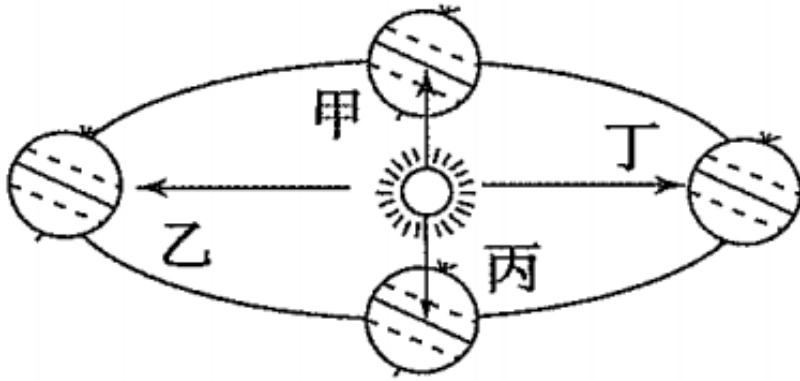
- A. 图示地区气温分布的总趋势是由南向北逐渐增高
B. 图示地区气温分布的总趋势是由南向北先增后减
C. 纬度位置是影响此区域气温分布总趋势的主要因素
D. 图中A所在的大洋是印度洋
39. (2019·模拟·云南昆明市) 读“昆明市3月28日~4月1日的天气预报图”，判断下列说法正确的是_____



- A. 昆明市3月28日的天气状况是多云
B. 昆明市3月29日的温差是18°C
C. 周六天气晴朗，适合去昆明动物园(圆通山)春游
D. 3月31日和4月1日有中到大雨，外出需带雨伞
40. (2019·单元测试·天津天津市南开区) 图中这种现象产生的原因是_____



- A. 地球公转 B. 地球自转 C. 五带划分 D. 季节变化
41. (2019·专项) 下列经纬线中，通过英国伦敦格林尼治天文台旧址的是
A. 0° 纬线 B. 116° 经线 C. 0° 经线 D. 20° 经线
42. (2019·专项) 天津市某中学生小明到黑龙江漠河去旅游，他观察到：这一天太阳挂在空中的时间很短，只有不足 7 个小时，这一天最有可能是图中的_____



- A. 甲 B. 乙 C. 丙 D. 丁
43. (2020·单元测试) 1999 年夏季，我国首次派遣一艘科学考察船对北冰洋进行考察。下列叙述正确的是
A. 考察船经马六甲海峡进入北冰洋
B. 考察船经亚洲、非洲分界线的苏伊士运河进入北冰洋
C. 考察船经太平洋、白令海峡进入北冰洋
D. 考察船经太平洋、巴拿马运河、大西洋进入北冰洋

二、复合题 (40分)

44. (2016·期末·天津天津市和平区)

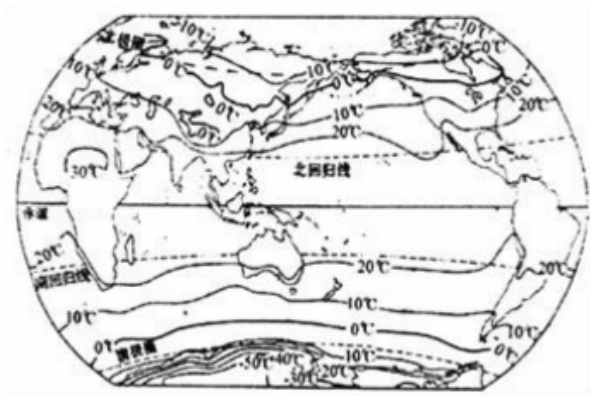
世界不同地区在各个方面存在着明显的差异，读“世界灯光分布影像图”，回答下列两小题。



- (1) 从图中分析，灯光亮度大的地区主要分布在
A. 中纬度 B. 高纬度 C. 南半球
D. 内陆地区
- (2) 灯光亮度的差异可直接反映的地区差异是

- A. 城市发展水平 B. 医疗水平 C. 教育水平
- D. 国防水平

45. (2016·期末·天津天津市红桥区) 读世界年平均气温分布图, 回答下列问题。



- (1) 图中年平均气温高于 20°C 的地区与五带中____带的范围大体一致, 年平均气温低于 - 10°C 的地区与五带中____带的范围大体一致。
- (2) 世界年平均气温分布大致由低纬向高纬_____。
- (3) 气温随海拔升高而____, 通常每升高 100 米, 气温变化约°C。
- (4) 图中南半球等温线比北半球平直, 原因是南半球
 - A. 地势低平 B. 平原面积广阔
 - C. 海洋广阔
 - D. 受太阳光热均匀

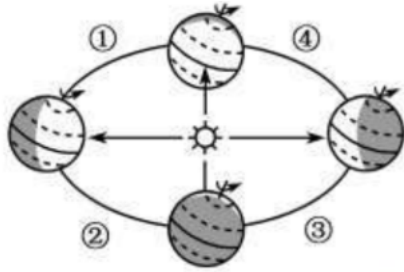
46. (2016·期末·天津天津市和平区)

地图是学习地理的重要工具, 学会正确选择和使用地图, 可以方便我们的生活。仔细阅读下面的材料, 回答更好列两小题。

- ①小强的爸爸去云南旅游, 小强查阅了“中国政区图”想知道云南在哪里
- ②玲玲想了解北京故宫在什么位置, 她查阅了“北京城区图”
- ③小伟要去美国探访朋友, 要了解美国的交通线, 他查阅了世界地形图
- ④兰兰去黄山旅游, 她参考了“黄山导游图”

- (1) 上面材料中的四位同学对地图选择不正确的是
 - A. 小强 B. 玲玲 C. 小伟
 - D. 兰兰
- (2) 上面四位同学查阅的地图, 如果图幅相同, 比例尺最小的是
 - A. 中国政区图 B. 北京城区图 C. 世界政区图
 - D. 黄山导游图

47. (2020·真题·山东德州市) 椰风拂碧海，神箭冲九霄。北京时间 2020 年 5 月 5 日 18 时，我国长征五号 B 运载火箭从文昌航天发射场点火升空，正式拉开我国载人航天工程“第三步”任务的序幕。读图完成下面的题。



- (1) 长征五号 B 运载火箭于北京时间（东八区）2020 年 5 月 5 日 18 时点火升空，此时开罗（东二区）是
- A. 5 月 5 日 8 时
B. 5 月 6 日零时
C. 5 月 5 日 12 时
D. 5 月 5 日零时
- (2) 长征五号 B 运载火箭发射时，下列地理现象描述正确的是
- A. 北半球昼长夜短，白昼渐短
B. 地球位于公转轨道的①段
C. 华北平原上正在收割小麦
D. 太阳直射点开始向南移动

答案

一、选择题

1. 【答案】D

【解析】【分析】地球是一个巨大的球体。今天，人们通过从宇宙空间发回的地球卫星照片，就能看清地球的真实形状。但是，在此之前，由于科学技术条件的限制，人们无法看到地球的全貌。对地球形状的认识，经历了漫长而艰难的探索过程。

【解析】解：能证明地球形状是球体的例子很多，如乘船出海时，港口的灯塔会从下到上依次从视野中消失，离岸的船总是船身先消失，桅杆后消失、站得高，才能看得远、世界不同地区，看北极星的仰角不同、月食时，阴影始终是弧形的、麦哲伦环球航行、人造卫星拍摄的地球照片，人越往山上爬，看到的地平圈就越大（或站在大地上，无论向那个方向走，永远也走不到地平线）等。

故选：D。

【点评】在学习中要注意积累。同时还要注意各自然现象的本质。

【知识点】认识地球形状的过程

2. 【答案】B

【知识点】气候的两大要素

3. 【答案】B

【解析】大洲之间往往以山脉、河流、湖泊、运河、海峡等地理事物为分界线，直布罗陀海峡是非洲和欧洲的分界线，沟通了地中海和大西洋，土耳其海峡黑海和地中海，马六甲海峡沟通太平洋和印度洋，英吉利海峡沟通北海和大西洋。故选 B。

【知识点】世界上重要的海峡

4. 【答案】D

【解析】东西半球分界线是 $20^{\circ}W$ 和 $160^{\circ}E$ 组成的经线圈， $20^{\circ}W$ 以东、 $160^{\circ}E$ 以西为东半球， $20^{\circ}W$ 以西、 $160^{\circ}E$ 以东为西半球。南北半球的划分是以 0° 纬线即赤道为界，赤道以北为北半球，以南为南半球。纬度划分， $0^{\circ} \sim 30^{\circ}$ 为低纬度地区， $30^{\circ} \sim 60^{\circ}$ 为中纬度地区， $60^{\circ} \sim 90^{\circ}$ 为高纬度地区。可判定，A 位于东半球、北半球、低纬度；B 位于西半球、北半球、中纬度；C 位于东半球、北半球、低中纬度分界线上；D 位于东半球、北半球、中纬度，D 正确。故选 D。

【知识点】东西半球和南北半球的划分、纬度的划分

5. 【答案】A

【知识点】地图的应用——选择合适的地图

6. 【答案】B

【解析】A. 青藏高原的形成是亚欧板块与印度洋板块的挤压，故 A 错误；B. 马来群岛多火山、地震的原因是位于板块交界地带，地壳不稳定，故 B 正确；C. 阿尔卑斯山脉的形成是亚欧板块与非洲板块的碰撞挤压形成的，故 C 错误；D. 红海位于印度洋板块与非洲板块之间，因为印度洋板块和非洲板块正不断发生张裂运动，因此红海的面积应不断扩大，形成新的大洋，故 D 错误；故选 B。

【知识点】板块运动及产生的现象

7. 【答案】D

【知识点】人口增长过快产生的问题及对策、人口统计图表的判读、人口增长过慢产生的问题及对策

8. 【答案】D

【知识点】大洲大洋名称、位置、轮廓

9. 【答案】C

【知识点】纬线的特点

10. 【答案】D

【解析】中国在论坛筹备进程中和举办期间，与会各方达成了 283 项务实成果，签署了总额 640

多亿美元的项目合作协议，使中国与世界各国的经济相互融合，并朝着经济全球化的方向发展，它有利于在世界范围内配置资源，有利于资本和产品的全球性流动，有利于各国经济与技术密切合作，有利于世界经济的发展；根据题意，结合选项。故选：D。

【知识点】国际合作的重要性

11. 【答案】B

【解析】气候的两大基本要素是气温和降水，气温的单位是 $^{\circ}\text{C}$ ，降水的单位是毫米。故选：B。

【知识点】气候的两大要素

12. 【答案】B

【知识点】东西半球和南北半球的划分

13. 【答案】A

【知识点】地球自转的特征

14. 【答案】D

【知识点】认识地球形状的过程

15. 【答案】C

【解析】【分析】世界气温分布规律有三条：①从纬度位置看：从低纬度向两极气温逐渐降低；②从海陆位置看：同纬度的海洋和陆地气温并不一样，夏季陆地气温高，冬季海洋气温高；③从海拔高度看：地势越高气温越低，海拔每升高100米气温下降 0.6°C 。

影响气候的因素主要有纬度因素、海陆因素、洋流、地形地势因素和人类活动等。

【解析】解：由于纬度因素影响，对于北半球来说，纬度越高，气温越低。图中的等温线分布来看从低纬度向高纬度逐渐降低，故选项C符合题意。

故选：C。

【点评】此题考查影响气候的因素，记忆回答即可。

【知识点】影响气候的主要因素

16. 【答案】C

【知识点】常用的天气符号、天气预报的主要内容

17. 【答案】B

【解析】地球自转是地球绕地轴自西向东转动的运动方式，其周期为一天。我们每天经历的昼夜更替，看到日月星辰的东升西落，时区的差异（东部的时刻早于西部），主要是由于地球自转运动所产生的地理现象。故造成图中美国和中国时差的原因是地球自转。

【知识点】正午太阳高度及其变化规律

18. 【答案】C

【知识点】特殊的经线

19. 【答案】D

【知识点】二分二至日

以上内容仅为本文档的试下载部分，为可阅读页数的一半内容。
。如要下载或阅读全文，请访问：<https://d.book118.com/837145164200006125>